


**IDENTIFIKASI KEMAMPUAN DASAR MAHASISWA DENGAN  
MENGUNAKAN TES DIAGNOSTIK PADA PROGRAM  
STUDI PENDIDIKAN FISIKA FAKULTAS TARBIYAH  
DAN KEGURUAN UNIVERSITAS ISLAM NEGERI  
ALAUDDIN MAKASSAR**



**Skripsi**

Diajukan Untuk Memenuhi Salah Satu Syarat Untuk Meraih Gelar  
Sarjana Pendidikan (S.Pd) Program Studi Pendidikan Fisika  
Fakultas Tarbiyah Dan Keguruan

UIN Alauddin Makassar

Oleh:

**IRWAN**

**NIM : 20600115066**

**FAKULTAS TARBIYAH DAN KEGURUAN**

**UIN ALAUDDIN MAKASSAR**

**2019**

## PERNYATAAN KEASLIAN SKRIPSI

Mahasiswa yang bertanda tangan di bawah ini:

Nama : Irwan  
NIM : 20600115066  
Tempat/Tgl. Lahir : Camming, 21 November 1998  
Jurusan : Pendidikan Fisika  
Fakultas : Tarbiyah dan Keguruan  
Alamat : Samata  
Judul : "Identifikasi Kemampuan Dasar Mahasiswa Dengan Menggunakan Tes Diagnostik pada Program Studi Pendidikan Fisika Fakultas Tarbiyah dan Keguruan Universitas Islam Negeri Alauddin Makassar"

Menyatakan dengan sesungguhnya dan penuh kesadaran bahwa skripsi ini benar adalah hasil karya sendiri. Jika di kemudian hari terbukti bahwa ia merupakan duplikat, tiruan, plagiat, atau dibuat oleh orang lain, sebagian atau seluruhnya, maka skripsi dan gelar yang diperoleh karenanya batal demi hukum.

Makassar, Juli 2019

Penyusun,



**IRWAN**

**NIM: 20600115066**

UNIVERSITAS ISLAM NEGERI  
**ALAUDDIN**  
MAKASSAR

## PENGESAHAN SKRIPSI

Skripsi yang berjudul “Identifikasi Kemampuan Dasar Mahasiswa dengan Menggunakan Tes Diagnostik pada Program Studi Pendidikan Fisika Fakultas Tarbiyah dan Keguruan Universitas Islam Negeri Alauddin Makassar” Yang disusun oleh saudara Irwan NIM: 20600115066, Mahasiswa Jurusan Pendidikan Fisika Pada Fakultas Tarbiyah dan Keguruan UIN Alauddin Makassar, telah diuji dan dipertahankan dalam sidang *Munaqasyah* yang diselenggarakan pada hari Jum’at 16 Agustus 2019 M, bertepatan dengan 15 Dzulhijjah 1440 H dan dinyatakan telah dapat menerima sebagai salah satu syarat untuk mendapatkan gelar Sarjana Pendidikan (S.Pd) dengan beberapa perbaikan.


16 Agustus 2019 M  
Samata. 15 Dzulhijjah 1440 H

### DEWAN PENGUJI

(Sesuai SK Dekan No 2082 Tertanggal 30 Juli 2019)

Ketua	: Dr. H. Muhammad Qaddafi, M.Si	(.....)
Sekretaris	: Suhardiman, S.Pd., M.Pd.	(.....)
Munaqisy I	: St. Hasmiah Mustamin, S.Ag., M.Pd	(.....)
Munaqisy II	: Dr. Sitti Aisyah Chalik, M.Pd	(.....)
Pembimbing I	: Dr. Hj. Syamsudduha, M.Pd	(.....)
Pembimbing II	: Dr. Sitti Mania, M.Ag	(.....)

Mengetahui :  
Dekan Fakultas Tarbiyah dan  
Keguruan  
UIN Alauddin Makassar

  
Dr. H. A. Marjuni, M.Pd.I  
NIP. 19781011 200501 1 006

## PERSETUJUAN PEMBIMBING

Pembimbing skripsi yang berjudul “Identifikasi Kemampuan Dasar Mahasiswa dengan Menggunakan Tes Diagnostik pada Program Studi Pendidikan Fisika Fakultas Tarbiyah dan Keguruan Universitas Islam Negeri Alauddin Makassar”, yang disusun oleh saudara Irwan, NIM: 20600115066, Mahasiswa Jurusan Pendidikan Fisika pada Fakultas Tarbiyah dan Keguruan Universitas Islam Negeri (UIN) Alauddin Makassar, telah diperiksa dan dikoreksi secara seksama, memandang bahwa skripsi tersebut telah memenuhi syarat-syarat ilmiah dan dapat disetujui untuk diajukan ke sidang *munaqasyah*.

Demikian persetujuan ini diberikan untuk diproses lebih lanjut.

Makassar, 2019

Pembimbing I

Pembimbing II

**Dr. Hj. St. Syamsudduha, M.Pd**  
NIP. 19681228 199303 2 003

**Dr. Sitti Mania, M.Ag**  
NIP. 19731212 200003 2 001

Mengetahui,

Ketua Jurusan Pendidikan Fisika

**Dr. H. Muhammad Qaddafi, S.Si., M.Si**  
NIP. 19760802200501 1 004

## KATA PENGANTAR



*Assalamu 'Alaikum Warahmatullahi Wabarakatuh*

Alhamdulillah Rabbil 'Alamin, segala puji syukur tiada hentinya penulis haturkan kehadiran Allah Swt yang Maha pemberi petunjuk, anugerah, dan nikmat yang diberikan sehingga penulis dapat menyelesaikan skripsi ini yang berjudul **“Identifikasi Kemampuan Dasar Mahasiswa dengan Menggunakan Tes Diagnostik pada Program Studi Pendidikan Fisika Fakultas Tarbiyah dan Keguruan Universitas Islam Negeri Alauddin Makassar”**.

Allahumma Shalli 'ala Muhammad, penulis curahkan kehadiran junjungan umat, pemberi syafa'at, penuntun jalan kebajikan, penerang di muka bumi ini, seorang manusia pilihan dan teladan kita, Rasullulah Muhammad saw, beserta keluarga, para sahabat, dan pengikut beliau hingga akhir zaman, Amin.

Penulis dalam menyusun skripsi ini, banyak menemukan hambatan dan kesulitan, tetapi berkat adanya arahan dan bimbingan serta bantuan baik secara material maupun spiritual dari semua pihak, maka penulis dapat menyelesaikan skripsi ini. Terima kasih banyak saya haturkan dengan istimewa dan penuh rasa hormat kepada ayahanda dan ibunda yang tercinta **Sappe** dan **Santi**, kedua orang tua yang tak henti-hentinya memberikan semangat dan dukungan dalam menyelesaikan skripsi ini.

Selanjutnya ucapan terima kasih dan penghargaan yang sedalam-dalamnya, penulis sampaikan kepada:

1. Prof. Dr. Hamdan Juhannis, M.A., Ph.D., selaku Rektor UIN Alauddin Makassar, Prof. Dr. Mardan, M.Ag., selaku Wakil Rektor I UIN Alauddin Makassar, Dr. Wahyuddin, M.Hum., selaku Wakil Rektor II UIN Alauddin Makassar, Prof. Darussalam, M.Ag., selaku Wakil Rektor III UIN Alauddin Makassar atas segala fasilitas yang diberikan dalam menimba ilmu didalamnya.
2. Dr. H. Marjuni, M.Pdi., M.Ag selaku Dekan Fakultas Tarbiyah dan Keguruan, Dr. Muljono Damopolli, M.Ag. selaku Wakil Dekan I Fakultas Tarbiyah dan Keguruan, Dr. Misykat Malik Ibrahim, M.Si. selaku Wakil Dekan II Fakultas Tarbiyah dan Keguruan, Prof. Dr. H. Syahrudin, M.Pd. atas segala fasilitas yang diberikan dan senantiasa memberikan dorongan, bimbingan dan nasihat kepada penulis.
3. Muhammad Qaddafi, S.Si, M.Si dan Ibu Rafiqah, S.Si, M.Pd selaku ketua jurusan dan sekretaris jurusan Pendidikan Fisika Fakultas Tarbiyah dan Keguruan UIN Alauddin Makassar.
4. Dr. Hj. St. Syamsudduha, M.Pd. dan Dr. Sitti Mania, M.Ag. selaku Pembimbing I dan pembimbing II yang telah banyak meluangkan waktu untuk memberikan bimbingan, pengarahan, serta dorongan yang sangat berharga bagi penulis.
5. Para Dosen, Karyawan/Karyawati yang berada dalam lingkungan Fakultas Tarbiyah dan Keguruan UIN alauddin makassar yang telah memberikan ilmu yang sangat bermanfaat dan yang telah membantu kelancaran proses penulisan skripsi ini.
6. Rekan-rekan mahasiswa Jurusan Pendidikan Fisika angkatan 2015 (Em15ivitas), dan semua pihak yang turut membantu dalam penyelesaian skripsi ini, semoga dengan bantuannya dapat bernilai ibadah disisi Allah swt.

7. Keluarga besar penulis yang selalu memberikan dorongan, dukungan besertadoa, sehingga penulis dapat menyelesaikan skripsi ini.
8. Semua pihak yang tidak dapat penulis sebutkan satu-persatu yang telah membantu kelancaran penyusunan skripsi ini.

Penulis menyadari sepenuhnya bahwa skripsi ini jauh dari kesempurnaan. Oleh karena itu, dengan kerendahan hati, penulis menerima saran dan kritik yang sifatnya konstruktif dari berbagai pihak demi kesempurnaan skripsi ini.

Akhirnya, hanya kepada Allah swt penulis memohon ridho dan maghfirahnya, semoga segala dukungan serta bantuan semua pihak mendapat pahala yang berlipat ganda di sisi Allah swt, semoga karya ini dapat bermanfaat kepada para pembaca, Amin.

*Wassalamu'Alaikum Warahmatullahi Wabarakatuh*

Makassar, 2019

Penulis,



IRWAN

UNIVERSITAS ISLAM NEGERI  
ALAUDDIN  
M A K A S S A R


## DAFTAR ISI

<b>HALAMAN JUDUL .....</b>	<b>i</b>
<b>PERNYATAAN KEASLIAN SKRIPSI.....</b>	<b>ii</b>
<b>PERSETUJUAN PEMBIMBING.....</b>	<b>iii</b>
<b>HALAMAN PENGESAHAN SKRIPSI.....</b>	<b>iv</b>
<b>KATA PENGANTAR.....</b>	<b>v</b>
<b>DAFTAR ISI.....</b>	<b>viii</b>
<b>DAFTAR TABEL .....</b>	<b>xi</b>
<b>DAFTAR GAMBAR.....</b>	<b>xii</b>
<b>ABSTRAK .....</b>	<b>xiii</b>
<b>BAB 1 PENDAHULUAN .....</b>	<b>1-14</b>
A. Latar Belakang .....	1
B. Rumusan Masalah Penelitian .....	5
C. Tujuan dan Manfaat Penelitian .....	5
1. Tujuan Penelitian.....	5
2. Manfaat Penelitian.....	6
D. Definisi Operasional Variabel.....	6
E. Kajian Pustaka.....	7
<b>BAB II TINJAUAN TEORETIS .....</b>	<b>15-39</b>
A. Definisi Evaluasi .....	15
B. Pengertian Asesmen .....	21
C. Jenis-jenis Tes dan Cara Untuk Menilai Tes .....	23
D. Kedudukan dan Tujuan Evaluasi dalam Proses Pendidikan .	25
E. Tes Diagnostik.....	33
F. Kerangka Pikir.....	38



<b>BAB III METODE PENELITIAN .....</b>	<b>40-49</b>
A. Jenis dan Lokasi Penelitian .....	40
1. Jenis Penelitian .....	40
2. Lokasi Penelitian .....	40
B. Desain Penelitian.....	40
C. Subjek Penelitian.....	41
D. Teknik Pengumpulan Data .....	41
1. Tahap Persiapan .....	42
2. Tahap Pelaksanaan .....	43
3. Tahap Pengumpulan Data .....	43
E. Instrumen Penelitian.....	43
F. Teknik Analisis Data.....	47
1. Mean .....	47
2. Standar Deviasi.....	47
3. Varians.....	48
4. Kategorisasi .....	48
5. Diagram Batang.....	48
<b>BAB IV HASIL DAN PEMBAHASAN.....</b>	<b>50-64</b>
A. Hasil Penelitian .....	50
1. Analisis Deskriptif Kemampuan Dasar Fisika.....	50
2. Analisis Faktor-faktor yang menjadi kelemahan kemampuan dasar Fisika.....	52
B. Pembahasan.....	61
1. Gambaran Kemampuan Dasar Fisika Menggunakan Tes Diagnostik Mahasiswa Pendidikan Fisika Angkatan 2018.....	61

2. Faktor-faktor yang Menjadi Kelemahan pada Kemampuan Dasar Fisika.....	63
<b>BAB V PENUTUP.....</b>	<b>65-66</b>
A. Kesimpulan.....	65
B. Implikasi.....	66
<b>DAFTAR PUSTAKA .....</b>	<b>67-68</b>
<b>LAMPIRAN-LAMPIRAN</b>	
<b>RIWAYAT HIDUP PENULIS</b>	



## DAFTAR TABEL

Tabel 2.1 Tes Diagnostik Guru dan Dokter .....	34
Tabel 3.1 Kriteria Kevalidan.....	44
Tabel 3.2 Nama-nama Validator Tes Diagnostik.....	45
Tabel 3.3 Validasi Tes Diagnostik.....	46
Tabel 3.4 Konversi Nilai Studi Program S1.....	48
Tabel 4.1 Hasil Analisis Data Tes Diagnostik Kemampuan Dasar Fisika Mahasiswa Baru Pendidikan Fisika Angkatan 2018.....	50
Tabel 4.2 Pengkategorisasian Kemampuan Dasar Fisika .....	51
Tabel 4.3 Daftar Jumlah Jawaban Benar Mahasiswa Setiap Soal .....	53




## DAFTAR GAMBAR

Gambar 2.1 Bagan Kerangka Pikir .....	39
Gambar 4.1 Grafik Kemampuan Dasar Fisika .....	52
Gambar 4.2 Grafik Jumlah Mahasiswa yang Menjawab Salah .....	60



## DAFTAR LAMPIRAN

Lampiran 1 Format Validasi.....	70
Lampiran 2 Analisis Validasi .....	96
Lampiran 3 Instrumen Penelitian.....	100
Lampiran 4 Persuratan.....	105
Lampiran 5 Dokumentasi .....	112
Lampiran 6 Daftar Nilai .....	115



## Abstrak

**Nama** : Irwan  
**NIM** : 20600115066  
**Jurusan/Fakultas** : Pendidikan Fisika/Tarbiyah dan Keguruan  
**Judul** : Identifikasi Kemampuan Dasar Mahasiswa dengan Menggunakan Tes Diagnostik Pada Program Studi Pendidikan Fisika Fakultas Tarbiyah dan Keguruan Universitas Islam Negeri Alauddin Makassar

---

Penelitian ini merupakan jenis penelitian deskriptif kuantitatif yang bertujuan mengetahui gambaran kemampuan dasar menggunakan tes diagnostik dan faktor yang menjadi kelemahan kemampuan dasar mahasiswa semester I Program Studi Pendidikan Fisika Fakultas Tarbiyah dan Keguruan Universitas Islam Negeri Alauddin Makassar.

Desain penelitian yang digunakan adalah analisis deskriptif kuantitatif. Data pada penelitian ini diperoleh data kuantitatif dari hasil tes diagnostik. Subjek dalam penelitian ini adalah mahasiswa aktif pendidikan Fisika Fakultas Tarbiyah dan Keguruan Universitas Islam Negeri Alauddin Makassar angkatan 2018 yang berjumlah 65 orang terdiri dari 23 mahasiswa laki-laki dan 42 mahasiswa perempuan. Teknik pengambilan data dilakukan dengan menggunakan tes berupa tes diagnostik. Teknik analisis data pada penelitian ini adalah analisis secara kuantitatif.

Berdasarkan hasil analisis secara kuantitatif diperoleh gambaran kemampuan dasar fisika mahasiswa pendidikan Fisika semester I menggunakan tes diagnostik dikategorikan sangat rendah atau memiliki kemampuan yang sangat rendah dengan rata-rata nilai 29,63. Faktor-faktor yang menjadi kelemahan mahasiswa pendidikan Fisika semester I angkatan 2018 yaitu kesalahan dalam membaca alat ukur dan mengkonversi satuan, tidak memahami penggunaan angka penting, tidak mampu menganalisis resultan tiga vektor, tidak mengetahui cara penjumlahan vektor, tidak memahami teori dan rumus pada materi kinematika gerak lurus, gerak jatuh bebas, gerak vertikal, gerak parabola, dan gerak melingkar, tidak mengetahui rumus frekuensi dan periode perhubungan roda-roda, terjadi miskonsepsi dalam menentukan gaya sentripetal, tidak memahami gaya hukum Newton, belum mampu menganalisis hukum-hukum Newton tentang gerak, tidak mengetahui rumus hukum Kepler, tidak mampu menganalisis dan menentukan nilai usaha pada sebuah benda, tidak memahami penerapan hukum kekekalan energi mekanik, tidak memahami teori dan rumus efisiensi mesin Carnot, tidak memahami rumus dan penjumlahan momentum total.

Implikasi dari penelitian ini adalah sebagai bahan rujukan kepada pihak jurusan maupun dosen pendidikan fisika untuk mengetahui materi yang masih perlu diperdalam untuk meningkatkan efisiensi pengajaran didalam kelas, sebagai gambaran kepada pihak jurusan dan dosen fisika bahwa kemampuan dasar fisika mahasiswa angkatan 2018 masih perlu ditingkatkan, sebagai motivasi kepada mahasiswa untuk mengetahui tingkat kemampuan belajarnya dan sebagai bahan pertimbangan dan perbandingan apabila ada peneliti yang akan melakukan penelitian yang sama.

## Abstrak

**Nama** : Irwan  
**NIM** : 20600115066  
**Jurusan/Fakultas** : Physics Education/Tarbiyah and Teacher Training  
**Judul** : Identification of Basic Capabilities of Students by Using Diagnostic Tests at the Tarbiyah Faculty of Physics Education Study Program and Teacher Training State University of Alauddin Makassar

---

This research is a type of quantitative descriptive research that aims to find out the description of basic abilities using diagnostic tests and factors that are the weaknesses of the first semester students' basic abilities in the Physics Education Study Program at the Faculty of Tarbiyah and Teacher Training at Alauddin State Islamic University Makassar.

The research design used is quantitative descriptive analysis. The data in this study obtained quantitative data from the results of diagnostic tests. The subjects in this study were active students of Physics Education at the Tarbiyah and Teaching Faculty of Alauddin State Islamic University Makassar in class 2018 with 65 people consisting of 23 male students and 42 female students. The data collection technique is done by using a test in the form of a diagnostic test. The data analysis technique in this research is quantitative analysis.

Based on quantitative analysis results obtained a description of the basic abilities of physics Physics education students in the first semester using diagnostic tests are categorized as very low or have very low abilities with an average value of 29.63. The factors which are the weaknesses of Physics Education students in the first semester of 2018 are errors in reading measuring devices and converting units, not understanding the use of important numbers, not being able to analyze the resultant of three vectors, not knowing how to add vectors, not understanding theories and formulas on kinematics material straight motion, free fall motion, vertical motion, parabolic motion, and circular motion, do not know the frequency formula and the period of wheel transportation, misconceptions occur in determining the centripetal force, do not understand the force of Newton's law, have not been able to analyze Newton's laws of motion , do not know the Kepler's legal formula, unable to analyze and determine the value of effort on an object, do not understand the application of the law of conservation of mechanical energy, do not understand the theory and formula efficiency Carnot engine, do not understand the formula and the sum of total momentum.

The implication of this research is as a reference material to the departments and lecturers of physics education to find out material that still needs to be deepened to improve teaching efficiency in the classroom, as an illustration to the department and lecturers of physics that the basic abilities of physics in class 2018 students still need to be improved, as motivation to students to determine the level of learning ability and as a material for consideration and comparison if there are researchers who will conduct the same research.

## BAB I

### PENDAHULUAN

#### A. Latar Belakang

Pendidikan merupakan aspek yang memiliki peranan penting bagi setiap orang. Tanpa pendidikan manusia akan sulit berkembang dan akan terbelakang yang akan berujung pada keterpurukan. Pendidikan yang berhasil akan menciptakan manusia yang berkualitas dan bermanfaat dalam kehidupan bermasyarakat.

Agama islam telah menjelaskan bahwa Allah swt mengangkat derajat orang-orang beriman dan memiliki ilmu pengetahuan, hal ini sejalan dengan Firman Allah swt:

يَا أَيُّهَا الَّذِينَ ءَامَنُوا إِذَا قِيلَ لَكُمْ تَفَسَّحُوا فِي الْمَجَالِسِ فَافْسَحُوا يَفْسَحِ اللَّهُ لَكُمْ وَإِذَا قِيلَ  
 أَنْشُرُوا فَأَنْشُرُوا يَرْفَعِ اللَّهُ الَّذِينَ ءَامَنُوا مِنْكُمْ وَالَّذِينَ أُوتُوا الْعِلْمَ دَرَجَاتٍ وَاللَّهُ بِمَا  
 تَعْمَلُونَ خَبِيرٌ ۝ ١١

Artinya:

“Hai orang-orang beriman apabila dikatakan kepadamu: "Berlapang-lapanglah dalam majlis", maka lapangkanlah niscaya Allah akan memberi kelapangan untukmu. Dan apabila dikatakan: "Berdirilah kamu", maka berdirilah, niscaya Allah akan meninggikan orang-orang yang beriman di antaramu dan orang-orang yang diberi ilmu pengetahuan beberapa derajat. Dan Allah Maha Mengetahui apa yang kamu kerjakan.”

(Kementrian Agama RI, 2010:543)

Ayat di atas tidak menyebut secara tegas bahwa Allah Swt akan meninggikan derajat orang berilmu tetapi menegaskan bahwa mereka memiliki *Derajat-derajat* yakni lebih tinggi sekedar beriman. Ilmu yang dimaksud oleh ayat diatas bukan hanya ilmu agama tetapi ilmu apapun yang bermanfaat diantaranya ilmu Fisika



Ilmu Fisika merupakan pembelajaran yang berhubungan dengan alam yang dipelajari teorinya dan disertai praktek. Seseorang dapat belajar fisika melalui pengalaman sehari-hari berkenaan dengan teori-teori fisika. Dengan begitu, setiap orang pasti telah mempunyai konsep dan pengetahuan yang sudah tersimpan di dalam pikirannya mengenai ilmu-ilmu fisika tersebut dan ini menjadi konsep awal yang dibawa sebelum memasuki pendidikan formal tingkatan selanjutnya. Konsep awal yang diperoleh ini sangat berpengaruh terhadap proses pembelajaran fisika pada pendidikan formal dan pendalaman teori-teori fisika dan sangat berpengaruh terhadap mempelajari tingkatan pembelajaran fisika yang lebih tinggi.

Konsep fisika pada pembelajaran fisika pada jenjang pendidikan formal SMA sederajat, yang sangat berpengaruh terhadap kemampuan dasar sebelum mengambil jurusan Fisika di perguruan tinggi. Mahasiswa yang sudah memasuki perguruan tinggi khususnya pada jurusan Fisika setidaknya sudah belajar banyak pada jenjang SMP dan SMA sederajat. Konsep-konsep yang diperoleh baik dari belajar formal atau melihat dari peristiwa alam sangat berperan dalam kelancaran penyelesaian studi khususnya pada bidang fisika.

Konsep yang menjadi kemampuan dasar fisika sebelum masuk perguruan tinggi setiap siswa berbeda-beda mulai dari kategori rendah sedang dan tinggi. Hal-hal yang mempengaruhi tingkat kemampuan dasar fisika dan kendala yang dialami siswa berbeda dalam belajar fisika. Kendala-kendala yang dialami dalam belajar fisika misalnya, susah memahami konsep dan susah untuk mengingat rumus-rumus fisika. Kendala-kendala ini berakar pada pembelajaran fisika yang ditempuh sebelum memasuki perguruan tinggi.

Pada kemampuan dasar yang merupakan materi dasar yang dipelajari pada tingkatan SMP dan SMA sederajat, banyak yang masih mengalami miskonsepsi

atau kekeliruan terhadap pembelajaran fisika dasar. Banyak faktor-faktor yang mempengaruhi tingkat kemampuan dasar, seperti yang dijelaskan pada penelitian yang dilakukan oleh Sri Rahayu pada tahun 2015, dengan mengangkat judul penelitian “Pengembangan tes diagnostik dua tingkat untuk mengidentifikasi miskonsepsi pada konsep gerak dua dimensi” bahwa penyebab yang berasal dari siswa dapat terdiri dari berbagai hal, seperti *prakonsepsi* siswa, kemampuan tahap perkembangan, minat, cara berpikir, dan teman lainnya. Penyebab kesalahan dari guru dapat berupa ketidakmampuan guru, kurangnya penguasaan bahan, cara mengajar yang tidak tepat atau sikap guru dalam berelasi dengan siswa yang kurang baik. Penyebab miskonsepsi dari buku teks biasanya terdapat pada penjelasan atau uraian yang salah dalam buku tersebut. Konteks, seperti budaya, agama, dan bahasa sehari-hari juga mempengaruhi miskonsepsi siswa. Sedangkan metode mengajar yang hanya menekankan kebenaran satu segi sering memunculkan salah pengertian pada siswa. Cara mengatasi miskonsepsi yang terjadi di kalangan siswa, selain mengetahui penyebab dari miskonsepsi itu sendiri, perlu juga dilakukan diagnose miskonsepsi yang dialami siswa. Diagnosis adalah proses yang kompleks dalam suatu usaha untuk menarik kesimpulan dari hasil-hasil pemeriksaan gejala-gejala, perkiraan penyebab, pengamatan dan penyesuaian dengan kategori secara baik. Dalam dunia pendidikan diagnosis memiliki arti yang luas, meliputi identifikasi mengenai kekuatan dan kelemahan siswa pada suatu konsep. Dalam mendiagnosis miskonsepsi diperlukan suatu alat ukur atau alat diagnostik yang dapat mengidentifikasi miskonsepsi yang ada dikalangan siswa.

Penelitian yang serupa sebelumnya juga sudah dilakukan oleh Tri Wahyuningsih dkk pada tahun 2013 dengan judul “pembuatan instrument tes diagnostik fisika SMA kelas XI”. Pada penelitiannya melakukan tes diagnostik

sebanyak 2 kali dimana hasil dari penelitiannya yaitu: pada tes 1 nilai reliabilitas cukup, yaitu 0,41 dan disimpulkan bahwa uji coba soal dengan jumlah soal dan waktu yang tidak seimbang akan diperoleh hasil yang kurang baik. Bentuk soal juga berpengaruh terhadap jawaban siswa. Pada tes 2 dilakukan dengan dua tipe soal yaitu tipe A dan tipe B dimana bentuk soalnya yaitu pilihan ganda beralasan yang diujikan di kelas yang berbeda dimana diperoleh dihasilkan nilai reliabilitas cukup, yaitu 0,611 untuk soal tipe A dan 0,6 untuk soal tipe B dimana masing-masing tipe terdapat 33 item.

Masalah yang terpampang nyata dapat dilihat di jenjang perguruan tinggi khususnya pada jurusan pendidikan Fisika fakultas Tarbiyah dan Keguruan Universitas Islam Negeri Alauddin Makassar pada angkatan 2018. Sebagian dari mahasiswa jurusan pendidikan fisika bukan berlatar belakang sains atau sebagian bukan merupakan alumni dari SMA khususnya jurusan IPA. Data mahasiswa yang diperoleh dari pihak jurusan pendidikan Fisika, jumlah mahasiswa yang merupakan lulusan SMA IPA sebanyak 51 orang, MA 9 orang dan lulusan SMK 5 orang. Dengan memperoleh gambaran kemampuan dasar Fisika, dapat diketahui pokok permasalahan yang masih harus ditingkatkan serta untuk menunjang kemajuan kualitas pembelajaran khususnya mahasiswa baru di pendidikan Fisika angkatan 2018.

Berdasarkan pemaparan tersebut, maka perlu dilakukan tes diagnostik untuk mengetahui sampai mana kemampuan dasar fisika dari mahasiswa pendidikan Fisika semester 1 Fakultas Tarbiyah dan Keguruan. Selain itu, dengan melakukan tes diagnostik, kelemahan dan kekurangan dalam hal kemampuan fisika dasar dari mahasiswa pendidikan Fisika semester 1 dapat diketahui sehingga dapat diketahui hal-hal yang harus dipersiapkan untuk menutupi kekurangan dari mahasiswa tersebut. Dengan begitu, penelitian ini sangat penting

untuk dilakukan karena merupakan bahan pembelajaran untuk para dosen mengenai bagaimana situasi dan kondisi pembelajaran di dalam kelas nantinya. Dengan adanya penelitian ini maka proses penanganan dapat disusun sedemikian rupa tentang apa-apa yang perlu dilakukan dalam melakukan pembelajaran.

### ***B. Rumusan Masalah***

Sehubungan dengan latar belakang di atas, maka rumusan masalah pada penelitian ini adalah:

1. Bagaimana gambaran kemampuan dasar menggunakan tes diagnostik mahasiswa semester 1 angkatan 2018 program studi pendidikan Fisika fakultas Tarbiyah dan Keguruan Universitas Islam Negeri Alauddin Makassar?
2. Faktor apakah yang menjadi kelemahan kemampuan dasar Fisika mahasiswa semester 1 angkatan 2018 program studi pendidikan Fisika fakultas Tarbiyah dan Keguruan Universitas Islam Negeri Alauddin Makassar?

### ***C. Tujuan dan Manfaat Penelitian***

#### ***1. Tujuan Penelitian***

Berdasarkan permasalahan penelitian diatas, maka tujuan dari penelitian ini adalah:

- a. Untuk mengetahui gambaran kemampuan dasar menggunakan tes diagnostik mahasiswa semester 1 angkatan 2018 program studi pendidikan Fisika fakultas Tarbiyah dan Keguruan Universitas Islam Negeri Alauddin Makassar
- b. Untuk mengetahui faktor apakah yang menjadi kelemahan kemampuan dasar Fisika mahasiswa semester 1 angkatan 2018 program studi pendidikan Fisika fakultas Tarbiyah dan Keguruan Universitas Islam Negeri Alauddin Makassar

## 2. Manfaat penelitian

Hasil dari penelitian ini diharapkan dapat memberikan manfaat sebagai berikut:

### a. Manfaat teoretis

Diharapkan dengan adanya hasil dari penelitian ini akan memberikan sumbangan teoritis terhadap ilmu pengetahuan, sebagai sumber informasi serta bahan komparasi dan informasi dalam melakukan evaluasi. Dimana dengan penelitian ini dapat menggambarkan bagaimana tes Diagnostik mampu mengkaji letak permasalahan dan letak keunggulan dalam mempelajari ilmu fisika.

### b. Manfaat praktis

Dengan adanya hasil dari penelitian ini, akan memberikan gambaran awal mengenai kemampuan dasar yang dimiliki mahasiswa semester 1 pendidikan Fisika FTK UIN Alauddin Makassar. Sehingga mempermudah mengetahui hal-hal apa saja yang masih perlu untuk lebih ditingkatkan.

### ***D. Definisi Operasional dan Ruang Lingkup Penelitian***

Definisi operasional variabel pada penelitian ini yaitu kemampuan dasar fisika, dimana kemampuan dasar yang dimaksud disini yaitu pemahaman mengenai konsep-konsep fisika yang merupakan kemampuan yang sudah dimiliki sejak SMA. Dimana pada penelitian ini akan dilakukan pada mahasiswa baru pendidikan fisika yaitu semester 1. Pada penelitian ini, tes yang digunakan adalah tes diagnostik yang merupakan tes untuk mengetahui permasalahan-permasalahan atau kendala-kendala yang dialami dalam memahami materi fisika khususnya pada kemampuan yang merupakan pembelajaran yang menjadi dasar fisika sebelum melangkah ke pembelajaran fisika yang lebih kompleks.

Tes diagnostik adalah tes yang digunakan untuk mengetahui kelemahan-kelemahan siswa sehingga dari kelemahan-kelemahan itulah siswa dapat diberikan perlakuan yang tepat (Arikunto, 2010:33-34).

Diagnosis merupakan suatu istilah yang diadopsi dari bidang medis. Diagnosis dapat diartikan sebagai:

1. Upaya atau proses menemukan kelemahan atau penyakit (*weakness, disease*) apa yang dialami seseorang dengan melalui pengujian dan studi yang seksama mengenai gejala-gejalanya (*symptoms*);
2. Studi yang seksama terhadap fakta tentang suatu hal untuk menemukan karakteristik atau kesalahan-kesalahan dan sebagainya yang esensial;
3. Keputusan yang dicapai setelah dilakukan suatu studi yang seksama atas gejala-gejala atau fakta tentang suatu hal.

#### ***E. Kajian Pustaka***

Pada dasarnya kajian pustaka adalah sebagai bahan auto kritis terhadap penelitian yang ada, baik mengenai kelebihan maupun kekurangannya, sekaligus sebagai bahan komparatif terhadap kajian yang terdahulu. Untuk menghindari terjadinya pengulangan hasil temuan yang membahas permasalahan yang sama atau hampir sama dari seseorang, baik dalam bentuk skripsi, buku dan dalam bentuk tulisan yang lainnya. Maka penulis akan memaparkan beberapa hasil penelitian yang berhubungan dengan penelitian yang peneliti lakukan, diantaranya:

1. Penelitian untuk mengungkap miskonsepsi fisika yang dilakukan oleh Sri Rahayu pada tahun 2015 dengan judul “penelitian pengembangan tes diagnostik pilihan ganda dua tingkat untuk mengidentifikasi miskonsepsi pada gerak dua dimensi”. Penelitian ini bertujuan untuk mengidentifikasi jenis miskonsepsi fisika siswa pada konsep gerak dua dimensi dengan menggunakan tes diagnostik pilihan ganda dua tingkat. Metode yang

digunakan adalah metode penelitian deskriptif dengan instrumen tes diagnostik pilihan ganda dua tingkat, yang terdiri dari tes pilihan ganda beralasan terbuka dan tes pilihan ganda beralasan tertutup. Hasil penelitian menunjukkan bahwa persentase siswa yang mengalami miskonsepsi sebesar 44,25% dari 40 siswa yang diteliti. Indikator atau sub pokok bahasan yang mengalami miskonsepsi pada bahan kajian gerak dua dimensi (gerak parabola dan gerak melingkar) terdapat pada indikator menganalisis vektor posisi, kecepatan dan percepatan gerak parabola; dan indikator merumuskan hubungan posisi, kecepatan dan percepatan gerak parabola

2. Penelitian Vidya Matarani Salma, Sunyoto Eko Nugroho dan Isa Akhlis yang mengangkat judul penelitian “Pengembangan *E-DIAGNOSTIK TEST* Untuk Mendintifikasi Pemahaman Konsep Fisika Siswa SMA Pada Pokok Bahasan Fluida Statis”. Diagnosis terhadap kesulitan belajar siswa perlu diketahui sedini mungkin agar siswa tidak mengalami kesalahan dalam memahami pengetahuan selanjutnya. Penelitian ini merupakan penelitian dan pengembangan (*Research and Developement*) yang menghasilkan produk berupa *e-diagnostik test*. Tujuan dari penelitian ini adalah mengetahui kelayakan dan keefektifan produk, serta mengetahui profil pemahaman konsep siswa pada materi fluida statis berdasarkan implementasi produk. Penelitian ini diawali dengan pengembangan instrumen dan media, kemudian dilanjutkan dengan uji kelayakan dan keefektifan produk, serta analisis profil pemahaman konsep siswa. Uji kelayakan produk menggunakan *judgement expert*. Uji keefektifan produk menggunakan korelasi nilai ulangan harian dan nilai *e-diagnostik test* siswa. Analisis profil pemahaman konsep siswa menggunakan kombinasi

jawaban siswa pada *e-diagnostik test*. Hasil studi menunjukkan bahwa *e-diagnostik test* yang dikembangkan memiliki persentase kelayakan yang tinggi ( $>80\%$ ) dan korelasi nilai yang tinggi (0,86). Hasil analisis profil pemahaman konsep siswa menunjukkan pemahaman konsep siswa beragam, terdiri dari pemahaman utuh, pemahaman sebagian, dan tidak paham. Berdasarkan hasil penelitian tersebut maka disimpulkan bahwa *e-diagnostik test* yang dikembangkan layak, efektif, dan dapat menggambarkan profil pemahaman konsep siswa.

3. Penelitian yang dilakukan oleh Yuli Prihatni dkk pada tahun 2016 yang meneliti “Pengembangan Instrumen Diagnostik Kognitif Pada Mata Pelajaran IPA di SMP”. Uji coba dilaksanakan dengan subjek uji sebanyak 484 siswa kelas VII SMP di Kabupaten Sleman. Seleksi butir tes untuk mendapatkan fit tes menggunakan program *Quest* dan Program M Plus untuk uji kecocokan/kesesuaian model atribut dengan matriks Q. Hasil penelitian menunjukkan: (1) instrumen yang berhasil dikembangkan berbentuk tes pilihan ganda dengan alasan, berjumlah 28 butir soal dan menghasilkan tujuh Q matrik; (2) analisis dengan program *Quest* diperoleh butir fit dengan model dan program M Plus menemukan besarnya probabilitas pada setiap *latent class* pada tujuh Q matriks yang tersusun. Hasil tes diagnostik kognitif yang telah diujicobakan di beberapa sekolah menunjukkan bahwa siswa pada setiap sekolah masih mengalami kesulitan pada tiap di-mensi kognitif. Pada pelajaran IPA Fisika siswa disekolah cenderung hafal rumus namun tidak paham konsepnya. Sehingga pada soal-soal dengan jenis prosedural yang di-susun dengan tipe yang berbeda maka siswa akan mengalami kesulitan.



4. Penelitian yang dilakukan oleh Dimas Adiansyah Syahrul dan Woro Setyarsih Universitas Negeri Surabaya pada tahun 2015 dengan judul penelitian “Identifikasi Miskonsepsi dan Penyebab Miskonsepsi Siswa dengan *Three-tier Diagnostik Test* Pada Materi Dinamika Rotasi”. Hasil diagnosis menunjukkan bahwa siswa mengalami miskonsepsi terendah pada konseptorema sumbu paralel sebesar 53,90% yang disebabkan oleh *false negative*, yang berupa kecerobohan siswa sebesar 48,68%. Sedangkan miskonsepsi tertinggi dialami siswa pada konsep gerak menggelinding sebagai rotasi murni sebesar 86,52% yang disebabkan oleh pemikiran humanistik sebesar 54,10%. Identifikasi miskonsepsi yang terjadi pada siswa menunjukkan bahwa miskonsepsi yang paling rendah dialami siswa adalah konsep teorema sumbu paralel sebesar 53,90% dengan penyebab utama terjadinya miskonsepsi disebabkan karena *false negative* atau diartikan oleh penulis sebagai kecerobohan siswa dalam menuliskan jawaban pada tingkat pertama, yaitu sebesar 48,68%. Sedangkan miskonsepsi tertinggi dialami siswa pada konsep gerak menggelinding sebagai rotasi murni sebesar 86,52% yang disebabkan oleh pemikiran humanistik sebesar 54,10%.
5. Penelitian yang dilakukan oleh Titik Hidayati dkk pada tahun 2013 dengan judul penelitian “Pengembangan Tes Diagnostik untuk Mengidentifikasi Keterampilan Proses Sains dengan Tema Energi Pada Pembelajaran IPA Terpadu”. Dalam penelitian ini efektivitas diukur dari hasil keterampilan proses sains siswa dan hasil tes diagnostik keterampilan proses sains siswa. Hasil penelitian ini yaitu validator menilai bahwa tes diagnostik keterampilan proses sains layak. Pada uji coba skala kecil dan skala besar siswa memberikan penilaian baik pada tes diagnostik keterampilan proses

sains. Selain itu tanggapan siswa dan guru terhadap tes diagnostik keterampilan proses sains menunjukkan tanggapan yang sangat baik. Pada uji coba pemakaian diketahui bahwa kriteria tes diagnostik dapat terpenuhi. Berdasarkan hasil penelitian menunjukkan bahwa tes diagnostik keterampilan proses sains efektif dan layak digunakan sebagai instrument tes dalam pembelajaran IPA terpadu tema energi di SMP/MTs.

6. Penelitian yang dilakukan oleh Dita Nugraeni dkk Universitas Sebelas Maret pada tahun 2013 dengan judul penelitian “Penyusunan Tes Diagnostik Fisika Materi Listrik Dinamis”. Kesimpulan yang diperoleh yaitu, pada kompetensi dasar 5.1 yaitu memformulasikan besaran-besaran listrik rangkaian tertutup sederhana (satu loop) terdapat 15 item soal, kompetensi dasar 5.2 yaitu mengidentifikasi penerapan listrik AC dan DC dalam kehidupan sehari-hari ada 4 item soal, dan pada kompetensi dasar 5.3 yaitu menggunakan alat ukur listrik terdapat 1 item soal. Jumlah soal yang disusun sebanyak 20 butir. Instrumen yang disusun bertujuan untuk mengukur ranah kognitif siswa antara C1 sampai C4. Adapun jumlah butir soal berdasarkan pengukuran ranah kognitif antara lain: memahami (C2) sebanyak 3 soal, menerapkan (C3) sebanyak 6 soal, dan menganalisis (C4) sebanyak 11 soal. Tes diagnostik yang disusun mampu mengklasifikasikan tingkat pemahaman siswa. Tingkat pemahaman siswa dibedakan menjadi tiga yaitu memahami, miskonsepsi, dan tidak tahu konsep. Tingkat pemahaman siswa diungkap melalui pemahaman konsep materi (Listrik Dinamis). Dari 20 butir soal yang disusun, terdapat 13 butir soal yang dapat dijadikan sebagai tes diagnostik. Sedangkan 7 butir soal yang tidak dapat dijadikan sebagai tes diagnostik yaitu nomor 5, 10, 11, 15, 17, 19, dan 20. Hal ini bisa terjadi karena soal nomor 5, 10, dan 20 hanya dapat

mengungkap kemampuan siswa dalam tingkat pemahaman miskonsepsi dan tidak tahu konsep, sedangkan tingkat pemahaman memahami tidak dapat diungkap. Sedangkan untuk soal nomor 11 dan 17 hanya dapat mengungkap kemampuan siswa dalam tingkat pemahaman memahami dan tidak tahu konsep, sedangkan tingkat pemahaman miskonsepsi tidak dapat diungkap. Dan untuk soal nomor 19 hanya dapat mengungkap kemampuan siswa dalam tingkat pemahaman miskonsepsi saja, sedangkan tingkat pemahaman memahami dan tidak tahu konsep tidak dapat diungkap. Berdasarkan persentase pemahaman konsep tersebut dapat dikatakan bahwa instrumen soal telah memenuhi kriteria tes yang baik yaitu valid, relevan, spesifik, representatif, seimbang, sensitif, fair, dan efisien.

7. Penelitian yang dilakukan oleh Mujiman Hendri Wijaya dkk Universitas Lambung Mangkurat pada tahun 2013 dengan judul penelitian “Pengembangan Tes Diagnostik Siswa Mata Pelajaran IPA SMP”. Distribusi capaian hasil belajar menunjukkan bahwa sebanyak 14,67% siswa mendapat skor penguasaan di atas 65%, dan 85,33% siswa memperoleh skor penguasaan di bawah 65%. Lebih rinci capaian hasil belajar pada dimensi pengetahuan faktual 53,87%; konseptual 51,40%; prosedural 49,87%; metakognitif 49,80%; dengan rata-rata 51,23%. Jika acuan batas pencapaian 65% maka penguasaan siswa masih berada di bawah batas pencapaian minimal dan mengalami kesulitan belajar.
8. International Journal of Science Educational yang dilakukan oleh David F. Treagust pada tahun 2011 dengan judul penelitian “*Development and use of diagnostik test to evaluate student’ misconception in sciens*” menunjukkan bahwa banyak terjadi kesalahpahaman siswa dalam berbagai bidang studi sains. Salah satu cara untuk meningkatkan penerapan

penelitian kesalahpahaman adalah dengan menggunakan tes diagnostik. Metodologi untuk mengembangkan tes diagnostik ini dan penggunaan dua tes tersebut - dalam kimia (ikatan kovalen dan struktur) dan dalam biologi (fotosintesis dan respirasi pada tanaman) - dijelaskan. Analisis hasil tes yang diberikan kepada kelompok kelas menggambarkan kemudahan identifikasi kesalahpahaman yang selanjutnya dapat ditangani oleh guru.

9. Journal of Biological Educational yang dilakukan oleh Filocha Haslam & David F. Treagust pada tahun 2010 dengan judul “*Diagnosing secondary students' misconceptions of photosynthesis and respiration in plants using a two-tier multiple choice instrumen*” menunjukkan bahwa Instrumen pilihan ganda dua tingkat dijelaskan yang secara andal dan valid mendiagnosis pemahaman siswa sekunder tentang fotosintesis dan respirasi pada tanaman. Tingkat pertama dari setiap item berkaitan dengan konten berdasarkan pada pernyataan pengetahuan proposisional. Tingkat kedua terdiri dari alasan berdasarkan tanggapan siswa terhadap wawancara, pertanyaan terbuka, dan / atau penelitian sebelumnya. Alasan-alasan ini termasuk kesalahpahaman yang teridentifikasi dan jawaban yang dapat diterima secara ilmiah. Hasil penelitian menyoroti konsistensi kesalahpahaman siswa di tingkat tahun menengah dan menunjukkan bahwa persentase tinggi siswa sekolah menengah tidak memahami sifat dan fungsi respirasi dan memiliki sedikit pemahaman tentang hubungan antara fotosintesis dan respirasi pada tanaman. Rekomendasi dibuat untuk penggunaan instrumen oleh guru biologi kelas.
10. Penelitian yang dilakukan Muslimin B dengan judul penelitian “Analisis Kemampuan Siswa dalam Menyelesaikan Soal Fisika Berbasis Taksonomi Bloom” yang menunjukkan bahwa *gambaran kemampuan siswa dalam*

*menyelesaikan soal fisika berturut-turut yaitu pada kemampuan pengetahuan hasilnya sangat baik, kemampuan pemahaman hasilnya sangat baik, kemampuan penerapan hasilnya baik dan pada tingkatan analisis hasilnya rendah peserta didik kelas X di SMAN 3 Sampolawa dengan pokok bahasan gelombang suhu dan kalor. Hal ini berdasarkan data yang diperoleh perlunya analisis kemampuan siswa dalam menyelesaikan soal fisika materi suhu dan kalor berbasis taksonomi kognitif Bloom kelas X di SMAN 3 Sampolawa.*



## BAB II

### TINJAUAN TEORETIS

#### A. *Definisi Evaluasi*

Evaluasi merupakan suatu proses yang berkesinambungan dan sistematis yang digunakan untuk menentukan nilai dari suatu tujuan yang digunakan sebagai dasar dalam mengambil kesimpulan ataupun keputusan. Evaluasi berasal dari bahasa Inggris yaitu *evaluation* yang berarti menilai suatu dengan cara melakukan pengukuran terlebih dahulu. Jadi, dapat disimpulkan bahwa evaluasi merupakan suatu proses pengumpulan data untuk mengetahui ketercapaian tujuan pendidikan yang ingin dicapai (Syamsudduha, 2012: 3-4).

Evaluasi secara umum merupakan kegiatan yang dilakukan untuk mengukur atau memberi nilai dari suatu hal. Adapun beberapa ahli yang mengemukakan mengenai definisi evaluasi antara lain:

1. Bloom et. Al (1971)

Evaluasi, sebagaimana kita lihat, adalah pengumpulan kenyataan secara sistematis untuk menetapkan apakah dalam kenyataan terjadi perubahan dalam diri siswa dan menetapkan sejauh mana tingkat perubahan dalam diri siswa.

2. Stufflebeam et. al (1971)

Evaluasi merupakan proses menggambarkan, memperoleh dan menyajikan informasi untuk menilai alternative keputusan

3. Cronbach (1982)

Di dalam bukunya *design evaluator of educational and social program* telah memberikan uraian mengenai prinsip-prinsip dasar evaluasi sebagai berikut:

- a. Evaluasi program pendidikan merupakan kegiatan yang dapat membantu pemerintah dalam mencapai tujuannya.
- b. Evaluasi adalah suatu seni. Tidak ada satu pun evaluasi yang sempurna, walaupun dilakukan dengan tehnik yang berbeda.
- c. Evaluator seyogianya tidak memberikan jawaban terhadap suatu pernyataan khusus. Bukankah tugas seorang evaluator memberikan rekomendasi tentang kemamfaatan suatu program dan dilanjutkan atau tidak. Evaluator tidak dapat memberikan pertimbangan kepada pihak lain seperti halnya seorang pembimbing tidak dapat memilhkan karier seorang murid. Tugas evaluator hanya memberikan alternative.
- d. Tidak seorang pun berhak memberikan pertimbangan tentang di teruskan dan tidaknya suatu program.
- e. Evaluator tidak terikat pada suatu sekolah: sebaliknya suatu sekolah tidak terikat pada satu tim evaluasi
- f. Evaluasi merupakan suatu usaha proses terus menerus sehingga di dalam proses kegiatannya dimungkinkan untuk merevisi apabila dirasakan adanya suatu kesalahan.
- g. Di dalam kerjanya evaluator mungkin saja belum dapat dengan tajam merumuskan pertanyaan untuk menggali data. Baru dalam proses kegiatan yang terus menerus maka evaluator menjadi mantap memasuki dan menyelami permasalahan.
- h. Sebuah program pada umumnya tidak hanya menerapkan satu dua variabel. Seperti PPSP atau proyek pamong misalnya mencobakan beberapa treatment sekaligus
- i. Hendaknya evaluator menggunakan berbagai tehnik dan instrument sehingga mampu mengungkap bentuk aspek.

- j. Istilah evaluasi formatif dan sumatif merupakan dua istilah yang tepat untuk menjelaskan jenis evaluasi menurut fungsinya. Evaluasi sumatif dilakukan pada akhir semester pembelajaran dan evaluasi formatif dilakukan pada saat masih pengajaran.
- k. Gambaran analisis yang menunjuk pada kumpulan (kesatuan jumlah, rata-rata dan sebagainya). Akan lebih berarti dari data tunggal.
- l. Kesimpulan evaluasi hendaknya merupakan deskripsi yang jelas untuk menunjukkan hubungan sebab akibat tetapi tidak memberikan penilaian. Untuk memperkaya deskripsi, evaluator dapat mengajukan asumsi-asumsi yang di dukung oleh data data. (Daryanto, 2007: 1-4)

Evaluasi adalah proses memastikan bidang-bidang keputusan yang menjadi perhatian, memilih informasi yang tepat dan mengumpulkan dan menganalisis informasi untuk melaporkan data ringkasan yang berguna bagi para pembuat keputusan dalam memilih di antara alternatif (Philip Browning, 2010 :16).

Selain istilah evaluasi seperti yang tercantum dalam definisi di atas, kita dapati pula istilah pengukuran dan penilaian. Ketiga istilah tersebut cenderung diartikan sama. Padahal sebenarnya ketiga istilah tersebut tidak sama artinya, setidaknya tidaknya ada kaitan antara ketiga hal tersebut. Mengevaluasi merupakan melakukan pengukuran dan penilaian. Kita tidak dapat melakukan penilaian sebelum melakukan pengukuran.

1. Mengukur adalah membandingkan sesuatu dengan satu ukuran. Pengukuran bersifat kuantitatif.
2. Menilai adalah mengambil suatu keputusan terhadap sesuatu dengan ukuran baik buruk, penilaian bersifat kualitatif.



3. Melakukan evaluasi meliputi kedua langkah tersebut yaitu mengukur dan menilai (Daryanto, 2007:6).

Evaluasi dapat diartikan sebagai suatu proses penggambaran, pemerolehan dan penyediaan informasi yang berguna untuk penetapan alternative keputusan. Dalam batasan konstruk evaluasi seperti yang dikemukakan sufflebeam dan Guba itu, ada beberapa hal yang perlu mendapatkan perhatian, sebagai berikut:

1. Evaluasi dibangun dalam kerangka jasa untuk penyusunan keputusan yaitu penyediaan informasi yang berguna bagi pengambil keputusan.
2. Evaluasi itu suatu sirkel/siklus, suatu proses yang terus menerus dalam suatu program.
3. Proses evaluasi mencakup tiga langkah utama yaitu; (1) penggambaran informasi yang dibutuhkan dan perlu dikumpulkan, (2) pemerolehan, pengadaan dan pengumpulan informasi maupun penyediaan informasi; (3) pemberian makna pada informasi tersebut.

Dalam konteks pendapat Danile L. suflebeam dan kawan-kawan, maupun yang di tawarkan Gay dan yang ditwarkan Bloom di atas, konststruk assesmen berada di dalam konstruk evaluation. Namun dalam perkembangan yang dewasa ini terjadi perubahan dimana assesmen merupakan suatu proses pengumpulan informasi secara sistematis, pendokumentasian dan penggunaan informasi. Sedangkan evaluasi merupakan pemberian makna, nilai dan arti terhadap informasi yang dikumpulkan melalui assesmen, sehingga melahirkan keputusan nilai sebagaimana dinyatakan Arends (2001:195) berikut ini: *Evaluation is the process of making judgments, assign value, or deciding on he world of particular a program or approach or a students work* (Yusuf, Muri, 2015:20).

Perlu disadari bahwa evaluasi yang baik tidak dapat dilakukan tanpa pengukuran dan asesmen, karena pemberian makna hanya dimungkinkan berdasarkan data dan informasi yang dikumpulkan berdasarkan pengukuran dan asesmen. Selanjutnya bagaimana pula konsep pendidikan, pembelajaran, asesmen dan evaluasi dalam UU No. 20 tahun 2003 dan praturan pemerintah No.19 tahun 2005?

Dalam UU no. 20 tahun 2003 tentang system pendidikan nasional pada bab 1 pasal 1 dikemukakan:

- a. Pendidikan adalah usaha sadar dan terencana untuk mewujudkan suasana belajar dan proses pembelajaran agar peserta didik secara aktif mengembangkan potensi dirinya untuk memiliki kekuatan spiritual keagamaan, pengendalian diri, kepribadian, kecerdasan, akhlak mulia, serta keterampilan yang diperlukan dirinya, masyarakat, bangsa dan Negara.
- b. Pembelajaran suatu proses interaksi peserta didik dengan pendidik dan sumber belajar pada suatu lingkungan belajar.

1. Pada Bab XVI, pasal 57

Evaluasi dilakukan dalam rangka pengendalian mutu pendidikan secara nasional sebagai bentuk akuntabilitas penyelenggara pendidikan kepada pihak yang berkepentingan.

Evaluasi dilakukan terhadap peserta didik, lembaga dan program pendidikan pada jalur pendidikan formal dan nonformal untuk jenjang , satuan dan jenis pendidikan.

2. Pasal 58

Evaluasi belajar peserta didik dilakukan oleh pendidik untuk memantau proses, kemajuan dan perbaikan belajar peserta didik secara berkesinambungan.

Evaluasi peserta didik, satuan pendidikan dan program pendidikan dilakukan oleh lembaga mandiri secara berkala, menyeluruh, transparan dan sistematis untuk menilai pencapaian standar nasional pendidikan.

Adapun peraturan pemerintah no. 19 tahun 2005 tentang standar nasional pendidikan dikemukakan. Bab 1. Ketentuan umum pasal 1 point 17 dan 18

- a. Pasal 1 point 17, penilaian adalah proses pengumpulan data dan pengolahan informasi untuk mengukur pencapaian belajar peserta didik.
- b. Pasal 1 point 18, Evaluasi pendidikan adalah kegiatan pengendalian, penjaminan dan penetapan mutu pendidikan terhadap berbagai komponen pendidikan pada setiap jalur, jenjang dan jenis pendidikan sebagai bentuk pertanggung jawaban penyelenggara pendidikan

Berdasarkan kutipan tersebut, dapat dikatakan bahwa pendidikan lebih menekankan pada usaha sadar dan terencana dalam menciptakan suasana belajar dan proses pembelajaran, sedangkan pembelajaran lebih ditekankan pada proses interaksi antara peserta didik, pendidik dan sumber belajar dalam suatu lingkungan belajar. Kata “penilaian” yang digunakan dewasa ini lebih dekat pengertiannya pada *assessment*, bukan pada *evaluation*, sedangkan kata *evaluation*, diindonesiakan menjadi evaluasi, sebagai kegiatan pengendalian mutu pendidikan. Oleh karena itu, evaluasi pendidikan dapat diartikan sebagai kegiatan pemberian arti, nilai dan makna terhadap hasil asesmen dalam pendidikan atau pembelajaran sesuai dengan patokan, aturan dan standar yang telah ditetapkan (Yusuf, Muri, 2015:22-23).

Berikut ini adalah ayat yang menjelaskan tentang evaluasi yaitu Q.S Al-Qaf ayat 17-18 :

إِذْ يَتَلَقَّى الْمُتَلَقِّيَانِ عَنِ الْيَمِينِ وَعَنِ الشِّمَالِ قَعِيدٌ ۗ ۱۷ مَا يَلْفِظُ مِنْ قَوْلٍ إِلَّا لَدَيْهِ رَقِيبٌ عَتِيدٌ ۗ ۱۸

Artinya :

“(yaitu) ketika dua orang malaikat mencatat amal perbuatannya, seorang duduk di sebelah kanan dan yang lain duduk di sebelah kiri. Tiada suatu ucapanpun yang diucapkannya melainkan ada di dekatnya malaikat pengawas yang selalu hadir”

(Kementrian Agama RI, 2010, 450).

### ***B. Pengertian Assesmen***

Pada awalnya, istilah assesment banyak digunakan dalam bidang perencanaan dan penelitian. Umpama, untuk menentukan berapa jumlah sekolah dasar yang di butuhkan masyarakat, maka dilakukanlah need assessment. Sehubungan dengan itu, dikumpulkan data tentang: 1. Jumlah penduduk usia sekolah dasar; 2. Penduduk usia sekolah dasar yang sekolah; 3. Aspirasi masyarakat tentang pendidikan bersekolah di SD; 4. Social-ekonomi masyarakat. Dengan menggunakan bermacam macam instrument akan tersedia data yang sesungguhnya, autentik dan menyeluruh. Selanjutnya dengan menggunakan pola perencanaan tertentu akan dapat diketahui berapa jumlah sekolah yang dibutuhkan dalam kurun waktu tertentu (yusuf, A.Muri, 2015:11)

Penilaian berarti membuat suatu keputusan tentang sesuatu menggunakan ukuran baik dan buruk. Dengan demikian penilaian berarti hasil kegiatan menilai. Dalam dunia pendidikan penilaian diartikan sebagai kegiatan mengumpulkan informasi secara keseluruhan mengenai proses dan hasil belajar siswa dalam satu

periode. Ada tiga unsur pokok penilaian yaitu, ada standar yang dijadikan pembandingan, terdapat proses membandingkan antara hasil pengukuran dengan standar, hasil penilaian bersifat kualitatif (Baego Ishak dan Syamsudduha, 2010: 4).

Dalam pengukuran, pengumpulan informasi lebih menekankan pada data yang kuantitatif atau data yang dikuantitatifkan, sedangkan dalam assessment, kedua jenis data itu dapat dikumpulkan melalui berbagai jenis instrument assessment yang dapat dipilih untuk mengetahui tujuan yang akan dicapai. Oleh karena itu, assesmen (penilaian) dapat diartikan sebagai proses pengumpulan data dan informasi (termasuk di dalamnya pengolahan dan pendokumentasian) secara sistematis tentang suatu atribut, orang atau objek, baik data kualitatif maupun data kuantitatif tentang jumlah, keadaan, kemampuan atau kemajuan suatu atribut, objek atau individu yang dinilai, tanpa merujuk pada keputusan nilai (value judgement). Apabila bidang yang dinilai adalah kegiatan belajar dan pembelajaran, maka arah assesmen sebagai berikut:

1. Assesmen hendaklah menyertai semua komponen-komponen pembelajaran; dapat dilakukan di awal kegiatan, saat kegiatan pembelajaran berlangsung ataupun di akhir kegiatan pembelajaran.
2. Focus utama assesmen yaitu untuk mengetahui pencapaian dan kemajuan peserta didik dalam belajar serta memperbaiki proses pembelajaran dan kegiatan peserta didik dalam belajar.

3. Assesmen harus berfokus pada, menuntut perhatian kolektif,serta menciptakan hubungan, keterpatuan dan memperkaya koherensi kurikulum.
4. Perbedaan penekanan antara assesmen untuk memperbaiki dan assesmen untuk akuntabilitas harus dikelola dengan baik, sehingga menemukan titik temu yang saling menguntungkan (Yusuf, A.Muri, 2015:14-15).

Pengukuran, penilaian dan evaluasi merupakan suatu elemen yang berhubungan satu sama lain. Dimana pengukuran merupakan suatu proses membandingkan suatu objek ataubenda menggunakan ukuran standar, penilaian merupakan suatu proses menganalisis hasil kerja siswa yang dilakukan dengan cara melakukan pengukuran terlebih dahulu. Sedangkan evaluasi merupakan proses menafsirkan dan mengambil keputusan atas informasi yang diperoleh. Sehingga dapat disimpulkan bahwa evaluasi mengandung 2 aspek yaitu pengukuran dan penilaian (Syamsudduha, 2012: 5).

### ***C. Jenis-Jenis Tes dan Cara Untuk Menilai Tes***

Tes merupakan suatu teknik atau cara yang digunakan dalam rangka melakukan kegiatan pengukuran, yang di dalamnya terdapat berbagai pertanyaan, pernyataan, atau serangkaian tugas yang harus dikerjakan atau di jawab oleh peserta didik untuk mengukur aspek perilaku peserta didik. Dalam rumusan ini terdapat beberapa unsur penting. Pertama, tes merupakan suatu cara yang disusun secara sistematis dan digunakan dalam rangka pengukuran. Kedua, di dalam tes terdapat pertanyaan, pernyataan atau serangkaian tugas yang akan dikerjakan oleh

peserta didik. Ketiga, tes digunakan untuk mengukur aspek perilaku peserta didik.

Keempat hasil tes peserta didik perlu di nilai atau di skor (Arifin, 2013:118)

Jenis Tes hasil belajar yang digunakan untuk mengevaluasi hasil belajar dari peserta didik terbagi menjadi

1. Tes buatan guru dan tes baku
2. kelompok dan perseorangan
3. - tulisan : 1. Uraian, 2. Objektif
  - Lisan
  - Perbuatan
4. - tes kemampuan
  - Tes kecepatan
5. - Formatif
  - Sumatif
  - Diagnostik
  - Penempatan (Arifin, 2013:119).

Untuk melakukan penilaian terhadap tes yang akan digunakan, ada 4 cara untuk menilai tes, antara lain:

1. Cara pertama meneliti secara jujur soal-soal yang sudah di susun, kadang-kadang dapat diperoleh jawaban tentang ketidak jelasan perintah atau bahasa , taraf kesukaran dari soal tersebut. Pertanyaan-pertanyaan tersebut, antara lain:
  - a. Apakah banyaknya soal untuk tiap topic sudah seimbang?
  - b. Apakah semua soal sudah menanyakan bahan yang telah diajarkan?

- c. Apakah soal yang kita susun tidak merupakan pertanyaan yang membingungkan?
  - d. Apakah soal itu tidak sukar untuk dimengerti?
  - e. Apakah soal itu dapat dikerjakan sebagian besar siswa?
2. Cara kedua adalah melakukan analisis soal. Analisis soal adalah suatu procedural yang sistematis, yang akan memberikan informasi-informasi yang sangat khusus terhadap tes yang akan kita susun. Analisis soal terutama dapat dilakukan untuk tes objektif. Hal ini tidak berarti bahwa tes uraian tidak dapat dianalisis, akan tetapi dalam menganalisis soal uraian memang belum ada pedoman secara standar.
  3. Mengadakan checkin validitas. Validitas yang paling penting dari tes buatan guru adalah validitas kurikuler, kita harus merumuskan tujuan setiap bagian pelajaran secara khusus dan jelas sehingga setiap soal dapat kita jodohkan dengan setiap tujuan khusus tersebut.
  4. Mengadakan checking reliabilitas. Salah satu indicator untuk tes yang mempunyai realibilitas yang tinggi adalah bahwa kebanyakan dari soal-soal tes itu mempunyai daya pembeda yang tinggi (Arikunto, 2013:220-222).

#### ***D. Kedudukan dan Tujuan Evaluasi dalam Proses Pendidikan***

Dalam evaluasi selalu mengandung proses. Proses evaluasi harus tepat terhadap tipe tujuan yang dinyatakan dalam bahas perilaku. Dikarenakan tidak semua perilaku dapat dinyatakan dengan evaluasi yang sama, evaluasi menjadi sesuatu yang sulit dan menantang, yang harus disadari oleh para guru. Evaluasi



pendidikan mencakup semua komponen, prose pelaksanaan dan produk pendidikan secara total, dan di dalamnya terakomodasi tiga konsep yaitu memberikan pertimbangan, nilai dan arti (Ratna wulan, Elis dan Rusdiana, 2015:14)

Dengan demikian, evaluasi pendidikan dapat berupa hal-hal berikut ini.

a. Evaluasi input

Evaluasi input merupakan bahan mentah untuk dimasukkan ke dalam transformasi sekolah, salah satunya adalah calon siswa, dengan tujuan untuk mengetahui kemampuan (kemampuan sepadan: tes kemampuan), kepribadian (tingkah laku, berupa tes kepribadian), sikap (bagian dari tingkah laku manusia berupa tes skala sikap) dan intelegensi (tingkat intelegensi, berupa tes IQ). evaluasi input, seperti evaluasi terhadap peserta didik , pendidik, prasarana dan sarana, kurikulum/program, serta input lingkungan. Input pendidikan adalah segala sesuatu yang harus tersedia karena dibutuhkan untuk berlangsungnya proses.

1. Input sumber daya meliputi sumber daya manusia (kepala sekolah, guru karyawan dan siswa) dan sumber dayay (selebihnya (peralatan, perlengkapan, uang, bahan dan sebagainya).
2. Input perangkat lunak meliputi struktur organisasi di sekolah, peraturan perundan undangan, deskripsi tugas, rencana, program dan sebagainya.
3. Input harapan berupa visi, misi, tujuan, sarana dan sasaran yang ingin dicapai oleh sekolah.

Kesiapan input sangat diperlukan agar proses dapat berlangsung dengan baik. oleh karena itu, tinggi rendahnya mutu input dapat diukur dari tingkat kesiapan input. Semakin tinggi kesiapan input, semakin tinggi pula input tersebut.

b. Evaluasi proses

Evaluasi proses adalah evaluasi yang dilakukan terhadap proses atau kegiatan pembelajaran yang sedang berlangsung. Sesuatu yang berpengaruh terhadap berlangsungnya proses disebut input, sedangkan sesuatu dari hasil proses adalah output. Dalam pendidikan berskala mikro (di tingkat sekolah), proses yang dimaksud adalah proses pengambilan keputusan, proses pengelolaan kelembagaan, proses pengelolaan program, proses belajar mengajar, dan proses monitoring dan evaluasi, dengan catatan bahwa proses belajar memiliki tingkat kepentingan tertinggi dibandingkan dengan proses lainnya. evaluasi proses dikatakan bermutu tinggi apabila pengordinasian dan pepaduan input sekolah dilakukan secara harmonis, sehingga mampu menciptakan situasi pembelajaran yang menyenangkan, mampu mendorong motivasi dan minat belajar serta mampu memberdayakan peserta didik.

c. Evaluasi hasil atau produk

Evaluasi output merupakan bahan jadi yang dihasilkan oleh transformasi (siswa lulusan sekolah). Seberapa jauh tingkat pencapaian prestasi selama mengikuti program alat ukur test pencapaian. Output pendidikan adalah kinerja sekolah dapat diukur dari kualitasnya, efektivitasnya, produktivitasnya, inovasinya, kualitas kehidupan kerjanya, dan moral kerjanya. Khusus yang berkaitan dengan mutu output sekolah dikatakan berkualitas/bermutu tinggi jika prestasi sekolah

khususnya prestasi belajar siswa menunjukkan pencapaian yang tinggi dalam prestasi akademis, prestasi non akademis.

d. Evaluasi outcomes (dampak)

Evaluasi dampak menurut Rossi dan Freeman (1985) adalah sebuah evaluasi yang mengukur taraf atau tingkat ketercapaian sebuah program yang menyebabkan perubahan seseorang dalam kehidupan selanjutnya. Dalam bidang pendidikan evaluasi dampak dapat digunakan untuk mengukur tingkat keberhasilan suatu system atau proses pendidikan yang telah dilakukan oleh seseorang di dalam sekolah atau institusi tertentu yang lebih di titik beratkan pada tingkat keberhasilan outcome dalam masyarakat. Tingkat keberhasilan outcome ini mencakup berbagai hal, baik dari aspek perilaku maupun pengaplikasian ilmu yang di dapat ketika menjalani program pendidikan. Evaluasi ini diharapkan mampu meningkatkan akuntabilitas, sebagai pembelajaran yang dinamis, memberi kesempatan kepada pembuat keputusan untuk memperbaiki program pendidikan yang sedang berjalan dan pada akhirnya membantu pengalokasian dana yang lebih baik (Ratna wulan, Elis dan Rusdiana, 2015:14-16).

Evaluasi di sekolah meliputi banyak segi: calon siswa, lulusan dan proses pendidikan secara menyeluruh.

a. Mamfaat bagi siswa

Dengan diadakannya penilaian, maka siswa dapat mengetahui sejauh mana telah berhasil mengikuti pelajaran yang diberikan oleh guru. Hasil yang diperoleh ada dua kemungkinan yaitu:

1. Memuaskan

Jika siswa memperoleh hasil yang memuaskan dan hal itu menyenangkan, tentu kepuasan itu menyenangkan, tentu kepuasan itu ingin diperolehnya pada kesempatan lain waktu. Akibatnya, siswa akan mempunyai motivasi yang besar untuk belajar lebih giat agar lain kali mendapat hasil yang lebih memuaskan lagi

## 2. Tidak memuaskan

Jika siswa tidak puas dengan hasil yang diperoleh, ia akan berusaha agar lain kali keadaan itu tidak terulang lagi. Maka ia lalu belajar giat. Namun demikian, keadaan sebaliknya dapat terjadi. Ada beberapa siswa yang lemah kemauannya, akan putus asa dengan hasil kurang memuaskan yang telah diterimanya.

### b. Manfaat bagi guru

1. Dengan hasil penilaian yang diperoleh oleh guru akan dapat mengetahui siswa-siswa yang berhak melanjutkan pembelajarannya karena sudah berhasil menguasai bahan, maupun mengetahui siswa –siswa yang belum berhasil menguasai bahan. Dengan petunjuk ini guru bias lebih memusatkan perhatiannya kepada siswa yang belum berhasil. Apabila jika guru tahu akan sebab-sebabnya, ia akan memperhatikan secara teliti sehingga keberhasilan selanjutnya dapat diharapkan.
2. Guru akan mengetahui apakah materi yang diajarkan kepada siswa sudah tepat atau belum, sehingga apabila sudah tepat maka tidak perlu melakukan perubahan pada pembelajaran selajutnya.
3. Guru akan mengetahui apakah metode yang digunakan sudah tepat atau belum. Jika sebagian besar dari siswa memperoleh angka jelek pada

penilaian yang diadakan, mungkin hal ini diakibatkan oleh pendekatan atau metode yang di gunakan dalam mengajar kurang tepat. Apabila demikian halnya, maka guru harus mawas diri dan mencari metode lain yang bisa di gunakan dalam mengajar.

c. Manfaatnya bagi sekolah

1. Apabila guru-guru melakukan penilaian dan diketahui bagaimana hasil belajar dari siswa-siswanya, dapat diketahui pula apakah kondisi belajar yang diciptakan oleh sekolah sudah sesuai dengan harapan atau belum. Hasil belajar merupakan cerminan kualitas suatu sekolah.
2. Informasi tentang tepat tidaknya kurikulum untuk sekolah itu dapat merupakan menjadi bahan pertimbangan bagi perencanaan sekolah di masa-masa yang akan datang.
3. Informasi hasil penilaian yang diperoleh dari tahun ke tahun, dapat digunakan sebagai pedoman bagi sekolah, yang dilakukan oleh sekolah sudah memenuhi standar atau belum. Pemenuhan standar akan terlihat dari bagusnya angka-angka yang di peroleh siswa (Daryanto, 2007:9-11).

Tujuan utama dalam melakukan proses pembelajaran adalah untuk mendapatkan informasi yang akurat mengenai tingkat pencapaian tujuan instruksional oleh siswa sehingga dapat diupayakan tindak lanjutnya. Tindak lanjut termasuk merupakan fungsi evaluasi dan dapat berupa:

1. Penempatan pada tempat yang tepat
2. Pemberian umpan balik
3. Diagnosis kesulitan belajar siswa

#### 4. Penentuan kelulusan

Untuk masing masing tindak anjut yang dikehendaki ini diadakan tes, yang diberi nama:

1. Tes penempatan
2. Tes formatif
3. Tes diagnostik
4. Tes sumatif

Tugas seorang guru dalam kaitan dengan evaluasi di tingkat kelas lebih khusus ditujukan untuk memberi umpan balik, maka dalam paparan ini titik berat akan diletakkan pada tes formatif. Meskipun demikian, uraian singkat tentang pengertian tes penempatan, sumatif dan diagnostik juga diberikan di bawah ini

##### a. Tes penempatan

Tes jenis ini disajikan pada awal tahun pelajaran untuk mengukur kesiapan siswa dan mengetahui tingkat pengetahuan yang telah dicapai sehubungan dengan pelajaran untuk mengukur kesiapan siswa dan mengetahui tingkat pengetahuan yang telah dicapai sehubungan dengan pelajaran yang akan disajikan. Dengan demikian, siswa dapat ditempatkan pada kelompok yang sesuai dengan tingkatan pengetahuan yang dimiliki itu. Tentu saja hal ini tidak berlaku untuk sistem klasikal seperti yang dilaksanakan di Indonesia. Hanya dapat diterapkan pada sekolah yang menggunakan sistem individual. Tes ini biasanya disusun dengan ruang lingkup (*scope*) yang luas dan memiliki tingkat kesukaran yang bervariasi agar dapat meniadakan antara siswa yang telah dan yang belum menguasai pelajaran. Tes semacam ini dibuat dengan mengacu pada norma. Tes

yang mengacu pada norma itu disebut tes acuan norma dalam bahasa Inggris norma referenced test (Daryanto, 2007:12).

b. Tes formatif

Tes jenis ini disajikan di tengah program pengajaran untuk memantau (memonitor) kemajuan belajar siswa dengan memberikan umpan balik, baik kepada siswa maupun kepada guru. Berdasarkan hasil tes itu guru dan siswa dapat mengetahui apa yang masih perlu untuk dijelaskan kembali agar materi pelajaran dapat dikuasai lebih baik. Siswa dapat mengetahui bagian mana dan bahan pelajaran yang masih belum dikuasainya agar dapat mengupayakan perbaikannya. Guru dapat melihat bagian mana yang umumnya belum dikuasai siswa sehingga dapat mengupayakan penjelasan yang lebih baik dan luas agar bahan tersebut dapat dikuasai siswa. Tes formatif umumnya mengacu pada kriteria. Karena itu disebut tes acuan kriteria atau dalam bahasa Inggris criterion of referenced test. Dalam tes yang mengacu kepada kriteria dibuatkan tugas-tugas berupa tujuan instruksional yang harus dicapai siswa untuk dapat dikatakan berhasil dalam belajarnya. Tugas-tugas itu merupakan kriteria yang dipakai untuk menilai apakah siswa berhasil atau tidak dalam pelajarannya (Daryanto, 2007:12-13).

c. Tes sumatif

Tes jenis ini biasanya diberikan pada akhir tahun ajaran atau akhir suatu jenjang pendidikan meskipun maknanya telah diperluas untuk dipakai pada tes akhir caturwulan atau semester, dan bahkan pada tes akhir pokok bahasan. Dalam maknanya sebagai tes akhir tahun ajaran atau akhir suatu jenjang pendidikan maka tes ini dimaksudkan untuk memberikan nilai yang menjadi dasar

menentukan kelulusan dan atau pemberian sertifikat bagi yang telah menyelesaikan pelajaran dengan berhasil baik. Karena tes ini umumnya merupakan tes akhir tahun atau tes akhir jenjang pendidikan maka ruang lingkupnya pun sangat luas, meliputi seluruh bahan yang telah disajikan sepanjang tahun atau sepanjang jenjang pendidikan. Tingkat kesukaran soalnya pun bervariasi (Daryanto, 2007:14).

#### ***E. Tes Diagnostik***

Tes jenis ini bertujuan mendiagnosis kesulitan belajar siswa untuk mengupayakan perbaikannya. Sepintas lalu tampaknya seperti tes formatif, namun penyusunannya sangat berbeda dengan tes formatif atau jenis tes lainnya. Karena tujuannya adalah untuk mendiagnosis kesulitan belajar siswa, maka harus terlebih dahulu diketahui bagian mana dan pengajaran yang memberikan kesulitan belajar pada siswa. Berarti harus terlebih dahulu disajikan tes formatif untuk mengetahui ada tidaknya bagian yang belum dikuasai siswa. Baru setelah diketahui bagian mana yang belum diketahui siswa, dapat dibuat butir-butir soal yang lebih memusatkan pada bagian itu sehingga dapat dipakai untuk mendeteksi bagian-bagian mana dan pokok bahasan atau subpokok bahasan yang belum dikuasai. Untuk tiap unit dalam pokok bahasan atau sub pokok bahasan yang belum dikuasai itu dibuatkan beberapa soal yang tingkat kesukarannya relative rendah. Tujuannya adalah agar dapat diperoleh Informasi bahwa unit tertentu belum dikuasai sehingga soalnya tidak dapat dijawab meskipun soal-soal itu umumnya mudah. Atas dasar informasi seperti ini dapat mengupayakan perbaikannya (Daryanto, 2007:13-14).



Seorang guru yang baik tentu akan merasa bahagia apabila dapat membantu siswanya sehingga dapat mencapai kemajuan secara maksimal sesuai dengan kemampuan yang dimiliki. Dengan tes diagnostik akan digunakan sebagai bahan pertimbangan untuk tindakan selanjutnya. Seperti halnya kerja seorang dokter, sebelum menentukan obat dokter memeriksa pasien untuk mengetahui gejala-gejala yang dialami pasien untuk menjadi pertimbangan dalam pemberian obat. Jika disejajarkan antara pekerjaan dokter dan guru, maka akan terlihat sebagai berikut:

**Tabel 2.1 : Tes Diagnostik Guru dan Dokter**

Guru	Dokter
Tes diagnostic	Diagnosis
↓	↓
Bantuan	Terapi

a. Definisi tes diagnostik

Tes diagnostik adalah tes yang digunakan untuk mengetahui kelemahan-kelemahan siswa sehingga dari kelemahan-kelemahan itulah siswa dapat diberikan perlakuan yang tepat (Arikunto, 2010:33-34)

Diagnosis merupakan suatu istilah yang diadopsi dari bidang medis. Menurut Thorndike dan Hagen, diagnosis dapat diartikan sebagai:

1. Upaya atau proses menemukan kelemahan atau penyakit (*weakness, disease*) apa yang dialami seseorang dengan melalui pengujian dan studi yang seksama mengenai gejala-gejalanya (*symptoms*);
2. Studi yang seksama terhadap fakta tentang suatu hal untuk menemukan karakteristik atau kesalahan-kesalahan dan sebagainya yang esensial;
3. Keputusan yang dicapai setelah dilakukan suatu studi yang seksama atas gejala-gejala atau fakta tentang suatu hal.

Diagnosis adalah proses yang kompleks dalam suatu usaha untuk menarik kesimpulan dari hasil-hasil pemeriksaan gejala-gejala, perkiraan penyebab, pengamatan dan penyesuaian dengan kategori secara baik. Dalam bidang pendidikan diagnosis merupakan keputusan yang diambil setelah dilakukan analisis dari suatu pengolahan data. Diagnosis dapat berupa keputusan mengenai kesulitan belajar yang dialami siswa, keputusan mengenai faktor-faktor yang menjadi sumber penyebab kesulitan belajar siswa, dan keputusan mengenai faktor utama penyebab kesulitan belajar siswa. Sedangkan tes diagnostik itu sendiri adalah tes yang digunakan untuk menilai pemahaman konsep yang dimiliki siswa, terutama kelemahan (miskonsepsi) yang dialami siswa terhadap suatu konsep tertentu dan mendapatkan masukan tentang respon siswa untuk memperbaiki kelemahannya tersebut. Tes diagnosis berguna untuk mengetahui kesulitan belajar yang dihadapi siswa, termasuk kesalahan pemahaman konsep. Bagi guru tes diagnostik ini berfungsi untuk mengidentifikasi miskonsepsi yang terjadi pada siswa. Sedangkan bagi siswa, berfungsi untuk memotivasi siswa

untuk memperoleh jawaban yang benar setelah melakukan tes diagnostik tersebut (Sri Rahayu, 2015:20-21).

b. Fungsi tes diagnostik

Adapun fungsi tes diagnostik yang digunakan pada evaluasi hasil belajar dari peserta didik antara lain:

1. Mengidentifikasi kesulitan atau masalah yang dialami siswa
2. Merencanakan upaya untuk menindak lanjuti masalah yang dialami siswa

(Sri Rahayu, 2015: 24).

Istilah diagnosis biasanya digunakan dalam bidang kedokteran yang berarti penetapan penyakit setelah mengenal tanda-tandanya (Drs. Lukman Hakim, t.t. : 99). Hasil evaluasi pendidikan dapat dijadikan alat diagnosis karena menunjukkan kelemahan-kelemahan maupun kekuatan peserta didik. Kelemahan-kelemahan dimaksud dapat berupa nilai tes/ujian yang rendah. Informasi tersebut menunjukkan adanya kesulitan belajar peserta didik dan dapat digunakan untuk menelusuri kesulitan-kesulitan belajar yang dimaksud melalui komunikasi dengan peserta didik (Baego Ishak dan Syamsudduha, 2010: 23).

Pengetahuan tentang kesulitan belajar dari peserta didik dapat digunakan sebagai titik tolak dalam menyusun perencanaan kegiatan belajar mengajar yang dapat menunjang tercapainya kesuksesan dalam kegiatan belajar peserta didik. Dari pihak peserta didik dengan mengetahui hasil-hasil belajarnya, terutama bagi peserta didik yang sukses. Begitu pula bagi peserta didik yang kurang sukses pada ujian terdahulu, peserta didik yang baik dalam arti memiliki kesadaran dan

tanggung jawab akan meningkatkan belajarnya agar dapat memperoleh nilai yang baik pada ujian berikutnya (Baego Ishak dan Syamsudduha, 2010: 23).

Tes diagnostik yang diberikan bertujuan untuk memberikan gambaran kemampuan dasar Fisika dan untuk mengetahui kelemahan-kelemahan mahasiswa pada program studi pendidikan Fisika angkatan 2018. Kemampuan dasar yang diukur disini yaitu pokok-pokok materi yang merupakan pembelajaran awal Fisika pada semester satu yang telah dipelajari pada jenjang SMA sederajat. Sesuai dengan fungsi tes diagnostik, tes ini biasa dilakukan apabila sebagian besar peserta didik gagal dalam mengikuti proses pembelajaran pada mata pelajaran tertentu. Hasil dari tes diagnostik akan memberi informasi tentang konsep konsep yang telah dipahami dan yang belum dipahami siswa, karena itu tes ini berisi materi yang dirasa sulit oleh peserta didik, namun tingkat kesulitannya cenderung rendah. Tes diagnostik memiliki fokus pengukuran untuk memperbaiki kesulitan belajar yang dialami peserta didik (Sitti Mania, 2012: 52).

c. Karakteristik tes diagnostik

Tes diagnostik memiliki beberapa karakteristik sebagai berikut:

1. Dirancang untuk mendeteksi kesulitan belajar siswa, karena itu format dan respons yang dijangkau harus didesain memiliki fungsi diagnostik
2. Dikembangkan berdasar analisis terhadap sumber-sumber kesalahan atau kesulitan yang mungkin menjadi penyebab munculnya masalah (penyakit) siswa
3. Menggunakan soal-soal bentuk uraian atau jawaban singkat, sehingga mampu menangkap informasi secara lengkap. Bila ada alasan tertentu

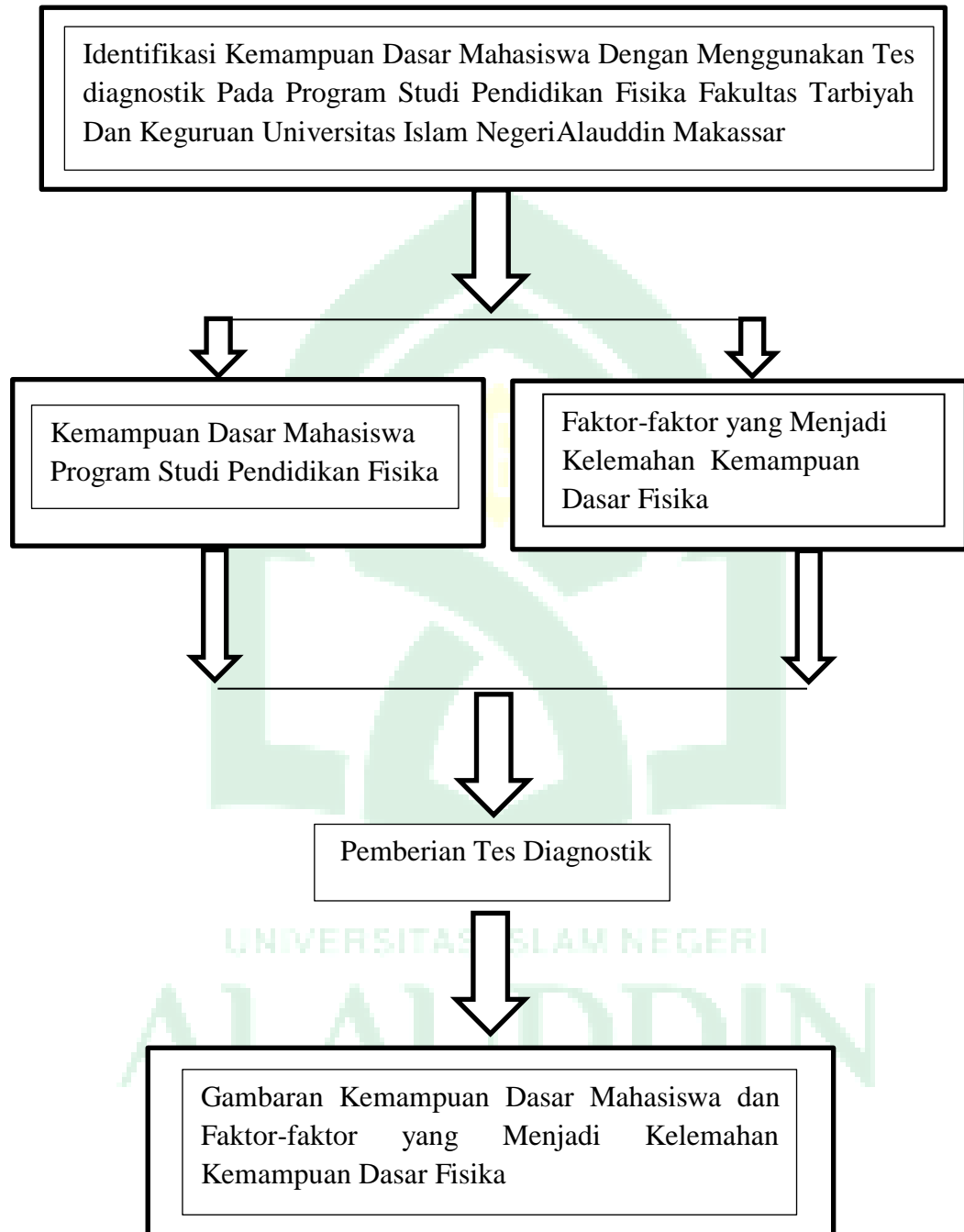
sehingga menggunakan bentuk selected response (misalnya bentuk pilihan ganda), harus disertakan penjelasan mengapa memilih jawaban tertentu sehingga dapat meminimalisir jawaban tebakan, dan dapat ditentukan tipe kesalahan atau masalahnya

4. Disertai rancangan tindak lanjut (pengobatan) sesuai dengan kesulitan (penyakit) yang teridentifikasi (Sri Rahayu, 2015: 24).

Tes diagnostik merupakan tes dengan sifat sampel dengan kesalahan terbatas, tingkat kesulitan dan kesukaran relatif rendah, waktu pelaksanaannya sewaktu-waktu bergantung pada program pembelajaran dan kegunaan dari tes diagnostik cenderung sebagai remedial yang berkaitan dengan kesulitan belajar. Sesuai dengan sifat dari tes diagnostik, tes jenis ini sangat bagus digunakan sebagai alat ukur untuk memberikan gambaran kemampuan dasar Fisika sebagai rujukan untuk melakukan pembenahan pada kualitas kemampuan Fisika khususnya pada program studi pendidikan Fisika (Sitti Mania, 2012: 52-53).

#### ***F. Kerangka Pikir***

Evaluasi pembelajaran dapat dilakukan dengan menggunakan berbagai macam tes sesuai dengan fungsi dan kegunaannya. Salah satunya yaitu tes diagnostik yang digunakan dalam penelitian ini. Tes diagnostik diberikan untuk memperoleh gambaran kemampuan dasar Fisika dan untuk mengetahui faktor-faktor yang menjadi kelemahan pada kemampuan dasar Fisika. Untuk lebih jelas kerangka pikir dari penelitian ini disajikan pada bagan berikut:



Bagan 2.1: Bagan Kerangka Pikir Penelitian

## **BAB III**

### **METODOLOGI PENELITIAN**

#### ***A. Jenis dan Lokasi Penelitian***

##### **1. Jenis Penelitian**

Penelitian ini merupakan jenis penelitian deskriptif. Merupakan metode penelitian yang benar-benar hanya mendeskripsikan apa yang terdapat dan apa yang terdapat dan apa yang terjadi di lapangan atau wilayah tertentu. Data yang diperoleh diklasifikasikan atau dikelompokkan menurut jenis, kondisi dan sifatnya. Setelah datanya lengkap kemudian dibuatkan kesimpulan (Arikunto, 2012: 4).

Data pada penelitian ini diperoleh data kuantitatif dari hasil pemberian tes diagnostik. Hasil dari tes diagnostik akan memberikan gambaran mengenai seberapa besar persentase mahasiswa yang mengalami masalah pengetahuan awal pada fisika dasarnya yang melingkupi fisika dasar.

##### **2. Lokasi Penelitian**

Penelitian dilaksanakan di Universitas Islam Negeri UIN Alauddin Makassar pada Fakultas Tarbiyah dan Keguruan, jurusan pendidikan Fisika semester 1 beralamat di Samata Kabupaten Gowa.

#### ***B. Desain Penelitian***

Desain penelitian yang digunakan percobaan ini adalah analisis isi, dimana penelitian ini dilakukan penelitian pada siswa yang telah lulus jenjang SMA dan lanjut di perguruan tinggi yang memasuki jurusan pendidikan fisika dan telah menempuh pembelajaran Fisika Dasar. Pada penelitian ini data akan diperoleh

dengan memberikan tes diagnostik dan akan diperoleh data dalam bentuk angka-angka yang akan menggambarkan seberapa besar masalah yang dialami mahasiswa semester 1 program studi pendidikan Fisika. Dengan begitu, akan dapat diketahui seberapa jauh kesiapan mahasiswa tersebut bisa melanjutkan ke jenjang pelajaran Fisika yang lebih rumit. Selain itu, dengan adanya data yang diperoleh dari tes diagnsostik yang diberikan akan memberikan gambaran mengenai hal-hal apa saja yang masih kurang dipahami dan menjadi kendala pada kemampuan dasar Fisika yang dialami oleh mahasiswa. Data-data yang diperoleh akan disajikan dalam bentuk diagram untuk menggambarkan persentase siswa yang mengalami masalah pada kemampuan dasar Fisika.

### ***C. Subjek Penelitian***

Subjek penelitian merupakan obyek yang akan diteliti yang ditentukan oleh peneliti untuk menarik kesimpulan. Subjek penelitian pada penelitian ini yaitu mahasiswa baru pendidikan fisika yang telah belajar Fisika Dasar 1. Jumlah mahasiswa baru pendidkan fisika yang mengikuti tes kemampuan dasar Fisika yaitu 65 orang mahasiswa pendidikan Fisika angkatan 2018 yang terdiri dari 23 mahasiswa laki-laki dan 42 mahasiswa perempuan.

### ***D. Teknik Pengumpulan Data***

Salah satu alat untuk mengumpulkan data dalam penelitian yaitu berupa tes. Tes adalah alat pengukuran berupa pertanyaan, perintah dan petunjuk yang ditujukan kepada objek penelitian untuk mendapatkan respon sesuai dengan petunjuk. Atas dasar respon tersebut dapat ditentukan tinggi rendahnya skor dalam bentuk kuantitatif yang selanjutnya dibandingkan dengan standar yang telah ditentukan yang kemudian dipaparkan untuk memberikan gambaran titik



permasalahan yang dialami dalam pengetahuan awal pada fisika dasar (Toha, 2003:43-44).

Tes yang digunakan pada penelitian ini yaitu tes diagnostik, dimana hasil pengskoran akan menunjukkan seberapa besar masalah yang dialami mahasiswa pendidikan fisika semester 1 angkatan 2018 khususnya pada pengetahuan awalnya pada fisika dasar. Tes diagnostik yang digunakan pada penelitian ini yaitu tes diagnostik dalam bentuk pilihan ganda yang berjumlah 25 nomor.

Penskoran yang digunakan untuk memperoleh nilai dari hasil tes diagnostik yaitu penskoran tanpa koreksi, yaitu penskoran dengan cara setiap butir soal yang dijawab benar mendapat nilai satu. Skor peserta didik diperoleh dengan menghitung banyaknya butir soal yang dijawab benar. Rumus yang digunakan yaitu:

$$S = \frac{B}{N} \times 100$$

Dengan:

B = jumlah jawaban benar

N = jumlah soal

(Zainal Arifin, 2013: 229).

Pada penelitian ini, dilakukan dengan 3 tahap, yaitu tahap persiapan, pelaksanaan dan pengumpulan data.

#### 1. Tahap Persiapan

Pada tahap ini yang dilakukan adalah menyiapkan surat izin penelitian dari pihak jurusan untuk meneliti di mahasiswa semester 1 program studi pendidikan

Fisika, menyiapkan instrument penelitian berupa tes Diagnostik dengan melakukan validasi instrument dengan validator.

## 2. Tahap Pelaksanaan

Melakukan tes terhadap mahasiswa semester 1 program studi pendidikan Fisika sebanyak 1 kali dengan menggunakan tes diagnostik. Tes diagnostik yang diberikan mencakup semua materi pada fisika dasar sebagai kemampuan dasar yang harus dikuasai sebelum lanjut ke pembelajaran fisika pada jenjang selanjutnya.

## 3. Tahap Pengumpulan Data

Kegiatan yang dilakukan pada tahap ini adalah mengumpulkan data dari lapangan (objek penelitian) untuk diolah, dianalisis, dan disimpulkan. Dalam hal ini, teknik pengumpulan data dari penelitian ini dilakukan dengan cara mengambil data yang diperoleh melalui tes Diagnostik untuk mengetahui kemampuan dasar Fisika mahasiswa program pendidikan Fisika semester 1.

### ***E. Instrumen Penelitian***

Instrumen yang digunakan pada penelitian ini adalah tes Diagnostik, dimana tes ini merupakan tes untuk mendiagnosa kelemahan-kelemahan mahasiswa khususnya pada kemampuan dasar Fisika. Uji validasi yang dilakukan pada penelitian ini adalah validasi isi. Validasi isi bertujuan untuk mengetahui seberapa jauh instrumen mampu mengukur objek yang diteliti. Berdasarkan jenis validasi ini, maka instrumen yang telah dibuat oleh peneliti akan diperiksa dan diberikan skor oleh dua orang pakar. Skor-skor tersebut kemudian diolah dan

dianalisis dengan uji *gregory* untuk mengetahui seberapa mampu instrumen menelaah soal berpikir tingkat tinggi dan reliabilitas instrumen.

Instrumen telaah soal tes diagnostik yang telah disusun oleh peneliti akan divalidasi oleh dua orang pakar, dengan kriteria kevalidan sebagai berikut:

**Tabel 3.1**

**Kriteria kevalidan**

No.	Skor Validator	Tingkat Kevalidan
1.	1	Relevansi rendah (tidak valid)
2.	2	Relevansi cukup (kurang valid)
3.	3	Relevansi (valid)
4.	4	Sangat relevansi (sangat valid)

Uji validasi menggunakan uji *gregory*, yaitu :

$$R = \frac{D}{A + B + C + D}$$

Keterangan :

R : Validitas hitung

A : Relevansi lemah-lemah, jika validator 1 memberikan skor = 1 dan validator 2 = 1.

B : Relevansi kuat-lemah, jika validator 1 memberikan skor = 3 atau 4 dan validator 2 = 1 atau 2.

C : Relevansi lemah-kuat, jika validator 1 memberikan skor = 1 atau 2 dan validator 2 = 3 atau 4.

D : Relevansi kuat-kuat, jika validator 1 memberikan skor = 3 atau 4 dan validator 2 = 3 atau 4.

Dengan kriteria

0,80 – 1,00 : validasi sangat tinggi.

0,60 – 0,79 : validasi tinggi.

0,40 – 0,59 : validasi sedang.

0,20 – 0,39 : validasi rendah.

0,00 – 0,19 : validasi sangat rendah (Retnawati, 2016: 40).

Instrumen yang divalidasi dalam penelitian ini adalah instrumen tes diagnostik kemampuan dasar fisika. Tes diagnostik yang digunakan untuk mengukur kemampuan dasar fisika terdiri dari 25 butir soal pilihan ganda serta terdiri dari lima pilihan jawaban yaitu a, b, c, d, dan e. Dimana setiap soal merupakan sebaran dari semua materi fisika dasar. Adapun beberapa aspek yang diukur pada ranah kognitif yaitu pengetahuan (C1), pemahaman (C2), aplikasi (C3), dan analisis (C4). Pada tes diagnostik ini, dari 25 soal terbagi dalam 3 nomor C1, 4 nomor C2, 11 nomor C3 dan 7 nomor C4. Instrumen tes diagnostik tersebut telah divalidasi oleh 2 orang pakar yaitu

**Tabel 3.2 : Nama-Nama Validator Tes Diagnostik**

No	Nama Validator	Jabatan
1	Ali Umar Dani, M.P.fis	Dosen Fismat
2	Sudirman, M.Ed	Dosen Ahli

Pengujian validasi instrument dilakukan dengan menggunakan uji Geogory yaitu uji kesepahaman antar 2 pakar dimana jika validator pertama, memberikan skor 3 atau 4 dan validator kedua memberikan skor 3 atau 4 maka instrument dinyatakan sangat valid. Hasil penilaian validator setiap butir soal sebagai berikut:

**Tabel 3.3:** Validasi Tes Diagnostik

No Butir Soal	Nilai Validator		Keterangan Penilaian	
	Ahli 1	Ahli 2	Ahli 1	Ahli 2
1	4	4	Kuat	Kuat
2	4	4	Kuat	Kuat
3	3	4	Kuat	Kuat
4	4	4	Kuat	Kuat
5	4	4	Kuat	Kuat
6	4	4	Kuat	Kuat
7	3	4	Kuat	Kuat
8	4	4	Kuat	Kuat
9	4	4	Kuat	Kuat
10	4	4	Kuat	Kuat
11	4	4	Kuat	Kuat
12	4	4	Kuat	Kuat
13	4	4	Kuat	Kuat
14	4	4	Kuat	Kuat
15	4	4	Kuat	Kuat
16	4	4	Kuat	Kuat
17	4	4	Kuat	Kuat
18	4	4	Kuat	Kuat
19	4	4	Kuat	Kuat
20	4	4	Kuat	Kuat
21	4	4	Kuat	Kuat
22	4	4	Kuat	Kuat
23	4	4	Kuat	Kuat
24	4	4	Kuat	Kuat
25	4	4	Kuat	Kuat

Berdasarkan hasil analisis dengan uji Gregori diperoleh setiap butir soal berada pada relevansi sangat valid. Dengan demikian, dapat disimpulkan bahwa instrumen tes diagnostik tersebut sudah valid dan dapat digunakan dalam mengukur kemampuan dasar fisika mahasiswa baru pendidikan Fisika angkatan 2018. Sedangkan pengujian instrument penelitian yang dilakukan dengan

menggunakan uji gregori sehingga diperoleh nilai validasi hitung sebesar 1,00. Karena  $v$  hitung lebih besar dari 0,75 maka dapat dikatakan bahwa instrumen tes diagnostik kemampuan dasar fisika sangat valid dan dapat digunakan.

#### ***F. Teknik Analisis Data***

Data yang diperoleh berupa angka dari hasil pemberian tes diagnostik akan dideskripsikan. Pada data statistic deskriptif kuantitatif dijelaskan mengenai *mean*, *standar deviasi*, *varians*, *kategorisasi*, *diagram batang*.

- a. Mean adalah rata-rata skor yang diperoleh dengan menjumlah semua skor yang diperoleh dari mahasiswa, selanjutnya hasil dari penjumlahan skor yang diperoleh dari semua mahasiswa semester satu dibagi dengan jumlah mahasiswa yang mendapatkan skor atau jumlah keseluruhan yang mengikuti tes.

$$\bar{x} = \frac{\sum xi}{n}$$

dengan :

$\bar{x}$  : Skor rata-rata

$xi$  : Nilai ujian

$n$  : Jumlah sampel

(Sudjana, 1992:93)

- b. Standar deviasi

$$s = \sqrt{\frac{\sum(xi-x)^2}{n-1}}$$

dengan :

$s$  : Nilai standar deviasi

$xi$  : Nilai ujian

$x$  : Nilai rata-rata

$n$  : Jumlah sampel

(Sudjana, 1992:93)

c. Varians

$$s^2 = \frac{\sum(x_i - \bar{x})^2}{(n - 1)}$$

Keterangan:

$s^2$  : varians sampel

n : jumlah sampel

(Sugiyono, 2016:57)

d. Kategorisasi

**Table 3.4** Konversi Nilai Bidang Studi Program s1

Rentang nilai	Kategorisasi	Huruf	Nilai
86 – 100	Sangat Tinggi	A	4
76 – 85	Tinggi	B	3
66 – 75	Sedang	C	2
56 -65	Sanga Rendah	D	1
0 – 55	Rendah	E	0

( Pedoman edukasi UIN, 2016:41)

e. Diagram Batang

Hasil dari pemberian tes diagnostik akan disajikan dalam bentuk diagram batang. Dimana pada diagram inilah akan terlihat berapa persen mahasiswa yang masih kurang paham dengan materi fisika dasar serta akan dipaparkan persentase materi yang sudah dikuasai dan materi yang mayoritas mahasiswa kurang pahami. Dengan begitu akan mudah untuk mendapatkan solusi dan menentukan strategi mengajar oleh dosen setelah melihat hasil penelitian ini.

Adapun tahapan dalam penyajian data dalam bentuk diagram batang yaitu membuat tabel distribusi frekuensi dari hasil data yang telah dianalisis, selanjutnya menentukan sumbu X dan Y pada penyajian diagram batang, dimana pada sumbu X menyatakan jumlah mahasiswa dan sumbu Y menyatakan

kategorisasi dan persentase. Setelah menentukan sumbu X dan sumbu Y dilanjutkan dengan pembuatan skala pada kedua sumbu dimana setiap skala pada sumbu Y maupun X harus sama. Namun skala pada sumbu X dan Y tidak diharuskan memiliki skala yang sama. Pada tahap penyelesaian, menggambarkan balok atau batang sesuai dengan table distribusi frekuensi secara terpisah dengan lebar balok ataupun batang yang sama.





## BAB IV

### METODOLOGI PENELITIAN

#### *G. Jenis dan Lokasi Penelitian*

##### **3. Jenis Penelitian**

Penelitian ini merupakan jenis penelitian deskriptif. Merupakan metode penelitian yang benar-benar hanya mendeskripsikan apa yang terdapat dan apa yang terdapat dan apa yang terjadi di lapangan atau wilayah tertentu. Data yang diperoleh diklasifikasikan atau dikelompokkan menurut jenis, kondisi dan sifatnya. Setelah datanya lengkap kemudian dibuatkan kesimpulan (Arikunto, 2012: 4).

Data pada penelitian ini diperoleh data kuantitatif dari hasil pemberian tes diagnostik. Hasil dari tes diagnostik akan memberikan gambaran mengenai seberapa besar persentase mahasiswa yang mengalami masalah pengetahuan awal pada fisika dasarnya yang melingkupi fisika dasar.

##### **4. Lokasi Penelitian**

Penelitian dilaksanakan di Universitas Islam Negeri UIN Alauddin Makassar pada Fakultas Tarbiyah dan Keguruan, jurusan pendidikan Fisika semester 1 beralamat di Samata Kabupaten Gowa.

#### *H. Desain Penelitian*

Desain penelitian yang digunakan percobaan ini adalah analisis isi, dimana penelitian ini dilakukan penelitian pada siswa yang telah lulus jenjang SMA dan lanjut di perguruan tinggi yang memasuki jurusan pendidikan fisika dan telah menempuh pembelajaran Fisika Dasar. Pada penelitian ini data akan diperoleh

dengan memberikan tes diagnostik dan akan diperoleh data dalam bentuk angka-angka yang akan menggambarkan seberapa besar masalah yang dialami mahasiswa semester 1 program studi pendidikan Fisika. Dengan begitu, akan dapat diketahui seberapa jauh kesiapan mahasiswa tersebut bisa melanjutkan ke jenjang pelajaran Fisika yang lebih rumit. Selain itu, dengan adanya data yang diperoleh dari tes diagnsostik yang diberikan akan memberikan gambaran mengenai hal-hal apa saja yang masih kurang dipahami dan menjadi kendala pada kemampuan dasar Fisika yang dialami oleh mahasiswa. Data-data yang diperoleh akan disajikan dalam bentuk diagram untuk menggambarkan persentase siswa yang mengalami masalah pada kemampuan dasar Fisika.

#### ***I. Subjek Penelitian***

Subjek penelitian merupakan obyek yang akan diteliti yang ditentukan oleh peneliti untuk menarik kesimpulan. Subjek penelitian pada penelitian ini yaitu mahasiswa baru pendidikan fisika yang telah belajar Fisika Dasar 1. Jumlah mahasiswa baru pendidkan fisika yang mengikuti tes kemampuan dasar Fisika yaitu 65 orang mahasiswa pendidikan Fisika angkatan 2018 yang terdiri dari 23 mahasiswa laki-laki dan 42 mahasiswa perempuan.

#### ***J. Teknik Pengumpulan Data***

Salah satu alat untuk mengumpulkan data dalam penelitian yaitu berupa tes. Tes adalah alat pengukuran berupa pertanyaan, perintah dan petunjuk yang ditujukan kepada objek penelitian untuk mendapatkan respon sesuai dengan petunjuk. Atas dasar respon tersebut dapat ditentukan tinggi rendahnya skor dalam bentuk kuantitatif yang selanjutnya dibandingkan dengan standar yang telah ditentukan yang kemudian dipaparkan untuk memberikan gambaran titik

permasalahan yang dialami dalam pengetahuan awal pada fisika dasar (Toha, 2003:43-44).

Tes yang digunakan pada penelitian ini yaitu tes diagnostik, dimana hasil pengskoran akan menunjukkan seberapa besar masalah yang dialami mahasiswa pendidikan fisika semester 1 angkatan 2018 khususnya pada pengetahuan awalnya pada fisika dasar. Tes diagnostik yang digunakan pada penelitian ini yaitu tes diagnostik dalam bentuk pilihan ganda yang berjumlah 25 nomor.

Penskoran yang digunakan untuk memperoleh nilai dari hasil tes diagnostik yaitu penskoran tanpa koreksi, yaitu penskoran dengan cara setiap butir soal yang dijawab benar mendapat nilai satu. Skor peserta didik diperoleh dengan menghitung banyaknya butir soal yang dijawab benar. Rumus yang digunakan yaitu:

$$S = \frac{B}{N} \times 100$$

Dengan:

B = jumlah jawaban benar

N = jumlah soal

(Zainal Arifin, 2013: 229).

Pada penelitian ini, dilakukan dengan 3 tahap, yaitu tahap persiapan, pelaksanaan dan pengumpulan data.

#### 4. Tahap Persiapan

Pada tahap ini yang dilakukan adalah menyiapkan surat izin penelitian dari pihak jurusan untuk meneliti di mahasiswa semester 1 program studi pendidikan

Fisika, menyiapkan instrument penelitian berupa tes Diagnostik dengan melakukan validasi instrument dengan validator.

#### 5. Tahap Pelaksanaan

Melakukan tes terhadap mahasiswa semester 1 program studi pendidikan Fisika sebanyak 1 kali dengan menggunakan tes diagnostik. Tes diagnostik yang diberikan mencakup semua materi pada fisika dasar sebagai kemampuan dasar yang harus dikuasai sebelum lanjut ke pembelajaran fisika pada jenjang selanjutnya.

#### 6. Tahap Pengumpulan Data

Kegiatan yang dilakukan pada tahap ini adalah mengumpulkan data dari lapangan (objek penelitian) untuk diolah, dianalisis, dan disimpulkan. Dalam hal ini, teknik pengumpulan data dari penelitian ini dilakukan dengan cara mengambil data yang diperoleh melalui tes Diagnostik untuk mengetahui kemampuan dasar Fisika mahasiswa program pendidikan Fisika semester 1.

#### ***K. Instrumen Penelitian***

Instrumen yang digunakan pada penelitian ini adalah tes Diagnostik, dimana tes ini merupakan tes untuk mendiagnosa kelemahan-kelemahan mahasiswa khususnya pada kemampuan dasar Fisika. Uji validasi yang dilakukan pada penelitian ini adalah validasi isi. Validasi isi bertujuan untuk mengetahui seberapa jauh instrumen mampu mengukur objek yang diteliti. Berdasarkan jenis validasi ini, maka instrumen yang telah dibuat oleh peneliti akan diperiksa dan diberikan skor oleh dua orang pakar. Skor-skor tersebut kemudian diolah dan

dianalisis dengan uji *gregory* untuk mengetahui seberapa mampu instrumen menelaah soal berpikir tingkat tinggi dan reliabilitas instrumen.

Instrumen telaah soal tes diagnostik yang telah disusun oleh peneliti akan divalidasi oleh dua orang pakar, dengan kriteria kevalidan sebagai berikut:

**Tabel 3.1**

**Kriteria kevalidan**

No.	Skor Validator	Tingkat Kevalidan
1.	1	Relevansi rendah (tidak valid)
2.	2	Relevansi cukup (kurang valid)
3.	3	Relevansi (valid)
4.	4	Sangat relevansi (sangat valid)

Uji validasi menggunakan uji *gregory*, yaitu :

$$R = \frac{D}{A + B + C + D}$$

Keterangan :

R : Validitas hitung

A : Relevansi lemah-lemah, jika validator 1 memberikan skor = 1 dan validator 2 = 1.

B : Relevansi kuat-lemah, jika validator 1 memberikan skor = 3 atau 4 dan validator 2 = 1 atau 2.

C : Relevansi lemah-kuat, jika validator 1 memberikan skor = 1 atau 2 dan validator 2 = 3 atau 4.

D : Relevansi kuat-kuat, jika validator 1 memberikan skor = 3 atau 4 dan validator 2 = 3 atau 4.

Dengan kriteria

0,80 – 1,00 : validasi sangat tinggi.

0,60 – 0,79 : validasi tinggi.

0,40 – 0,59 : validasi sedang.

0,20 – 0,39 : validasi rendah.

0,00 – 0,19 : validasi sangat rendah (Retnawati, 2016: 40).

Instrumen yang divalidasi dalam penelitian ini adalah instrumen tes diagnostik kemampuan dasar fisika. Tes diagnostik yang digunakan untuk mengukur kemampuan dasar fisika terdiri dari 25 butir soal pilihan ganda serta terdiri dari lima pilihan jawaban yaitu a, b, c, d, dan e. Dimana setiap soal merupakan sebaran dari semua materi fisika dasar. Adapun beberapa aspek yang diukur pada ranah kognitif yaitu pengetahuan (C1), pemahaman (C2), aplikasi (C3), dan analisis (C4). Pada tes diagnostik ini, dari 25 soal terbagi dalam 3 nomor C1, 4 nomor C2, 11 nomor C3 dan 7 nomor C4. Instrumen tes diagnostik tersebut telah divalidasi oleh 2 orang pakar yaitu

**Tabel 3.2** : Nama-Nama Validator Tes Diagnostik

No	Nama Validator	Jabatan
1	Ali Umar Dani, M.P.fis	Dosen Fismat
2	Sudirman, M.Ed	Dosen Ahli

Pengujian validasi instrument dilakukan dengan menggunakan uji Geogory yaitu uji kesepahaman antar 2 pakar dimana jika validator pertama, memberikan skor 3 atau 4 dan validator kedua memberikan skor 3 atau 4 maka instrument dinyatakan sangat valid. Hasil penilaian validator setiap butir soal sebagai berikut:

**Tabel 3.3:** Validasi Tes Diagnostik

No Butir Soal	Nilai Validator		Keterangan Penilaian	
	Ahli 1	Ahli 2	Ahli 1	Ahli 2
1	4	4	Kuat	Kuat
2	4	4	Kuat	Kuat
3	3	4	Kuat	Kuat
4	4	4	Kuat	Kuat
5	4	4	Kuat	Kuat
6	4	4	Kuat	Kuat
7	3	4	Kuat	Kuat
8	4	4	Kuat	Kuat
9	4	4	Kuat	Kuat
10	4	4	Kuat	Kuat
11	4	4	Kuat	Kuat
12	4	4	Kuat	Kuat
13	4	4	Kuat	Kuat
14	4	4	Kuat	Kuat
15	4	4	Kuat	Kuat
16	4	4	Kuat	Kuat
17	4	4	Kuat	Kuat
18	4	4	Kuat	Kuat
19	4	4	Kuat	Kuat
20	4	4	Kuat	Kuat
21	4	4	Kuat	Kuat
22	4	4	Kuat	Kuat
23	4	4	Kuat	Kuat
24	4	4	Kuat	Kuat
25	4	4	Kuat	Kuat

Berdasarkan hasil analisis dengan uji Gregori diperoleh setiap butir soal berada pada relevansi sangat valid. Dengan demikian, dapat disimpulkan bahwa instrumen tes diagnostik tersebut sudah valid dan dapat digunakan dalam mengukur kemampuan dasar fisika mahasiswa baru pendidikan Fisika angkatan 2018. Sedangkan pengujian instrument penelitian yang dilakukan dengan

menggunakan uji gregori sehingga diperoleh nilai validasi hitung sebesar 1,00. Karena  $v$  hitung lebih besar dari 0,75 maka dapat dikatakan bahwa instrumen tes diagnostik kemampuan dasar fisika sangat valid dan dapat digunakan.

#### ***L. Teknik Analisis Data***

Data yang diperoleh berupa angka dari hasil pemberian tes diagnostik akan dideskripsikan. Pada data statistic deskriptif kuantitatif dijelaskan mengenai *mean*, *standar deviasi*, *varians*, *kategorisasi*, *diagram batang*.

- f. Mean adalah rata-rata skor yang diperoleh dengan menjumlah semua skor yang diperoleh dari mahasiswa, selanjutnya hasil dari penjumlahan skor yang diperoleh dari semua mahasiswa semester satu dibagi dengan jumlah mahasiswa yang mendapatkan skor atau jumlah keseluruhan yang mengikuti tes.

$$\bar{x} = \frac{\sum xi}{n}$$

dengan :

$\bar{x}$  : Skor rata-rata

$xi$  : Nilai ujian

$n$  : Jumlah sampel

(Sudjana, 1992:93)

- g. Standar deviasi

$$s = \sqrt{\frac{\sum(xi-x)^2}{n-1}}$$

dengan :

$s$  : Nilai standar deviasi

$xi$  : Nilai ujian

$x$  : Nilai rata-rata

$n$  : Jumlah sampel

(Sudjana, 1992:93)



h. Varians

$$s^2 = \frac{\sum(x_i - \bar{x})^2}{(n - 1)}$$

Keterangan:

$s^2$  : varians sampel

n : jumlah sampel

(Sugiyono, 2016:57)

i. Kategorisasi

**Table 3.4** Konversi Nilai Bidang Studi Program s1

Rentang nilai	Kategorisasi	Huruf	Nilai
86 – 100	Sangat Tinggi	A	4
76 – 85	Tinggi	B	3
66 – 75	Sedang	C	2
56 -65	Sanga Rendah	D	1
0 – 55	Rendah	E	0

( Pedoman edukasi UIN, 2016:41)

j. Diagram Batang

Hasil dari pemberian tes diagnostik akan disajikan dalam bentuk diagram batang. Dimana pada diagram inilah akan terlihat berapa persen mahasiswa yang masih kurang paham dengan materi fisika dasar serta akan dipaparkan persentase materi yang sudah dikuasai dan materi yang mayoritas mahasiswa kurang pahami. Dengan begitu akan mudah untuk mendapatkan solusi dan menentukan strategi mengajar oleh dosen setelah melihat hasil penelitian ini.

Adapun tahapan dalam penyajian data dalam bentuk diagram batang yaitu membuat tabel distribusi frekuensi dari hasil data yang telah dianalisis, selanjutnya menentukan sumbu X dan Y pada penyajian diagram batang, dimana pada sumbu X menyatakan jumlah mahasiswa dan sumbu Y menyatakan

kategorisasi dan persentase. Setelah menentukan sumbu X dan sumbu Y dilanjutkan dengan pembuatan skala pada kedua sumbu dimana setiap skala pada sumbu Y maupun X harus sama. Namun skala pada sumbu X dan Y tidak diharuskan memiliki skala yang sama. Pada tahap penyelesaian, menggambarkan balok atau batang sesuai dengan table distribusi frekuensi secara terpisah dengan lebar balok ataupun batang yang sama.



## BAB V

### PENUTUP

#### A. *Kesimpulan*

Berdasarkan data yang diperoleh pada penelitian ini maka dapat disimpulkan bahwa :

1. Gambaran kemampuan dasar fisika mahasiswa pendidikan fisika semester 1 menggunakan tes diagnostik memiliki nilai rata-rata 29,63. Dari 65 mahasiswa yang mengikuti tes kemampuan dasar, nilai yang diperoleh hanya berada pada rentang 0-55. Hal ini menunjukkan bahwa kemampuan dasar fisika yang dimiliki oleh mahasiswa pendidikan fisika semester satu berada pada kategori sangat rendah atau memiliki kemampuan dasar yang sangat buruk.
2. Faktor-faktor yang menjadi kelemahan bagi mahasiswa pendidikan fisika semester 1 yaitu terjadi kesalahan dalam menentukan membaca alat ukur dan mengkonversi satuan, tidak memahami penggunaan angka penting, tidak mampu menganalisis resultan tiga buah vector, tidak mengetahui cara penjumlahan vector, tidak memahami teori dan rumus pada materi kinematika gerak lurus, gerak jatuh bebas, gerak vertikal, gerak para bola dan gerak melingkar, tidak mengetahui rumus frekuensi dan periode perhubungan roda-roda, terjadi miskonsepsi dalam menentukan gaya sentripetal, Tidak memahami bunyi hukum Newton, Belum mampu menganalisis hukum-hukum Newton tentang gerak, tidak mengetahui rumus hukum Kepler, tidak mampu menganalisis dan menentukan nilai usaha pada sebuah benda, tidak memahami penerapan hukum kekekalan

energi mekanik, tidak memahami teori dan rumus efisiensi mesin carnot, tidak memahami rumus dan penjumlahan momentum total.

### ***B. Implikasi Penelitian***

Berdasarkan kesimpulan yang diperoleh setelah melakukan penelitian ini, maka implikasi dari penelitian ini adalah:

1. Sebagai bahan rujukan kepada pihak jurusan maupun dosen pendidikan Fisika untuk mengetahui materi yang masih perlu diperdalam untuk meningkatkan efisiensi mengajar di dalam kelas.
2. Sebagai gambaran kepada pihak jurusan dan dosen Fisika bahwa kemampuan dasar Fisika mahasiswa angkatan 2018 masih perlu ditingkatkan.
3. Sebagai motivasi pada mahasiswa untuk mengetahui tingkat kemampuan belajarnya.
4. Sebagai bahan pertimbangan dan perbandingan apabila ada peneliti yang akan melakukan penelitian yang sama.

## DAFTAR PUSTAKA

- Arifin, Zainal. *Evaluasi Pembelajaran*. Bandung: PT Remaja Rosdakarya, 2013.
- Arikunto, Suharsimi. *Dasar-Dasar Evaluasi Pendidikan Edisi Revisi*. Jakarta: PT Bumi Aksara, 2010.
- Arikunto, Suharsimi. *Prosedur Penelitian*. Jakarta: Rineka Cipta, 2012.
- Arikunto, Suharsimi. *Dasar-Dasar Evaluasi Pendidikan Edisi 2*. Jakarta: PT Bumi Aksara, 2013.
- Browning, Philip. *Evaluation of Short-term Training in Rehabilitation*. Eugene: University of Oregon, 2010.
- Creswell, John. *Riset Pendidikan*. Yogyakarta: Pustaka Belajar, 2015.
- Daryanto. *Evaluasi Pendidikan*. Jakarta: Rineka Cipta, 2007.
- Haslam, Filocha dan David F. Treagust, *Diagnosing Secondary Students' Misconceptions of photosynthesis and respiration in plants using a two-tier multiple choice instrument*. International Journal of Biological Educational 21, 2010. H.203-211
- Hidayati, Titik dkk. Pengembangan Tes Diagnostik untuk Mengidentifikasi Keterampilan Proses Sains dengan Tema Energi Pada Pelajaran IPA Terpadu. *Unnes Science Education Journal*. USEJ 2 (2) (2013) ISSN 2252-660. Universitas Negeri Semarang, Semarang. <http://journal.unnes.ac.id/sju/index.php/usej>.
- Ishak, Baego dan Syamsuduha. *Evaluasi Pendidikan*. Makassar: Alauddin Press, 2010.
- Mania, Sitti. *Pengantar Evaluasi Pengajaran*. Makassar: Alauddin Press, 2012.
- Muslimin, B. Analisis Kemampuan Siswa dalam Menyelesaikan Soal Fisika Berbasis Taksonomi Bloom. *Jurnal Pendidikan Fisika* 6, no 2 september (2018):
- Nugraeni, Dita dkk. Penyusunan Tes Diagnostik Fisika Materi Listrik Dinamis. *Jurnal Pendidikan Fisika (2013) Vol.1 No.2 halaman 12*, ISSN: 2338 – 0691, September 2013. Universitas Sebelas Maret, Surakarta.
- Prihatni, Yuli dkk. Pengembangan Instrumen Diagnostik Kognitif Pada Mata Pelajaran IPA di SMP. *Jurnal Penelitian dan Evaluasi Pendidikan volume 2, no.1*, Juni 2016(111-). <http://journal.uny.ac.id/index.php/jpep>.
- Rahayu, Sri. Pengembangan Tes Diagnostik Pilihan Ganda Dua Tingkat untuk Mengidentifikasi Miskonsepsi pada Konsep Gerak Dua Dimensi. *Skripsi s1*, UIN Syarif Hidayatullah, Jakarta, 2015.
- Ratnawulan, Elis dan Rusdiana. *Evaluasi Pembelajaran*. Bandung: CV Pustaka Setia, 2015.

- Retnawati, Heri. *Validasi Reabilitas dan Karakteristik Butir Soal*. Yogyakarta: Parama Publishing, 2016.
- Rektor UIN. *Pedoman Edukasi UIN Alauddin Makassar*. Makassar : Alauddin Press, 2013.
- Salma, Vidya Matarani dkk. Pengembangan E-Diagnostik Test Untuk Mengidentifikasi Pemahaman Konsep Fisika SMA pada Pokok Bahasan Fluida Statis. *Unnes Physics Education Jurnal*, Universitas Negeri Semarang, Semarang 50229 (2016), <http://journal.unnes.ac.id/sju/index.php/upej>.
- Sugiyono. *Metode Penelitian Pendidikan*. Bandung: Alfabeta, 2015.
- Sugiyono, *Metode Penelitian Kuantitatif, Kualitatif, dan Kombinasi (Mixed Methods)*. Cet.V; Bandung: Penerbit Alfabeta, 2014
- Sumanto. *Statistika Deskriptif*. Yogyakarta: CAPS (Center Of Academics Publishing Service), 2014.
- Syahrul, Dimas Ardiansyah dan Woro Setyarsih. Identifikasi Miskonsepsi dan Penyebab Miskonsepsi Siswa dengan *Three-tire Diagnostik Test* pada Materi Dinamika Rotasi. *Jurnal Inovasi Pendidikan Fisika (JIPF)* Vol. 04 No. 03, September 2015, 67-70, ISSN: 2302-4496.
- Syamsuduha. *Penilaian Kelas*. Makassar: Alauddin Press, 2012.
- Treagust, David F. *Development and use of diagnostik test to evaluate student' misconception in sciens*. *International Journal of Science Educational* 10, Februari 2011, 159-169.
- Thoha, Chabib. *Teknik Evaluasi Pendidikan*. Jakarta: PT RajaGrafindoPersada, 2003.
- Undang-Undang Republik Indonesia Nomor 20 Tahun 2003. *Tentang Sitem Pendidikan Nasional*. Jakarta: Depdiknas
- Wijaya, Mujiman Hendri dkk. Pengembangan Tes Diagnostik Mata Pelajaran IPA SMP. *Jurnal Penelitian dan Evaluasi Pedidikan*. Universitas Lambung Mangkurat, Banjarmasin 70123 (2013).
- Yusuf, Muri. *Asesmen dan Evaluasi Pendidikan*. Jakarta: Prenadamedia Group, 2015.

# LAMPIRAN-LAMPIRAN

UNIVERSITAS ISLAM NEGERI  
ALAUDDIN  
MAKASSAR

# LAMPIRAN 1

## FORMAT VALIDASI

UNIVERSITAS ISLAM NEGERI  
ALAUDDIN  
MAKASSAR



## KISI-KISI TES DIAGNOSTIK

### KEMAMPUAN DASAR FISIKA

RANAH KOGNITIF	INDIKATOR SOAL	BENTUK SOAL	NOMOR SOAL	KET
C 1	<ol style="list-style-type: none"> <li>1. Mengetahui hakikat dan ruang lingkup ilmu fisika</li> <li>2. Mengetahui defenisis gerak parabola</li> <li>3. Mengetahui hukum Newton I, II dan III</li> </ol>	PG	1, 10 dan 17	
C2	<ol style="list-style-type: none"> <li>1. Memahami penggunaan angka penting</li> <li>2. Memahami besaran-besaran pada gerak vertical ke bawah</li> <li>3. Memahami konsep energi kinetik dan energi potensial</li> <li>4. Memahami hukum kekekalan energi mekanik</li> </ol>	PG	3, 7, 22, dan 23	
C3	<ol style="list-style-type: none"> <li>1. Menentukan ketetapan pengukuran</li> <li>2. Menentukan nilai resultan vektor</li> <li>3. menentukan kecepatan linear pada gerak melingkar</li> <li>4. Menentukan periode dan frekuensi pada gerak melingkar</li> <li>5. Menghitung kecepatan sudut</li> <li>6. Menentukan kecepatan linear pada gerak melingkar</li> <li>7. Menghitung gaya sentripetal</li> <li>8. menentukan gaya gravitasi antara dua buah planet</li> <li>9. menentukan nilai usaha</li> <li>10. menghitung daya keluaran pada mesin</li> <li>11. menghitung momentum total</li> </ol>	PG	2, 5, 12, 13, 14, 15, 16, 19, 21, 24 dan 25	
	<ol style="list-style-type: none"> <li>1. Menganalisis resultan ketiga vector</li> <li>2. Menganalisis besaran pada benda yang bergerak lurus berubah beraturan</li> <li>3. Menganalisis besaran pada</li> </ol>			

C4	<p>gerak vertical ke atas</p> <p>4. Menganalisis besaran fisis pada gerak jatuh bebas</p> <p>5. Menganalisis besaran fisis pada gerak parabola</p> <p>6. Menganalisis gaya yang bekerja pada sebuah benda sesuai dengan hukum Newton</p> <p>7. Menganalisis besaran fisis pada hukum Kepler</p>	PG	4, 6, 8, 9, 11, 18, dan 20	
<b>Jumlah</b>		<b>25</b>		



## KARTU SOAL TES DIAGNOSTIK

### KEMAMPUAN DASAR FISIKA

Satuan Pendidikan : UIN Alauddin Makassar

Kelas / Semester : semester 1

Pokok Bahasan : Fisika Dasar

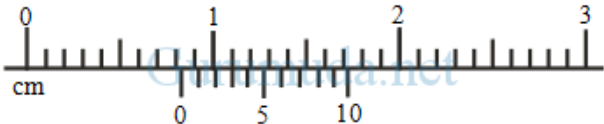
Bentuk Tes : Tertulis (Pilihan Ganda)

Penyusun : Irwan

SKOR			
1	2	3	4

Indikator Kemampuan dasar pada Ranah Kognitif (C <sub>1</sub> ): KKO: Mengidentifikasi hakikat dan ruang lingkup ilmu Fisika	No. Soal	Kunci Jawaban
	1	B
		Fisika adalah ilmu yang mempelajari alam secara keseluruhan, yang tidak termasuk dalam ruang lingkup makroskopik fisika adalah... A. Gerak Bumi mengelilingi matahari <b>B. Pergerakan elektron</b> C. Gerak lurus sebuah benda D. Gaya gravitasi bumi E. Jari-jari planet
<b>Pembahasan</b> Ruang lingkup makroskopik fisika merupakan pembelajaran ilmu fisika yang melingkupi cakupan yang berukuran besar		
Instrumen Tes Kemampuan dasar ini: 1. Belum dapat digunakan dan masih memerlukan konsultasi 2. Dapat digunakan dengan banyak revisi 3. Dapat digunakan dengan sedikit revisi 4. Dapat digunakan tanpa revisi		
<b>Saran / Komentar</b> Catatan: <hr/> <hr/> <hr/> <hr/>		

SKOR			
1	2	3	4

Indikator Kemampuan dasar pada Ranah Kognitif (C <sub>3</sub> ): KKO: menentukan hasil pengukuran dari jangka sorong	No. Soal	Kunci Jawaban
		2
	<p>Perhatikan gambar berikut:</p>  <p>Berapa hasil pengukuran yang ditunjukkan pada alat ukur diatas dalam satuan foot...</p> <p>A. 0,26 foot  B. 0,04 foot  C. 0,03 foot  D. 0,0026 foot  E. 0,05 foot</p>	
<p><b>Pembahasan</b></p> <p>Hasil pengukuran yang ditunjukkan pada jangka sorong diatas adalah 0,83 cm. jika diubah ke dalam satuan foot maka diperoleh hasil 0,026 foot atau bisa dibulatkan menjadi 0,03 foot.</p>		
<p>Instrumen Tes Kemampuan dasar ini:</p> <ol style="list-style-type: none"> <li>1. Belum dapat digunakan dan masih memerlukan konsultasi</li> <li>2. Dapat digunakan dengan banyak revisi</li> <li>3. Dapat digunakan dengan sedikit revisi</li> <li>4. Dapat digunakan tanpa revisi</li> </ol> <p><b>Saran / Komentar</b></p> <p>Catatan:</p> <hr/> <hr/> <hr/> <hr/>		

		SKOR			
		1	2	3	4
Indikator Kemampuan dasar pada Ranah Kognitif (C2): KKO: memahami penggunaan angka penting	No. Soal	Kunci Jawaban			
	3	E			
	<p>Hasil perkalian yang benar sesuai dengan aturan penggunaan angka penting dari <math>0,10540 \times 2,50</math> adalah...</p> <p>A. 0,2635</p> <p>B. 0,26</p> <p>C. 0,263</p> <p>D. 0,30</p> <p>E. 0,3</p>				
<p><b>Pembahasan</b>            Hasil dari perkalian diatas memiliki 4 angka penting. Aturan penggunaan angka penting pada perkalian adalah mengikuti jumlah angka penting yang paling sedikit pada operasi perkalian yaitu 2 angka penting.</p>					
<p>Instrumen Tes Kemampuan dasar ini:</p> <ol style="list-style-type: none"> <li>1. Belum dapat digunakan dan masih memerlukan konsultasi</li> <li>2. Dapat digunakan dengan banyak revisi</li> <li>3. Dapat digunakan dengan sedikit revisi</li> <li>4. Dapat digunakan tanpa revisi</li> </ol>					
<p><b>Saran / Komentar</b>            Catatan:</p> <hr/> <hr/> <hr/> <hr/>					

SKOR			
1	2	3	4

Indikator Kemampuan dasar pada Ranah Kognitif (C <sub>4</sub> ): KKO menganalisis resultan ketiga vector	No. Soal	Kunci Jawaban
		4

Perhatikan gambar vektor tersebut!

Dari gambar diatas hitunglah:

A. 3,58 N  
**B. 4,58 N**  
 C. 5,48 N  
 D. 6,48 N  
 E. 4,85 N

**Pembahasan**

$F_1 = 6$  Newton membentuk sudut  $60^\circ$  terhadap sumbu x positif  
 $F_2 = 6$  Newton membentuk sudut  $0^\circ$  terhadap sumbu x negatif  
 $F_3 = 12$  Newton membentuk sudut  $60^\circ$  terhadap sumbu y negatif  
 Ditanya : Resultan gaya

Jawab :  
 Hitung vektor komponen :

$F_{1x} = F_1 \cos 60^\circ = (6)(0,5) = 3$  N (bertanda positif karena searah sumbu x positif)

$F_{1y} = F_1 \sin 60^\circ = (6)(0,5\sqrt{3}) = 3\sqrt{3}$  N (bertanda positif karena searah sumbu y positif)

$F_{2x} = F_2 \cos 0^\circ = (6)(1) = -6$  N (bertanda negatif karena searah sumbu x negatif)

$F_{2y} = F_2 \sin 0^\circ = (6)(0) = 0$

$F_{3x} = F_3 \cos 60^\circ = (12)(0,5) = 6$  N (bertanda positif karena searah sumbu x positif)

$F_{3y} = F_3 \sin 60^\circ = (12)(0,5\sqrt{3}) = -6\sqrt{3}$  N (bertanda negatif karena searah sumbu y negatif)

Jadi:

$$\begin{aligned} \sum F_x &= F_{1x} - F_{2x} + F_{3x} \\ &= 3 - 6 + 6 \\ &= 3 \text{ N} \end{aligned}$$

$$\begin{aligned} \sum F_y &= F_{1y} + F_{2y} - F_{3y} \\ &= 3\sqrt{3} + 0 - 6\sqrt{3} \end{aligned}$$

$$\begin{aligned}
 &= -3\sqrt{3} \text{ N} \\
 \Sigma F &= \sqrt{3^2 + (-3\sqrt{3})^2} \\
 &= \sqrt{9 + 12} \\
 &= \sqrt{21} \\
 &= 4,58 \text{ N}
 \end{aligned}$$

Instrumen Tes Kemampuan dasar ini:

1. Belum dapat digunakan dan masih memerlukan konsultasi
2. Dapat digunakan dengan banyak revisi
3. Dapat digunakan dengan sedikit revisi
4. Dapat digunakan tanpa revisi

**Saran / Komentar**

Catatan:

---



---



---



---

SKOR			
1	2	3	4

Indikator Kemampuan dasar pada Ranah Kognitif (C <sub>3</sub> ): KKO: mengitung penjumlahan vector	No. Soal	Kunci Jawaban
		5
	<p>Jika tiga buah Vektor M, N dan O terletak pada sumbu x dan y, dimana vektor-vektor tersebut bernilai <math>M = -14 u_x - 10 u_y</math>, <math>N = -13 u_x + 2 u_y</math>, <math>O = 30 u_y</math>. Tentukan penjumlahan dari ketiga vektor tersebut...</p> <p>A. <math>27 u_x + 22 u_y</math></p> <p>B. <math>22 u_x + 27 u_y</math></p> <p>C. <math>-27 u_x - 22 u_y</math></p> <p><b>D. <math>22 u_y - 27 u_x</math></b></p> <p>E. <math>-27 u_x + 22 u_x</math></p>	

**Pembahasan**

$$R = u_x R_x + u_y R_y$$

$$R = -27 u_x + 22 u_y \text{ atau}$$

$$R = 22 u_y - 27 u_x$$

Instrumen Tes Kemampuan dasar ini:

1. Belum dapat digunakan dan masih memerlukan konsultasi
2. Dapat digunakan dengan banyak revisi
3. Dapat digunakan dengan sedikit revisi
4. Dapat digunakan tanpa revisi/

**Saran / Komentar**

Catatan:

---



---



---



---

	SKOR			
	1	2	3	4
Indikator Kemampuan dasar pada Ranah Kognitif (C <sub>4</sub> ): KKO: menganalisis kecepatan awal pada gerak lurus	<b>No. Soal</b>	<b>Kunci Jawaban</b>		
	<b>6</b>	<b>B</b>		
	Sebuah partikel bergerak di atas tanah dengan persamaan posisi $Y = (-3t^2 + 12t + 6)$ foot. Berapakah kecepatan awal dan percepatan partikel.... m/s. A. 12 m/s dan $-6 \text{ m/s}^2$ <b>B. 3,7 m/s dan <math>-1,82 \text{ m/s}^2</math></b> C. 12 m/s dan $6 \text{ m/s}^2$ D. 5 m/s dan $2 \text{ m/s}^2$ E. 11 m/s dan $-12 \text{ m/s}^2$			
<b>Pembahasan</b>				
a. kecepatan awal partikel $t = 0 \text{ s}$ $Y = (-3t^2 + 12t + 6)$ $v = -6t + 12$ $= -6(0) + 12$ $= 12 \text{ foot/s}$ $= 3,7 \text{ m/s}$				
b. percepatan partikel $v = -6t + 12$ $a = -6 \text{ foot/s}^2$ $a = -1,82 \text{ m/s}^2$				
Instrumen Tes Kemampuan dasar ini:				
<ol style="list-style-type: none"> <li>1. Belum dapat digunakan dan masih memerlukan konsultasi</li> <li>2. Dapat digunakan dengan banyak revisi</li> <li>3. Dapat digunakan dengan sedikit revisi</li> </ol>				



4. Dapat digunakan tanpa revisi

**Saran / Komentar**

Catatan:

---



---



---



---

SKOR			
1	2	3	4

Indikator Kemampuan dasar pada Ranah Kognitif (C <sub>2</sub> ): KKO: membedakan ciri-ciri gerak vertikal ke bawah dengan gerak vertikal ke atas	No. Soal	Kunci Jawaban
		7
		Gerak vertikal merupakan gerak sebuah benda yang bergerak vertikal. Adapun gerak vertikal terbagi menjadi gerak vertikal ke bawah dan ke atas. Yang menjadi ciri-ciri dari gerak vertikal ke bawah yang membedakan dengan gerak vertikal ke atas yaitu.. A. Memiliki kecepatan awal B. Ketika sampai dasar memiliki kecepatan C. Tidak memiliki kecepatan akhir pada saat mencapai puncak tertinggi D. Percepatan gravitasi bernilai negatif E. Tidak dipengaruhi gaya gravitasi

**Pembahasan**

Pada gerak vertikal ke bawah memiliki ciri-ciri antara lain, memiliki kecepatan awal, percepatan gravitasi bernilai positif dan ketika pada sampai dasar benda masih memiliki kecepatan akhir. Sedangkan pada gerak vertikal ke atas memiliki ciri-ciri antara lain, memiliki kecepatan awal, percepatan gravitasi bernilai negatif dan pada saat mencapai puncak tertinggi tidak memiliki kecepatan atau kecepatan benda sama dengan nol.

Instrumen Tes Kemampuan dasar ini:

1. Belum dapat digunakan dan masih memerlukan konsultasi
2. Dapat digunakan dengan banyak revisi
3. Dapat digunakan dengan sedikit revisi
4. Dapat digunakan tanpa revisi

**Saran / Komentar**

Catatan:

---


SKOR			
1	2	3	4

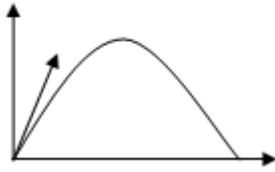
<p>Indikator Kemampuan dasar pada Ranah Kognitif (C<sub>4</sub>): KKO: menganalisis gerak vertikal ke atas</p>	<p><b>No. Soal</b> <b>8</b></p>	<p><b>Kunci Jawaban</b> <b>A</b></p>
<p>Sebuah batu digunakan untuk melempar sebuah mangga dengan kecepatan awal 10 m/s. jika pada saat mengenai mangga kecepatan batu 6 m/s. Tentukan ketinggian mangga yang dilempar dengan <math>g = 10 \text{ m/s}^2 \dots</math></p> <p style="margin-left: 20px;"> <b>A. 3,2 m</b>            B. 4,8 m            C. 3200 cm            D. 6,281 ft            E. 2 m         </p>		
<p><b>Pembahasan</b></p> $V_t = V_0 - gt$ $6 = 10 - 10(t)$ $t = 0,4 \text{ s}$ <p>jadi</p> $h_t = V_0 t - \frac{1}{2} g t^2$ $= (10 \cdot 0,4) - (\frac{1}{2} (10)(0,4)^2)$ $= 4 - 0,8$ $= 3,2 \text{ m}$		
<p>Instrumen Tes Kemampuan dasar ini:</p> <ol style="list-style-type: none"> <li>1. Belum dapat digunakan dan masih memerlukan konsultasi</li> <li>2. Dapat digunakan dengan banyak revisi</li> <li>3. Dapat digunakan dengan sedikit revisi</li> <li>4. Dapat digunakan tanpa revisi</li> </ol> <p><b>Saran / Komentar</b></p> <p>Catatan:</p> <hr style="border: 0; border-top: 1px solid black; margin-bottom: 5px;"/> <hr style="border: 0; border-top: 1px solid black; margin-bottom: 5px;"/> <hr style="border: 0; border-top: 1px solid black; margin-bottom: 5px;"/>		

SKOR			
1	2	3	4

Indikator Kemampuan dasar pada Ranah Kognitif (C <sub>4</sub> ): KKO: Menganalisis perbandingan kecepatan gerak jatuh bebas di bumi dan di bulan	No. Soal	Kunci Jawaban
		9
	Sebuah benda dijatuhkan pada ketinggian 20m. berapakah perbandingan kecepatan akhir benda jika benda dijatuhkan di bumi dan di bulan... A. 4 : 2 <b>B. 5 : 2</b> C. 2 : 5 D. 2 : 4 E. 4 : 5	
<b>Pembahasan</b> $\frac{V_{bumi}}{V_{bulan}} = \frac{\sqrt{2 \cdot g \cdot h}}{\sqrt{2 \cdot g \cdot h}}$ $\frac{V_{bumi}}{V_{bulan}} = \frac{\sqrt{2 \cdot 10 \cdot 20}}{\sqrt{2 \cdot 1,6 \cdot 20}}$ $\frac{V_{bumi}}{V_{bulan}} = \frac{\sqrt{400}}{\sqrt{64}}$ $\frac{V_{bulan}}{V_{bumi}} = \frac{8}{20}$ $\frac{V_{bulan}}{V_{bumi}} = \frac{5}{2}$ jadi perbandingan kecepatan akhir benda adalah 5 : 2		
Instrumen Tes Kemampuan dasar ini: 1. Belum dapat digunakan dan masih memerlukan konsultasi 2. Dapat digunakan dengan banyak revisi 3. Dapat digunakan dengan sedikit revisi 4. Dapat digunakan tanpa revisi <b>Saran / Komentar</b> Catatan: <hr/> <hr/> <hr/> <hr/>		

<b>SKOR</b>
-------------

		1	2	3	4
Indikator Kemampuan dasar pada Ranah Kognitif (C <sub>1</sub> ): KKO: mengingat defenisi dari gerak parabola	<b>No. Soal</b>	<b>Kunci Jawaban</b>			
	<b>10</b>	<b>C</b>			
		Perpaduan antara gerak lurus beraturan dengan arah sumbu X dan gerak vertikal dengan arah sumbu Y merupakan defenisi dari gerak...			
		A. Gerak melingkar			
		B. Gerak lurus			
		<b>C. Gerak parabola</b>			
		D. Gerak jatuh bebas			
		E. Gerak sentripetal			
<b>Pembahasan</b>					
Gerak parabola adalah Perpaduan antara gerak lurus beraturan dengan arah sumbu X dan gerak vertikal dengan arah sumbu Y					
Instrumen Tes Kemampuan dasar ini:					
1. Belum dapat digunakan dan masih memerlukan konsultasi					
2. Dapat digunakan dengan banyak revisi					
3. Dapat digunakan dengan sedikit revisi					
4. Dapat digunakan tanpa revisi					
<b>Saran / Komentar</b>					
Catatan:					
_____					
_____					
_____					
_____					

		<b>SKOR</b>			
		1	2	3	4
Indikator Kemampuan dasar pada Ranah Kognitif (C <sub>4</sub> ): KKO: menganalisis kecepatan benda pada gerak parabola	<b>No. Soal</b>	<b>Kunci Jawaban</b>			
	<b>11</b>	<b>E</b>			
		Sebuah benda dilemparkan dengan sudut elevasi 60° dan kecepatan awal 20 m/s ( lihat gambar )			
					
		Berapa kecepatan awal pada sumbu X dan Y ... m/s			

	<p>A. <math>X = 10\sqrt{3}</math> m/s dan <math>Y = 10</math> m/s</p> <p>B. <math>X = 10</math> m/s dan <math>Y = 10</math> m/s</p> <p>C. <math>X = 10\sqrt{3}</math> m/s dan <math>Y = \sqrt{3}</math> m/s</p> <p>D. <math>X = \sqrt{3}</math> m/s dan <math>Y = 10</math> m/s</p> <p>E. <b><math>X = 10</math> m/s dan <math>Y = 10\sqrt{3}</math> m/s</b></p>
<p><b>Pembahasan</b></p> <p>Kecepatan awal pada sumbu X dan Y</p> $v_{0x} = v_0 \cos \alpha$ $= 20 \cos 60$ $= 20 \cdot \frac{1}{2}$ $= 10 \text{ m/s}$ $v_{0y} = v_0 \sin \alpha$ $= 20 \sin 60$ $= 20 \cdot \frac{\sqrt{3}}{2}$ $= 10\sqrt{3} \text{ m/s}$	
<p>Instrumen Tes Kemampuan dasar ini:</p> <ol style="list-style-type: none"> <li>1. Belum dapat digunakan dan masih memerlukan konsultasi</li> <li>2. Dapat digunakan dengan banyak revisi</li> <li>3. Dapat digunakan dengan sedikit revisi</li> <li>4. Dapat digunakan tanpa revisi</li> </ol> <p><b>Saran / Komentar</b></p> <p>Catatan:</p> <hr/> <hr/> <hr/> <hr/>	

		SKOR			
		1	2	3	4
<p>Indikator Kemampuan dasar pada Ranah Kognitif (<math>C_3</math>):</p> <p>KKO: menentukan kecepatan linear pada gerak melingkar</p>	<p><b>No. Soal</b></p> <p><b>12</b></p>	<p><b>Kunci Jawaban</b></p> <p><b>C</b></p>			
	<p>Roda berputar dengan kecepatan 240 putaran tiap menit. Jika jari-jari roda 30 cm, maka kecepatan linear partikel yang terletak di pinggir roda adalah...m/s</p> <p>A. <math>0,14\pi</math></p> <p>B. <math>0,28\pi</math></p> <p><b>C. <math>0,48\pi</math></b></p> <p>D. <math>0,64\pi</math></p> <p>E. <math>0,96\pi</math></p>				

**Pembahasan**

$$\omega = \frac{240 \text{ putaran}}{5 \text{ menit}} = 8/5 \pi \text{ rad/s}$$

$$R = 30 \text{ cm} = 0,3 \text{ m}$$

$$V = \omega \cdot R$$

$$V = (8/5 \pi) (0,3)$$

$$V = 0,48 \pi \text{ rad/s}$$

Instrumen Tes Kemampuan dasar ini:

1. Belum dapat digunakan dan masih memerlukan konsultasi
2. Dapat digunakan dengan banyak revisi
3. Dapat digunakan dengan sedikit revisi
4. Dapat digunakan tanpa revisi

**Saran / Komentar**

Catatan:

---



---




---



---

SKOR			
1	2	3	4

Indikator Kemampuan dasar pada Ranah Kognitif (C <sub>3</sub> ): KKO: menentukan frekuensi dan periode	No. Soal	Kunci Jawaban
		13
	<p>Perhatiakn gambar berikut!</p>  <p><math>R_A = 40 \text{ cm}, R_B = 10 \text{ cm}, R_C = 30 \text{ cm}</math></p> <p>Tentukan frekuensi dan periode putaran roda B jika kecepatan sudut roda A 20 rad/s...</p> <p>A. 12,73 Hz dan 0,08 s                      B. 11,20 Hz dan 0,5 s                      C. 12,7 Hz dan 1 s                      D. 10 hz dan 0,1 s                      E. 20 Hz dan 0,2 s</p>	
<b>Pembahasan</b>	➤ frekuensi	

$$\omega_b = \frac{\omega_a \cdot R_a}{R_b}$$

$$= 8/0,1$$

$$= 80 \text{ rad/s}$$

$$\omega_b = 2\pi f$$

$$f = \frac{\omega_b}{2\pi}$$

$$f = \frac{80}{2 \cdot 3,14}$$

$$f = 12,73 \text{ Hz}$$

➤ periode

$$T = 1/f$$

$$T = 1/12,73$$

$$T = 0,08 \text{ s}$$

Instrumen Tes Kemampuan dasar ini:

1. Belum dapat digunakan dan masih memerlukan konsultasi
2. Dapat digunakan dengan banyak revisi
3. Dapat digunakan dengan sedikit revisi
4. Dapat digunakan tanpa revisi

**Saran / Komentar**

Catatan:

---



---



---



---

SKOR			
1	2	3	4

Indikator Kemampuan dasar pada Ranah Kognitif (C <sub>3</sub> ):	No. Soal	Kunci Jawaban
KKO: menentukan kecepatan sudut	1 4	D
	Posisi sudut pada suatu roda dapat dinyatakan dalam sebuah persamaan $\theta = (5 + 10t + 2t^2 \text{ rad}$ dengan t dalam sekon. Nilai kecepatan sudut rata-rata dari t = 0 sekon hingga t = 2 adalah... rad/s A. 10 B. 11 C. 13 D. 14 E. 1	
<b>Pembahasan</b>		
$\theta = (5 + 10t + 2t^2 \text{ rad}$ $\theta_0 = (5 + 10(0) + 2(0)^2)$		

$$\begin{aligned}\theta_0 &= 5 \text{ radian} \\ \theta_2 &= (5 + 10(2) + 2(2)^2) \\ \theta_2 &= 33 \text{ radian} \\ \text{nilai kecepatan rata - rata :} \\ \omega &= \frac{\Delta\theta}{\Delta t} = \frac{(33 - 5)\text{radian}}{2 \text{ sekon}} \\ \omega &= 14 \frac{\text{rad}}{\text{s}}\end{aligned}$$

jadi, nilai kecepatan sudut rata-rata 14 rad/s.

Instrumen Tes Kemampuan dasar ini:

1. Belum dapat digunakan dan masih memerlukan konsultasi
2. Dapat digunakan dengan banyak revisi
3. Dapat digunakan dengan sedikit revisi
4. Dapat digunakan tanpa revisi

**Saran / Komentar**

Catatan:

---



---



---



---

SKOR			
1	2	3	4

Indikator Kemampuan dasar pada Ranah Kognitif (C <sub>3</sub> ): KKO: menghitung kecepatan linear	No. Soal	Kunci Jawaban
	15	A
	Seseorang berdiri di khatulistiwa bumi yang jari-jarinya 6,4 x 10 <sup>4</sup> m. jika lama rotasi yang dirasakan selama satu hari, kelajuan linear yang dirasakan sekitar ... m/s	
	A. 470	
	B. 480	
	C. 500	
	D. 650	
	E. 720	

**Pembahasan**

Diketahui :

$$R = 6,4 \times 10^4 \text{ m}$$

$$T = 24 \text{ jam} \times 3600 \text{ s}$$

$$= 86400 \text{ s}$$

Ditanyakan; v



$$\omega = \frac{2\pi}{T}$$

$$\omega = \frac{2(3,14)}{86400}$$

$$\omega = 7,3 \times 10^{-4} \text{ rad/s}$$

➤ Kelajuan linear yang dirasakan

$$V = \omega \cdot R$$

$$V = (7,3 \times 10^{-4}) (6,4 \times 10^4)$$

$$V = 467 \text{ m/s}$$

Jadi kelajuan linear yang dirasakan sekitar 470 m/s

Instrumen Tes Kemampuan dasar ini:

1. Belum dapat digunakan dan masih memerlukan konsultasi
2. Dapat digunakan dengan banyak revisi
3. Dapat digunakan dengan sedikit revisi
4. Dapat digunakan tanpa revisi

**Saran / Komentar**

Catatan:

---

SKOR			
1	2	3	4

Indikator Kemampuan dasar pada Ranah Kognitif (C <sub>3</sub> ): KKO: menentukan gaya sentripetal	No. Soal	Kunci Jawaban
		1 6
	Sebuah mobil dengan massa 1000 kg melintasi suatu jembatan yang melengkung. Jari-jari kelengkungan jembatan 20 m dengan pusat berada di bawah jembatan. Besar gaya yang diberikan mobil pada jembatan saat mobil berada di puncak jembatan jika kelajuannya 36 km/jam adalah... A. 2000 N B. 3000 N C. 4000 N D. 5000 N E. 6000 N	
<b>Pembahasan</b> Diketahui ; m = 1000 kg R = 20 m v = 36 km/jam		

$$= 10 \text{ m/s}$$

Gaya yang diberikan mobil pada saat di puncak jembatan sama dengan gaya normal yang diberikan jembatan terhadap mobil

$$\sum F_s = mv^2/R$$

$$W - N = mv^2/R$$

$$N = mg - (mv^2/R)$$

$$N = (1000 \cdot 10) - (1000 \cdot (10)^2 / 20)$$

$$N = 10000 - 5000$$

$$N = 5000 \text{ N}$$

Instrumen Tes Kemampuan dasar ini:

1. Belum dapat digunakan dan masih memerlukan konsultasi
2. Dapat digunakan dengan banyak revisi
3. Dapat digunakan dengan sedikit revisi
4. Dapat digunakan tanpa revisi

**Saran / Komentar**

Catatan:

---



---



---



---

SKOR			
1	2	3	4

Indikator Kemampuan dasar pada Ranah Kognitif (C <sub>1</sub> ): KKO: mengetahui hukum Newton	No. Soal	Kunci Jawaban
		1 7
	Hukum I Newton membahas tentang sifat benda yang cenderung mempertahankan keadaannya (diam atau bergerak dengan kecepatan tetap). Oleh karena itu, hukum I Newton dikenal sebagai... A. Hukum kelembaman B. Hukum gravitasi Newton C. Hukum kekekalan energi D. Hukum kekekalan momentum E. Hukum aksi-reaksi	

**Pembahasan**

Hukum I Newton dikenal sebagai hukum kelembaman. Hukum Aksi-Reaksi adalah hukum III Newton. Hukum II Newton membahas tentang gerak benda.

Instrumen Tes Kemampuan dasar ini:

5. Belum dapat digunakan dan masih memerlukan konsultasi
6. Dapat digunakan dengan banyak revisi
7. Dapat digunakan dengan sedikit revisi

8. Dapat digunakan tanpa revisi

**Saran / Komentar**

Catatan:

---



---



---



---

SKOR			
1	2	3	4

Indikator Kemampuan dasar pada Ranah Kognitif (C <sub>4</sub> ): KKO: menganalisis hukum Newton	No. Soal	Kunci Jawaban
		<b>1 8</b>
	<p>Seseorang saat berada dalam lift berdiri di atas timbangan badan. Sebelum lift bergerak, timbangan menunjukkan angka 60 kg. ketika lift bergerak kebawah dengan percepatan 0,5 m/s<sup>2</sup> (g = 10 m/s<sup>2</sup>). Jarum timbangan akan menunjukkan angka...</p> <p>A. 30 kg            B. 50 kg  <b>C. 57 kg</b>            D. 59 kg            E. 63 kg</p>	

**Pembahasan**

Diketahui ;

$$m = 60 \text{ kg}$$

$$a = 0,5 \text{ m/s}^2$$

$$g = 10 \text{ m/s}^2$$

jawaban :

$$\Sigma F = m \cdot a$$

$$W - N = m \cdot a$$

$$mg - m'g = m \cdot a$$

$$m'g = mg - ma$$

$$m'(10) = (60)(10) - (60)(0,5)$$

$$m'(10) = 600 - 30$$

$$m' = 57 \text{ kg}$$

jadi jarum timbangan akan menunjukkan angka 57 kg.

Instrumen Tes Kemampuan dasar ini:

1. Belum dapat digunakan dan masih memerlukan konsultasi
2. Dapat digunakan dengan banyak revisi
3. Dapat digunakan dengan sedikit revisi

4. Dapat digunakan tanpa revisi

**Saran / Komentar**

Catatan:

---



---



---



---

**SKOR**

<b>1</b>	<b>2</b>	<b>3</b>	<b>4</b>

Indikator Kemampuan dasar pada Ranah Kognitif (C <sub>3</sub> ): KKO: menentukan gaya gravitasi antara dua buah planet	No. Soal	Kunci Jawaban
		<b>19</b>
	<p>Dua buah planet A dan B yang memiliki massa masing-masing <math>20,5 \times 10^{20}</math> kg dan <math>40 \times 10^{15}</math> kg. jika diketahui jarak titik pusat antara kedua planet <math>15 \times 10^{25}</math> m. Berapa besar gaya gravitasi antara kedua planet tersebut! (<math>G = 6,67 \times 10^{-11} \text{ Nm}^2/\text{kg}^2</math>)</p> <p>A. <math>24,30 \times 10^{25}</math> N            B. <math>2,43 \times 10^{26}</math> N            C. <math>243 \times 10^{26}</math> N  <b>D. <math>24,30 \times 10^{26}</math> N</b>            E. <math>24,30 \times 10^{27}</math> N</p>	

**Pembahasan**

Diketahui ;

$$m_A = 20,5 \times 10^{20} \text{ kg}$$

$$m_B = 40 \times 10^{15} \text{ kg}$$

$$r = 15 \times 10^{25} \text{ m}$$

$$G = 6,67 \times 10^{-11} \text{ Nm}^2/\text{kg}^2$$

Ditanyakan;  $F_{AB}$

Penyelesaian

$$F_{AB} = \frac{G \cdot m_A \cdot m_B}{r^2}$$

$$F_{AB} = \frac{6,67 \times 10^{-11} \cdot 20,5 \times 10^{20} \cdot 40 \times 10^{15}}{(15 \times 10^{25})^2}$$

$$F_{AB} = \frac{5469,4 \times 10^{24}}{(225 \times 10^{50})}$$

$$F_{AB} = 24,30 \times 10^{26} \text{ N}$$

Instrumen Tes Kemampuan dasar ini:

5. Belum dapat digunakan dan masih memerlukan konsultasi
6. Dapat digunakan dengan banyak revisi
7. Dapat digunakan dengan sedikit revisi

8. Dapat digunakan tanpa revisi

**Saran / Komentar**

Catatan:

---



---



---



---

SKOR			
1	2	3	4

Indikator Kemampuan dasar pada Ranah Kognitif (C <sub>4</sub> ): KKO: menganalisis Hukum Kepler	No. Soal	Kunci Jawaban
		20
	Kala revolusi Bumi terhadap Matahari 1 tahun. Sebuah benda langit memiliki kala revolusi 4 tahun. Jarak antara planet tersebut dengan matahari adalah... juta km A. 150 B. 300 C. 379,5 D. 600 E. 665,5	

**Pembahasan**

Diketahui :

$$T_B = 1 \text{ tahun}$$

$$T_p = 4 \text{ tahun}$$

Ditanyakan  $R_p$

$$\frac{T_B^2}{R_B^3} = \frac{T_p^2}{R_p^3}$$

$$\frac{1^2}{R^3} = \frac{4^2}{R^3}$$

$$R_p = \sqrt[3]{4^2 R^3}$$

$$R_p = \sqrt[3]{16R} = 2,53 R$$

Jarak antara bumi dan matahari adalah 1 sa = 150 juta km

$$R_p = 2,53 (150 \text{ juta km})$$

$$R_p = 379,5 \text{ juta km}$$

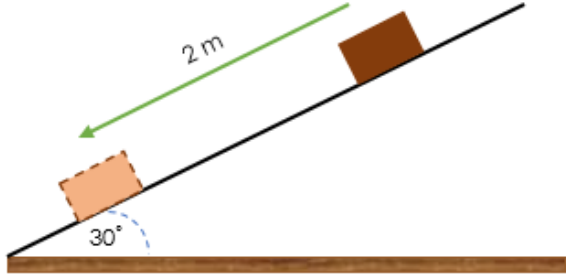
Instrumen Tes Kemampuan dasar ini:

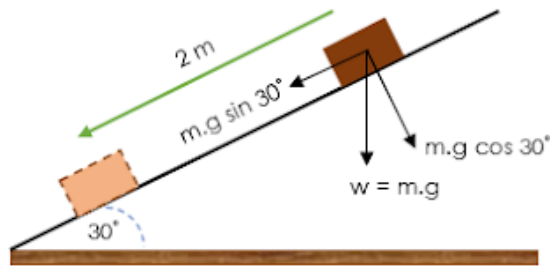
1. Belum dapat digunakan dan masih memerlukan konsultasi
2. Dapat digunakan dengan banyak revisi
3. Dapat digunakan dengan sedikit revisi
4. Dapat digunakan tanpa revisi

**Saran / Komentar**

Catatan:


SKOR			
1	2	3	4

Indikator Kemampuan dasar pada Ranah Kognitif (C <sub>3</sub> ): KKO: menentukan nilai usaha	No. Soal	Kunci Jawaban
		21
	<p>Perhatikan gambar berikut:</p>  <p>Sebuah benda dengan massa 20 kg meluncur ke bawah sepanjang bidang miring licin yang membentuk sudut 30° terhadap bidang horizontal. Jika benda bergeser sejauh 2 m, usaha yang dilakukan oleh gaya berat adalah...</p> <p>A. 150 joule  <b>B. 200 joule</b>  C. 250 joule  D. 300 joule  E. 350 joule</p>	
<p><b>Pembahasan</b></p> <p>Diketahui:  <math>m = 20 \text{ kg}</math>  <math>s = 2 \text{ m}</math>  <math>\alpha = 30^\circ</math></p> <p>Ditanya: usaha yang dilakukan oleh gaya berat!  Jawab:</p>		



Benda meluncur ke bawah pada bidang miring, sehingga gaya yang melakukan usaha adalah  $m.g \sin 30^\circ$

$$W = F.s$$

$$W = m.g \sin 30^\circ .s$$

$$W = 20 \cdot 10 \cdot (\frac{1}{2}) \cdot 2$$

$$W = 200 \text{ Joule}$$

Instrumen Tes Kemampuan dasar ini:

1. Belum dapat digunakan dan masih memerlukan konsultasi
2. Dapat digunakan dengan banyak revisi
3. Dapat digunakan dengan sedikit revisi
4. Dapat digunakan tanpa revisi

**Saran / Komentar**

Catatan:

---



---



---



---

UNIVERSITAS ISLAM NEGERI  
ALAUDDIN

		SKOR			
		1	2	3	4
Indikator Kemampuan dasar pada Ranah Kognitif (C <sub>2</sub> ): KKO: memahami faktor-faktor yang mempengaruhi besarnya energi	No. Soal	Kunci Jawaban			
	2 2	D			
		Energi dapat diartikan sebagai kemampuan untuk melakukan usaha. Diantara besaran besaran yang mempengaruhi energi potensial dan energi kinetik, besaran yang memiliki pengaruh yang sama antara kedua energi tersebut adalah...			
		A. Kecepatan benda B. Kedudukan benda C. Gaya gravitasi			

	<b>D. Massa benda</b> E. Berat benda
<b>Pembahasan</b> Energi potensial merupakan energi yang dipengaruhi oleh kedudukan benda, selain itu juga dipengaruhi oleh gaya gravitasi dan massa benda sedangkan pada energi kinetik besarnya energi dipengaruhi oleh kecepatan benda dan massa benda. Jadi yang menjadi besaran yang sama mempengaruhi besarnya energi adalah massa benda.	
Instrumen Tes Kemampuan dasar ini: <ol style="list-style-type: none"> <li>1. Belum dapat digunakan dan masih memerlukan konsultasi</li> <li>2. Dapat digunakan dengan banyak revisi</li> <li>3. Dapat digunakan dengan sedikit revisi</li> <li>4. Dapat digunakan tanpa revisi</li> </ol>	
<b>Saran / Komentar</b> Catatan:  <hr/> <hr/> <hr/> <hr/>	

		<b>SKOR</b>			
		<b>1</b>	<b>2</b>	<b>3</b>	<b>4</b>
Indikator Kemampuan dasar pada Ranah Kognitif (C <sub>2</sub> ): KKO: memahami penerapan hukum kekekalan energi mekanik	<b>No. Soal</b>	<b>Kunci Jawaban</b>			
	<b>2 3</b>	<b>B</b>			
		Hukum kekekalan energi menyatakan bahwa energi tidak dapat diciptakan amupun dimusnahkan. Begitupun dengan Energi mekanik. Energi mekanik merupakan energi yang diperoleh dari penjumlahan energi potensial dengan energi kinetik. Pernyataan yang tidak benar untuk memperbesar energi mekanik pada sebuah benda adalah... <ol style="list-style-type: none"> <li>A. Memperbesar kecepatan benda</li> <li><b>B. Memindahkan ke planet yang memiliki percepatan gravitasi lebih kecil</b></li> <li>C. Memindahkan ke tempat yang lebih tinggi</li> <li>D. Menggunakan benda yang lebih berat</li> <li>E. Memperbesar percepatan benda</li> </ol>			
<b>Pembahasan</b> Energi mekanik merupakan penjumlahan energi potensial dengan energi kinetic. Jadi untuk memperbesar energi mekanik dapat dilakukan dengan memperbesar energi kinetic dan energi potensial benda. Jawaban yang tidak benar untuk memperbesar energi mekanik					



adalah dengan memperkecil gaya gravitasi, karena dengan memindahkan ke planet yang memiliki percepatan gravitasi yang lebih kecil maka akan memperkecil energi potensial.

Instrumen Tes Kemampuan dasar ini:

1. Belum dapat digunakan dan masih memerlukan konsultasi
2. Dapat digunakan dengan banyak revisi
3. Dapat digunakan dengan sedikit revisi
4. Dapat digunakan tanpa revisi

**Saran / Komentar**

Catatan:

---



---



---



---

	<b>SKOR</b>			
	<b>1</b>	<b>2</b>	<b>3</b>	<b>4</b>
<p>Indikator Kemampuan dasar pada Ranah Kognitif (C<sub>3</sub>): KKO: menghitung daya keluaran pada mesin</p>	<b>No. Soal</b>	<b>Kunci Jawaban</b>		
	<b>2 4</b>	<b>A</b>		
	<p>Dua buah mesin memiliki masing-masing daya masukan sebesar 2,5 kilo watt. Daya keluaran kedua mesin jika mesin pertama memiliki efisiensi 80% dan mesin kedua merupakan mesin ideal berturut turut adalah...</p> <p style="text-align: center;"> <b>A. 2000 watt dan 2500 watt</b>                      B. 2500 watt dan 2000 watt                      C. 2000 watt dan 1000 watt                      D. 1000 watt dan 2000 watt                      E. 1500 watt dan 2500 watt                 </p>			
<p><b>Pembahasan</b></p> <p>Diketahui ;  <math>P_{in} = 2,5 \text{ kilo watt}</math>  <math>= 2,5 \times 10^3 \text{ watt}</math></p> <p>➤ <math>P_{out}</math> jika efisiensi mesin <math>\eta = 80\%</math>  <math>\eta = \frac{P_{out}}{P_{in}} \times 100\%</math>  <math>80\% = \frac{P_{out}}{2,5 \times 10^3} \times 100\%</math>  <math>\frac{80\%}{100\%} = \frac{P_{out}}{2,5 \times 10^3}</math>  <math>P_{out} = 2 \times 10^3</math>  <math>P_{out} = 2000 \text{ watt}</math></p> <p>➤ <math>P_{out}</math> jika mesin ideal maka efisiensi mesin <math>\eta = 100\%</math>                      Jika efisiensi mesin 100% maka nilai daya yang masuk akan sama dengan nilai daya</p>				

keluaran. Jadi nilai daya keluaran adalah  $2,5 \times 10^3$  watt.

Instrumen Tes Kemampuan dasar ini:

1. Belum dapat digunakan dan masih memerlukan konsultasi
2. Dapat digunakan dengan banyak revisi
3. Dapat digunakan dengan sedikit revisi
4. Dapat digunakan tanpa revisi

**Saran / Komentar**

Catatan:

---



---



---



---

SKOR			
1	2	3	4

Indikator Kemampuan dasar pada Ranah Kognitif (C <sub>3</sub> ): KKO: menghitung momentum total	No. Soal	Kunci Jawaban
		25
	Dua buah benda A dan B yang memiliki massa masing-masing 20 kg dan 15 kg. Momentum total kedua benda jika kedua benda bergerak dengan kecepatan 15 m/s dimana keduanya membentuk resultan vektor dengan sudut 45° adalah ... kgm/s A. 300 B. 400 C. 356,2 D. 456,2 E. 556	

**Pembahasan**

$$m_a = 20 \text{ kg}$$

$$m_b = 15 \text{ kg}$$

$$v_a = v_b = 15 \text{ m/s}$$

$$\alpha = 60^\circ$$

Ditanyakan momentum total

$$P = \sqrt{P_a^2 + P_b^2 + 2P_a P_b \cos \alpha}$$

$$P = \sqrt{(300)^2 + (225)^2 + 2 \cdot 300 \cdot 225 \cos 60}$$

$$P = \sqrt{90000 + 50625 + 67500}$$

$$P = \sqrt{208125}$$

P = 456,20

Instrumen Tes Kemampuan dasar ini:

5. Belum dapat digunakan dan masih memerlukan konsultasi
6. Dapat digunakan dengan banyak revisi
7. Dapat digunakan dengan sedikit revisi
8. Dapat digunakan tanpa revisi

**Saran / Komentar**

Catatan:

---

---

---

---

---



# LAMPIRAN 2

## ANALISIS VALIDASI

UNIVERSITAS ISLAM NEGERI  
ALAUDDIN  
MAKASSAR

**ANALISIS VALIDASI INSTRUMEN TES  
DIAGNOSTIK KEMAMPUAN DASAR  
FISIKA OLEH VALIDATOR**

No Butir Soal	Nilai Validator		Keterangan Penilaian	
	Ahli 1	Ahli 2	Ahli 1	Ahli 2
1	4	4	Kuat	Kuat
2	4	4	Kuat	Kuat
3	3	4	Kuat	Kuat
4	4	4	Kuat	Kuat
5	4	4	Kuat	Kuat
6	4	4	Kuat	Kuat
7	3	4	Kuat	Kuat
8	4	4	Kuat	Kuat
9	4	4	Kuat	Kuat
10	4	4	Kuat	Kuat
11	4	4	Kuat	Kuat
12	4	4	Kuat	Kuat
13	4	4	Kuat	Kuat
14	4	4	Kuat	Kuat
15	4	4	Kuat	Kuat
16	4	4	Kuat	Kuat
17	4	4	Kuat	Kuat
18	4	4	Kuat	Kuat
19	4	4	Kuat	Kuat
20	4	4	Kuat	Kuat
21	4	4	Kuat	Kuat
22	4	4	Kuat	Kuat
23	4	4	Kuat	Kuat
24	4	4	Kuat	Kuat
25	4	4	Kuat	Kuat

No	Nama Validator	Jabatan
1	Ali Umar Dani, M.P.fis	Dosen Fismat
2	Sudirman, M.Ed	Dosen Ahli

**Keterangan Relevansi:**

		<b>Validator I</b>	
		Lemah (1,2)	Kuat (3,4)
<b>Validator II</b>	Lemah (1,2)	A	B
	Kuat (3,4)	C	D

1. Jika validator 1 memberikan skor = 1 dan validator 2 = 1, maka relevansi tidak valid atau A.
2. Jika validator 1 memberikan skor = 3 atau 4 dan validator 2 = 1 atau 2, maka relevansi cukup valid atau B.
3. Jika validator 1 memberikan skor = 1 atau 2 dan validator 2 = 3 atau 4, maka relevansi valid atau C.
4. Jika validator 1 memberikan skor = 3 atau 4 dan validator 2 = 3 atau 4, maka relevansi sangat valid atau D.

Dari hasil validasi instrument oleh dua pakar di atas, maka diperoleh:

Relevansi kategori A = 0                      Relevansi kategori C = 0  
 Relevansi kategori B = 0                      Relevansi kategori D = 20

**Reliabilitas Instrumen**

Instrumen dinyatakan reliabel jika nilai  $R_{hitung}$  yang diperoleh lebih besar dari 0.75. Dalam penelitian ini, reliabilitas instrument dihitung dengan menggunakan uji gregori, sebagai berikut:

$$R = \frac{D}{DA + B + C + D}$$
$$= \frac{20}{0 + 0 + 0 + 20} = 1$$

Berdasarkan hasil perhitungan di atas, maka instrument dinyatakan reliabel karena

$R_{hitung} = 1 > 0.75$ . Sehingga instrument dapat digunakan selanjutnya.



# LAMPIRAN 3

## INSTRUMEN PENELITIAN

UNIVERSITAS ISLAM NEGERI  
ALAUDDIN  
MAKASSAR



## KARTU SOAL TES DIAGNOSTIK

### KEMAMPUAN DASAR FISIKA

Satuan Pendidikan : UIN Alauddin Makassar

Kelas / Semester : semester 1

Pokok Bahasan : Fisika Dasar

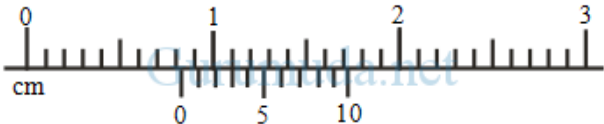
Bentuk Tes : Tertulis (Pilihan Ganda)

Penyusun : Irwan

SKOR			
1	2	3	4

	No. Soal	Kunci Jawaban
Indikator Kemampuan dasar pada Ranah Kognitif (C <sub>1</sub> ): KKO: Mengidentifikasi hakikat dan ruang lingkup ilmu Fisika	<b>1</b>	<b>B</b> Fisika adalah ilmu yang mempelajari alam secara keseluruhan, yang tidak termasuk dalam ruang lingkup makroskopik fisika adalah... F. Gerak Bumi mengelilingi matahari <b>G. Pergerakan elektron</b> H. Gerak lurus sebuah benda I. Gaya gravitasi bumi J. Jari-jari planet
<b>Pembahasan</b> Ruang lingkup makroskopik fisika merupakan pembelajaran ilmu fisika yang melingkupi cakupan yang berukuran besar		
Instrumen Tes Kemampuan dasar ini: <ol style="list-style-type: none"> <li>5. Belum dapat digunakan dan masih memerlukan konsultasi</li> <li>6. Dapat digunakan dengan banyak revisi</li> <li>7. Dapat digunakan dengan sedikit revisi</li> <li>8. Dapat digunakan tanpa revisi</li> </ol>		
<b>Saran / Komentar</b> Catatan: <hr style="border: 0; border-top: 1px solid black; margin-top: 10px;"/> <hr style="border: 0; border-top: 1px solid black; margin-top: 10px;"/> <hr style="border: 0; border-top: 1px solid black; margin-top: 10px;"/>		

SKOR			
1	2	3	4

Indikator Kemampuan dasar pada Ranah Kognitif (C <sub>3</sub> ): KKO: menentukan hasil pengukuran dari jangka sorong	No. Soal	Kunci Jawaban
		2
	<p>Perhatikan gambar berikut:</p>  <p>Berapa hasil pengukuran yang ditunjukkan pada alat ukur diatas dalam satuan foot...</p> <p>F. 0, 26 foot  G. 0, 04 foot  <b>H. 0, 03 foot</b>  I. 0, 0026 foot  J. 0,05 foot</p>	
<p><b>Pembahasan</b></p> <p>Hasil pengukuran yang ditunjukkan pada jangka sorong diatas adalah 0,83 cm. jika diubah ke dalam satuan foot maka diperoleh hasil 0,026 foot atau bisa dibulatkan menjadi 0,03 foot.</p>		
<p>Instrumen Tes Kemampuan dasar ini:</p> <ol style="list-style-type: none"> <li>5. Belum dapat digunakan dan masih memerlukan konsultasi</li> <li>6. Dapat digunakan dengan banyak revisi</li> <li>7. Dapat digunakan dengan sedikit revisi</li> <li>8. Dapat digunakan tanpa revisi</li> </ol> <p><b>Saran / Komentar</b></p> <p>Catatan:</p> <hr/> <hr/> <hr/> <hr/>		

		SKOR			
		1	2	3	4
Indikator Kemampuan dasar pada Ranah Kognitif (C2): KKO: memahami penggunaan angka penting	No. Soal	Kunci Jawaban			
	3	E			
	<p>Hasil perkalian yang benar sesuai dengan aturan penggunaan angka penting dari <math>0,10540 \times 2,50</math> adalah...</p> <p>F. 0,2635</p> <p>G. 0,26</p> <p>H. 0,263</p> <p>I. 0,30</p> <p>J. 0,3</p>				
<p><b>Pembahasan</b>            Hasil dari perkalian diatas memiliki 4 angka penting. Aturan penggunaan angka penting pada perkalian adalah mengikuti jumlah angka penting yang paling sedikit pada operasi perkalian yaitu 2 angka penting.</p>					
<p>Instrumen Tes Kemampuan dasar ini:</p> <ol style="list-style-type: none"> <li>5. Belum dapat digunakan dan masih memerlukan konsultasi</li> <li>6. Dapat digunakan dengan banyak revisi</li> <li>7. Dapat digunakan dengan sedikit revisi</li> <li>8. Dapat digunakan tanpa revisi</li> </ol>					
<p><b>Saran / Komentar</b>            Catatan:</p> <hr/> <hr/> <hr/> <hr/>					

SKOR			
1	2	3	4

Indikator Kemampuan dasar pada Ranah Kognitif (C <sub>4</sub> ): KKO menganalisis resultan ketiga vector	No. Soal	Kunci Jawaban
		4

Perhatikan gambar vektor tersebut!

Dari gambar diatas hitunglah:

F. 3,58 N  
**G. 4,58 N**  
H. 5,48 N  
I. 6,48 N  
J. 4,85 N

**Pembahasan**

$F_1 = 6$  Newton membentuk sudut  $60^\circ$  terhadap sumbu x positif  
 $F_2 = 6$  Newton membentuk sudut  $0^\circ$  terhadap sumbu x negatif  
 $F_3 = 12$  Newton membentuk sudut  $60^\circ$  terhadap sumbu y negatif  
Ditanya : Resultan gaya

Jawab :  
Hitung vektor komponen :

$$F_{1x} = F_1 \cos 60^\circ = (6)(0,5) = 3 \text{ N (bertanda positif karena searah sumbu x positif)}$$

$$F_{1y} = F_1 \sin 60^\circ = (6)(0,5\sqrt{3}) = 3\sqrt{3} \text{ N (bertanda positif karena searah sumbu y positif)}$$

$$F_{2x} = F_2 \cos 0^\circ = (6)(1) = -6 \text{ N (bertanda negatif karena searah sumbu x negatif)}$$

$$F_{2y} = F_2 \sin 0^\circ = (6)(0) = 0$$

$$F_{3x} = F_3 \cos 60^\circ = (12)(0,5) = 6 \text{ N (bertanda positif karena searah sumbu x positif)}$$

$$F_{3y} = F_3 \sin 60^\circ = (12)(0,5\sqrt{3}) = -6\sqrt{3} \text{ N (bertanda negatif karena searah sumbu y negatif)}$$

Jadi:

$$\begin{aligned} \sum F_x &= F_{1x} - F_{2x} + F_{3x} \\ &= 3 - 6 + 6 \\ &= 3 \text{ N} \end{aligned}$$

$$\begin{aligned} \sum F_y &= F_{1y} + F_{2y} - F_{3y} \\ &= 3\sqrt{3} + 0 - 6\sqrt{3} \end{aligned}$$

$$\begin{aligned}
 &= -3\sqrt{3} \text{ N} \\
 \Sigma F &= \sqrt{3^2 + (-3\sqrt{3})^2} \\
 &= \sqrt{9 + 12} \\
 &= \sqrt{21} \\
 &= 4,58 \text{ N}
 \end{aligned}$$

Instrumen Tes Kemampuan dasar ini:

5. Belum dapat digunakan dan masih memerlukan konsultasi
6. Dapat digunakan dengan banyak revisi
7. Dapat digunakan dengan sedikit revisi
8. Dapat digunakan tanpa revisi

**Saran / Komentar**

Catatan:

---



---



---



---

SKOR			
1	2	3	4

Indikator Kemampuan dasar pada Ranah Kognitif (C <sub>3</sub> ): KKO: mengitung penjumlahan vector	No. Soal	Kunci Jawaban
		5
	<p>Jika tiga buah Vektor M, N dan O terletak pada sumbu x dan y, dimana vektor-vektor tersebut bernilai <math>M = -14 u_x - 10 u_y</math>, <math>N = -13 u_x + 2 u_y</math>, <math>O = 30 u_y</math>. Tentukan penjumlahan dari ketiga vektor tersebut...</p> <p>F. <math>27 u_x + 22 u_y</math></p> <p>G. <math>22 u_x + 27 u_y</math></p> <p>H. <math>-27 u_x - 22 u_y</math></p> <p>I. <math>22 u_y - 27 u_x</math></p> <p>J. <math>-27 u_x + 22 u_x</math></p>	

**Pembahasan**

$$R = u_x R_x + u_y R_y$$

$$R = -27 u_x + 22 u_y \text{ atau}$$

$$R = 22 u_y - 27 u_x$$

Instrumen Tes Kemampuan dasar ini:

5. Belum dapat digunakan dan masih memerlukan konsultasi
6. Dapat digunakan dengan banyak revisi
7. Dapat digunakan dengan sedikit revisi
8. Dapat digunakan tanpa revisi/

**Saran / Komentar**

Catatan:

---



---



---



---

	SKOR			
	1	2	3	4
Indikator Kemampuan dasar pada Ranah Kognitif (C <sub>4</sub> ): KKO: menganalisis kecepatan awal pada gerak lurus	<b>No. Soal</b>	<b>Kunci Jawaban</b>		
	<b>6</b>	<b>B</b>		
	Sebuah partikel bergerak di atas tanah dengan persamaan posisi $Y = (-3t^2 + 12t + 6)$ foot. Berapakah kecepatan awal dan percepatan partikel.... m/s.			
	F. 12 m/s dan $-6 \text{ m/s}^2$			
	G. 3,7 m/s dan $-1,82 \text{ m/s}^2$			
	H. 12 m/s dan $6 \text{ m/s}^2$			
	I. 5 m/s dan $2 \text{ m/s}^2$			
	J. 11 m/s dan $-12 \text{ m/s}^2$			
<b>Pembahasan</b>				
c. kecepatan awal partikel $t = 0 \text{ s}$				
$Y = (-3t^2 + 12t + 6)$				
$v = -6t + 12$				
$= -6(0) + 12$				
$= 12 \text{ foot/s}$				
$= 3,7 \text{ m/s}$				
d. percepatan partikel				
$v = -6t + 12$				
$a = -6 \text{ foot/s}^2$				
$a = -1,82 \text{ m/s}^2$				
Instrumen Tes Kemampuan dasar ini:				
5. Belum dapat digunakan dan masih memerlukan konsultasi				
6. Dapat digunakan dengan banyak revisi				
7. Dapat digunakan dengan sedikit revisi				

8. Dapat digunakan tanpa revisi

**Saran / Komentar**

Catatan:

---



---



---



---

SKOR			
1	2	3	4

Indikator Kemampuan dasar pada Ranah Kognitif (C <sub>2</sub> ): KKO: membedakan ciri-ciri gerak vertikal ke bawah dengan gerak vertikal ke atas	No. Soal	Kunci Jawaban
		<b>7</b>
		<p>Gerak vertikal merupakan gerak sebuah benda yang bergerak vertikal. Adapun gerak vertikal terbagi menjadi gerak vertikal ke bawah dan ke atas. Yang menjadi ciri-ciri dari gerak vertikal ke bawah yang membedakan dengan gerak vertikal ke atas yaitu..</p> <p>F. Memiliki kecepatan awal</p> <p><b>G. Ketika sampai dasar memiliki kecepatan</b></p> <p>H. Tidak memiliki kecepatan akhir pada saat mencapai puncak tertinggi</p> <p>I. Percepatan gravitasi bernilai negatif</p> <p>J. Tidak dipengaruhi gaya gravitasi</p>

**Pembahasan**

Pada gerak vertikal ke bawah memiliki ciri-ciri antara lain, memiliki kecepatan awal, percepatan gravitasi bernilai positif dan ketika pada sampai dasar benda masih memiliki kecepatan akhir. Sedangkan pada gerak vertikal ke atas memiliki ciri-ciri antara lain, memiliki kecepatan awal, percepatan gravitasi bernilai negatif dan pada saat mencapai puncak tertinggi tidak memiliki kecepatan atau kecepatan benda sama dengan nol.

Instrumen Tes Kemampuan dasar ini:

5. Belum dapat digunakan dan masih memerlukan konsultasi
6. Dapat digunakan dengan banyak revisi
7. Dapat digunakan dengan sedikit revisi
8. Dapat digunakan tanpa revisi

**Saran / Komentar**

Catatan:

---


SKOR			
1	2	3	4

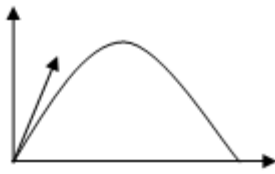
<p>Indikator Kemampuan dasar pada Ranah Kognitif (C<sub>4</sub>): KKO: menganalisis gerak vertikal ke atas</p>	<p><b>No. Soal</b> <b>8</b></p>	<p><b>Kunci Jawaban</b> <b>A</b></p>
<p>Sebuah batu digunakan untuk melempar sebuah mangga dengan kecepatan awal 10 m/s. jika pada saat mengenai mangga kecepatan batu 6 m/s. Tentukan ketinggian mangga yang dilempar dengan <math>g = 10 \text{ m/s}^2 \dots</math></p> <p style="color: red;">F. 3,2 m</p> <p>G. 4,8 m</p> <p>H. 3200 cm</p> <p>I. 6,281 ft</p> <p>J. 2 m</p>		
<p><b>Pembahasan</b></p> $V_t = V_0 - gt$ $6 = 10 - 10(t)$ $t = 0,4 \text{ s}$ <p>jadi</p> $h_t = V_0 t - \frac{1}{2} g t^2$ $= (10 \cdot 0,4) - (\frac{1}{2} (10)(0,4)^2)$ $= 4 - 0,8$ $= 3,2 \text{ m}$		
<p>Instrumen Tes Kemampuan dasar ini:</p> <ol style="list-style-type: none"> <li>5. Belum dapat digunakan dan masih memerlukan konsultasi</li> <li>6. Dapat digunakan dengan banyak revisi</li> <li>7. Dapat digunakan dengan sedikit revisi</li> <li>8. Dapat digunakan tanpa revisi</li> </ol> <p><b>Saran / Komentar</b></p> <p>Catatan:</p> <hr/> <hr/> <hr/>		



SKOR			
1	2	3	4

Indikator Kemampuan dasar pada Ranah Kognitif (C <sub>4</sub> ): KKO: Menganalisis perbandingan kecepatan gerak jatuh bebas di bumi dan di bulan	No. Soal	Kunci Jawaban
		9
	Sebuah benda dijatuhkan pada ketinggian 20m. berapakah perbandingan kecepatan akhir benda jika benda dijatuhkan di bumi dan di bulan... F. 4 : 2 <b>G. 5 : 2</b> H. 2 : 5 I. 2 : 4 J. 4 : 5	
<b>Pembahasan</b> $\frac{V_{bumi}}{V_{bulan}} = \frac{\sqrt{2 \cdot g \cdot h}}{\sqrt{2 \cdot g \cdot h}}$ $\frac{V_{bumi}}{V_{bulan}} = \frac{\sqrt{2 \cdot 10 \cdot 20}}{\sqrt{2 \cdot 1,6 \cdot 20}}$ $\frac{V_{bumi}}{V_{bulan}} = \frac{\sqrt{400}}{\sqrt{64}}$ $\frac{V_{bulan}}{V_{bumi}} = \frac{8}{20}$ $\frac{V_{bulan}}{V_{bumi}} = \frac{5}{2}$ jadi perbandingan kecepatan akhir benda adalah 5 : 2		
Instrumen Tes Kemampuan dasar ini: 5. Belum dapat digunakan dan masih memerlukan konsultasi 6. Dapat digunakan dengan banyak revisi 7. Dapat digunakan dengan sedikit revisi 8. Dapat digunakan tanpa revisi <b>Saran / Komentar</b> Catatan: <hr/> <hr/> <hr/> <hr/>		

		SKOR			
		1	2	3	4
Indikator Kemampuan dasar pada Ranah Kognitif (C <sub>1</sub> ): KKO: mengingat defenisi dari gerak parabola	No. Soal	Kunci Jawaban			
	10	C			
		Perpaduan antara gerak lurus beraturan dengan arah sumbu X dan gerak vertikal dengan arah sumbu Y merupakan defenisi dari gerak...			
		F. Gerak melingkar			
		G. Gerak lurus			
		H. Gerak parabola			
		I. Gerak jatuh bebas			
		J. Gerak sentripetal			
<b>Pembahasan</b>					
Gerak parabola adalah Perpaduan antara gerak lurus beraturan dengan arah sumbu X dan gerak vertikal dengan arah sumbu Y					
Instrumen Tes Kemampuan dasar ini:					
5. Belum dapat digunakan dan masih memerlukan konsultasi					
6. Dapat digunakan dengan banyak revisi					
7. Dapat digunakan dengan sedikit revisi					
8. Dapat digunakan tanpa revisi					
<b>Saran / Komentar</b>					
Catatan:					
_____					
_____					
_____					
_____					

		SKOR			
		1	2	3	4
Indikator Kemampuan dasar pada Ranah Kognitif (C <sub>4</sub> ): KKO: menganalisis kecepatan benda pada gerak parabola	No. Soal	Kunci Jawaban			
	11	E			
		Sebuah benda dilemparkan dengan sudut elevasi 60° dan kecepatan awal 20 m/s ( lihat gambar )			
					

	<p>Berapa kecepatan awal pada sumbu X dan Y ... m/s</p> <p>F. <math>X = 10\sqrt{3}</math> m/s dan <math>Y = 10</math> m/s</p> <p>G. <math>X = 10</math> m/s dan <math>Y = 10</math> m/s</p> <p>H. <math>X = 10\sqrt{3}</math> m/s dan <math>Y = \sqrt{3}</math> m/s</p> <p>I. <math>X = \sqrt{3}</math> m/s dan <math>Y = 10</math> m/s</p> <p>J. <b><math>X = 10</math> m/s dan <math>Y = 10\sqrt{3}</math> m/s</b></p>
<p><b>Pembahasan</b></p> <p>Kecepatan awal pada sumbu X dan Y</p> $v_{0x} = v_0 \cos \alpha$ $= 20 \cos 60$ $= 20 \cdot \frac{1}{2}$ $= 10 \text{ m/s}$ $v_{0y} = v_0 \sin \alpha$ $= 20 \sin 60$ $= 20 \cdot \frac{\sqrt{3}}{2}$ $= 10\sqrt{3} \text{ m/s}$	
<p>Instrumen Tes Kemampuan dasar ini:</p> <ol style="list-style-type: none"> <li>5. Belum dapat digunakan dan masih memerlukan konsultasi</li> <li>6. Dapat digunakan dengan banyak revisi</li> <li>7. Dapat digunakan dengan sedikit revisi</li> <li>8. Dapat digunakan tanpa revisi</li> </ol> <p><b>Saran / Komentar</b></p> <p>Catatan:</p> <hr/> <hr/> <hr/> <hr/>	

UNIVERSITAS ISLAM NEGERI  
ALAUDDIN  
MAKASSAR

Indikator Kemampuan dasar pada Ranah Kognitif (C <sub>3</sub> ):	Kemampuan menentukan kecepatan linear pada gerak melingkar	No. Soal	SKOR			
			1	2	3	4
		12	C			
			Roda berputar dengan kecepatan 240 putaran tiap menit. Jika jari-jari roda 30 cm, maka kecepatan linear partikel yang terletak di pinggir roda adalah...m/s			
			F. $0,14\pi$			
			G. $0,28\pi$			
			<b>H. <math>0,48\pi</math></b>			
			I. $0,64\pi$			

J.  $0,96\pi$

**Pembahasan**

$$\omega = \frac{240 \text{ putaran}}{5 \text{ menit}} = 8/5 \pi \text{ rad/s}$$

$$R = 30 \text{ cm} = 0,3 \text{ m}$$

$$V = \omega \cdot R$$

$$V = (8/5 \pi) (0,3)$$

$$V = 0,48 \pi \text{ rad/s}$$

Instrumen Tes Kemampuan dasar ini:

5. Belum dapat digunakan dan masih memerlukan konsultasi
6. Dapat digunakan dengan banyak revisi
7. Dapat digunakan dengan sedikit revisi
8. Dapat digunakan tanpa revisi

**Saran / Komentar**

Catatan:

---



---

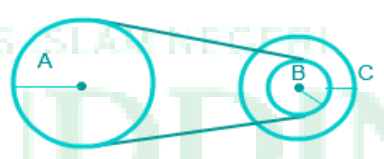


---



---

SKOR			
1	2	3	4

Indikator Kemampuan dasar pada Ranah Kognitif (C <sub>3</sub> ): KKO: menentukan frekuensi dan periode	No. Soal	Kunci Jawaban
		<b>13</b>
	Perhatiakn gambar berikut!	
	 <p><math>R_A = 40 \text{ cm}, R_B = 10 \text{ cm}, R_C = 30 \text{ cm}</math></p>	
	Tentukan frekuensi dan periode putaran roda B jika kecepatan sudut roda A 20 rad/s...	
	<p>F. 12,73 Hz dan 0,08 s</p> <p>G. 11,20 Hz dan 0,5 s</p> <p>H. 12,7 Hz dan 1 s</p> <p>I. 10 hz dan 0,1 s</p> <p>J. 20 Hz dan 0,2 s</p>	
<b>Pembahasan</b>		

➤ frekuensi

$$\omega_b = \frac{\omega_a \cdot R_a}{R_b}$$

$$= 8/0,1$$

$$= 80 \text{ rad/s}$$

$$\omega_b = 2\pi f$$

$$f = \frac{\omega_b}{2\pi}$$

$$f = \frac{80}{2 \cdot 3,14}$$

$$f = 12,73 \text{ Hz}$$

➤ periode

$$T = 1/f$$

$$T = 1/12,73$$

$$T = 0,08 \text{ s}$$

Instrumen Tes Kemampuan dasar ini:

5. Belum dapat digunakan dan masih memerlukan konsultasi
6. Dapat digunakan dengan banyak revisi
7. Dapat digunakan dengan sedikit revisi
8. Dapat digunakan tanpa revisi

**Saran / Komentar**

Catatan:

---



---



---



---

SKOR			
1	2	3	4

Indikator Kemampuan dasar pada Ranah Kognitif (C <sub>3</sub> ):	Kemampuan menentukan kecepatan sudut	No. Soal	Kunci Jawaban
		1 4	D
		Posisi sudut pada suatu roda dapat dinyatakan dalam sebuah persamaan $\theta = (5 + 10t + 2t^2 \text{ rad}$ dengan t dalam sekon. Nilai kecepatan sudut rata-rata dari t = 0 sekon hingga t = 2 adalah... rad/s	
		F. 10	
		G. 11	
		H. 13	
		I. 14	
		J. 1	
<b>Pembahasan</b>		$\theta = (5 + 10t + 2t^2 \text{ rad}$	

$$\theta_0 = (5 + 10(0) + 2(0)^2)$$

$$\theta_0 = 5 \text{ radian}$$

$$\theta_2 = (5 + 10(2) + 2(2)^2)$$

$$\theta_2 = 33 \text{ radian}$$

nilai kecepatan rata – rata :

$$\omega = \frac{\Delta\theta}{\Delta t} = \frac{(33 - 5)\text{radian}}{2 \text{ sekon}}$$

$$\omega = 14 \frac{\text{rad}}{\text{s}}$$

jadi, nilai kecepatan sudut rata-rata 14 rad/s.

Instrumen Tes Kemampuan dasar ini:

5. Belum dapat digunakan dan masih memerlukan konsultasi
6. Dapat digunakan dengan banyak revisi
7. Dapat digunakan dengan sedikit revisi
8. Dapat digunakan tanpa revisi

**Saran / Komentar**

Catatan:

---



---



---



---

**SKOR**

1	2	3	4

Indikator Kemampuan dasar pada Ranah Kognitif (C <sub>3</sub> ):	No. Soal	Kunci Jawaban
KKO: menghitung kecepatan linear	15	A
		Seseorang berdiri di khatulistiwa bumi yang jari-jarinya 6,4 x 10 <sup>4</sup> m. jika lama rotasi yang dirasakan selama satu hari, kelajuan linear yang dirasakan sekitar ... m/s <b>F. 470</b> G. 480 H. 500 I. 650 J. 720
<b>Pembahasan</b>		
Diketahui :		
R = 6,4 x 10 <sup>4</sup> m		
T = 24 jam x 3600 s		
= 86400 s		
Ditanyakan; v		

$$\omega = \frac{2\pi}{T}$$

$$\omega = \frac{2(3,14)}{86400}$$

$$\omega = 7,3 \times 10^{-4} \text{ rad/s}$$

➤ Kelajuan linear yang dirasakan

$$V = \omega \cdot R$$

$$V = (7,3 \times 10^{-4}) (6,4 \times 10^4)$$

$$V = 467 \text{ m/s}$$

Jadi kelajuan linear yang dirasakan sekitar 470 m/s

Instrumen Tes Kemampuan dasar ini:

5. Belum dapat digunakan dan masih memerlukan konsultasi
6. Dapat digunakan dengan banyak revisi
7. Dapat digunakan dengan sedikit revisi
8. Dapat digunakan tanpa revisi

**Saran / Komentar**

Catatan:

---

SKOR			
1	2	3	4

Indikator Kemampuan dasar pada Ranah Kognitif (C <sub>3</sub> ): KKO: menentukan gaya sentripetal	No. Soal	Kunci Jawaban
		1 6
	Sebuah mobil dengan massa 1000 kg melintasi suatu jembatan yang melengkung. Jari-jari kelengkungan jembatan 20 m dengan pusat berada di bawah jembatan. Besar gaya yang diberikan mobil pada jembatan saat mobil berada di puncak jembatan jika kelajuannya 36 km/jam adalah... F. 2000 N G. 3000 N H. 4000 N I. 5000 N J. 6000 N	
<b>Pembahasan</b> Diketahui ; m = 1000 kg R = 20 m v = 36 km/jam		

$$= 10 \text{ m/s}$$

Gaya yang diberikan mobil pada saat di puncak jembatan sama dengan gaya normal yang diberikan jembatan terhadap mobil

$$\sum F_s = mv^2/R$$

$$W - N = mv^2/R$$

$$N = mg - (mv^2/R)$$

$$N = (1000 \cdot 10) - (1000 \cdot (10)^2 / 20)$$

$$N = 10000 - 5000$$

$$N = 5000 \text{ N}$$

Instrumen Tes Kemampuan dasar ini:

9. Belum dapat digunakan dan masih memerlukan konsultasi
10. Dapat digunakan dengan banyak revisi
11. Dapat digunakan dengan sedikit revisi
12. Dapat digunakan tanpa revisi

**Saran / Komentar**

Catatan:

---



---



---



---

SKOR			
1	2	3	4

Indikator Kemampuan dasar pada Ranah Kognitif (C <sub>1</sub> ): KKO: mengetahui hukum Newton	No. Soal	Kunci Jawaban
		1 7
	Hukum I Newton membahas tentang sifat benda yang cenderung mempertahankan keadaannya (diam atau bergerak dengan kecepatan tetap). Oleh karena itu, hukum I Newton dikenal sebagai... F. Hukum kelembaman G. Hukum gravitasi Newton H. Hukum kekekalan energi I. Hukum kekekalan momentum J. Hukum aksi-reaksi	

**Pembahasan**

Hukum I Newton dikenal sebagai hukum kelembaman. Hukum Aksi-Reaksi adalah hukum III Newton. Hukum II Newton membahas tentang gerak benda.

Instrumen Tes Kemampuan dasar ini:

13. Belum dapat digunakan dan masih memerlukan konsultasi
14. Dapat digunakan dengan banyak revisi
15. Dapat digunakan dengan sedikit revisi



16. Dapat digunakan tanpa revisi

**Saran / Komentar**

Catatan:

---



---



---



---

SKOR			
1	2	3	4

Indikator Kemampuan dasar pada Ranah Kognitif (C <sub>4</sub> ): KKO: menganalisis hukum Newton	No. Soal	Kunci Jawaban
		<b>1 8</b>
	<p>Seseorang saat berada dalam lift berdiri di atas timbangan badan. Sebelum lift bergerak, timbangan menunjukkan angka 60 kg. ketika lift bergerak kebawah dengan percepatan 0,5 m/s<sup>2</sup> (g = 10 m/s<sup>2</sup>). Jarum timbangan akan menunjukkan angka...</p> <p>F. 30 kg G. 50 kg <b>H. 57 kg</b> I. 59 kg J. 63 kg</p>	

**Pembahasan**

Diketahui ;

$$m = 60 \text{ kg}$$

$$a = 0,5 \text{ m/s}^2$$

$$g = 10 \text{ m/s}^2$$

jawaban :

$$\Sigma F = m \cdot a$$

$$W - N = m \cdot a$$

$$mg - m'g = m \cdot a$$

$$m'g = mg - ma$$

$$m'(10) = (60)(10) - (60)(0,5)$$

$$m'(10) = 600 - 30$$

$$m' = 57 \text{ kg}$$

jadi jarum timbangan akan menunjukkan angka 57 kg.

Instrumen Tes Kemampuan dasar ini:

9. Belum dapat digunakan dan masih memerlukan konsultasi

10. Dapat digunakan dengan banyak revisi

11. Dapat digunakan dengan sedikit revisi

12. Dapat digunakan tanpa revisi

**Saran / Komentar**

Catatan:

---



---



---



---

**SKOR**

<b>1</b>	<b>2</b>	<b>3</b>	<b>4</b>

Indikator Kemampuan dasar pada Ranah Kognitif (C <sub>3</sub> ): KKO: menentukan gaya gravitasi antara dua buah planet	No. Soal	Kunci Jawaban
		<b>19</b>
	Dua buah planet A dan B yang memiliki massa masing-masing $20,5 \times 10^{20}$ kg dan $40 \times 10^{15}$ kg. jika diketahui jarak titik pusat antara kedua planet $15 \times 10^{25}$ m. Berapa besar gaya gravitasi antara kedua planet tersebut! ( $G = 6,67 \times 10^{-11} \text{ Nm}^2/\text{kg}^2$ ) F. $24,30 \times 10^{25}$ N G. $2,43 \times 10^{26}$ N H. $243 \times 10^{26}$ N <b>I. <math>24,30 \times 10^{26}</math> N</b> J. $24,30 \times 10^{27}$ N	

**Pembahasan**

Diketahui ;

$$m_A = 20,5 \times 10^{20} \text{ kg}$$

$$m_B = 40 \times 10^{15} \text{ kg}$$

$$r = 15 \times 10^{25} \text{ m}$$

$$G = 6,67 \times 10^{-11} \text{ Nm}^2/\text{kg}^2$$

Ditanyakan;  $F_{AB}$

Penyelesaian

$$F_{AB} = \frac{G \cdot m_A \cdot m_B}{r^2}$$

$$F_{AB} = \frac{6,67 \times 10^{-11} \cdot 20,5 \times 10^{20} \cdot 40 \times 10^{15}}{(15 \times 10^{25})^2}$$

$$F_{AB} = \frac{5469,4 \times 10^{24}}{(225 \times 10^{50})}$$

$$F_{AB} = 24,30 \times 10^{26} \text{ N}$$

Instrumen Tes Kemampuan dasar ini:

- 13. Belum dapat digunakan dan masih memerlukan konsultasi
- 14. Dapat digunakan dengan banyak revisi
- 15. Dapat digunakan dengan sedikit revisi

16. Dapat digunakan tanpa revisi

**Saran / Komentar**

Catatan:

---



---



---



---

SKOR			
1	2	3	4

Indikator Kemampuan dasar pada Ranah Kognitif (C <sub>4</sub> ): KKO: menganalisis Hukum Kepler	No. Soal	Kunci Jawaban
		20
	Kala revolusi Bumi terhadap Matahari 1 tahun. Sebuah benda langit memiliki kala revolusi 4 tahun. Jarak antara planet tersebut dengan matahari adalah... juta km	
	F. 150	
	G. 300	
	H. 379,5	
	I. 600	
	J. 665,5	

**Pembahasan**

Diketahui :

$$T_B = 1 \text{ tahun}$$

$$T_p = 4 \text{ tahun}$$

Ditanyakan  $R_p$

$$\frac{T_B^2}{R_B^3} = \frac{T_p^2}{R_p^3}$$

$$\frac{1^2}{R^3} = \frac{4^2}{R^3}$$

$$R_p = \sqrt[3]{4^2 R^3}$$

$$R_p = \sqrt[3]{16R} = 2,53 R$$

Jarak antara bumi dan matahari adalah 1 sa = 150 juta km

$$R_p = 2,53 (150 \text{ juta km})$$

$$R_p = 379,5 \text{ juta km}$$

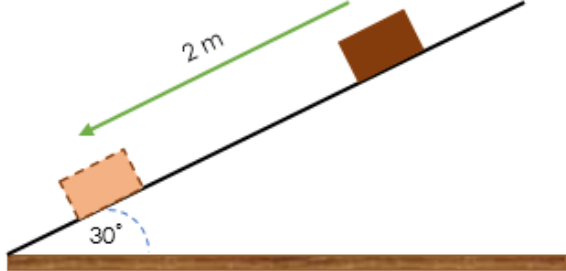
Instrumen Tes Kemampuan dasar ini:

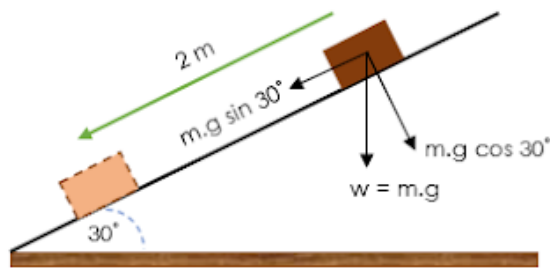
5. Belum dapat digunakan dan masih memerlukan konsultasi
6. Dapat digunakan dengan banyak revisi
7. Dapat digunakan dengan sedikit revisi
8. Dapat digunakan tanpa revisi

**Saran / Komentar**

Catatan:


SKOR			
1	2	3	4

Indikator Kemampuan dasar pada Ranah Kognitif (C <sub>3</sub> ): KKO: menentukan nilai usaha	No. Soal	Kunci Jawaban
		21
	<p>Perhatikan gambar berikut:</p>  <p>Sebuah benda dengan massa 20 kg meluncur ke bawah sepanjang bidang miring licin yang membentuk sudut 30° terhadap bidang horizontal. Jika benda bergeser sejauh 2 m, usaha yang dilakukan oleh gaya berat adalah...</p> <p>F. 150 joule  <b>G. 200 joule</b>  H. 250 joule  I. 300 joule  J. 350 joule</p>	
<p><b>Pembahasan</b>  Diketahui:  <math>m = 20 \text{ kg}</math>  <math>s = 2 \text{ m}</math>  <math>\alpha = 30^\circ</math>  Ditanya: usaha yang dilakukan oleh gaya berat!  Jawab:</p>		



Benda meluncur ke bawah pada bidang miring, sehingga gaya yang melakukan usaha adalah  $m.g \sin 30^\circ$

$$W = F.s$$

$$W = m.g \sin 30^\circ .s$$

$$W = 20 \cdot 10 \cdot (\frac{1}{2}) \cdot 2$$

$$W = 200 \text{ Joule}$$

Instrumen Tes Kemampuan dasar ini:

5. Belum dapat digunakan dan masih memerlukan konsultasi
6. Dapat digunakan dengan banyak revisi
7. Dapat digunakan dengan sedikit revisi
8. Dapat digunakan tanpa revisi

**Saran / Komentar**

Catatan:

---



---



---



---

SKOR			
1	2	3	4

Indikator Kemampuan dasar pada Ranah Kognitif ( $C_2$ ): KKO: memahami faktor-faktor yang mempengaruhi besarnya energi	No. Soal	Kunci Jawaban
	22	D
	Energi dapat diartikan sebagai kemampuan untuk melakukan usaha. Diantara besaran-besaran yang mempengaruhi energi potensial dan energi kinetik, besaran yang memiliki pengaruh yang sama antara kedua energi tersebut adalah...	
	F. Kecepatan benda	
	G. Kedudukan benda	
	H. Gaya gravitasi	
	I. <b>Massa benda</b>	
	J. Berat benda	

**Pembahasan**

Energi potensial merupakan energi yang dipengaruhi oleh kedudukan benda, selain itu

juga dipengaruhi oleh gaya gravitasi dan massa benda sedangkan pada energi kinetik besarnya energi dipengaruhi oleh kecepatan benda dan massa benda. Jadi yang menjadi besaran yang sama mempengaruhi besarnya energi adalah massa benda.

Instrumen Tes Kemampuan dasar ini:

5. Belum dapat digunakan dan masih memerlukan konsultasi
6. Dapat digunakan dengan banyak revisi
7. Dapat digunakan dengan sedikit revisi
8. Dapat digunakan tanpa revisi

**Saran / Komentar**

Catatan:

---



---



---



---

SKOR			
1	2	3	4

Indikator Kemampuan dasar pada Ranah Kognitif (C <sub>2</sub> ): KKO: memahami penerapan hukum kekekalan energi mekanik	No. Soal	Kunci Jawaban
	2 3	B
	<p>Hukum kekekalan energi menyatakan bahwa energi tidak dapat diciptakan amupun dimusnahkan. Begitupun dengan Energi mekanik. Energi mekanik merupakan energi yang diperoleh dari penjumlahan energi potensial dengan energi kinetik. Pernyataan yang tidak benar untuk memperbesar energi mekanik pada sebuah benda adalah...</p> <p>F. Memperbesar kecepatan benda  <b>G. Memindahkan ke planet yang memiliki percepatan gravitasi lebih kecil</b>  H. Memindahkan ke tempat yang lebih tinggi  I. Menggunakan benda yang lebih berat  J. Memperbesar percepatan benda</p>	

**Pembahasan**

Energi mekanik merupakan penjumlahan energi potensial dengan energi kinetic. Jadi untuk memperbesar energi mekanik dapat dilakukan dengan memperbesar energi kinetic dan energi potensial benda. Jawaban yang tidak benar untuk memperbesar energi mekanik adalah dengan memperkecil gaya gravitasi, karena dengan memindahkan ke planet yang memiliki percepatan gravitasi yang lebih kecil maka akan memperkecil energi potensial.

Instrumen Tes Kemampuan dasar ini:

5. Belum dapat digunakan dan masih memerlukan konsultasi
6. Dapat digunakan dengan banyak revisi
7. Dapat digunakan dengan sedikit revisi
8. Dapat digunakan tanpa revisi

**Saran / Komentar**

Catatan:

---



---



---



---

		SKOR			
		1	2	3	4
Indikator Kemampuan dasar pada Ranah Kognitif (C <sub>3</sub> ): KKO: menghitung daya keluaran pada mesin	No. Soal	Kunci Jawaban			
	2 4	A			
		Dua buah mesin memiliki masing-masing daya masukan sebesar 2,5 kilo watt. Daya keluaran kedua mesin jika mesin pertama memiliki efisiensi 80% dan mesin kedua merupakan mesin ideal berturut turut adalah...			
		F. 2000 watt dan 2500 watt G. 2500 watt dan 2000 watt H. 2000 watt dan 1000 watt I. 1000 watt dan 2000 watt J. 1500 watt dan 2500 watt			
<b>Pembahasan</b>					
Diketahui ;					
$P_{in} = 2,5 \text{ kilo watt}$ $= 2,5 \times 10^3 \text{ watt}$					
➤ $P_{out}$ jika efisiensi mesin $\eta = 80\%$					
$\eta = \frac{P_{out}}{P_{in}} \times 100\%$ $80\% = \frac{P_{out}}{2,5 \times 10^3} \times 100\%$ $\frac{80\%}{100\%} = \frac{P_{out}}{2,5 \times 10^3}$ $P_{out} = 2 \times 10^3$ $P_{out} = 2000 \text{ watt}$					
➤ $P_{out}$ jika mesin ideal maka efisiensi mesin $\eta = 100\%$					
Jika efisiensi mesin 100% maka nilai daya yang masuk akan sama dengan nilai daya keluaran. Jadi nilai daya keluaran adalah $2,5 \times 10^3 \text{ watt}$ .					

Instrumen Tes Kemampuan dasar ini:

9. Belum dapat digunakan dan masih memerlukan konsultasi
10. Dapat digunakan dengan banyak revisi
11. Dapat digunakan dengan sedikit revisi
12. Dapat digunakan tanpa revisi

**Saran / Komentar**

Catatan:

---



---



---



---

		SKOR			
		1	2	3	4
Indikator Kemampuan dasar pada Ranah Kognitif (C <sub>3</sub> ): KKO: menghitung momentum total	No. Soal	Kunci Jawaban			
	25	D			
		Dua buah benda A dan B yang memiliki massa masing-masing 20 kg dan 15 kg. Momentum total kedua benda jika kedua benda bergerak dengan kecepatan 15 m/s dimana keduanya membentuk resultan vektor dengan sudut 45° adalah ... kgm/s			
		F. 300			
		G. 400			
		H. 356,2			
		I. 456,2			
		J. 556			
<b>Pembahasan</b>					
$m_a = 20 \text{ kg}$					
$m_b = 15 \text{ kg}$					
$v_a = v_b = 15 \text{ m/s}$					
$\alpha = 60^\circ$					
Ditanyakan momomentum total					
$P = \sqrt{P_a^2 + P_b^2 + 2P_a P_b \cos \alpha}$					
$P = \sqrt{(300)^2 + (225)^2 + 2 \cdot 300 \cdot 225 \cos 60}$					
$P = \sqrt{90000 + 50625 + 67500}$					
$P = \sqrt{208125}$					
$P = 456,20$					
Instrumen Tes Kemampuan dasar ini:					



- 13. Belum dapat digunakan dan masih memerlukan konsultasi
- 14. Dapat digunakan dengan banyak revisi
- 15. Dapat digunakan dengan sedikit revisi
- 16. Dapat digunakan tanpa revisi

**Saran / Komentar**

Catatan:


---

---

---

---

---



# LAMPIRAN 4

## PERSURATAN

UNIVERSITAS ISLAM NEGERI  
ALAUDDIN  
MAKASSAR



KEMENTERIAN AGAMA  
**JURUSAN PENDIDIKAN FISIKA**  
FAKULTAS TARBİYAH DAN KEGURUAN  
UNIVERSITAS ISLAM NEGERI (UIN) ALAUDDIN MAKASSAR  
Jl. Sultan Alauddin Nomor 36 Samata-Gowa ☎(0411) 882682 (Fax. 882682)

**SURAT KETERANGAN**  
**VALIDASI INSTRUMEN PENELITIAN**

*No. 152/PEND-FISIKA/PENG.VAL.INST/IX/2018*

Tim Validasi Jurusan Pendidikan Fisika Fakultas Tarbiyah dan Keguruan UIN Alauddin Makassar, telah memvalidasi instrumen untuk keperluan penelitian yang berjudul: “**Identifikasi kemampuan dasar mahasiswa pendidikan fisika fakultas tarbiyah dan keguruan Universitas Islam Negeri Alauddin Makassar dengan menggunakan Tes Diagnostik**”. Oleh Peneliti:

Nama : Irwan  
NIM : 20600115066  
Strata/Prodi/Jurusan: Pendidikan Fisika  
Fakultas : Tarbiyah dan Keguruan  
Pembimbing I : Dr. Hj. Syamsuduha, M.Pd  
Pembimbing II : Dr. Sitti Mania, M.Ag

Setelah diperiksa secara teliti dan saksama oleh Tim Validasi Jurusan Pendidikan Fisika, Maka instrumen penelitian tersebut telah memenuhi:

**Validasi Isi (*Content Validity*)**

Keterangan ini dibuat untuk dipergunakan semestinya.


Samata-Gowa, 16 November 2018

Mengetahui

Ketua Jurusan Pendidikan Fisika

  
Dr. H. Muhammad Qaddafi, S.Si., M.Si.  
NIP. 19760802 200501 1 004

Validator II,

  
Ali Umardani, S.Pd., M.P.Fis.  
NIP. -



KEMENTERIAN AGAMA  
**JURUSAN PENDIDIKAN FISIKA**  
FAKULTAS TARBIYAH DAN KEGURUAN  
UNIVERSITAS ISLAM NEGERI (UIN) ALAUDDIN MAKASSAR  
Jl. Sultan Alauddin Nomor 36 Samata-Gowa ☎ (0411) 882682 (Fax. 882682)

**SURAT KETERANGAN**  
**VALIDASI INSTRUMEN PENELITIAN**

*No. 152/PEND-FISIKA/PENG.VAL.INST/IX/2018*

Tim Validasi Jurusan Pendidikan Fisika Fakultas Tarbiyah dan Keguruan UIN Alauddin Makassar, telah memvalidasi instrumen untuk keperluan penelitian yang berjudul: “**Identifikasi kemampuan dasar mahasiswa pendidikan fisika fakultas tarbiyah dan keguruan Universitas Islam Negeri Alauddin Makassar dengan menggunakan Tes Diagnostik**”. Oleh Peneliti:

Nama : Irwan  
NIM : 20600115066  
Strata/Prodi/Jurusan : Pendidikan Fisika  
Fakultas : Tarbiyah dan Keguruan  
Pembimbing I : Dr. Hj. Syamsuduha, M.Pd  
Pembimbing II : Dr. Sitti Mania, M.Ag

Setelah diperiksa secara teliti dan saksama oleh Tim Validasi Jurusan Pendidikan Fisika, Maka instrumen penelitian tersebut telah memenuhi:

**Validasi Isi (*Content Validity*)**

Keterangan ini dibuat untuk dipergunakan semestinya.

Samata-Gowa, 16 November 2018

Mengetahui  
Ketua Jurusan Pendidikan Fisika

Validator I,

Dr. H. Muhammad Qaddafi, S.Si., M.Si.  
NIP. 19760802 200501 1 004

Sudirman, S/Pd., M.Ed.  
NIP. 19900847 201801 1 002



Scanned with  
CamScanner

## PERSETUJUAN SEMINAR DRAFT/PROPOSAL

Draft Proposal yang berjudul: "Identifikasi Kemampuan Dasar Mahasiswa Pendidikan Fisika Fakultas Tarbiyah dan Keguruan Universitas Islam Negeri Alauddin Makassar Dengan Menggunakan Tes Diagnostik", yang disusun oleh saudara(i) **Irwan**, NIM : 20600115066, Mahasiswa Prodi Pendidikan Fisika pada Fakultas Tarbiyah dan Keguruan UIN Alauddin Makassar, telah diperiksa dan disetujui oleh kedua pembimbing untuk diseminarkan.

Samata, ... *Irwan* ... *Mania* ...

Pembimbing I

Pembimbing II

*Sitti Syamsuduha*

Dr. Hj. Sitti Syamsuduha, M. Pd.  
NIP. 19681228 199303 2 003

*Mania*

Dr. Mania, M. Ag.  
NIP. 19731212 200003 2 001

Mengetahui,  
Kepala Prodi Pendidikan Fisika

  
*Muhammad Qaddafi*  
Dr. H. Muhammad Qaddafi, S. Si., M. Si  
NIP. 19760302 200501 1 004



KEMENTERIAN AGAMA  
**JURUSAN PENDIDIKAN FISIKA**  
FAKULTAS TARBİYAH DAN KEGURUAN  
UNIVERSITAS ISLAM NEGERI (UIN) ALAUDDIN MAKASSAR  
Jl. Sultan Alauddin Nomor 36 Samata-Gowa ☎(0411) 882682 (Fax. 882682)

**SURAT KETERANGAN**  
**PERBAIKAN UJIAN PROPOSAL**

Berdasarkan **Ujian Proposal Penelitian** yang dilaksanakan pada tanggal **05 Juli 2018**, Pukul:  
13.00 – 15.00 WITA, di **Laboratorium Fisika Dasar Lantai IV** Fakultas Tarbiyah dan  
Keguruan UIN Alauddin Makassar, telah melakukan perbaikan-perbaikan untuk penyusunan  
Skripsi dengan identitas sebagai berikut:


Nama : Irwan  
NIM : 20600115066  
Jurusan : Pendidikan Fisika  
Program Pendidikan : Sarjana (S1)  
Pembimbing I : Dr. Hj Syamsuduha, M.Pd  
Pembimbing II : Dr. Sitti Mania M.Ag  
Judul :

**“Identifikasi Kemampuan Dasar Menggunakan Tes  
Diagnostik Mahasiswa Pendidikan Fisika Fakultas  
Tarbiyah dan Keguruan Universitas Islam Negeri Alauddin  
Makassar “**

Demikian surat keterangan ini dibuat untuk persyaratan untuk Validasi Instrumen dan  
penelitian.

Samata-Gowa, ..... Oktober 2018

Mengetahui  
Penguji Komite  
Jurusan Pendidikan Fisika

  
**Suhardiman, S.Pd., M.Pd**  
NIP.

## PERSETUJUAN PEMBIMBING

Pembimbing skripsi yang berjudul "Identifikasi Kemampuan Dasar Mahasiswa dengan Menggunakan Tes Diagnostik pada Program Studi Pendidikan Fisika Fakultas Tarbiyah dan Keguruan Universitas Islam Negeri Alauddin Makassar", yang disusun oleh saudara **Irwan**, NIM: 20600115066, Mahasiswa Jurusan Pendidikan Fisika pada Fakultas Tarbiyah dan Keguruan Universitas Islam Negeri (UIN) Alauddin Makassar, telah diperiksa dan dikoreksi secara seksama, memandang bahwa skripsi tersebut telah memenuhi syarat-syarat ilmiah dan dapat disetujui untuk diajukan keseminar hasil.

Demikian persetujuan ini diberikan untuk diproses lebih lanjut.

Makassar, 27/2019

Pembimbing I

Pembimbing II



Dr. Hj. St. Syamsudduha, M.Pd  
NIP. 19681228 199303 2 003



Dr. Sitti Mania, M.Ag  
NIP. 19731212 200003 2 001

Mengetahui,

Ketua Jurusan Pendidikan Fisika



Dr. H. Muhammad Qaddafi, S. Si., M. Si  
NIP. 19760802 200501 1 004





KEMENTERIAN AGAMA  
UNIVERSITAS ISLAM NEGERI ALAUDDIN MAKASSAR  
FAKULTAS TARBIYAH & KEGURUAN  
PRODI PENDIDIKAN FISIKA

Kampus I Jl Slt Alauddin No. 63 Makassar Tlp. (0411) 864924 Fax 864923  
Kampus II Sultan Alauddin No. 36 Samata Sungguminasa-Gowa Tlp. (0411) 424835 Fax 424836

**SURAT KETERANGAN**

*Nomor: 170/Pend-Fisika/VII/2019*

Yang bertanda tangan di bawah ini, Ketua Jurusan Pendidikan Fisika Fakultas Tarbiyah dan Keguruan UIN Alauddin Makassar menerangkan bahwa:

Nama : Irwan  
NIM : 20600115066  
Angkatan : 2015  
Semester : VIII

Benar telah selesai melakukan penelitian pada Jurusan Pendidikan Fisika pada tanggal 14 Januari 2019 guna penyusunan skripsi dengan judul : "Identifikasi Kemampuan Dasar Mahasiswa dengan Menggunakan Tes Diagnostik pada Program Studi Pendidikan Fisika Fakultas Tarbiyah dan Keguruan UIN Alauddin Makassar".

Demikian surat keterangan ini dibuat untuk dipergunakan seperlunya.

Samata-Gowa, 25 Juli 2019  
Ketua Jurusan,

Dr. H. Muhammad Qaddafi, S.Si., M.Si. /  
NIP 19760802 200501 1 004





KEMENTERIAN AGAMA  
UNIVERSITAS ISLAM NEGERI (UIN) ALAUDDIN MAKASSAR  
FAKULTAS TARBİYAH DAN KEGURUAN  
JURUSAN PENDIDIKAN FISIKA

ALAUDDIN  
MAKASSAR  
Jl. H. M. Yasin Limpo Nomor 36 Samata-Gowa ☎ (0411) 882682 (Fax. 882682)

**SURAT KETERANGAN TURNITIN**

NO: 11 613 161 51 /Pend-Fisika/1302001 /2019

Tim Instruktur Deteksi Plagiat Turnitin telah menerima naskah Skripsi dengan identitas:

Penulis : Irwan  
NIM : 206001150566  
Judul : Identifikasi Kemampuan Dasar Fisika dengan Menggunakan Tes Diagnostik pada Program Studi Pendidikan Fisika Fakultas Tarbiyah dan Keguruan UIN Alauddin Makassar  
Pembimbing I : Dr. Hj. Syamsudduha, M.Pd.  
Pembimbing II : Dr. Sitti Mania, M.Ag.

Menyatakan bahwa naskah tersebut telah di Periksa Tingkat Kemiripan (Indeks Similarity) dengan skor/hasil sebesar 24%. Sesuai dengan pedoman yang berlaku, maka Skripsi ini di Nyatakan Layak/ Tidak layak\* untuk lanjut ke proses berikutnya.

Demikian surat keterangan ini dibuat untuk melengkapi syarat Ujian Munaqasyah.

Samata, 5 - 9 - 2019

Instruktur Turnitin

Irawati, S.I.P.

\*Lingkari yang diperiksa

\*\*Coret yang tidak perlu

# LAMPIRAN 5

DOKUMENTASI

UNIVERSITAS ISLAM NEGERI  
ALAUDDIN  
MAKASSAR





# LAMPIRAN 6

## DAFTAR NILAI

UNIVERSITAS ISLAM NEGERI  
ALAUDDIN  
MAKASSAR

DAFTAR NILAI MAHASISWA PROGRAM STUDI

PENDIDIKAN FISIKA ANGKATAN 2018

No	Nama	Nilai	Asal Sekolah	Jurusan
1	Abdi Putri Maharani	28	SMA	IPA
2	Abdul Rajab	28	SMA	IPA
3	Ahmad Rudianto	32	SMA	IPA
4	Ahrani Nuramadhani	28	SMA	IPA
5	Aisyah Hidayati	39	MA	IPA
6	Aldina Rosa	24	SMA	IPA
7	Alif Damayanti	40	SMA	IPA
8	Andi Farhan	40	SMA	IPA
9	Andi Reski Amalia Ramadhani	28	SMA	IPA
10	Andi Ulul Asmi	28	SMA	IPA
11	Ari Wulandari	28	SMA	IPA
12	Arman Andika	44	SMK	Multimedia
13	Asmita	24	SMA	IPA
14	Azraf	20	SMA	IPA
15	Dhea Anggreny	32	MA	IPA
16	Dian Furqani Ramadhani	32	SMA	IPA
17	Dian Mayasari	28	SMA	IPA
18	Diana Rista	32	SMA	IPA
19	Edi	16	SMA	IPA
20	Fiskia Ruzaina	24	SMA	IPA
21	Furqa Nul Arham	36	SMA	IPA
22	Hartini R	44	SMA	IPA
23	Hasanuddin Wirabuana	28	SMA	IPA
24	Hidayatun Nisa	28	SMA	IPA
25	Intan Indria Tari	12	SMA	IPA
26	Ivan Fadila	24	SMK	Konstruksi Bangunan
27	Kardiman Akisah	16	MA	IPA
28	Mafdayani. M	12	SMA	IPA
29	Magfira Aulia	40	MA	IPA
30	Muftihatur Rahma	24	MA	IPA
31	Muh Awal Nur Ramadhan	48	SMA	IPA
32	Muh. Akmal Al Hasbi	32	MA	IPA
33	Naijma	28	SMA	IPA

34	Nur Aeni	24	SMA	IPA
35	Nur Annisa Idris	20	SMA	IPA
36	Nur Asni	44	SMA	IPA
37	Nur Aziza Arifin	24	SMA	IPA
38	Nur Fatimah	24	MA	IPA
39	Nur Fauziah	32	SMA	IPA
40	Nur Intan	20	SMA	IPA
41	Nur Ulviah Humairah	16	SMA	IPA
42	Nur Zulfaa Rusu	40	SMA	IPA
43	Nurfadillah	48	SMA	IPA
44	Nurhikmah	39	SMA	IPA
45	Nurul Astina	24	SMA	IPA
46	Nurul IndaSari	28	SMA	IPA
47	Rachmat Ashar	28	SMK	Elektronika
48	Reski Wahyudi s	36	SMA	IPA
49	Ruslan	44	MA	IPA
50	Sartika	44	MA	IPA
51	Sasmitha	36	SMA	IPA
52	Sikrullah	16	SMK	Listrik
53	Siti Rikha Hanum Maulida	36	SMA	IPA
54	Sitti Zarah Taslima	28	SMA	IPA
55	Sopyana	36	SMA	IPA
56	Sri Ulfa	32	SMA	IPA
57	Sri Wahyuni	36	SMA	IPA
58	Sry Mahafisawati L. Chona	28	SMA	IPA
59	St. Hasnawiah Jawil	32	SMA	IPA
60	Suci Utami	20	SMA	IPA
61	Syaifuddin Arief	32	SMA	IPA
62	Ulfia Annamira	24	SMK	Budidaya Perikanan
63	Wawan	28	SMA	IPA
64	Ziaul Khaerul Qasyaf	36	SMA	IPA
65	Zulkarnaen	4	SMA	IPA



## RIWAYAT HIDUP



IRWAN dilahirkan di Camming pada tanggal 21 November 1998. Anak pertama dari tiga bersaudara, adik penulis bernama Erwin dan Putri, adik penulis bernama Muh. Syahriadi. Hasil buah kasih dari SAPPE dan SANTI. Pendidikan Formal dimulai dari sekolah Dasar di SD Inpres Camming dan lulus pada tahun 2010. Pada tahun yang sama, penulis melanjutkan pendidikan di SMP Negeri 3 Barru dan lulus pada tahun 2013, dan pada tahun yang sama pula penulis melanjutkan pendidikan di Sekolah Menengah Atas Negeri (SMAN) 1 Barru dan lulus pada tahun 2015. Kemudian penulis melanjutkan pendidikan di Universitas Islam Negeri (UIN) Alauddin Makassar ke jenjang s1 pada Jurusan Pendidikan Fisika Fakultas Tarbiyah Dan Keguruan, sampai saat biografi ini ditulis.