



Muh. Said L., S.Si., M.Pd.

Teknik Analisis Data dan Rambat Ralat

EKSPERIMEN FISIKA DASAR

**Mengasah Psikomotorik Melalui Keterampilan
Menganalisis Data Percobaan Fisika**



Alauddin University Press

Teknik Analisis Data dan Rambat Ralat

EKSPERIMEN FISIKA DASAR

Mengasah Psikomotorik Melalui Keterampilan
Menganalisis Data Percobaan Fisika

Teknik Analisis Data dan Rambat Ralat

EKSPERIMEN FISIKA DASAR

Mengasah Psikomotorik Melalui Keterampilan
Menganalisis Data Percobaan Fisika

Muh. Said L., S.Si., M.Pd.



RAJAWALI PERS
Divisi Buku Perguruan Tinggi
PT RajaGrafindo Persada
DEPOK

Perpustakaan Nasional: Katalog dalam terbitan (KDT)

Muh. Said L.

Teknik Analisis Data dan Rambat Ralat Eksperimen Fisika Dasar:

Mengasah Psikomotorik Melalui Keterampilan Menganalisis

Data Percobaan Fisika/Muh. Said L.

—Ed. 1, Cet. 1.—Depok: Rajawali Pers, 2022.

xxiv, 222 hlm., 23 cm.

Bibliografi: hlm. 213

ISBN 978-623-372-499-9

Hak cipta 2022, pada penulis

Dilarang mengutip sebagian atau seluruh isi buku ini dengan cara apa pun,
termasuk dengan cara penggunaan mesin fotokopi, tanpa izin sah dari penerbit

2022.3702 RAJ

Muh. Said L., S.Si., M.Pd.

TEKNIK ANALISIS DATA DAN RAMBAT RALAT EKSPERIMEN FISIKA DASAR

Mengasah Psikomotorik Melalui Keterampilan Menganalisis

Data Percobaan Fisika

Cetakan ke-1, Oktober 2022

Hak penerbitan pada PT RajaGrafindo Persada, Depok

Copy Editor : Indi Vidyafi

Setter : Ria Purwanti

Desain cover : Tim Kreatif RGP

Dicetak di Rajawali Printing

PT RAJAGRAFINDO PERSADA

Anggota IKAPI

Kantor Pusat:

Jl. Raya Leuwininggung, No.112, Kel. Leuwininggung, Kec. Tapos, Kota Depok 16456

Telepon : (021) 84311162

E-mail : rajapers@rajagrafindo.co.id

<http://www.rajagrafindo.co.id>

Penwakilan:

Jakarta-16456 Jl. Raya Leuwininggung No. 112, Kel. Leuwininggung, Kec. Tapos, Depok, Telp. (021) 84311162. **Bandung**-40243, Jl. H. Kardi Timur No. 8 Komplek Kurdi, Telp. 022-5206202. **Yogyakarta**-Perum. Pondok Soragan Indah Blok A1, Jl. Soragan, Ngestiharjo, Kasihan, Bantul, Telp. 0274-625093. **Surabaya**-60118, Jl. Rungkut Harapan Blok A No. 09, Telp. 031-8700819. **Palembang**-30137, Jl. Macan Kumbang III No. 10/4459 RT 78 Kel. Demang Lebar Daun, Telp. 0711-445062. **Pekanbaru**-28294, Perum De' Diandra Land Blok C 1 No. 1, Jl. Kartama Marpoyan Damai, Telp. 0761-65807. **Medan**-20144, Jl. Eka Rasmi Gg. Eka Rossa No. 3A Blok A Komplek Johor Residence Kec. Medan Johor, Telp. 061-7871546. **Makassar**-90221, Jl. Sultan Alauddin Komp. Bumi Permata Hijau Bumi 14 Blok A14 No. 3, Telp. 0411-851618. **Banjarmasin**-70114, Jl. Bali No. 31 Rt 05, Telp. 0511-3352060. **Bali**, Jl. Imam Bonjol Gg 100/V No. 2, Denpasar Telp. (0361) 8607995. **Bandar Lampung**-35115, Perum. Bilabong Jaya Block 88 No. 3 Susunan Baru, Langkapura, Hp. 081299047094.



PENGANTAR REKTOR

Alhamdulillah wa syukurillah, atas segala rahmat Allah Swt. beserta selawat dan salam kepada Rasul-Nya Muhammad Saw., mengiringi aktivitas keseharian kita dalam menjalankan tugas dan tanggung jawab akademik dan peran-peran kehidupan lainnya sehari-hari.

Publikasi karya akademik adalah salah satu ruh perguruan tinggi, karena perguruan tinggi adalah ruang produksi ide dan gagasan yang harus selalu di-*update* dan di-*upgrade*. Buku adalah salah satu produk akademik yang kelahirannya, mesti diapresiasi setinggi-tingginya. Oleh karena di balik proses lahirnya, ada kerja keras yang menguras waktu, tenaga, dan pikiran. Kerja keras dan upaya sungguh-sungguh untuk menghadirkan sebuah karya akademik, adalah bukti nyata dedikasi serta khidmat seorang insan universitas bagi perkembangan ilmu pengetahuan.

Sebagai kampus yang memiliki visi menjadi pusat pencerahan dan transformasi ipteks berbasis peradaban Islam, kehadiran buku terbitan PT RajaGrafindo Persada ini, diharapkan menjadi sumbangan berharga bagi diseminasi ilmu pengetahuan di lingkungan kampus peradaban, sekaligus semakin memperkaya bahan bacaan bagi penguatan integrasi keilmuan.

Buku ini tentu jauh dari kesempurnaan, sehingga kritik dan masukan dari para pembaca untuk para penulis akan sangat dinantikan.

Karena dengan itu, iklim akademik kampus akan dinamis dengan tradisi diskursif yang hidup.

Akhirnya, sebagai Rektor, saya mengapresiasi setinggi-tingginya atas penerbitan buku yang menjadi bagian dari Program Penerbitan 100 Buku Referensi UIN Alauddin Makassar tahun 2022 ini. Semoga membawa kemaslahatan bagi warga kampus dan masyarakat secara umum.

Gowa, 2 Mei 2021

Rektor UIN Alauddin Makassar
Prof. H. Hamdan Juhanis, M.A., Ph.D.



PRAKATA

Bismillahirrahmanirrahiim

Puji syukur atas keagungan Allah Swt., pencipta segala ruang dan dimensi waktu dari sebuah ketidakadaan. Berkat rahmat dan petunjuk-Nya, buku yang berjudul *Teknik Analisis Data dan Rambat Ralat Eksperimen Fisika Dasar (Mengasah Psikomotorik Melalui Keterampilan Menganalisis Data Percobaan Fisika)*, dapat disajikan kepada pembaca. Buku ini diharapkan menjadi materi yang bermanfaat bagi mahasiswa (jurusan pendidikan sains, sains dan teknik). Buku ini juga berisikan tentang teknik dan cara-cara menganalisis data eksperimen yang perlu dikuasai oleh mahasiswa eksak sebelum melakukan praktikum fisika dasar di tingkat perguruan tinggi.

Buku *Teknik Analisis Data dan Rambat Ralat Eksperimen Fisika Dasar*, ini dapat dijadikan bahan referensi utama bagi mahasiswa tingkat pertama di perguruan tinggi. Teknik analisis data dan rambat ralat eksperimen ini telah diuraikan dengan cara terstruktur berdasarkan data-data hasil eksperimen di laboratorium fisika. Terkadang setiap melakukan pengolahan data di laboratorium yang berkaitan dengan rambat ralat ketidakpastian, mahasiswa dan bahkan tenaga asisten laboratorium pun mengalami kesulitan dalam hal menganalisis data, karena kurangnya referensi standar yang tersedia. Oleh karena itu, dengan adanya buku referensi ini dapat membantu dalam hal

analisis data dan pembuktian secara perhitungan rambat ralat. Akan tetapi, harus disadari dan diakui bahwa tanpa memahami dasar-dasar pengukuran besaran fisika dan teori ketidakpastian, mustahil segala bidang eksperimen dapat dilakukan dengan baik dan teliti.

Selanjutnya dalam buku ini pula, terdapat 13 kasus eksperimen fisika dasar telah dikaji mulai dari bab pertama hingga bab tiga belas. Pada bab pertama, menguraikan lebih terperinci tentang konsep pengukuran dan cara menganalisis pengukuran besaran fisis; bab kedua dan ketiga telah menguraikan analisis eksperimen kasus gerak (gerak menggelinding dan gaya gesekan); bab keempat membahas teknik analisis data eksperimen elastisitas khususnya percobaan bandul matematis dan hukum Hooke; bab kelima dan keenam mengkaji analisis data eksperimen suhu dan kalor yaitu kasus kapasitas kalor dengan Cobra3 (lebih terperinci teknik digital dalam pengambilan data) dan pemuai zat (analisisnya lebih komprehensif); bab ketujuh membahas data analisis eksperimen kajian fluida yaitu viskositas zat cair; bab kedelapan menguraikan eksperimen gelombang Melde dengan data percobaan yang lebih teliti; bab kesembilan dan kesepuluh membahas kajian eksperimen kelistrikan kasus rangkaian listrik dan hukum Kirchoof; bab kesebelas dan keduabelas menguraikan eksperimen difraksi Fraunhofer dan optik jarak fokus lensa; dan selanjutnya bab terakhir adalah eksperimen tara kalor mekanik dengan cara listrik dengan memadukan data percobaan materi suhu dan kelistrikan.

Dari ketigabelas kasus tersebut, maka hal ini dapat mempermudah dosen, laboran dan mahasiswa selaku praktikan dan lainnya yang menekuni bidang eksperimen fisika. Selain itu pula, buku ini sangat membantu dalam melakukan teknik pengolahan dan analisis data eksperimen baik di ruang kelas (perkuliahan) maupun di dalam laboratorium sebagai pembuktian data eksperimen dengan teori-teori yang sudah ditemukan.

Penulis mengucapkan terima kasih kepada seluruh pihak yang membantu penyusunan buku ini, meskipun melalui usaha kerja keras sejak dan dorongan serta orang-orang yang selalu mendoakan. Segala bentuk doa, tutur kata yang memberikan semangat untuk terus

berkarya, penulis mengucapkan terima kasih yang tak berhingga, teristimewa kepada kedua orang tua: **Ibunda Sio; Ayahanda Lanto**, terkhusus buat istriku tersayang **Hadriyanti, S.Pd** atas doa, segala jiwa dan hatinya yang penuh suka cita dan keempat anakku yang sangat saya banggakan: **M. H. Fakhriy Said L., M.H., Fadhil Said L., M.H., Arfa Said L., dan Maisun Fatimah Said L.** Kepada pimpinan Rektor UIN Alauddin Makassar yang berkenan memberikan kesempatan berkarya serta pengantar sambutan dalam penyusunan buku ini. Kepada seluruh pihak yang membantu khususnya mahasiswa dan tim laboratorium fisika di Fakultas Sains dan Teknologi UIN Alauddin, terima kasih atas kerja sama dan keterbukaannya untuk memajukan Fakultas Sains dan Teknologi, mudah-mudahan buku ini dapat menjadi referensi bagi umat, menambah wawasan dan mengembangkan ide serta pemikiran yang lebih kreatif baik kepada penulis sendiri, maupun bagi khalayak pembaca pada umumnya.

Akhirnya sebagai bagian dari perjuangan untuk melaju, penulis sadar akan keterbatasan pada ilmu pengetahuan dan pengalaman untuk menuliskan buku ini secara lengkap. Sebagai penutup, penulis dengan segenap rendah hati untuk menemukan kesempurnaan, penulis berharap agar segala sumbang saran positif dari pembaca dan pihak mana pun untuk penyempurnaan isi buku ini. Harapan penulis, semoga buku ini bernilai ibadah dan memudahkan pembaca serta dapat berkontribusi terhadap kemajuan ilmu pengetahuan dan teknologi serta menjadi ladang pahala yang ikhlas di sisi Allah Swt. *Amiin Ya Rabbal 'Alamiin.*

Gowa, 03 Juni 2022

Penulis



UCAPAN TERIMA KASIH

Pada kegiatan penyusunan buku ini, diucapkan terima kasih yang sebesar-besarnya kepada:

1. **Rektor UIN Alauddin Makassar**, yang telah memberikan kesempatan kepada penulis untuk menulis dan meluangkan ide-ide dan pemikiran hasil penelitian yang inovatif dalam bentuk buku referensi, sehingga dapat dijadikan sebagai bahan pustaka bagi khalayak pembaca.
2. **Pihak Laboratorium Fisika Fakultas Sains dan Teknologi UIN Alauddin Makassar** sebagai tempat pengambilan data-data eksperimen.
3. **Mahasiswa dan Tim Pengelola Laboratorium (Laboran)** yang terlibat dalam kegiatan membantu melakukan pengambilan data eksperimen.

DAFTAR ISI

Pengantar Rektor	v
Prakata	vii
Ucapan Terima Kasih	xi
Daftar Isi	xiii
Daftar Tabel	xvii
Daftar Gambar	xxi
Bab 1 Pengukuran Besaran Fisis	1
A. Pendahuluan Konsep Pengukuran	1
B. Rancangan Eksperimen Pengukuran Besaran Fisis	18
C. Hasil Pengukuran dan Teknik Analisis Data	25
D. Penugasan Eksperimen	42
Bab 2 Eksperimen Gerak: Gerak Menggelinding	45
A. Pendahuluan Teori Singkat	45
B. Rancangan Eksperimen Gerak Menggelinding	46
C. Hasil Pengamatan dan Teknik Analisis Data	48
D. Penugasan Eksperimen	49
Bab 3 Eksperimen Gerak: Koefisien Gesek	51
A. Pendalaman Materi Tentang Gaya Gesekan	51
B. Rancangan Eksperimen Koefisien Gesek	53

C.	Hasil Pengamatan dan Teknik Analisis Data Eksperimen	56
D.	Tugas Eksperimen	59
Bab 4	Eksperimen Elastisitas (Konstanta Pegas dan Bandul Matematis)	61
A.	Teori Singkat Eksperimen	61
B.	Rancangan Eksperimen Konstanta Pegas	64
C.	Rancangan Eksperimen Bandul Sederhana	66
D.	Hasil Pengamatan dan Teknik Analisis Data Eksperimen Konstanta Pegas	68
E.	Hasil Pengamatan dan Teknik Analisis Data Eksperimen Bandul Sederhana	69
F.	Penugasan Eksperimen	71
Bab 5	Eksperimen Suhu dan Kalor: Kapasitas Kalor Cobra3	73
A.	Teori Dasar Eksperimen	73
B.	Rancangan Eksperimen Kapasitas Kalor Cobra3	74
C.	Hasil Pengamatan dan Teknik Analisis Data	78
Bab 6	Eksperimen Suhu dan Kalor: Pemuaian Panjang Logam	81
A.	Pengantar	81
B.	Rancangan Eksperimen Pemuaian Panjang Logam	84
C.	Hasil Pengamatan	86
D.	Teknik Analisis Data/Grafik	88
E.	Kajian Pembahasan Eksperimen Pemuaian Panjang Logam	94
Bab 7	Eksperimen Kajian Fluida: Viskositas Zat Cair	97
A.	Teori Singkat Konsep Viskositas	97
B.	Rancangan Eksperimen Viskositas Zat Cair	99

C.	Hasil Pengamatan dan Teknik Analisis Data	101
D.	Tugas Eksperimen	102
Bab 8	Eksperimen Kajian Gelombang: Hukum Melde	105
A.	Kasus Percobaan Gelombang Melde	105
B.	Teknik Perancangan dan Prosedur Percobaan	106
C.	Hasil Pengamatan Eksperimen Hukum Melde	108
D.	Teknik Analisis Data Percobaan	108
Bab 9	Eksperimen Listrik Dinamis: Rangkaian Listrik Secara Seri-Paralel dan Gabungan	111
A.	Eksperimen Rangkaian Listrik Seri-Paralel dan Gabungan	111
B.	Hasil Pengamatan dan Analisis Data Eksperimen	114
C.	Kajian Pembahasan Eksperimen	126
Bab 10	Eksperimen Listrik Dinamis: Analisis Loop (Hukum Kirchoof)	129
A.	Rancangan Eksperimen Analisis Loop	129
B.	Hasil Pengamatan dan Teknik Analisis Data Eksperimen Analisis Loop	132
C.	Kajian Pembahasan Eksperimen Analisis Loop	140
Bab 11	Eksperimen Difraksi Fraunhofer dengan Sinar Laser	143
A.	Pendahuluan	143
B.	Eksperimen dan Perangkat-perangkatnya	145
C.	Hasil Pengamatan dan Teknik Analisis Data Difraksi Fraunhofer	147
D.	Tugas Eksperimen	157
Bab 12	Eksperimen Optik: Jarak Fokus Lensa	159
A.	Hasil Pengamatan Eksperimen	159
B.	Teknik Analisis Data	160

C. Rambut Ralat	162
D. Menghitung Rambut Ralat	163
E. Penulisan Hasil Eksperimen	164
Bab 13 Eksperimen Tara Kalor Mekanik dengan Cara Listrik	165
A. Konsep Eksperimen	165
B. Rancangan Eksperimen	166
C. Hasil Pengukuran dan Teknik Analisis Data	168
D. Analisis Rambut Ralat	170
E. Menghitung Rambut Ralat	171
F. Tugas Eksperimen	172
Bab 14 Optik	175
A. Pendahuluan Tentang Cahaya	175
B. Teori-teori Tentang Cahaya	176
C. Konsep Dasar Pemantulan Cahaya	179
D. Pemantulan pada Cermin Datar	181
E. Pemantulan pada Cermin Lengkung	183
F. Pembiasan Cahaya	190
G. Pemantulan Sempurna	194
H. Pembiasan Kaca Plan Paralel	197
I. Pembiasan pada Gelombang Lengkung dan Bidang Datar	198
J. Pembiasan pada Lensa	199
K. Optik Fisis	207
L. Latihan Soal	211
Daftar Pustaka	213
Indeks	217
Tentang Penulis	221

DAFTAR TABEL

Tabel 1.1	Penentuan Kesalahan Titik Nol (KTN)	25
Tabel 1.2	Penentuan NST Alat Ukur Besaran Panjang	26
Tabel 1.3	Hasil Pengukuran Tunggal Besaran Panjang	26
Tabel 1.4	Hasil Pengukuran yang Terbaca pada Pengukuran Berganda Besaran Panjang	26
Tabel 1.5	Hasil Pengukuran Tunggal Neraca Ohaus Tiga Lengan	32
Tabel 1.6	Hasil Pengukuran Berganda Neraca Ohaus Tiga Lengan	33
Tabel 1.7	Hasil Pengukuran Tunggal <i>Stopwatch</i>	34
Tabel 1.8	Hasil Pengukuran Berganda <i>Stopwatch</i>	35
Tabel 1.9	Hasil Pengukuran Tunggal Amperemeter	36
Tabel 1.10	Hasil Pengukuran Berganda Amperemeter	37
Tabel 1.11	Hasil Pengukuran Tunggal Voltmeter	38
Tabel 1.12	Hasil Pengukuran Berganda Voltmeter	39
Tabel 1.13	Hasil Pengukuran Tunggal Termometer	40
Tabel 1.14	Hasil Pengukuran Berganda Termometer	40
Tabel 3.1	Nilai Koefisien Gesekan Statis dan Kinetis pada Suatu Permukaan	52

Tabel 3.2	Ciri Gaya Gesekan Statis dan Gaya Gesekan Kinetis	53
Tabel 3.3	Pengukuran Gaya Tarik untuk Setiap Keadaan Benda	56
Tabel 3.4	Pengukuran Gaya Gesek dengan Gaya Normal yang Bervariasi	56
Tabel 3.5	Pengukuran Besar Gaya Gesek pada Saat Benda dalam Beberapa Keadaan	57
Tabel 4.1	Pengukuran Waktu Periode T^2 dengan Variasi Massa Beban m	68
Tabel 4.2	Hubungan antara Gaya Pegas F dengan Pertambahan Panjang Pegas Δx	69
Tabel 4.3a	Pengukuran Periode dengan Amplitudo yang Berbeda-beda	69
Tabel 4.3b	Pengukuran Periode dengan Massa yang Berbeda-beda	70
Tabel 4.3c	Pengukuran Periode dengan Panjang Tali yang Berbeda-beda	70
Tabel 4.4	Pengukuran Percepatan Gravitasi Bumi g	70
Tabel 5.1	Tabel Hasil Pengamatan Kapasitas Kalor Metode Cobra3	78
Tabel 6.1	Nilai Koefisien Muai Panjang	83
Tabel 6.2	Hasil Pengamatan untuk Logam Aluminium	86
Tabel 6.3	Hasil Pengamatan untuk Logam Besi	87
Tabel 6.6	Tabel Bantu untuk Logam Aluminium	92
Tabel 6.7	Tabel Bantu untuk Logam Besi	92
Tabel 8.1	Menyelidiki Hubungan Kecepatan Gelombang dengan Tegangan Tali	108
Tabel 8.2	Menyelidiki Hubungan antara Kecepatan Rambat Gelombang dengan Massa Persatuan Panjang Tali untuk Langkah a sampai d	108

Tabel 8.3	Menyelidiki Hubungan antara Kecepatan Rambat Gelombang dengan Massa Persatuan Panjang Tali	108
Tabel 9.1	Pengukuran Arus pada Rangkaian Seri	115
Tabel 9.2	Pengukuran Tegangan pada Rangkaian Seri	115
Tabel 9.3	Pengukuran Arus pada Rangkaian Paralel	115
Tabel 9.4	Pengukuran Tegangan pada Rangkaian Paralel	116
Tabel 9.5	Pengukuran Arus pada Rangkaian Gabungan Seri dan Paralel	116
Tabel 9.6	Pengukuran Tegangan pada Rangkaian Seri	118
Tabel 9.7	Pengukuran Arus pada Rangkaian Paralel	120
Tabel 9.8	Pengukuran Tegangan pada Rangkaian Paralel	121
Tabel 9.9	Pengukuran Arus pada Rangkaian Gabungan Seri dan Paralel	124
Tabel 10.1	Rangkaian Tertutup (Loop)	132
Tabel 10.2	Nilai Kuat Arus Berdasarkan Hasil Perhitung	140
Tabel 14.1	Jarak Titik Dekat untuk Berbagai Umur	209

DAFTAR GAMBAR

Gambar 1.1	Cara Menentukan NST Alat Ukur	6
Gambar 1.2	Posisi Arah Pandang Pengamatan	6
Gambar 1.3	Mistar Geser Beserta Bagian-bagiannya	7
Gambar 1.4	Cara Menentukan Pengukuran pada Mistar Geser	8
Gambar 1.5	Mikrometer Sekrup Beserta Bagian-bagiannya	10
Gambar 1.6	Cara Menentukan Pengukuran Mikrometer	10
Gambar 1.7	Alat Ukur Spherometer	11
Gambar 1.8	Alat Ukur Neraca Ohaus Beberapa Tipe (a) 310 Gram; (b) 311 Gram; (c) 2.610 Gram	13
Gambar 1.9	Alat Ukur Neraca Analitik	14
Gambar 1.10	Alat Ukur Timbangan Lainnya	14
Gambar 1.11	Alat Ukur Neraca Pegas	15
Gambar 1.12	Alat Ukur <i>Stopwatch</i>	15
Gambar 1.13	Alat Ukur <i>Stopwatch</i>	16
Gambar 1.14	Beberapa Model Fisik Alat Ukur Waktu (a) Alat Ukur Waktu Versi Analog dan Digital; (b) <i>Digital Counter (Scaler Counter)</i>	16
Gambar 1.15	Alat Ukur Amperemeter dan Voltmeter	18

Gambar 1.16	Pengukuran dengan Neraca Pegas	22
Gambar 1.17	Pengukuran dengan <i>Stopwatch</i>	23
Gambar 1.18	Rangkaian Sederhana Pengukuran Amperemeter dan Voltmeter	24
Gambar 1.19	Rangkaian Pengukuran Suhu	25
Gambar 2.1	Bidang Miring Kasar	45
Gambar 2.2	Gerak Menggelinding	46
Gambar 3.1	Gaya Gesekan	51
Gambar 3.2	Gaya Gesekan dengan Satu Beban	54
Gambar 3.3	Gaya Gesekan dengan Beberapa Beban	55
Gambar 4.1	Hubungan antara T^2 dengan m	62
Gambar 4.2	Bandul Matematis	63
Gambar 5.1	<i>Cobra3 Heat Capacity of Metals</i>	76
Gambar 5.2	Jendela Kerja Metode Cobra3	77
Gambar 5.3	Grafik Temperatur Kalorimeter Metode Cobra3	78
Gambar 6.1	Pemuaian Panjang Logam	82
Gambar 6.2	Pemasangan Kabel Listrik	83
Gambar 6.3	Sambungan Rel Kereta Api	84
Gambar 6.4	Pemuaian pada Kawat Logam	84
Gambar 6.5	Susunan Alat Eksperimen	85
Gambar 7.1	Gaya Stokes	98
Gambar 8.1	Susunan Alat Percobaan Gelombang	106
Gambar 9.1	Rangkaian Seri	112
Gambar 9.2	Rangkaian Paralel	113
Gambar 9.3	Rangkaian Gabungan	114

Gambar 10.1	Rangkaian Analisis Loop	130
Gambar 10.2	Pengukuran Kuat Arus pada Loop 1	130
Gambar 10.3	Pengukuran Kuat Arus pada Loop 2	131
Gambar 10.4	Pengukuran Kuat Arus pada I_3	131
Gambar 11.1	(a) dan (b) Merupakan Pola Interferensi dari Kisi Celah	144
Gambar 13.1	Rangkaian Percobaan Tara Kalor Mekanik dengan Cara Listrik	167
Gambar 14.1	Hukum Pemantulan Cahaya	180
Gambar 14.2	a) Pemantulan Teratur (<i>Specular Reflection</i>), b) Pemantulan Baur (<i>Diffuse Reflection</i>)	181
Gambar 14.3	Pembentukan Bayangan pada Cermin Datar	182
Gambar 14.4	Sinar-sinar Utama pada Cermin Cekung	184
Gambar 14.5	Bentuk Bayangan pada Cermin Cekung Jika $s > 2f$	184
Gambar 14.6	Bayangan pada Cermin Cekung Jika $s = \sim$ (Tak Terhingga)	185
Gambar 14.7	Sinar-sinar Utama pada Cermin Cembung	185
Gambar 14.8	Lukisan Proses Pembentukan Sinarnya	190
Gambar 14.9	Pembiasan Medium 1 Kaca ke Medium 2 Air	193
Gambar 14.10	Pergeseran Sinar pada Kaca Plan Paralel	197
Gambar 14.11	Pembiasan pada Bidang Lengkung	198
Gambar 14.12	Bentuk Lensa Tipis	200
Gambar 14.13	Sinar-sinar Istimewa pada Lensa	200
Gambar 14.14	Sinar-sinar Istimewa pada Lensa Cembung	201
Gambar 14.15	Sinar-sinar Istimewa pada Lensa Cekung	202
Gambar 14.16	Penyimpangan Distorsi dan Sferik	205
Gambar 14.17	Penglihatan Bayangan pada Mata (a) Normal, (b) Rabun Jauh, dan (c) Rabun Dekat	208

Gambar 14.18 Lensa Positif untuk Mata <i>Hyperopia</i>	209
Gambar 14.19 Lensa Negatif untuk Mata Miopik	210
Gambar 14.20 Benda Sama pada Jarak yang Berbeda	210
Gambar 14.21 Skema Sinar pada Mikroskop	211

Pengukuran Besaran Fisis

A. Pendahuluan Konsep Pengukuran

1. Teori Dasar Pengukuran

Pengukuran menurut ilmu sains fisika adalah suatu kegiatan yang bertujuan menentukan nilai dari besaran yang diukur. Pengukuran merupakan suatu besaran fisis yang selalu diiringi dengan “ketidakpastian” baik jenis pengukuran tunggal (satu kali pengukuran), pengukuran berganda (tiga kali pengukuran) maupun pengukuran campuran (yang dilakukan secara berulang-ulang). Sebagai contoh, z adalah suatu parameter fisika yang nilai besarnya adalah z_0 , akan diketahui melalui pengukuran, maka jika dilakukan pengukuran pada besaran fisis, maka kemungkinan dapat dihasilkan penyimpangan dari nilai yang sebenarnya, misalnya pengukuran massa jenis zat cair, arus listrik dalam rangkaian, tebal kaca, suhu campuran zat, tinggi bangunan dan lain-lain. Dari penyimpangan tersebut maka dikenali istilah “teori ketidakpastian pengukuran”.

Secara istilah, asas teori ketidakpastian pengukuran dapat dinyatakan sebagai:

“SUATU PENGUKURAN SELALU DIHINGGAPI
KETIDAKPASTIAN”

Ketidakpastian ini akan diuraikan sebab-sebabnya antara lain:

- a. Terdapat ketidakpastian bersistem pada alat ukur. Beberapa kesalahan yang sering terjadi pada ketidakpastian bersistem ini antara lain adalah:

- 1) Adanya kekeliruan yang menimbulkan kesalahan titik nol (KTN) pada alat. Kesalahan ini diakibatkan karena tidak berimpitnya antara angka nol dengan jarum penunjuknya. Jadi, sebelum pengamat menggunakan alat ukur tersebut, maka seyogianya alat dipastikan telah berimpit antara angka nol dengan jarum penunjuknya. Namun, bila alat ukur memiliki kesalahan titik nol maka perlu dilakukan pengkalibrasian.

Jika suatu alat ukur tidak mampu lagi untuk dikalibrasi kesalahan titik nolnya, maka pengamat terlebih dahulu mengecek jarum penunjukkan skala yang tidak berimpit sebelum atau sesudah angka nol skala. Pengamatan yang menunjukkan sebelum angka nol jarum skalanya dengan setelahnya maka analisis hasil pengukurannya akan berbeda cara perhitungannya. Berikut dapat diuraikan bahwa: jika sebelum angka nol jarum skalanya maka harus dijumlahkan hasil pengukuran sebenarnya dengan hasil kesalahan titik nolnya yang diperoleh. Cara memperoleh KTN alat ukur yaitu:

$$\text{KTN} = \text{PSU (NST SU)} + \text{PSN (NST Alat)} \quad (1.1)$$

Sedangkan cara memperoleh hasil pengukuran yang sebenarnya adalah:

$$\text{HP}_{\text{sebenarnya}} = \text{HP}_{\text{dengan KTN}} + \text{KTN} \quad (1.2)$$

Begitupun sebaliknya, jika jarum skalanya sesudah angka nol maka hasil pengukurannya harus dikurangi hasil pengukuran sebenarnya dengan hasil kesalahan titik nolnya.

$$\text{KTN} = \text{PSU (NST SU)} + \text{PSN (NST alat)} \quad (1.3)$$

maka hasil pengukuran yang sebenarnya adalah:

$$\text{HP}_{\text{sebenarnya}} = \text{HP}_{\text{dengan KTN}} - \text{KTN} \quad (1.4)$$

- 2) Adanya kesalahan yang menunjukkan saat melakukan arah pandang dalam membaca skala yang sering disebut sebagai kesalahan paralaks. Setiap pengamat perlu memperhatikan arah pandangnya yang harus tegak lurus antara mata pengamat dengan skala yang terbaca.
 - 3) Saat alat tersebut sudah mengalami kehausan (tidak elastis secara sempurna) pada alat yang memiliki siat elastis maka terjadi kesalahan pegas. Misalnya pegas mengalami keadaan “melembek” ataupun “mengeras” dari keadaan semula.
 - 4) Kesalahan yang disebabkan karena ketika alat pengukuran terjadi kesalahan diproduksi (yaitu penulisan angka/nilai pada skala alat saat dibuat menyebabkan ketidaksesuaian). Kesalahan ini sering disebut kesalahan kalibrasi. Misalnya adanya goresan skala yang tidak sama jaraknya, atau skala alat ukur tidak jelas.
 - 5) Timbulnya gesekan pada bagian-bagian alat yang bergerak.
- b. Keterbatasan alat ukur karena terdapat nilai skala terkecil (*‘least count’*) setiap alat.
- c. Adanya ketidakpastian acak, beberapa di antaranya misalnya:
- 1) Terjadinya perubahan (fluktuasi) sifat tegangan listrik, yang menyebabkan komponen dan perangkat kelistrikan dapat terganggu.
 - 2) Terjadinya gangguan penunjukan jarum alat ukur yang sangat halus dan komponen alat yang bersifat sulit dibaca pengukurannya akibat timbulnya yang disebut “gerak *brown*”.
 - 3) Terjadinya gangguan (*noise*) bising elektronik saat melakukan pengukuran atau di sekitar pengukuran besaran, misalnya berupa gangguan pada alat ukur elektronik osiloskop.

Sumber kesalahan acak sering berada di luar kendali pengamat saat mengukur, dan dapat menghasilkan penyimpangan positif atau negatif secara acak, terhadap nilai parameter yang sesungguhnya.

- d. Keterbatasan keterampilan seorang pengamat (pengukur). Pada umumnya, alat ukur dewasa ini tidak jarang merupakan alat

ukur yang sangat kompleks pemakaiannya, sehingga menuntut keterampilan yang tidak sedikit dari si pemakai. Sebagai contoh: pengoperasian alat ukur mikroskop, osiloskop, spektrometer, pencacah partikel, alat ukur yang memiliki perangkat lunak (*software*) dalam pengukurannya dan sebagainya.

Dari keempat sebab-sebab pengukuran dihindangi ketidakpastian, tentu masih banyak hal yang tidak tertuang. Namun, pada dasarnya ada empat sumber kesalahan yang dapat menimbulkan kekeliruan dalam pengukuran yaitu bersumber dari pengamat itu sendiri, bersumber dari objek yang diukur, atau bersumber dari alat ukur itu sendiri atau bahkan bersumber dari lingkungan sekitarnya. Empat sumber ini, tentunya perlu diwaspadai dan diperhatikan agar dalam pengukurannya menghasilkan yang lebih maksimal dan teliti.

2. NST Alat Ukur

Skala pada alat ukur merupakan suatu goresan yang dapat diamati dan dilihat secara langsung. Goresan tersebut terdiri atas goresan kecil dan goresan besar. Pada goresan besar terdapat nilai (angka) yang sesuai dengan variabel yang diukur, sedangkan pada goresan kecil tidak ada nilainya dibubuhi. Dengan bantuan skala, maka setiap pengamat mampu menentukan ketelitian suatu alat ukur yang disebut sebagai nilai skala terkecil (NST).

NST tersebut dapat membantu pengamatan apakah alat ukur tersebut teliti atau tidak sebelum digunakan (dioperasikan). Artinya, ketelitian pengukuran tergantung pada nilai skala terkecil alat yakni **“semakin kecil nilai skala terkecilnya suatu alat ukur, maka semakin teliti pula alat ukur menghasilkan pengukuran”**. Secara definisi, NST alat ukur merupakan **nilai yang diperoleh dari jarak antara dua goresan terdekat**. Sebelum digunakan alat ukur, maka pengamat harus memperhatikan lebih utama NST-nya. Untuk melakukan pengamatan secara tepat pada jarak < 1 mm, maka mata seorang pengamat tentu sangat sulit dan agak terbatas dalam membaca

skala. Karena mata pengamat sulit melihat jarak kurang dari 1 mm dengan tepat (tanpa alat bantu), maka NST alat ukur tidak pernah kurang dari 1 mm.

Nilai skala terkecil suatu alat ukur dapat dinyatakan sebagai kemampuan instrumen atau kelemahan dari alat ukur. Dalam arti, bahwa NST pada harga yang lebih kecil akan sulit dibaca secara langsung, namun diperlukan suatu cara penaksiran yang disebut interpolasi.

Berdasarkan skalanya, alat ukur dibagi atas dua bagian yaitu ada alat ukur yang tanpa skala nonius, dan ada pula menggunakan skala nonius. Skala nonius (*vernier*) dipasang pada alat-alat ukur dengan tujuan untuk menambah ketelitian dari alat ukur tersebut. Dengan adanya skala nonius ini alat dapat digunakan untuk mengukur hingga sepersekian kali lebih kecil dari skala terkecil alat, tergantung pada skala nonius yang dipasang.

Alat ukur yang memiliki skala nonius memiliki dua bagian yaitu ada yang disebut nonius geser, dan ada pula disebut nonius putar. Contoh alat ukur yang memiliki skala nonius putar misalnya mikrometer sekrup, spherometer, spektrometer dan skala nonius geser misalnya jangka sorong. Kebalikan dari skala nonius adalah skala utama (skala tetap). Alat yang termasuk hanya memiliki skala utama antara lain adalah alat mistar, termometer, *basic meter*, timbangan, *stopwatch*, jam dinding dan sebagainya.

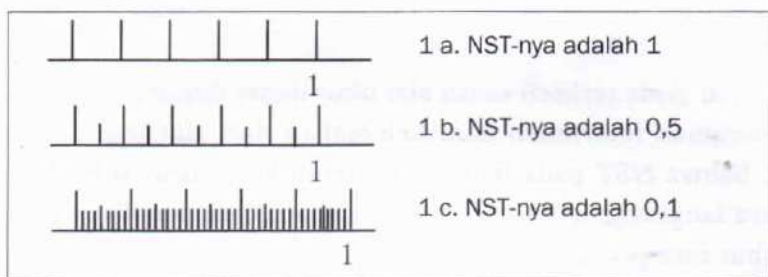
Nilai skala terkecil suatu alat dapat ditentukan dengan dua metode yaitu:

$$\text{NST alat dengan nonius} = \frac{1}{N} (\text{NST Tanpa Nonius}) \quad (1.5)$$

N merupakan banyaknya skala nonius.

$$\text{NST Tanpa Nonius} = \frac{\text{Batas Ukur (BU)}}{\text{Jumlah Skala Utama}} \quad (1.6)$$

Berikut ini contoh penentuan NST alat ukur.



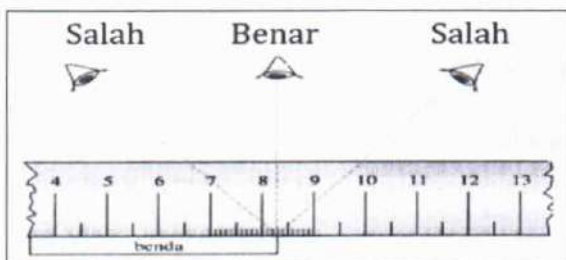
Gambar 1.1 Cara Menentukan NST Alat Ukur

3. Cara Menggunakan dan Mengukur Alat-alat Sederhana dalam Pengukuran Dasar

a. Mistar Biasa (Mistar Penggaris)

Alat ukur mistar pada umumnya hanya memiliki skala utama (SU) saja. Cara mengukurnya dilakukan sebagai berikut.

- 1) Tempatkan skala nol pada penggaris yang sejajar dengan salah satu ujung benda yang akan diukur.
- 2) Selanjutnya, perhatikan ujung benda lainnya dan kemudian bacalah skala pada mistar penggaris tersebut yang pas sejajar dengan ujung benda.
- 3) Baca hasil pengukurannya dengan benar dengan cara melihat (mengamati) bagian tegak lurus dengan tanda garis skalanya. Pastikan untuk lebih teliti dalam melihat hasilnya agar tidak terjadi kesalahan dalam pengukuran. Berikut contoh pengamatan yang benar.



Gambar 1.2 Posisi Arah Pandang Pengamatan

b. Mistar Geser (Jangka Sorong)

Mistar geser merupakan alat ukur besaran panjang dengan ketelitian yang berbeda-beda tergantung jumlah skala noniusnya, yaitu ada yang mencapai ketelitian 0,01 mm (seperseratus milimeter), ketelitian 0,02 mm (seperlimapuluh milimeter) dan ada juga ketelitian 0,05 mm (seperduapuluh milimeter). Secara umum, mistar geser memiliki dua skala, yaitu skala utama dalam satuan cm (skala tetap) dan skala nonius dalam satuan mm (bagian skala yang bergeser atau bergerak (tidak tetap)).

Hasil pengukuran pada alat ukur mistar geser bergantung ketika pengamat melakukan secara teliti. Namun, secara versi digital, produk mistar geser umumnya dapat mengukur dan dibaca hasilnya secara langsung tanpa menganalisis seperti pengukuran versi analog. Sementara alat ukur mistar geser analog, umumnya memiliki ketelitian yang berbeda yaitu 0,05 mm (untuk nonius di bawah 30 cm) dan 0,01 (untuk nonius di atas 30 cm).

Berikut gambar alat ukur mistar geser versi analog dengan batas ukurnya skala utamanya adalah 20 cm.



Gambar 1.3 Mistar Geser Beserta Bagian-bagiannya

Fungsi alat ukur mistar geser dapat digunakan untuk mengukur besaran-besaran sebagai berikut.

- 1) Mengukur besaran panjang (x), tebal (t) atau diameter luar (d). Cara mengukurnya dilakukan dengan meletakkan benda ukur pada

posisi di antara rahang geser dengan rahang tetap (lihat Gambar 1.3).

- 2) Mengukur diameter dalam benda yang bentuknya silinder berongga. Hal ini dapat dilakukan dengan cara rahang belakang dimasukkan ke dalam silinder berongga, kemudian rahang noniusnya digeser yang dapat bersinggungan antara dinding dengan pinggir-pinggir rahang dalam silinder.
- 3) Mengukur kedalaman lubang benda ukur. Pengukurannya dilakukan dengan teknik yaitu ujung bagian tangkai yang bergerak dimasukkan ke dalam lubang benda lalu noniusnya digeser hingga pada ujung tangkainya dapat mengenai dasar lubang.

Setiap mistar geser memiliki skala utama (SU) dan skala nonius (SN). Pada umumnya nilai skala utama = 1 mm dan banyaknya skala nonius tidak selalu sama antara mistar geser yang satu dengan yang lainnya. Ada yang mempunyai 10 skala, ada yang 20 skala, bahkan ada yang mempunyai 50 skala nonius. Sebuah mistar geser baru dapat digunakan jika NST-nya sudah diketahui, yakni dengan menggunakan:

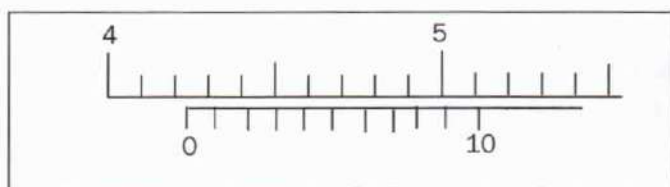
$$\text{NST dengan nonius} = \frac{1}{n} (\text{NST tanpa nonius}) \quad (1.7)$$

atau:

$$\text{NST alat} = \frac{\text{Nilai SU}}{\text{Jumlah Skala Nonius}} \quad (1.8)$$

Hasil pengukuran dari suatu mistar geser dapat ditentukan dengan cara membaca penunjukan angka 0 skala nonius terhadap skala utama, dan skala nonius yang ke berapa telah berimpit dengan skala utama.

Contoh pembacaan skala:



Gambar 1.4 Cara Menentukan Pengukuran pada Mistar Geser

Pada Gambar 1.4, penunjukan nol skala nonius terhadap skala utama adalah **4,2 lebih**. Sementara pada skala nonius yang tepat berimpit dengan skala utama adalah skala ke-3, maka hasil pengukurannya adalah:

$$HP = 4,2 \text{ cm} + 3 \text{ (NST alat mistar geser).}$$

$$HP = 4,2 + 3 (0,01)$$

$$HP = (4,2 + 0,03) \text{ cm}$$

$$HP = \mathbf{4,23 \text{ cm} = 42,30 \text{ mm}}$$

Nilai hasil pengukuran diperoleh $4,23 \text{ cm} = 42,30 \text{ mm}$, artinya saat dilakukan pengamatan $4,2 \text{ cm}$ menjadi nilai sebenarnya, sedangkan angka 3 sebagai angka ragu-ragu (angka taksiran/tidak pasti).

c. Mikrometer Sekrup

Mikrometer pada umumnya berfungsi sebagai alat pengukur dimensi tebal, dimensi panjang maupun dimensi lainnya dari benda ukur. Alat ini terdiri atas dua bagian skala, *pertama*, skala utama yang dikenal sebagai skala mendatar (SM); dan *kedua*, skala nonius yang disebut skala putar (SP).

NST mikrometer sekrup dapat ditentukan dengan cara yang sama dengan mistar geser, yaitu:

$$\text{NST alat} = \frac{1}{n} \text{ (NST tanpa nonius)} \quad (1.9)$$

$$\text{NST alat} = \frac{1}{n} \text{ (NST skala mendatar)} \quad (1.10)$$

dengan n adalah banyaknya skala putar.

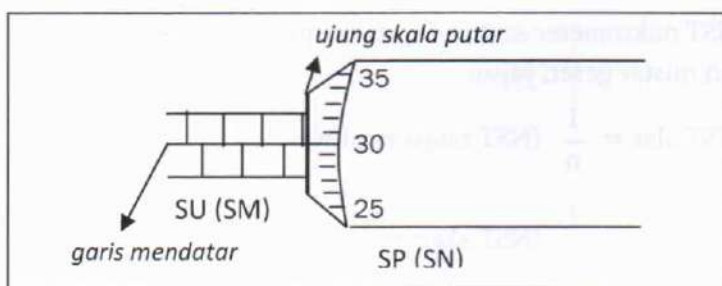
Gambar berikut ditunjukkan bentuk fisik mikrometer sekrup beserta bagian-bagiannya.



Gambar 1.5 Mikrometer Sekrup Beserta Bagian-bagiannya

Hasil pengukuran suatu mikrometer sekrup dapat ditentukan dengan cara: *pertama*, mengamati dan membaca penunjukan ujung bagian skala putar terhadap skala mendatar; dan *kedua*, mengamati dan membaca garis mendatar pada bagian skala mendatar terhadap skala berputar.

Jika NST skala mendatar mikrometer (skala utama) dihasilkan sebesar 0,5 mm dan jumlah skala putar (skala nonius) sebanyak 50 skala, maka NST mikrometer sekrup diperoleh:



Gambar 1.6 Cara Menentukan Pengukuran Mikrometer

$$\text{NST mikrometer sekrup} = \frac{0,5 \text{ mm}}{50 \text{ skala}} = 0,01 \text{ mm}$$

Berdasarkan posisi pembacaan skala pengukuran (Gambar 1.6), maka penunjukan skala mendatarnya dibaca 6 skala. Hasil pembacaan $SM = 6 \times 0,5 \text{ mm} = 3,0 \text{ mm}$. Sedangkan garis mendatar yang

terdapat pada skala utama terhadap SP terbaca pada skala ke-30, sehingga hasilnya diperoleh $30 \times 0,01 \text{ mm} = 0,30 \text{ mm}$, maka hasil pengukurannya adalah:

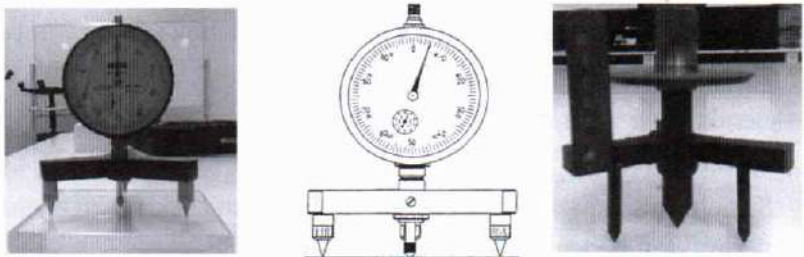
HP = Hasil pembacaan SM + Hasil pembacaan SP

HP = 3,0 mm + 0,30 mm

HP = 3,30 mm

d. Spherometer

Berikut dapat ditunjukkan bentuk fisik alat ukur spherometer.



Gambar 1.7 Alat Ukur Spherometer

Berdasarkan Gambar 1.7, dapat diuraikan secara detail bagian-bagian spherometer, yaitu:

- 1) Skala utama (skala vertikal, SV).
- 2) Piringan yang bersatu dengan sekrup berisi skala-skala disebut skala nonius (skala putar, SP).
- 3) Kepala sekrup/pemutar.
- 4) Kaki-kaki spherometer.
- 5) Sekrup dengan ujung runcing.

Fungsi spherometer yaitu mengukur benda yang tipis (lebih kecil dari 5 cm), selain itu kelengkungan sebuah permukaan benda yang "spheris" misalnya benda ukur dan parameternya berupa tebal kaca tipis preformat, tebal lensa objektif dan okuler, potongan-potongan silinder yang mendatar, segmen bola kecil, tebal kertas dan sebagainya. Sehingga jika dibandingkan antara mistar, mistar geser maupun

mikrometer sekrup, maka spherometer memiliki tingkat ketelitian yang sangat tinggi. Ketelitian alat ini berada pada skala noniusnya di piringan mendatar.

Cara mengoperasikan alat ini dapat dilakukan dengan memperhatikan sebagai berikut.

- 1) Letakkan alat spherometer pada bagian permukaan yang rata (misalnya balok kaca plan paralel atau cermin datar), ujung sekrupnya tepat menyentuh alas ini. Pada saat bayangan ujung sekrup berimpit dengan ujung sekrup, maka hal ini menunjukkan ujung sekrup tepat menyinggung alas permukaan).
- 2) Kepala sekrup diputar sehingga jarak antara ujung sekrup dengan alas cukup jauh.
- 3) Benda yang akan diukur diletakkan pada ruang antara alas dan ujung sekrup.
- 4) Selanjutnya kepala sekrup diputar hingga ujung sekrup mengenai permukaan benda ukur.
- 5) Hasil pengukuran tebal atau ukuran benda yang diukur adalah selisih penunjukan (skala utama + skala piringan) pada saat tanpa benda dengan ketika benda yang diukur berada di bawah sekrup.

Cara menentukan NST alat ukur pada spherometer adalah sama halnya dengan penentuan NST pada mistar geser dan mikrometer, karena masing-masing memiliki skala tidak tetap yaitu nonius. Banyaknya skala nonius pada alat ukur spherometer yaitu 100 skala dan nilai skala terkecil skala utamanya adalah 1,0 mm, maka:

$$\text{NST alat spherometer} = \frac{1}{100} (1,0 \text{ mm})$$

$$\text{NST alat spherometer} = 0,01 \text{ mm}$$

Untuk memperoleh hasil pengukuran benda ukur spherometer maka perlu diperhatikan dan diamati yang terdapat pada penunjukan skala utama (SV) yang tepat berimpit dengan skala horizontal maupun penunjukan skala nonius yang tepat berimpit dengan skala utama (SV). Misalnya:

Jika skala horizontal menunjuk skala 4 pada skala utama, sedangkan penunjukan skala horizontal yang berimpit dengan skala utama, adalah 56 skala, maka hasil pengukurannya adalah:

$$HP = 4 \text{ mm} + 56 (0,01) \text{ mm}$$


$$HP = 4,56 \text{ mm}$$

Noted: Baik mikrometer maupun spherometer pembacaan pada skala putar dan skala horizontal kadang-kadang memerlukan penaksiran.

e. Neraca Ohaus dan Neraca Analitik

Neraca ohaus terdiri dari beberapa jenis antara lain neraca ohaus tipe 2.610 gram, neraca ohaus tipe 310 gram, neraca ohaus tipe 311 gram. Sebelum digunakan neraca tipe tersebut, maka terlebih dahulu masing-masing lengannya dihitung nilai skala terkecilnya.

Untuk memperoleh hasil pengukuran pada neraca ohaus 2.610 gram dan 311 gram maka cara menentukannya sama dilakukan dengan menjumlahkan penunjukan skalannya tiap-tiap lengan. Pada gambar di bawah ini diperlihatkan bentuk neraca ohaus tipe 310 gram, 311 gram, dan 2.610 gram (seperti ditunjukkan pada Gambar 1.8).



Gambar 1.8 Alat Ukur Neraca Ohaus Beberapa Tipe
(a) 310 Gram; (b) 311 Gram; (c) 2.610 Gram

Neraca ohaus tipe 310 gram memiliki dua lengan serta dilengkapi dengan skala putar yang berfungsi sebagai penunjukan skala nonius

(seperti pada Gambar 1.8a). Jika dibandingkan antara neraca ohaus 311 gram dan 2610 gram, maka neraca 310 gram lebih teliti dari kedua neraca tersebut. Adapun teknik penentuan nilai skala terkecilnya untuk tipe 310 gram, dapat dilakukan seperti pada mistar geser dan mikrometer yaitu menambahkan pengukuran setiap lengannya yang terbaca, penunjukan pembacaan skala noniusnya dan penunjukan skala putarnya.

Selain model fisik neraca tipe ohaus (seperti ditunjukkan pada Gambar 1.8), dapat juga dilihat neraca bentuk digital dan manual yang terbaca nilainya secara langsung (seperti ditunjukkan pada Gambar 1.9 dan 1.10).



Gambar 1.9 Alat Ukur Neraca Analitik

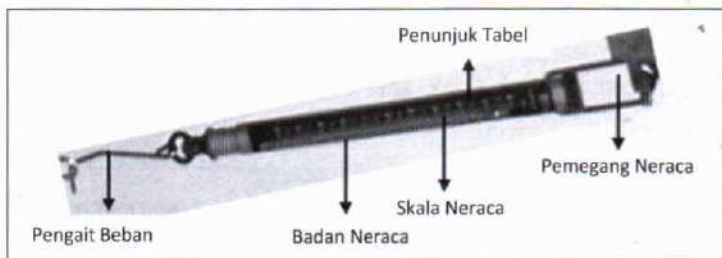
Alat ukur timbangan lainnya juga ditunjukkan sebagai berikut.



Gambar 1.10 Alat Ukur Timbangan Lainnya

f. Neraca Pegas (*Dynamometer*)

Neraca pegas sering disebut *dynamometer*, berfungsi mengukur berat benda sesuai dengan kapasitasnya. Secara fisik dapat ditunjukkan seperti Gambar 1.11 berikut.



Gambar 1.11 Alat Ukur Neraca Pegas

g. Stopwatch

Alat *stopwatch* merupakan alat ukur besaran waktu yang memiliki skala menit dan skala detik. Cara mengoperasikannya dilakukan dengan menekan tombol, yaitu: tekan 1 berfungsi sebagai tanda “jalan (*start*)”, tekan 2 berfungsi sebagai tanda “berhenti (*stop*)” dan tekan 3 berfungsi sebagai tanda “kembali ke skala awal (*semula*)”.

Hasil pengukurannya diperoleh dengan cara: mengamati dan memperhatikan penunjukan skala pada jarum detik maupun jarum menitnya lalu keduanya ditambahkan. Sebelum digunakan alatnya, maka hitung terlebih dahulu nilai skala terkecilnya (NST) baik skala menit maupun detiknya.

Berdasarkan Gambar 1.12 di atas, dapat ditentukan nilai skala terkecil pada alat ukur *stopwatch* yaitu:

$$NST_{stopwatch} = \frac{\text{Batas Ukur}}{\text{Jumlah Skala}}$$

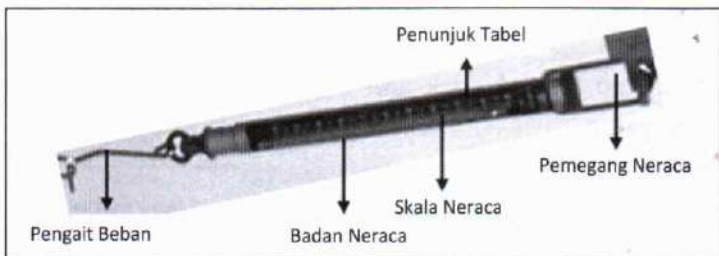
$$NST_{stopwatch} = \frac{60 \text{ detik}}{300 \text{ skala}} = 0,2 \text{ detik/skala}$$



Gambar 1.12
Alat Ukur Stopwatch

f. Neraca Pegas (*Dynamometer*)

Neraca pegas sering disebut *dynamometer*, berfungsi mengukur berat benda sesuai dengan kapasitasnya. Secara fisik dapat ditunjukkan seperti Gambar 1.11 berikut.



Gambar 1.11 Alat Ukur Neraca Pegas

g. Stopwatch

Alat *stopwatch* merupakan alat ukur besaran waktu yang memiliki skala menit dan skala detik. Cara mengoperasikannya dilakukan dengan menekan tombol, yaitu: tekan 1 berfungsi sebagai tanda “jalan (*start*)”, tekan 2 berfungsi sebagai tanda “berhenti (*stop*)” dan tekan 3 berfungsi sebagai tanda “kembali ke skala awal (*semula*)”.

Hasil pengukurannya diperoleh dengan cara: mengamati dan memperhatikan penunjukan skala pada jarum detik maupun jarum menitnya lalu keduanya ditambahkan. Sebelum digunakan alatnya, maka hitung terlebih dahulu nilai skala terkecilnya (NST) baik skala menit maupun detiknya.

Berdasarkan Gambar 1.12 di atas, dapat ditentukan nilai skala terkecil pada alat ukur *stopwatch* yaitu:

$$NST_{stopwatch} = \frac{\text{Batas Ukur}}{\text{Jumlah Skala}}$$

$$NST_{stopwatch} = \frac{60 \text{ detik}}{300 \text{ skala}} = 0,2 \text{ detik/skala}$$



Gambar 1.12
Alat Ukur Stopwatch

Pada Gambar 1.12 terlihat penunjukan skala berada pada 112 skala, sehingga hasil pengukurannya diperoleh sebagai berikut.

$$\begin{aligned}
 HP &= PSU \times NST \text{ Stopwatch} \\
 &= 112 \text{ skala} \times 0,2 \text{ detik/skala} \\
 &= 22,40 \text{ detik}
 \end{aligned}$$

Secara lengkap bentuk fisik alat ukur *stopwatch* beserta bagiannya, yaitu:



Gambar 1.13 Alat Ukur *Stopwatch*

Alat ukur *stopwatch* juga memiliki nilai skala terkecil dari skala detik berbeda-beda, yakni ada yang NST-nya 0,2 detik, ada yang 0,1 detik, dan ada pula yang lebih kecil dari 0,1 detik. Sedangkan pada alat ukur jam dinding menggunakan skala terkecil yaitu 1 menit dan 1 detik. Berikut beberapa bentuk fisik alat ukur waktu lainnya ditunjukkan seperti pada **Gambar 1.14**.




Gambar 1.14 Beberapa Model Fisik Alat Ukur Waktu (a) Alat Ukur Waktu Versi Analog dan Digital; (b) *Digital Counter (Scaler Counter)*

h. *Basic Meter*

Basic meter berfungsi sebagai alat ukur besaran kelistrikan yaitu dapat mengukur nilai arus listrik dan nilai tegangan listrik. Dalam mengukur parameter arus listrik, maka pada alat ukur *basic meter* dipasang sebuah komponen yang disebut “*shunt*” atau diistilahkan “*shunt ayrtthon*” atau “tahanan *shunt*”. Sedangkan dalam mengukur nilai tegangan listrik, maka dipasang sebuah komponen yang disebut “*multiplier*” atau istilahnya tahanan pengali.

Sebelum dioperasikan *basic meter* ini, maka terlebih dahulu memperhatikan penunjukan jarumnya tepat menunjuk pada skala nol (agar tidak menghasilkan “kesalahan titik nol (KTN) alat ukur”). Jika terdapat penunjukan jarum skala tidak segaris dengan skala angka nol, maka dapat dilakukan pengkalibrasian yaitu: memutar sekrup pada bagian atas alat, sehingga alat *basic meter* dapat kembali normal. Selain itu, pengamat perlu memperhatikan dua hal yaitu: *pertama*, memperhatikan nilai batas ukur (BU) dari yang tertinggi sampai terkecil baik tipe “*multiplier*” (berfungsi sebagai pengukur nilai tegangan listrik) maupun tipe “*shunt*” (berfungsi sebagai pengukur nilai arus listrik) yang digunakan; *kedua* mengamati jumlah (banyaknya) skala kecil pada *basic meter*.

Cara menentukan NST-nya pada alat ukur *basic meter*, yaitu: membagi nilai batas ukur (BU) baik tipe *shunt* atau *multiplier* yang digunakan dengan jumlah skala kecil yang ada pada alat ukur. Selain disebut sebagai *basic meter*, alat ukur ini juga sering disebut sebagai avometer gabungan dari fungsi amperemeter, voltmeter dan ohmmeter. Bentuknya dapat ditunjukkan seperti pada **Gambar 1.15** sebagai berikut.



Gambar 1.15 Alat Ukur Amperemeter dan Voltmeter

Contoh pengukuran *basic meter* sebagai berikut.

Jika batas ukur *shunt* yang digunakan 100 mA dan banyaknya skala kecil pada *basic meter* = 50 skala maka NST-nya = $\frac{100 \text{ mA}}{50} = 2 \text{ mA}$. Sedangkan jika batas ukur multiplier yang digunakan 5 V dan banyaknya skala kecil pada *basic meter* = 50 skala maka NST-nya = $\frac{5 \text{ V}}{50} = 0,1 \text{ V}$. Apabila jarum menunjuk 15 skala maka hasil pengukurannya adalah $2 \text{ mA} \times 15 \text{ skala} = 30 \text{ mA}$ dan $0,1 \text{ V} \times 15 \text{ skala} = 1,5 \text{ V}$.

B. Rancangan Eksperimen Pengukuran Besaran Fisis

1. Tujuan Eksperimen

Tujuan eksperimen secara umum yaitu diharapkan terampil:

- Menguasai prinsip dasar-dasar pengukuran serta mengelompokkan jenis alat ukur dasar.
- Menentukan nilai skala terkecil (NST) alat ukur dasar.
- Melakukan pengukuran langsung maupun tidak langsung.

- d. Melakukan pengukuran tunggal, pengukuran berganda maupun pengukuran campuran.
- e. Menguasai fungsi dan komponen alat ukur dasar.
- f. Mengukur serta mengoperasikan alat ukur dasar baik pengukuran langsung maupun tidak langsung.
- g. Menganalisis data (melakukan pengolahan data) baik tanpa ketidakpastian maupun dengan ketidakpastian pada hasil pengukuran baik pengukuran tunggal maupun berulang.

Sementara itu, tujuan eksperimen secara khusus yaitu diharapkan agar terampil:

- a. Menggunakan mistar biasa, mistar geser, spherometer dan mikrometer sebagai pengukur benda parameter panjang.
- b. Mengoperasikan neraca teknis tipe ohaus baik manual (311 gram) maupun digital sebagai instrumen parameter massa.
- c. Menggunakan *stopwatch* (analog dan digital) sebagai pengukur waktu.
- d. Menggunakan *basic meter* (amperemeter dan voltmeter) sebagai pengukur parameter kelistrikan.
- e. Menggunakan termometer sebagai instrumen suhu (temperatur) suatu bahan.

2. Alat dan Bahan

Alat terdiri atas:

- a. Mistar biasa.
- b. Mistar geser (jangka sorong).
- c. Mikrometer sekrup.
- d. Spherometer.
- e. Neraca ohaus 311 gram (tiga lengan).
- f. Neraca pegas (*dynamometer*).
- g. *Stopwatch* analog dan digital.

- h. *Basic meter*.
- i. Termometer.

Bahan:

- a. Beberapa plat logam.
- b. Tabung silinder logam.
- c. Uang logam.
- d. Beberapa balok silinder.
- e. Kaca planparalel.
- f. Beberapa anak timbangan.
- g. Bandul (tali dan statif).
- h. Baterai.
- i. Air secukupnya.

3. Prosedur Eksperimen

a. Pengukuran Besaran Panjang

Eksperimen pengukuran besaran panjang dilakukan dengan menggunakan mistar biasa, mistar geser (jangka sorong), spherometer dan mikrometer sekrup. Langkah-langkah kerjanya yaitu:

- 1) Siapkan alat ukur panjang yang akan digunakan, lalu tentukan masing-masing NST dan KTN-nya.
- 2) Ukur panjang benda menggunakan alat ukur mistar biasa misalnya panjang buku tulis (tentukan penunjukan skala yang terbaca). Lakukan sebanyak satu kali pengukuran langsung dan catat hasil pada tabel pengamatan.
- 3) Ukur kedalaman benda menggunakan alat ukur mistar geser (jangka sorong), misalnya kedalaman tabung silinder. Geser skala nonius pas tepat sesuai kedalaman tabung kemudian putar penguncinya, lalu perhatikan (baca) "penunjukan skala nonius (SN) yang berimpit dengan skala utama dan penunjukan skala utama" (SU). Lakukan sebanyak satu kali pengukuran langsung

dan catat hasil pada tabel pengamatan yang tersedia.

- 4) Ukur tebal benda menggunakan alat ukur spherometer misalnya tebal plat logam. Putar skala nonius pas tepat mengenai permukaan plat, lalu perhatikan (baca) penunjukan skala mendatar (skala nonius, SN) yang berimpit dengan skala vertikal (skala utama, SU) dan penunjukan skala utama (SU). Lakukan sebanyak satu kali pengukuran langsung dan catat hasil pada tabel pengamatan yang tersedia.
- 5) Ukur tebal benda menggunakan alat ukur mikrometer sekrup misalnya tebal kaca cermin. Putar skala nonius pas tepat sesuai dengan permukaan kaca cermin, lalu perhatikan dan baca penunjukan skala nonius (SN) yang tepat berimpit dengan skala utama dan penunjukan skala utama (SU).
- 6) Lakukan sebanyak satu kali pengukuran langsung dan catat hasil pada tabel pengamatan.
- 7) Ulangi langkah 1) hingga 5) dengan melakukan pengukuran keempat alat ukur secara berganda (sebanyak 3 kali) dengan objek yang sama pula.

b. Pengukuran Besaran Massa

Eksperimen pengukuran besaran massa dilakukan dengan menggunakan neraca ohaus tiga lengan (misal 311 gram) dan neraca pegas.

Eksperimen Neraca Ohaus Tiga Lengan:

Prosedurnya adalah sebagai berikut.

- 1) Siapkan neraca ohaus tipe 311 gram, kemudian tentukan masing-masing NST setiap lengan dan KTN-nya.
- 2) Siapkan satu buah anak timbangan kemudian timbang massanya dengan mengatur setiap lengan, hingga diperoleh keadaan yang seimbang. Lakukan sebanyak satu kali pengukuran langsung dan catat hasil pada tabel pengamatan yang disediakan.
- 3) Ulangi langkah 2) dengan melakukan pengukuran neraca ohaus 311 gram secara berganda (sebanyak 3 kali).

- 1) Siapkan alat ukur *stopwatch* analog, tali sepanjang 50 cm, statif setinggi 100 cm, dan beban.
- 2) Terlebih dahulu tentukan masing-masing NST dan KTN *stopwatch*.
- 3) Gantung beban pada statif menggunakan tali, lalu ukur waktu untuk 10 ayunan (catat data hasil pengukuran sebagai pengukuran tunggal).



Gambar 1.17 Pengukuran dengan *Stopwatch*

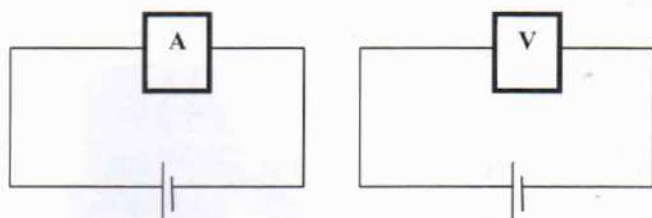
- 4) Lakukan langkah 3) secara pengukuran berganda sebanyak tiga kali, kemudian catat hasil pengukurannya pada tabel pengamatan yang disediakan.

d. Pengukuran Besaran Listrik

Pada eksperimen besaran listrik bertujuan mengukur nilai kuat arus listrik dengan menggunakan amperemeter dan mengukur nilai beda potensial listrik dengan menggunakan voltmeter. Adapun prosedurnya adalah sebagai berikut.

- 1) Siapkan alat ukur *basic meter* 2 buah, baterai 2 buah, dan beberapa kabel penghubung.
- 2) Tentukan kesalahan titik nol dan nilai skala terkecil alat amperemeter dan voltmeter, baik skala atas maupun skala bawah.
- 3) Susun rangkaian sederhana untuk amperemeter dan voltmeter dengan menggunakan beberapa kabel penghubung.

- 4) Gunakan batas ukur yang sesuai (upayakan dari batas ukur tertinggi digunakan).
- 5) Ukur kuat arus dan tegangan dua baterai masing-masing satu kali dengan menggunakan amperemeter dan voltmeter (catat data hasil pengukuran sebagai pengukuran tunggal).



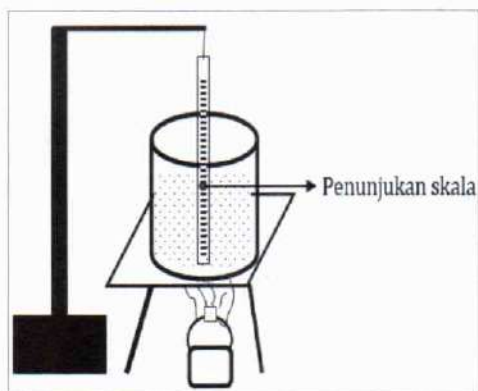
Gambar 1.18 Rangkaian Sederhana Pengukuran Amperemeter dan Voltmeter

- 6) Lakukan pengukuran lagi sebanyak tiga kali kemudian catat hasil pengukuran Anda pada tabel pengukuran berganda (yang diperoleh dari hasil pengukuran masing-masing anggota kelompok).

e. Pengukuran Besaran Suhu

Pengukuran ini bertujuan untuk mengukur suhu air (temperatur) hangat dengan menggunakan termometer. Prosedurnya sebagai berikut.

- 1) Siapkan termometer, statif, kasa asbes, kaki tiga, bunsen pembakar spiritus, gelas kimia, dan spiritus secukupnya.
- 2) Pasang statif, lapisan kasa asbes di atas kaki tiga, pembakar bunsen di bawah kaki tiga, kemudian gantung termometer tepat di atas gelas ukur.
- 3) Tentukan terlebih dahulu batas ukur dan jumlah skala sehingga NST alat ukur termometer dapat ditentukan.
- 4) Isi gelas kimia dengan air hingga seperdua bagiannya (usahakan agar ujung termometer tidak menyentuh dasar gelas kimia).



Gambar 1.19 Rangkaian Pengukuran Suhu

- 5) Nyalakan api kemudian amati dan catat perubahan temperatur termometer hingga suhunya konstan (catat data hasil pengukuran sebagai pengukuran tunggal).
- 6) Lakukan pengukuran lagi sebanyak tiga kali kemudian catat hasil pengukuran Anda pada tabel pengukuran berganda (yang diperoleh dari hasil pengukuran masing-masing anggota kelompok).

C. Hasil Pengukuran dan Teknik Analisis Data

1. Eksperimen Alat Ukur Besaran Panjang

Hasil pengukuran:

- a. Tentukan kesalahan titik nol (KTN) alat:

Tabel 1.1 Penentuan Kesalahan Titik Nol (KTN)

Alat Ukur	KTN Alat (mm)
Mistar Biasa	...
Mistar Geser	...
Mikrometer Sekrup	...
Spherometer	...

- b. Tentukan nilai skala terkecil (NST) alat:

Tabel 1.2 Penentuan NST Alat Ukur Besaran Panjang

Jenis Alat	Batas Ukur	Jumlah SU (Skala)	NST SU (mm)	Jumlah Nonius (Skala)	NST alat (mm)
Mistar Biasa
Mistar Geser
Mikrometer Sekrup
Spherometer

- c. Pengukuran tunggal:

Tabel 1.3 Hasil Pengukuran Tunggal Besaran Panjang

Alat Ukur	Objek yang Diukur	Penunjukan Skala	Hasil Pengukuran (mm)
Mistar Biasa	Panjang Buku Tulis	SU = skala	...
Mistar Geser	Kedalaman Tabung Silinder	SU = skala SN = skala	...
Mikrometer Sekrup	Tebal Plat Logam	SU = skala SN = skala	...
Spherometer	Tebal Kaca Cermin	SU = skala SN = skala	...

- d. Pengukuran berganda (berulang):

Hasil pengukuran dengan nonius:

$$HP = PSU (NST \text{ SU}) + PSN (NST \text{ alat})$$

Hasil pengukuran tanpa nonius:

$$HP = PS \times NST \text{ Skala Utama}$$

Tabel 1.4 Hasil Pengukuran yang Terbaca pada Pengukuran Berganda Besaran Panjang

Alat Ukur	Objek yang Diukur	Penunjukan Skala	Hasil Pengukuran (mm)
Mistar Geser	Kedalaman Tabung Silinder	SU = skala SN = skala	...
		SU = skala SN = skala	...
		SU = skala SN = skala	...

Alat Ukur	Objek yang Diukur	Penunjukan Skala	Hasil Pengukuran (mm)
Mikrometer Sekrup	Tebal Plat Logam	SU = skala SN = skala	...
		SU = skala SN = skala	...
		SU = skala SN = skala	...
Spherometer	Tebal Kaca Cermin	SU = skala SN = skala	...
		SU = skala SN = skala	...
		SU = skala SN = skala	...
Mistar Biasa	Panjang Buku Tulis	SU = skala	...
		SU = skala	...
		SU = skala	...

Analisis data:

1) Ketidakpastian Pengukuran Tunggal Besaran Panjang

a) Mistar Geser (Pengukuran Kedalaman Tabung Silinder)

Hasil Pengukuran (HP)

$$h = \dots \text{ mm}$$

Ketidakpastian Mutlak (KM)

$$\Delta h = \dots \text{ mm}$$

Ketidakpastian Relatif (KR)

$$KR = \frac{\Delta h}{h} \times 100\% = \dots = \dots\%$$

Angka Berarti (AB)

$$AB = 1 - \log \left[\frac{\Delta h}{h} \right] = 1 - \log \left[\frac{\dots}{\dots} \right] = \dots$$

Tingkat Kepercayaan (TK)

$$TK = 100\% - KR (\%) = \dots$$

Pelaporan Fisika (PF)

$$h = |\bar{h} \pm \Delta h| \text{ mm} = \dots \text{ mm}$$

b) Mikrometer Sekrup (Pengukuran Tebal Plat Logam)

Hasil Pengukuran (HP)

$$t = \dots \text{ mm}$$

Ketidakpastian Mutlak (KM)

$$\Delta_t = \dots \text{ mm}$$

Ketidakpastian Relatif (KR)

$$KR = \frac{\Delta h}{t} \times 100\% = \dots = \dots\%$$

Angka Berarti (AB)

$$AB = 1 - \log \left[\frac{\Delta h}{t} \right] = 1 - \log \left[\frac{\dots}{\dots} \right] = \dots$$

Tingkat Kepercayaan (TK)

$$TK = 100\% - KR (\%) = \dots$$

Pelaporan Fisika (PF)

$$h = |\bar{t} \pm \Delta h| \text{ mm} = \dots \text{ mm}$$

c) Spherometer (Pengukuran Tebal Kaca Cermin)

Hasil Pengukuran (HP)

$$t = \dots \text{ mm}$$

Ketidakpastian Mutlak (KM)

$$\Delta_t = \dots \text{ mm}$$

Ketidakpastian Relatif (KR)

$$KR = \frac{\Delta t}{t} \times 100\% = \dots = \dots\%$$

Angka Berarti (AB)

$$AB = 1 - \log \left[\frac{\Delta t}{t} \right] = 1 - \log \left[\frac{\dots}{\dots} \right] = \dots$$

Tingkat Kepercayaan (TK)

$$TK = 100\% - KR (\%) = \dots$$

Pelaporan Fisika (PF)

$$t = |\bar{t} \pm \Delta h| \text{ mm} = \dots \text{ mm}$$

d) Mistar Biasa (Pengukuran Panjang Buku Tulis)

Hasil Pengukuran (HP)

$$x = \dots \text{ mm}$$

Ketidakpastian Mutlak (KM)

$$\Delta x = \dots \text{ mm}$$

Ketidakpastian Relatif (KR)

$$KR = \frac{\Delta x}{x} \times 100\% = \dots = \dots\%$$

Angka Berarti (AB)

$$AB = 1 - \log \left[\frac{\Delta x}{x} \right] = 1 - \log \left[\frac{\dots}{\dots} \right] = \dots$$

Tingkat Kepercayaan (TK)

$$TK = 100\% - KR (\%) = \dots$$

Pelaporan Fisika (PF)

$$x = |x \pm \Delta x| \text{ mm} = \dots \text{ mm}$$

2) Ketidakpastian Pengukuran Berganda Besaran Panjang

a) Mistar Geser (Pengukuran Kedalaman Tabung Silinder)

Hasil Pengukuran (HP)

$$h_1 = \dots \text{ mm}$$

$$h_2 = \dots \text{ mm}$$

$$h_3 = \dots \text{ mm}$$

Ketidakpastian Mutlak (KM)

$$\bar{h} = \frac{h_1 + h_2 + h_3}{3} = \dots \text{ mm}$$

$$\delta_1 = \dots$$

$$\delta_2 = \dots$$

$$\delta_3 = \dots$$

$$\Delta h = \delta_{\max} = \dots$$

Ketidakpastian Relatif (KR)

$$KR = \frac{\Delta \bar{h}}{\bar{h}} \times 100\% = \dots\dots\dots = \dots\dots\dots\%$$

Angka Berarti (AB)

$$AB = 1 - \log \left[\frac{\Delta \bar{h}}{\bar{h}} \right] = 1 - \log \left[\frac{\dots}{\dots} \right] = \dots$$

Tingkat Kepercayaan (TK)

$$TK = 100\% - KR (\%) = \dots$$

Pelaporan Fisika (PF)

$$h = |\bar{h} \pm \Delta \bar{h}| \text{ mm} = \dots\dots\dots \text{ mm}$$

b) Mikrometer Sekrup (Pengukuran Tebal Plat Logam)

Hasil Pengukuran (HP)

$$t_1 = \dots \text{ mm}$$

$$t_2 = \dots \text{ mm}$$

$$t_3 = \dots \text{ mm}$$

Ketidakpastian Mutlak (KM)

$$\bar{t} = \frac{t_1 + t_2 + t_3}{3} = \dots\dots\dots \text{ mm}$$

$$\delta_1 = \dots\dots\dots$$

$$\delta_2 = \dots\dots\dots$$

$$\delta_3 = \dots\dots\dots$$

$$\Delta t = \delta_{\max} = \dots\dots\dots$$

Ketidakpastian Relatif (KR)

$$KR = \frac{\Delta \bar{t}}{\bar{t}} \times 100\% = \dots\dots\dots = \dots\dots\dots\%$$

Angka Berarti (AB)

$$AB = 1 - \log \left[\frac{\Delta \bar{t}}{\bar{t}} \right] = 1 - \log \left[\frac{\dots}{\dots} \right] = \dots$$

Tingkat Kepercayaan (TK)

$$TK = 100\% - KR (\%) = \dots$$

Pelaporan Fisika (PF)

$$t = |\bar{t} \pm \Delta\bar{t}| \text{ mm} = \dots\dots\dots \text{ mm}$$

- c) Spherometer (Pengukuran Tebal Kaca Cermin)

Hasil Pengukuran (HP)

$$t_1 = \dots \text{ mm}$$

$$t_2 = \dots \text{ mm}$$

$$t_3 = \dots \text{ mm}$$

Ketidakpastian Mutlak (KM)

$$\bar{t} = \frac{t_1 + t_2 + t_3}{3} = \dots\dots\dots \text{ mm}$$

$$\delta_1 = \dots\dots\dots$$

$$\delta_2 = \dots\dots\dots$$

$$\delta_3 = \dots\dots\dots$$

$$\Delta t = \delta_{\max} = \dots\dots\dots$$

Ketidakpastian Relatif (KR)

$$\text{KR} = \frac{\Delta\bar{t}}{\bar{t}} \times 100\% = \dots\dots\dots = \dots\dots\dots\%$$

Angka Berarti (AB)

$$\text{AB} = 1 - \log \left[\frac{\Delta\bar{t}}{\bar{t}} \right] = 1 - \log \left[\frac{\dots}{\dots} \right] = \dots$$

Tingkat Kepercayaan (TK)

$$\text{TK} = 100\% - \text{KR} (\%) = \dots$$

Pelaporan Fisika (PF)

$$t = |\bar{t} \pm \Delta\bar{t}| \text{ mm} = \dots\dots\dots \text{ mm}$$

- d) Mistar Biasa (Pengukuran Panjang Buku Tulis)

Hasil Pengukuran (HP)

$$x_1 = \dots \text{ mm}$$

$$x_2 = \dots \text{ mm}$$

$$x_3 = \dots \text{ mm}$$

Ketidakpastian Mutlak (KM)

$$\bar{x} = \frac{x_1 + x_2 + x_3}{3} = \dots \text{ mm}$$

$$\delta_1 = \dots$$

$$\delta_2 = \dots$$

$$\delta_3 = \dots$$

$$\Delta x = \delta_{\max} = \dots$$

Ketidakpastian Relatif (KR)

$$KR = \frac{\Delta \bar{x}}{\bar{x}} \times 100\% = \dots = \dots \%$$

Angka Berarti (AB)

$$AB = 1 - \log \left[\frac{\Delta \bar{x}}{\bar{x}} \right] = 1 - \log \left[\frac{\dots}{\dots} \right] = \dots$$

Tingkat Kepercayaan (TK)

$$TK = 100\% - KR (\%) = \dots$$

Pelaporan Fisika (PF)

$$x = |\bar{x} \pm \Delta \bar{x}| \text{ mm} = \dots \text{ mm}$$

2. Eksperimen Alat Ukur Besaran Massa

Hasil Pengukuran:

$$\text{NST Lengan 1 (L1)} = \dots \text{ gram}$$

$$\text{NST Lengan 2 (L2)} = \dots \text{ gram}$$

$$\text{NST Lengan 3 (L3)} = \dots \text{ gram}$$

$$\text{KTN} = \dots \text{ gram}$$

Tabel 1.5 Hasil Pengukuran Tunggal Neraca Ohaus Tiga Lengan

Objek yang Diukur	Penunjukan Skala			Massa Anak Timbangan (gram)
	L1	L2	L3	
Anak Timbangan

Tabel 1.6 Hasil Pengukuran Berganda Neraca Ohaus Tiga Lengan

Pengukuran ke	Penunjukan Skala			Massa Anak Timbangan (Gram)
	L1	L2	L3	
I
II
III

Analisis Data:

Ketidakpastian Pengukuran Tunggal Neraca Ohaus Tiga Lengan:

Hasil Pengukuran (HP):

$$m = \dots \text{ gram}$$

Ketidakpastian Mutlak (KM):

$$\Delta m = \dots \text{ gram}$$

Ketidakpastian Relatif (KR):

$$KR = \frac{\Delta m}{m} \times 100\% = \dots$$

Tingkat Kepercayaan (TK):

$$TK = 100\% - KR (\%) = \dots$$

Angka Berarti (AB):

$$AB = 1 - \log \left[\frac{\Delta m}{m} \right] = 1 - \log \left[\frac{\dots}{\dots} \right] = \dots$$

Pelaporan Fisika (PF):

$$m = | m \pm \Delta m | = | \dots \pm \dots | \text{ gram}$$

Ketidakpastian Pengukuran Berganda Neraca Ohaus Tiga Lengan:

Hasil Pengukuran (HP):

$$m_1 = \dots \text{ gram}$$

$$m_2 = \dots \text{ gram}$$

$$m_3 = \dots \text{ gram}$$

Ketidakpastian Pengukuran Tunggal Stopwatch

Hasil Pengukuran (HP):

$$T = \dots \text{ s}$$

Ketidakpastian Mutlak (KM):

$$\Delta T = \dots \text{ s}$$

Ketidakpastian Relatif (KR):

$$KR = \frac{\Delta T}{T} \times 100\% = \dots\dots\dots$$

Tingkat Kepercayaan (TK):

$$TK = 100\% - KR (\%) = \dots\dots\dots$$

Angka Berarti (AB):

$$AB = \dots\dots\dots$$

Pelaporan Fisika (PF):

$$T = | \dots \pm \dots |$$

Pengukuran Berganda

Tabel 1.8 Hasil Pengukuran Berganda Stopwatch

Pengukuran Waktu 10 Kali Ayunan	Waktu (s)	Periode Ayunan (T)
I
II
III

Ketidakpastian Pengukuran Berganda Stopwatch

Hasil Pengukuran (HP):

$$T_1 = \dots \text{ s}$$

$$T_2 = \dots \text{ s}$$

$$T_3 = \dots \text{ s}$$

Ketidakpastian Mutlak (KM):

$$\bar{T} = \frac{T_1 + T_2 + T_3}{3} = \dots\dots\dots \text{ s}$$

$$\delta_1 = \dots\dots\dots$$

$$\delta_2 = \dots\dots\dots$$

$$\delta_3 = \dots\dots\dots$$

$$\Delta T = \delta_{\max} = \dots\dots\dots$$

Ketidakpastian Relatif (KR):

$$KR = \frac{\Delta T}{\bar{T}} \times 100\% = \dots\dots\dots$$

Tingkat Kepercayaan (TK):

$$TK = 100\% - KR (\%) = \dots\dots\dots$$

Angka Berarti (AB):

$$AB = \dots\dots\dots$$

Pelaporan Fisika (PF):

$$T = | \dots \pm \dots |$$

4. Eksperimen Alat Ukur Besaran Listrik

Hasil Pengamatan/Pengukuran

Amperemeter

a. Pengukuran Tunggal

Tabel 1.9 Hasil Pengukuran Tunggal Amperemeter

Batas ukur yang digunakan = ...

Jumlah Skala Atas (SA) = ...

NST SA Amperemeter = ...

Jumlah Skala Bawah (SB) = ...

NST SB Amperemeter = ...

Besaran yang Diukur	Penunjukan Skala		Hasil Pengukuran Kuat Arus (A)	
	SA	SB	SA	SB
Kuat Arus Dua Baterai skala skala

Ketidakpastian Pengukuran Tunggal Amperemeter

Hasil Pengukuran (HP):

$$I = \dots\dots\dots$$

Ketidakpastian Mutlak (KM):

$$\Delta I = \dots\dots\dots$$

Ketidakpastian Relatif (KR):

$$KR = \frac{\Delta I}{I} \times 100\% = \dots\dots\dots$$

Tingkat Kepercayaan (TK):

$$TK = 100\% - KR (\%) = \dots\dots\dots$$

Angka Berarti (AB):

$$AB = \dots\dots\dots$$

Pelaporan Fisika (PF):

$$I = | \dots\dots \pm \dots\dots |$$

b. Pengukuran Berganda

Tabel 1.10 Hasil Pengukuran Berganda Amperemeter

Besaran yang Diukur	Penunjukan Skala		Hasil Pengukuran Kuat Arus	
	SA	SB	SA	SB
Kuat arus dua baterai skala skala
 skala skala
 skala skala

Ketidakpastian Pengukuran Berganda Amperemeter

Hasil Pengukuran (HP)

$$I_1 = \dots\dots\dots \text{ s}$$

$$I_2 = \dots\dots\dots \text{ s}$$

$$I_3 = \dots\dots\dots \text{ s}$$

Ketidakpastian Mutlak (KM)

$$\bar{I} = \frac{I_1 + I_2 + I_3}{3} = \dots\dots\dots$$

$$\delta_1 = \dots\dots\dots$$

$$\delta_2 = \dots\dots\dots$$

$$\delta_3 = \dots\dots\dots$$

$$\Delta T = \delta_{\max} = \dots\dots\dots$$

Ketidakpastian Relatif (KR):

$$KR = \frac{\Delta I}{\bar{I}} \times 100\% = \dots\dots\dots$$

Tingkat Kepercayaan (TK):

$$TK = 100\% - KR (\%) = \dots\dots\dots$$

Angka Berarti (AB):

$$AB = \dots\dots\dots$$

Pelaporan Fisika (PF)

$$I = | \dots\dots \pm \dots\dots |$$

Voltmeter

a. Pengukuran Tunggal

Tabel 1.11 Hasil Pengukuran Tunggal Voltmeter

Batas ukur yang digunakan = ...

Jumlah Skala Atas (SA) = ...

NST SA Voltmeter = ...

Jumlah Skala Atas (SB) = ...

NST SB Voltmeter = ...

Besaran yang Diukur	Penunjukan Skala		Hasil Pengukuran Tegangan (V)	
	SA	SB	SA	SB
Tegangan Dua Baterai skala skala

Ketidakpastian Pengukuran Tunggal Voltmeter

Hasil Pengukuran (HP):

$$V = \dots\dots\dots$$

Ketidakpastian Mutlak (KM):

$$\Delta V = \dots\dots\dots$$

Ketidakpastian Relatif (KR):

$$KR = \frac{\Delta V}{V} \times 100\% = \dots\dots\dots$$

Tingkat Kepercayaan (TK):

$$TK = 100\% - KR (\%) = \dots\dots\dots$$

Angka Berarti (AB):

$$AB = \dots\dots\dots$$

Pelaporan Fisika (PF):

$$V = | \dots \pm \dots |$$

b. Pengukuran Berganda

Tabel 1.12 Hasil Pengukuran Berganda Voltmeter

Besaran yang Diukur	Penunjukan Skala		Hasil Pengukuran Tegangan (V)	
	SA	SB	SA	SB
Kuat arus dua baterai skala skala
 skala skala
 skala skala

Ketidakpastian Pengukuran Berganda Voltmeter

Hasil Pengukuran (HP)

$$V_1 = \dots\dots\dots s$$

$$V_2 = \dots\dots\dots s$$

$$V_3 = \dots\dots\dots s$$

Ketidakpastian Mutlak (KM)

Analisis Data:

Ketidakpastian Pengukuran Tunggal Termometer

Hasil Pengukuran (HP):

$$T = \dots\dots\dots$$

Ketidakpastian Mutlak (KM):

$$\Delta T = \dots\dots\dots$$

Ketidakpastian Relatif (KR):

$$KR = \frac{\Delta T}{T} \times 100\% = \dots\dots\dots$$

Tingkat Kepercayaan (TK):

$$TK = 100\% - KR (\%) = \dots\dots\dots$$

Angka Berarti (AB):

$$AB = \dots\dots\dots$$

Pelaporan Fisika (PF):

$$T = | \dots\dots \pm \dots\dots |$$

Ketidakpastian Pengukuran Berganda Termometer:

Hasil Pengukuran (HP):

$$T_1 = \dots\dots\dots \text{ s}$$

$$T_2 = \dots\dots\dots \text{ s}$$

$$T_3 = \dots\dots\dots \text{ s}$$

Ketidakpastian Mutlak (KM)

$$\bar{T} = \frac{T_1 + T_2 + T_3}{3} = \dots\dots\dots$$

$$\delta_1 = \dots\dots\dots$$

$$\delta_2 = \dots\dots\dots$$

$$\delta_3 = \dots\dots\dots$$

$$\Delta T = \delta_{\max} = \dots\dots\dots$$

Ketidakpastian Relatif (KR)

$$KR = \frac{\Delta T}{\bar{T}} \times 100\% = \dots\dots\dots$$

Tingkat Kepercayaan (TK):

$$TK = 100\% - KR (\%) = \dots\dots\dots$$

Angka Berarti (AB):

$$AB = \dots\dots\dots$$

Pelaporan Fisika (PF)

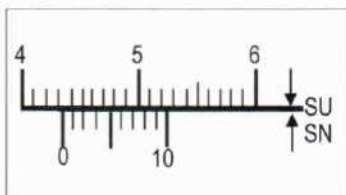
$$T = | \dots\dots \pm \dots\dots |$$

D. Penugasan Eksperimen

Tugas pendahuluan:

1. Uraikan secara singkat apa yang dimaksud:
 - a. pengukuran;
 - b. pengukuran tunggal;
 - c. pengukuran berganda;
 - d. kesalahan titik nol;
 - e. kesalahan kalibrasi;
 - f. NST;
 - g. skala utama;
 - h. skala nonius;
 - i. ketidakpastian mutlak;
 - j. ketidakpastian acak;
 - k. ketidakpastian relatif.
2. Jelaskan bagaimana cara menentukan NST suatu alat dengan menggunakan skala nonius dan tanpa skala nonius!
3. Jelaskan mengapa hasil pengukuran selalu dihindangi ketidakpastian!
4. Uraikan empat macam sumber ketidakpastian dari suatu pengukuran!

5. Tentukan masing-masing berapa nilai skala terkecil suatu alat pada alat ukur dasar di bawah ini:
 - a. jangka sorong;
 - b. termometer;
 - c. mikrometer sekrup;
 - d. stopwatch;
 - e. spherometer;
 - f. jam dinding;
 - g. mistar biasa;
 - h. amperemeter;
 - i. busur derajat;
 - j. voltmeter;
 - k. neraca ohaus 311 gram.
6. Tuliskan masing-masing fungsi alat ukur dasar; jangka sorong, micrometer sekrup, spherometer, neraca ohaus 311 gram, stopwatch, amperemeter, voltmeter, thermometer!
7. Perhatikan gambar berikut!



- Dari gambar di samping, tentukanlah:
- a. NST skala utama;
 - b. NST skala nonius;
 - c. hasil pengukurannya.
8. Suatu alat ukur dilengkapi dengan 10 skala nonius. NST alat tanpa nonius = 0,1 mm. Jika penunjukan angka nol nonius pada skala utama = 12,1 mm, dan skala nonius ke-4 tepat berimpit dengan salah satu skala utama. Gambar kedudukan skala yang ditunjukkan oleh alat tersebut dan tentukan hasil pengukurannya!

2

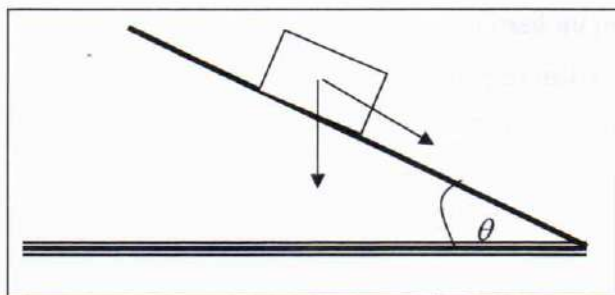
Eksperimen Gerak: Gerak Menggelinging

A. Pendahuluan Teori Singkat

1. Konsep Gaya Gesekan pada Bidang Miring

Sesungguhnya jika suatu permukaan bergeseran pada permukaan benda lain, maka masing-masing benda akan melakukan gaya gesekan satu terhadap yang lain. Gaya gesekan benda berlawanan arah dengan gerak relatifnya terhadap benda lain. Sekalipun demikian jika tidak ada gerak relatif mungkin saja ada gaya gesekan antarpermukaan.

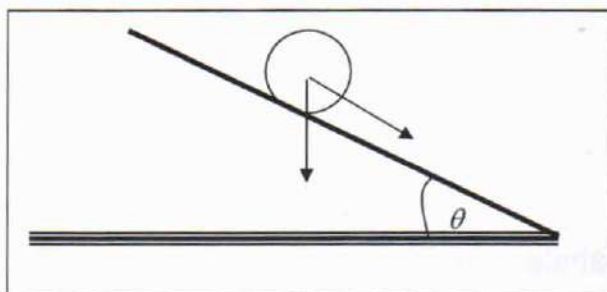
Andaikan pada suatu bidang miring kasar terlihat pada Gambar 2.1 berikut, diletakkan suatu balok pada bagian tertinggi, maka jika dianggap balok akan hendak bergerak maka besarnya koefisien gesekan statis adalah $\mu = \text{tg } \alpha$ (2.1).



Gambar 2.1 Bidang Miring Kasar

2. Gerak Menggelinding pada Bidang Miring

Gerak menggelinding merupakan perpaduan antara gerak rotasi pada sumbunya dengan gerak translasi. Sebagai contoh, sebuah silinder yang berada pada suatu bidang miring kasar (lihat Gambar 2.2), agar silinder menggelinding maka dibutuhkan gaya gesekan di samping komponen gaya beratnya sendiri.



Gambar 2.2 Gerak Menggelinding

Andaikan benda bergerak menggelinding ke bawah dengan menempuh jarak sejauh S , maka momen inersia benda dapat dirumuskan sebagai berikut.

$$I = \left[\frac{t^2 g \sin \theta}{2s} - 1 \right] mR^2 \quad (2.2)$$

B. Rancangan Eksperimen Gerak Menggelinding

1. Tujuan Eksperimen

Eksperimen ini bertujuan agar lebih terampil:

- Menjelaskan terjadinya gerak menggelinding.
- Merumuskan persamaan momen kelembaman pada percobaan ini.
- Menerapkan hukum-hukum Newton tentang gerak pada bidang miring;.
- Menguasai arah-arah gaya pada bidang miring.
- Mengetahui arah gaya gesekan.

2. Alat dan Bahan

Alat dan bahan yang digunakan dalam eksperimen ini adalah:

- a. bidang miring.
- b. meteran.
- c. balok kayu.
- d. *stopwatch*.
- e. neraca Ohaus 310 gram.
- f. mistar geser.
- g. busur derajat.
- h. beberapa silinder pejal.

3. Prosedur Eksperimen

Sebelum Anda melakukan pengukuran dan mengambil data, maka pastikan bahwa alat-alat yang Anda gunakan dalam keadaan baik dan sudah lengkap. Setelah itu lakukan dua jenis kegiatan percobaan berikut.

Kegiatan 2.1: Koefisien Gesekan

- 1) Bersihkan bidang miring dan balok dari segala macam debu yang melekat (gunakan tisu).
- 2) Letakkan bidang (yang akan dimiringkan) dalam posisi horizontal.
- 3) Letakkan balok pada ujung bidang.
- 4) Angkat perlahan-lahan ujung bidang sedemikian sehingga balok hendak akan bergerak.
- 5) Dalam posisi ini catat sudut kemiringan bidang miring.
- 6) Lakukan kegiatan di atas sampai tiga kali.
- 7) Catat hasil pengamatanmu pada tabel pengamatan.

Kegiatan 2.2: Gerak Menggelinding

- 1) Timbanglah silinder pejal dan ukur diameternya.
- 2) Atur kemiringan bidang miring misalnya pada $\alpha = 10^\circ$, gunakan busur derajat.

- 3) Beri tanda pada bagian puncak bidang miring dengan sebuah garis dan sebuah tanda pada bagian kaki bidang miring.
- 4) Ukur jarak kedua tanda tersebut dengan menggunakan meteran.
- 5) Tempatkan silinder pejal pada bagian puncak tepat pada tanda. Atur sedemikian sehingga silinder mengarah ke bawah dan kemudian lepaskan sehingga silinder meluncur. Pada saat silinder dilepaskan tekan *stopwatch* untuk mengukur waktu tempuh silinder. Lakukan sebanyak tiga kali.
- 6) Catat hasil pengukuran Anda pada tabel pengamatan.
- 7) Ulangi kembali percobaan di atas untuk sudut kemiringan masing-masing 20° dan 30° .

C. Hasil Pengamatan dan Teknik Analisis Data

1. Hasil Pengamatan

Kegiatan 2.1: Koefisien Gesekan

$$\alpha_1 = \dots\dots\dots^\circ$$

$$\alpha_2 = \dots\dots\dots^\circ$$

$$\alpha_3 = \dots\dots\dots^\circ$$

Kegiatan 2.2: Gerak Menggelinding

No.	Sudut Kemiringan ($^\circ$)	Waktu Tempuh (Sekon)
1.	10
2.	20
3.	30

2. Teknik Analisis Data Eksperimen

Pada prinsipnya ada dua jenis percobaan yang akan dilakukan, yaitu menentukan koefisien gesekan statis dan menentukan momen inersia benda (menggeling).

Menentukan Koefisien Gesekan Statis

Dalam hal ini persamaan yang akan digunakan untuk menentukan μ_s adalah persamaan (2.1) di atas. Variabel yang terukur langsung adalah sudut kemiringan bidang.

Menentukan Momen Inersia Benda (Menggeling)

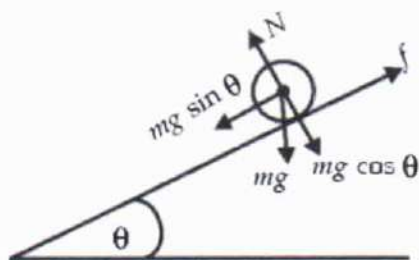
Dalam hal ini persamaan yang akan digunakan adalah persamaan (2.2) di atas. Sementara variabel yang terukur secara langsung adalah t (waktu tempuh), S (jarak tempuh), m (massa benda), R (jejari), dan sudut kemiringan.

D. Penugasan Eksperimen

Sebelum Anda melakukan eksperimen ini, maka diharapkan dapat menjawab beberapa pertanyaan berikut ini.

1. Sebutkan dua jenis gaya gesekan dan tuliskan rumusnya serta beri keterangan untuk setiap rumus!
2. Salin kembali gambar (2.1) dan lengkapi komponen-komponen gaya yang bekerja pada balok, serta buktikan persamaan (2.1) di atas!
3. Salin kembali gambar (2.2) di atas dan lengkapi komponen-komponen gaya yang bekerja pada benda!
4. Apa yang dimaksud dengan gerak menggeling?
5. Buktikan persamaan (2.2) dan berikan keterangan setiap variabel beserta satuannya!
6. Jelaskan perbedaan antara gerak translasi dengan gerak rotasi serta berikan contohnya!

7. Tunjukkan persamaan percepatan pada kasus berikut!



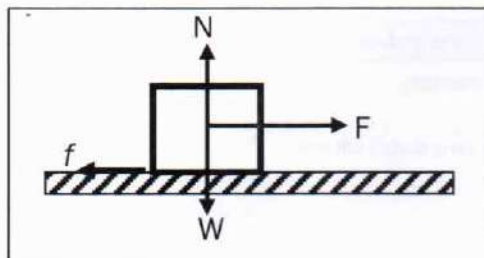
8. Sebuah silinder pejal bermassa m dan jari-jari R menggelinding tanpa slip menuruni bidang miring kasar dengan kemiringan θ . Hitung percepatan pusat massa yang dialami silinder tersebut!
9. Hitung kecepatan pusat massa dari silinder pejal pada dasar bidang miring seperti pada soal nomor 8 di atas! Silinder tersebut mulai menggelinding dari ketinggian h .
10. Tunjukkan persamaan berikut!

$$v = \sqrt{\frac{2gh}{1+k}}$$

Eksperimen Gerak: Koefisien Gesek

A. Pendalaman Materi Tentang Gaya Gesekan

Bila sebuah balok massanya m , dilepaskan dengan kecepatan awal V_0 pada sebuah bidang horizontal, maka balok tersebut akhirnya akan berhenti. Ini berarti di dalam gerakan balok mengalami perlambatan, atau ada gaya yang menahan balok, gaya ini disebut *gaya gesekan*. Besarnya gaya gesekan ditentukan oleh besar koefisien gesekan antar-kedua permukaan benda dan gaya normal. Besarnya koefisien gesekan ditentukan oleh kekasaran permukaan bidang dan benda. Gaya gesekan dibagi dua yaitu: gaya gesekan statis (f_s) dan gaya gesekan kinetis (f_k). Sebuah balok beratnya W , berada pada bidang mendatar yang kasar, kemudian ditarik oleh gaya eksternal F (gaya penyebab) seperti pada Gambar 3.1, maka gaya gesekan f selalu berlawanan arah dengan gaya penyebabnya.



Gambar 3.1 Gaya Gesekan

Keadaan diam dan Bergeraknya balok di atas, berlaku:

1. Jika harga $F < f_s$ maka balok dalam keadaan diam.
2. Jika harga $F = f_s$ maka balok tepat saat akan bergerak.
3. Jika F diperbesar lagi sehingga $F > f_s$ maka benda bergerak dan gaya gesekan statis f_s akan berubah menjadi gaya gesekan kinetis f_k .

Gaya gesekan antara dua permukaan yang saling diam satu terhadap yang lain disebut *gaya gesekan statis*. Gaya gesekan statis yang maksimum sama dengan gaya terkecil yang dibutuhkan agar benda mulai bergerak. Sekali gerak telah dimulai, gaya gesekan antar-kedua permukaan biasanya berkurang sehingga diperlukan gaya yang lebih kecil untuk menjaga agar benda bergerak beraturan. Gaya yang bekerja antara dua permukaan yang saling bergerak relatif disebut *gaya gesekan kinetis*. Jika f_s menyatakan besar gaya gesekan statis maksimum, maka:

$$\mu_s = \frac{f_s}{N} \quad (3.1)$$

dengan μ_s adalah koefisien gesekan statis dan N adalah besar gaya normal. Jika f_k menyatakan besar gaya gesekan kinetis, maka:

$$\mu_k = \frac{f_k}{N} \quad (3.2)$$

dengan μ_k adalah koefisien gesekan kinetis.

Nilai koefisien gesekan statis dan kinetis pada suatu permukaan ditunjukkan seperti pada Tabel 3.1 sebagai berikut.

Tabel 3.1 Nilai Koefisien Gesekan Statis dan Kinetis pada Suatu Permukaan

Permukaan	μ_s	μ_k
Persendian lengan manusia	0,01	0,01
Es pada es	0,10	0,03
Logam pada logam yang sudah dilumasi	0,15	0,07
Kayu pada kayu	0,40	0,20
Seng pada besi tuang	0,85	0,21
Baja pada baja	0,74	0,57
Karet pada beton kering	1,00	0,80

Sumber: Sears & Zemansky, hal. 37

Perbedaan gaya gesekan statis dan gaya gesekan kinetis dapat dilihat pada Tabel 3.2 berikut.

Tabel 3.2 Ciri Gaya Gesekan Statis dan Gaya Gesekan Kinetis

Gaya Gesek Statis $f_s = \mu_s N$	Gaya Gesek Kinetis $f_k = \mu_k N$
<ul style="list-style-type: none"> Bekerja pada benda yang diam. Nilainya selalu berubah bergantung pada gaya F yang bekerja pada suatu benda. Nilai maksimum dicapai ketika benda tepat akan bergerak. 	<ul style="list-style-type: none"> Bekerja pada benda yang bergerak. Nilainya selalu tetap tidak bergantung pada kecepatan dan percepatan benda (baik GLB maupun GLBB). Tidak ada nilai maksimum.

B. Rancangan Eksperimen Koefisien Gesek

1. Tujuan Eksperimen

Setelah menyelesaikan eksperimen ini, maka diharapkan lebih terampil:

- menguasai faktor-faktor yang memengaruhi besarnya gaya gesekan;
- menyelidiki pengaruh gaya tarik terhadap keadaan benda;
- menyelidiki pengaruh gaya normal terhadap gaya gesek;
- menyelidiki pengaruh keadaan permukaan terhadap gaya gesek.

2. Alat-alat/Bahan yang Digunakan

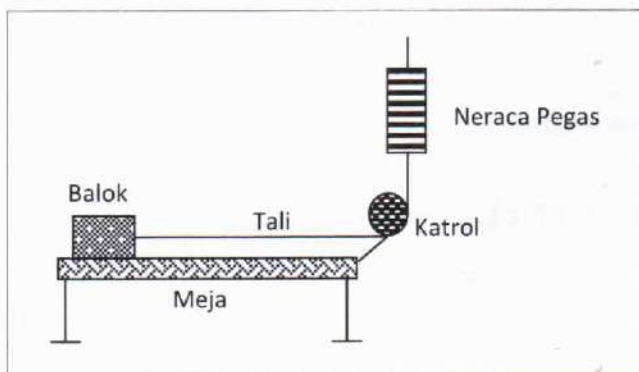
Komponen alat dan bahan yang dipakai dalam eksperimen ini yaitu:

- balok kasar + licin;
- neraca pegas 0-5 N;
- katrol meja;
- beban atau anak timbangan dengan massanya berbeda;
- tali/benang secukupnya;
- papan landasan kasar dan licin (kertas karton) atau permukaan meja.

3. Prosedur Eksperimen

Kegiatan 3.1: Pengukuran Gaya Tarik Terhadap Variasi Keadaan Benda

Siapkan beberapa komponen alat dan bahan kemudian susunlah seperti ditunjukkan pada gambar berikut.



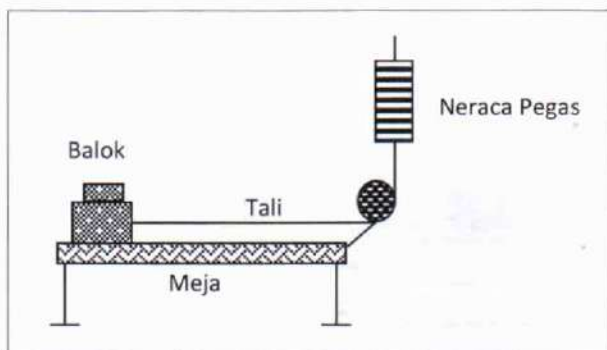
Gambar 3.2 Gaya Gesekan dengan Satu Beban

Mula-mula tentukan nilai skala terkecil (NST) pada alat neraca pegas. Timbang salah satu balok yang akan digunakan untuk menentukan besar gaya normal dengan neraca pegas (nyatakan dalam Newton (N)). Selanjutnya, tarik pegas pelan-pelan dengan gaya kecil, lalu perhatikan penunjukan neraca pegas (apa yang terjadi pada balok?). Kemudian perbesar gaya tarik sambil memperhatikan keadaan balok. Lakukan hal ini hingga balok tepat akan bergerak. Pada keadaan ini perhatikan penunjukan neraca pegas. Tarik terus sampai balok bergerak lurus beraturan, perhatikan penunjukan neraca pegas. Catat hasil pengamatan pada tabel pengamatan yang tersedia.

Kegiatan 3.2: Pengukuran Besar Gaya Gesekan (F_g) dengan Gaya Normal (F_N) yang Divariasikan

Tambahkan beban di atas balok, lakukan seperti Kegiatan 3.1 (terlebih dahulu tentukan NST neraca pegas yang digunakan). Timbang setiap

penambahan beban untuk menentukan masing-masing besar gaya normal. Amati penunjukan neraca pegas pada saat balok tepat akan bergerak dan pada saat balok bergerak lurus beraturan. Lakukan beberapa kali dengan mengubah-ubah penambahan beban di atas balok. Catat hasil pengamatan pada tabel pengamatan.



Gambar 3.3 Gaya Gesekan dengan Beberapa Beban

Kegiatan 3.3: Pengukuran Gaya Gesekan (F_g) dengan Keadaan Permukaan yang Divariasikan

Mula-mula tentukan nilai skala terkecil (NST) pada alat neraca pegas. Timbang salah satu balok yang akan digunakan untuk menentukan besar gaya normal dengan neraca pegas (nyatakan dalam Newton (N)). Lakukan seperti Kegiatan 3.2, ganti permukaan meja atau balok yang lebih kasar/halus. Amati penunjukan pegas. Pada saat balok tepat akan bergerak dan pada saat balok bergerak lurus beraturan. Lakukan kegiatan ini beberapa kali dengan mengganti permukaan meja atau balok yang lebih kasar/halus. Catat hasil pengamatan pada tabel pengamatan.

C. Hasil Pengamatan dan Teknik Analisis Data Eksperimen

1. Hasil Pengamatan

Kegiatan 3.1: Pengukuran Gaya Tarik Terhadap Variasi Keadaan Benda

Tabel 3.3 Pengukuran Gaya Tarik untuk Setiap Keadaan Benda

NST Neraca Pegas = N

Gaya Normal = N

No.	Gaya Tarik (N)	Keadaan Benda
1.	...	Diam
2.	...	Tepat akan bergerak
3.	...	Bergerak

Kegiatan 3.2: Pengukuran Besar Gaya Gesekan (F_g) dengan Gaya Normal (F_N) yang Divariasikan

Tabel 3.4 Pengukuran Gaya Gesek dengan Gaya Normal yang Bervariasi

NST Neraca Pegas = N

No.	Gaya Normal (N)	Gaya Gesek (N) pada Saat Keadaan Benda (N)	
		Tepat Akan Bergerak	GLB
1.
2.
3.
4.

Kegiatan 3.3: Pengukuran Gaya Gesekan (F_g) dengan Keadaan Permukaan yang Divariasikan

Tabel 3.5 Pengukuran Besar Gaya Gesek pada Saat Benda dalam Beberapa Keadaan

NST Neraca Pegas = N Gaya Normal = N

Permukaan Benda	Gaya Gesek (N) pada Saat Keadaan Benda (N)		
	Diam	Tepat Akan Bergerak	GLB
I
II
III

2. Teknik Analisis Data

Setelah melakukan eksperimen ini, maka langkah selanjutnya adalah bagaimana cara menganalisis perhitungannya. Cara analisis dapat ditentukan sebagai berikut.

Kegiatan 3.1: Pengukuran Gaya Tarik Terhadap Variasi Keadaan Benda

- 1) Membuat tabel hasil pengamatan pengukuran gaya tarik dengan permukaan balok yang divariasikan (lihat tabel pengamatan setiap Kegiatan 3.1).
- 2) Menghitung besarnya masing-masing koefisien gesekan statis dengan koefisien gesekan kinetis seperti pada persamaan 3.1 dan persamaan 3.2.
- 3) Meralat persamaan koefisien gesekan statis dan koefisien gesekan kinetis kemudian menghitung rambat ralatnya, yaitu:

$$\Delta\mu_s = \left| \frac{\Delta f_s}{\Delta N} \right| \mu_s, \Delta f_s = \Delta N = \frac{1}{2} \times \text{NST neraca pegas}$$

$$\Delta\mu_k = \left| \frac{\Delta f_k}{\Delta N} \right| \mu_k, \Delta f_k = \Delta N = \frac{1}{2} \times \text{NST neraca pegas}$$

- 4) Melukis/menggambar gaya-gaya pada sistem benda baik dalam keadaan tidak bergerak (diam), benda tepat akan bergerak dan benda bergerak lurus beraturan (GLB).

Kegiatan 3.2: Pengukuran Besar Gaya Gesekan (F_g) dengan Gaya Normal (F_N) yang Divariasikan

- 1) Membuat tabel hasil pengamatan pengukuran gaya gesekan dengan variasi gaya normal (lihat tabel pengamatan setiap Kegiatan 3.2).
- 2) Menghitung besarnya masing-masing koefisien gesekan statis dengan koefisien gesekan kinetis seperti pada persamaan 3.1 dan persamaan 3.2.
- 3) Meralat persamaan koefisien gesekan statis dan koefisien kinetis kemudian menghitung rambat ralatnya (sama dengan poin 3, Kegiatan 3.1 di atas).
- 4) Melukis/menggambar gaya-gaya yang bekerja pada benda dalam keadaan tepat akan bergerak dan benda bergerak lurus beraturan.
- 5) Membuat grafik hubungan antara gaya normal sebagai sumbu X dan gaya gesek statis sebagai sumbu Y, kemudian tentukan besarnya koefisien gesekan statis.

Kegiatan 3.3: Pengukuran Gaya Gesekan (F_g) dengan Keadaan Permukaan yang Divariasikan

- 1) Membuat tabel hubungan antara keadaan permukaan dengan gaya gesekan (lihat tabel pengamatan setiap Kegiatan 3.3).
- 2) Menghitung besarnya masing-masing koefisien gesekan statis dengan koefisien gesekan kinetis pada permukaan benda yang berbeda seperti pada persamaan 3.1 dan persamaan 3.2.
- 3) Meralat persamaan koefisien gesekan statis dan koefisien gesekan kinetis kemudian menghitung rambat ralatnya (sama dengan poin 3, Kegiatan 3.1 di atas).
- 4) Melukis/menggambar gaya-gaya yang bekerja pada benda dalam keadaan tepat akan bergerak dan benda bergerak lurus beraturan.

D. Tugas Eksperimen

Sebelum Anda melakukan eksperimen ini, diharapkan dapat menjawab pertanyaan sebagai berikut.

1. Jelaskan apa yang dimaksud dengan gaya gesekan!
2. Jelaskan apa yang dimaksud koefisien gesekan!
3. Jelaskan perbedaan gaya gesekan statis dengan gaya gesekan kinetis!
4. Tuliskan masing-masing persamaan menentukan gaya gesekan statis dan kinetis lengkap dengan keterangannya!
5. Berapakah besarnya gaya F yang diperlukan supaya balok tepat saat akan bergerak $\mu_s = 0,5$ dan $W = 10 \text{ N}$?
6. Kapankah suatu benda dikatakan tepat akan bergerak, benda dalam keadaan bergerak dan benda dalam keadaan bergerak lurus beraturan?
7. Mengapa benda yang diam pada mulanya diberikan gaya yang sangat besar dibanding pada saat benda mengalami pergerakan?

Ekperimen Elastisitas (Konstanta Pegas dan Bandul Matematis)

A. Teori Singkat Ekperimen

Hukum Hooke

Jika sebuah pegas yang digantungi beban m digetarkan, periode dari getaran harmonik sederhananya akan mengikuti persamaan sebagai berikut ini.

$$T = 2\pi \sqrt{\frac{m}{k}} \quad (4.1)$$

Keterangan:

T = Periode getaran pegas (s)

m = Massa beban (kg)

k = Konstanta gaya pegas ($\text{N}\cdot\text{m}^{-1}$)

Persamaan di atas dibentuk berdasarkan anggapan bahwa massa pegas dapat diabaikan.

Dengan demikian, persamaan itu dapat diturunkan menjadi:

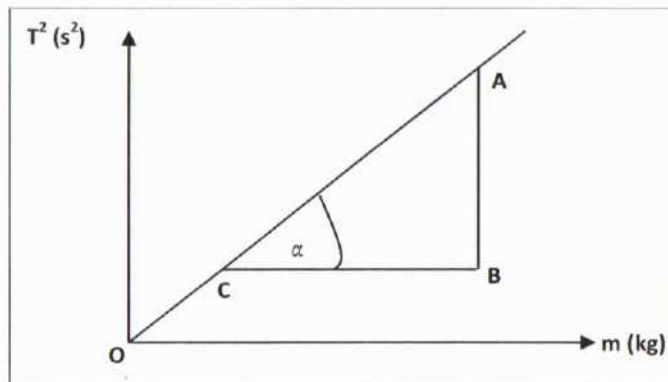
$$T^2 = 4\pi^2 \frac{m}{k} \quad (4.2)$$

atau

$$T^2 = \frac{4\pi^2}{k} m \quad (4.3)$$

Jika dibuatkan grafik hubungan antara T^2 terhadap m , maka akan diperoleh grafik linier seperti pada Gambar 4.1 berikut. Kemiringan pada grafik tersebut adalah $\tan \alpha = AB/BC$, sehingga konstanta pegas dapat ditentukan dengan menggunakan persamaan berikut.

$$\tan \alpha = \frac{4\pi^2}{k} m \quad \text{atau} \quad k = \frac{4\pi^2}{\tan \alpha} \quad (4.4)$$



Gambar 4.1 Hubungan antara T^2 dengan m

Asumsi pada sistem pegas diberikan dengan suatu gaya pemulih F_p , maka sesuai hukum Hooke berlaku bahwa pertambahan panjang pegas sebanding dengan besarnya gaya pemulih pegas F_p . Secara fisis dirumuskan bahwa:

$$F = k \cdot \Delta x. \quad (4.5)$$

dengan k disebut sebagai konstanta pegas (N/m).

Sementara pegas akan memberikan gaya perlawanan atau reaksi sebesar: $F = -k \cdot \Delta x$, di mana tanda (-) menunjukkan arah gaya yang berlawanan dengan gaya penyebabnya.

Ketika pegas tersebut ditarik suatu gaya (mengalami keregangan), maka dapat dihasilkan suatu energi potensial pegas. Bila pegas

diberikan gaya, akan bertambah panjang yang sebanding dengan:

$$\begin{aligned} F_1 &\longrightarrow x_1 \\ F_2 &\longrightarrow x_2 \\ F_3 &\longrightarrow x_3 \\ F_4 &\longrightarrow x_4 \end{aligned}$$

dan seterusnya.

Usaha yang bekerja pada pegas, untuk meregangkan pegas tersebut sama dengan luas daerah segitiga dengan tinggi $k \cdot x$ dan alasnya x . Jadi usaha yang dilakukan dirumuskan sebagai berikut.

$$W = \text{luas segitiga}$$

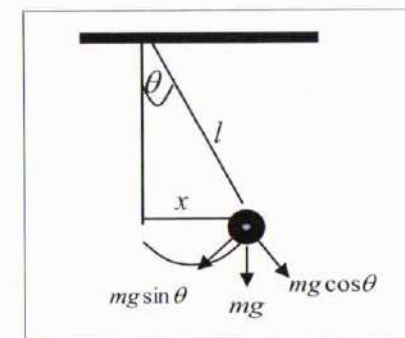
$$W = \frac{1}{2} (\text{alas}) \cdot (\text{tinggi})$$

$$W = \frac{1}{2} \cdot x \cdot kx$$

$$W = \frac{1}{2} kx^2 \quad (4.6)$$

Bandul Sederhana

Sebuah benda yang massanya dianggap sebagai sebuah partikel yang terletak di pusat massanya, diikat dan digantung dengan tali lentur pada sebuah titik tetap. Bila benda itu diberi simpangan awal sehingga tali membentuk sudut yang cukup kecil terhadap arah vertikal dan kemudian benda dilepaskan, maka benda akan berayun di sekitar titik setimbangnya pada sebuah bidang datar vertikal dengan frekuensi tetap.



Gambar 4.2 Bandul Matematis

Sistem yang demikian itu disebut bandul sederhana atau bandul matematis. Pada bandul sederhana (lihat Gambar 4.2), $mg \sin \theta$ disebut sebagai gaya pulih dan untuk sudut θ akan memenuhi hukum Hooke dan besarnya dapat dinyatakan sebagai berikut.

$$mg \sin \theta = k \cdot x \quad (4.7)$$

$$\text{dengan } k = m\omega^2$$

k disebut konstanta gaya pulih. Dengan kedua persamaan itu, secara matematis dapat dibuktikan bahwa periode bandul sederhana itu adalah:

$$T = 2\pi \sqrt{\frac{l}{g}} \quad (4.8)$$

B. Rancangan Eksperimen Konstanta Pegas

1. Tujuan Percobaan

Tujuan eksperimen konstanta pegas, yaitu diharapkan agar terampil:

- Menguasai secara eksperimen tentang faktor-faktor yang memengaruhi untuk menghasilkan getaran selaras.
- Menganalisis konstanta gaya pegas pada grafik hubungan antara periode T^2 dengan massa beban baik secara perhitungan maupun grafik.
- Menganalisis konstanta gaya pegas pada grafik hubungan antara gaya pegas F dengan pertambahan panjang pegas Δx .

2. Alat-alat/Bahan yang Digunakan

Dalam eksperimen ini digunakan beberapa alat dan bahan, yaitu sebagai berikut.

- Pegas spiral.
- Mistar plastik biasa.
- Statif + klem.

- Pengait bandul.
- Beberapa beban.

3. Prosedur Eksperimen

Langkah-langkah kerja eksperimen konstanta pegas yaitu sebagai berikut.

Kegiatan 4.1: Hubungan antara Periode T^2 dengan Massa Beban m

- Gantungkan pegas besar pada sebuah statif kemudian gantungkan beban pada ujung bawah pegas.
- Catatlah hasilnya pada tabel hasil pengamatan.
- Tarik pegas itu ke bawah sedikit kemudian lepaskan sehingga pegas itu bergetar.
- Ukur waktu 10 ayun pegas dengan menggunakan *stopwatch*. Catat hasilnya ke dalam hasil pengamatan Anda.
- Ulangi langkah a-d dengan setiap pengulangan ditambah 0,5 N.
- Tentukan periode ayun T dengan rumus perbandingan waktu ayun dengan banyaknya ayunan.
- Dengan menggunakan rumus 4.3, buatlah grafik T^2 terhadap m (beban), kemudian hitunglah konstanta gaya pegas dari grafik tersebut.

Kegiatan 4.2: Hubungan antara Gaya Pegas F dengan Pertambahan Panjang Pegas Δx

- Pilih salah satu pegas yang telah disediakan, kemudian gantungkan penggaris bersama pegas pada statif usahakan pegas tidak bersinggungan dengan penggaris.
- Ukur dan catat panjang awalnya X_0 ketika belum dibebani, usahakan hindari kesalahan paralaks.
- Bebani pegas dengan beban gantung yang telah diketahui massanya, kemudian ukur dan catat massa beban gantung dan panjang pegas pada keadaan itu.

- 4) Ulangi langkah 3) sebanyak enam kali dengan penambahan beban gantung (usahakan penambahan beban gantung dengan massa beban gantung yang terkecil ± 5 gram, 10 gram, dan seterusnya).
- 5) Hitung besar gaya pegas dengan menggunakan $g = 980 \text{ cm.s}^{-2}$.
- 6) Buatlah grafik hubungan antara gaya pegas F dengan pertambahan panjang pegas Δx , kemudian hitunglah besarnya konstanta pegas dari grafik yang anda buat.
- 7) Bandingkan hasil antara nilai konstanta pegas menurut perhitungan rumus $\bar{k}_{\text{rata-rata}}$ (persamaan 4.5) dengan nilai konstanta pegas menurut grafik yang Anda peroleh.

C. Rancangan Eksperimen Bandul Sederhana

1. Tujuan Eksperimen

Setelah menyelesaikan eksperimen ini, maka tujuan eksperimen ini diharapkan terampil:

- 1) menguasai faktor-faktor yang memengaruhi besarnya periode ayunan;
- 2) menganalisis pengaruh variasi panjang tali (l), massa (m), dan simpangan terhadap ayunan suatu ayunan sederhana;
- 3) menganalisis besarnya percepatan gravitasi bumi melalui eksperimen bandul sederhana.

2. Alat-alat/Bahan yang Digunakan

Beberapa alat yang digunakan adalah sebagai berikut.

- 1) Neraca ohaus 311 gram.
- 2) Pengait bandul.
- 3) *Stopwatch*.
- 4) Tiang berskala ukuran 150 cm.
- 5) Penggaris 100 cm.
- 6) Beban bandul sederhana (massa dan ukuran berbeda-beda).
- 7) Benang/tali secukupnya.

3. Prosedur Eksperimen

Langkah-langkah eksperimen "*Bandul Sederhana*" adalah sebagai berikut.

Kegiatan 4.3: Bandul Sederhana I

- 1) Susun bandul sederhana (seperti Gambar 4.2) dengan salah satu ujung tali pada ketinggian 150 cm diikatkan di atas lantai kemudian ujung yang lain digantungkan dengan beban 50 gr.
- 2) Bagi tali menjadi tiga bagian dan tandai ketiga bagian tersebut dengan spidol.
- 3) Ukur panjang tali pada saat itu dan catat pada tabel pengamatan yang disediakan.
- 4) Berikan simpangan beban sebesar $x = \pm 5,0$ cm kemudian lepaskan beban bersamaan dengan menekan *stopwatch*, hitung 10 kali ayunan (n) dan tepat pada hitungan ke-10 matikan *stopwatch*.
- 5) Ulangi langkah 4) di atas dengan simpangan $\pm 10,0$ cm dan simpangan $\pm 15,0$ cm.
- 6) Catat waktu 10 ayunan tersebut (t) sehingga diperoleh periode (waktu per banyaknya ayunan).
- 7) Lakukan langkah 4) sampai 6) di atas sebanyak 10 kali ayunan (n) dengan massa yang berbeda-beda yaitu 5 gram, 10 gram, dan 15 gram, dengan panjang tali serta simpangan yang tetap.
- 8) Lakukan langkah 4) sampai 6) di atas sebanyak 10 kali ayunan dengan panjang tali berbeda-beda yaitu 80 cm, 120 cm, dan 150 cm, dengan massa beban dan simpangan yang tetap.

Kegiatan 4.4: Bandul Sederhana II

- 1) Gantungkan beban 50 gram dengan menggunakan tali yang panjangnya 30 cm pada suatu balok pendukung. Catat massa beban ini pada tabel hasil pengamatan yang tersedia.
- 2) Tarik bandul ke samping kira-kira sejauh simpangan 5 cm, lalu lepaskan.
- 3) Jalankan *stopwatch* pada saat bandul berada di simpangan maksimum.

- 4) Biarkan bandul berayun selama 10 ayunan, hentikan *stopwatch* setelah bandul mengayun 10 ayunan. Catat waktu ayunan ini (t) pada tabel hasil pengamatan.
- 5) Ulangi langkah 2) sampai dengan langkah 4) dengan panjang tali 50 cm (massa beban tetap 50 gram). Catat hasilnya pada tabel hasil pengamatan.
- 6) Ulangi langkah 2) sampai dengan langkah 5) dengan panjang tali bervariasi yaitu 70 cm, 90 cm, 110 cm, dan 130 cm. Catat hasilnya pada tabel hasil pengamatan.
- 7) Hitung besar percepatan gravitasi bumi g untuk hasil eksperimen pada setiap nomor percobaan. Isikan hasilnya ke dalam tabel hasil pengamatan.
- 8) Buatlah grafik T^2 terhadap l dengan menggunakan hasil eksperimen yang telah dituliskan pada hasil pengamatan. Hitung besar percepatan gravitasi g dari grafik itu.
- 9) Bandingkan hasil percepatan gravitasi g menurut hasil eksperimen (perhitungan rata-rata percepatan gravitasi) dengan hasil grafik yang diperoleh.

D. Hasil Pengamatan dan Teknik Analisis Data Eksperimen Konstanta Pegas

Hasil pengamatan:

Kegiatan 4.1: Menyelidiki Hubungan antara Periode T^2 dengan Massa Beban m

Tabel 4.1 Pengukuran Waktu Periode T^2 dengan Variasi Massa Beban m

No.	Massa Beban (Gram)	Waktu 10 Ayunan (Detik)	Periode T (s)	T^2
1.
2.
3.
4.
5.
6.

Kegiatan 4.2: Menyelidiki Hubungan antara Gaya Pegas dengan Pertambahan Panjang Pegas

Tabel 4.2 Hubungan antara Gaya Pegas F dengan Pertambahan Panjang Pegas Δx

Panjang mula (X_0) = cm $g = \dots\dots \text{ cm/s}^2$

No.	Massa Beban (Gram)	X_{akhir} (cm)	Δx (cm)	$F = m \cdot g$ (dyne)
1.
2.
3.
4.
5.
6.
7.
8.
9.
10.

E. Hasil Pengamatan dan Teknik Analisis Data Eksperimen Bandul Sederhana

Hasil pengamatan:

Kegiatan 4.3a: Menyelidiki Hubungan Amplitudo dengan Periode Bandul

Tabel 4.3a Pengukuran Periode dengan Amplitudo yang Berbeda-beda

$L = \dots\dots \text{ cm};$ $m = \dots\dots \text{ gram};$ $n = \dots\dots \text{ kali}$

Eksperimen ke	Amplitudo (A dalam cm)	Waktu (t dalam s)	Periode $T = t/n$ (s)
1
2
3
4

$n =$ banyaknya ayunan

Kegiatan 4.3b: Menyelidiki Hubungan Massa Terhadap Periode Bandul

Tabel 4.3b Pengukuran Periode dengan Massa yang Berbeda-beda

L =cm; A =cm; n =kali

Eksperimen ke	Massa (m dalam gram)	Waktu (t dalam s)	Periode $T = t/n$ (s)
1
2
3
4

Kegiatan 4.1c: Menyelidiki Hubungan Panjang Tali Terhadap Periode Bandul

Tabel 4.3c Pengukuran Periode dengan Panjang Tali yang Berbeda-beda

A =cm; m =gram; n =kali

Eksperimen ke	Panjang Tali (cm)	Waktu (t dalam s)	Periode $T = t/n$ (s)
1
2
3
4

n = banyaknya ayunan

Kegiatan 4.4: Penentuan Percepatan Gravitasi Bumi

Tabel 4.4 Pengukuran Percepatan Gravitasi Bumi g

A =cm; m =gram; n =kali

Eksperimen ke	Panjang Tali (cm)	Waktu 20 Ayunan (t dalam s)	Periode $T = t/n$ (s)	Percepatan Gravitasi g (cm.s^{-2})
1
2
3
4
5

Eksperimen ke	Panjang Tali (cm)	Waktu 20 Ayunan (t dalam s)	Periode $T = t/n$ (s)	Percepatan Gravitasi g (cm.s^{-2})
6
7
8
9
10

F. Penugasan Eksperimen

Tugas Pendahuluan Eksperimen Konstanta Pegas

1. Apa yang dimaksud dengan konstanta gaya pegas?
2. Tuliskan satuan dan dimensi dari konstanta gaya pegas!
3. Apakah hukum Hooke berlaku pada setiap benda? Jelaskan!
4. Bila panjang awal pegas X_0 dan ketika diberi gaya F_1 , panjangnya menjadi x . Berdasarkan perilaku grafik $F = f(x)$, buatlah grafik yang mencerminkan perilaku fungsi grafik tersebut (untuk konstanta k suatu harga yang positif)!
5. Berdasarkan grafik $F = f(x)$ seperti pada soal no. 4 di atas, bagaimana Anda menentukan harga k (konstanta) gaya pegas?
6. Turunkan persamaan hukum Hooke! Rambat ratakan persamaan hukum Hooke untuk memperoleh nilai Δk !
7. Buktikan persamaan $T = 2\pi \sqrt{\frac{m}{k}}$!

Tugas Pendahuluan Eksperimen Bandul Sederhana

1. Apa yang dimaksud dengan gaya pemulih dan bandul sederhana?
2. Amplitudo sebuah bandul sederhana makin lama makin kecil dan akhirnya bandul itu berhenti. Besaran apakah yang berubah dan yang tidak berubah dalam bandul itu? Jelaskan!
3. Dalam percobaan bandul sederhana, besaran-besaran apakah yang harus diukur?

4. Berdasarkan prosedur percobaan, dapatkah kita mengukur periode untuk 100 ayunan, 2 ayunan? Berikan argumentasi jawaban Anda!
5. Berdasarkan prosedur, rancanglah tabel pengamatan yang akan Anda gunakan!
6. Buatlah grafik hubungan T^2 dengan l !
7. Buktikan rumus persamaan periode bandul sederhana!

Eksperimen Suhu dan Kalor: Kapasitas Kalor Cobra3

A. Teori Dasar Eksperimen

Kapasitas Kalor

Kapasitas kalor suatu zat ialah banyaknya kalor yang diserap/dilepaskan untuk menaikkan/menurunkan suhu 1°C . Jika kapasitas kalor/nilai air = H maka untuk menaikkan/menurunkan suhu suatu zat sebesar Δt diperlukan kalor sebesar:

$$Q = C \cdot \Delta t$$

Keterangan:

- Q = Banyaknya kalor yang diberikan dalam satuan kkal atau kal
 C = Kapasitas kalor yang dihasilkan dalam satuan kkal/ $^{\circ}\text{C}$ atau kal/ $^{\circ}\text{C}$
 Δt = Perubahan temperatur bahan (zat) dalam satuan $^{\circ}\text{C}$

Kalor Jenis (c)

Kalor jenis suatu zat ialah: banyaknya kalor yang diterima/dilepas untuk menaikkan/menurunkan suhu 1 satuan massa zat sebesar 1°C . Jika kalor jenis suatu zat = c , maka untuk menaikkan/menurunkan suatu zat bermassa m , sebesar Δt $^{\circ}\text{C}$, kalor yang diperlukan/dilepaskan sebesar:

$$Q = m \cdot c \cdot \Delta t$$

Keterangan:

Q = Banyaknya kalor yang diberikan dalam satuan kkal atau kal

m = Massa zat (bahan) dalam satuan kg atau gram

c = Kalor jenis zat (bahan) dalam satuan kkal/kg °C atau kal/g °C

Δt = Perubahan temperatur dalam satuan °C

Dari persamaan di atas dapat ditarik suatu hubungan:

$$C \cdot \Delta t = m \cdot c \cdot \Delta t$$

atau

$$H = m \cdot c$$

Hukum Kekekalan Energi Panas (Kalor)

Jika dua macam zat pada tekanan yang sama, suhunya berbeda jika dicampur maka zat yang bersuhu tinggi akan melepaskan kalor, sedangkan zat yang bersuhu lebih rendah akan menyerap kalor. Jadi berlaku: *kalor yang diserap = kalor yang dilepaskan.*

Pernyataan di atas disebut “Asas Black” yang biasanya digunakan dalam kalorimeter, yaitu alat pengukur kalor jenis zat.

B. Rancangan Eksperimen Kapasitas Kalor Cobra3

1. Tujuan Eksperimen

Tujuan eksperimen ini diharapkan lebih terampil:

- 1) menganalisis nilai kalor jenis dan kapasitas kalor pada beberapa jenis bahan;
- 2) menginterpretasi karakteristik grafik temperatur terhadap lamanya pemanasan bahan dengan beberapa jenis bahan yang digunakan.

2. Alat dan Bahan

Di dalam eksperimen ini, alat dan bahan yang digunakan adalah sebagai berikut.

Alat terdiri dari:


- 1) unit dasar Cobra3 PHYWE;
- 2) *power supply* 12V/2A;
- 3) kabel data-RS232;
- 4) batang penunjang, baja tahan karat 18/8, 600 mm;
- 5) penjepit universal;
- 6) cincin penunjang, dengan penjepit;
- 7) kaki tiga + kasa asbes;
- 8) bejana kalorimeter, 500 mL;
- 9) gelas kimia, 400 mL;
- 10) gelas kimia, 600 mL;
- 11) batang pengaduk kaca;
- 12) pipet (dengan bola karet);
- 13) neraca digital;
- 14) pembakar bunsen;
- 15) pengait, 100 m;
- 16) termometer/termokopel.

Sementara bahan yang digunakan adalah: air secukupnya, kertas tisu, dan kain kasar/halus secukupnya, bahan bakar spirtus secukupnya dan korek api/gas.

3. Prosedur Eksperimen

Langkah-langkah yang ditempuh dalam mengambil data eksperimen ini adalah sebagai berikut.

- 1) Rangkai alat seperti yang ditunjukkan pada gambar di bawah ini.

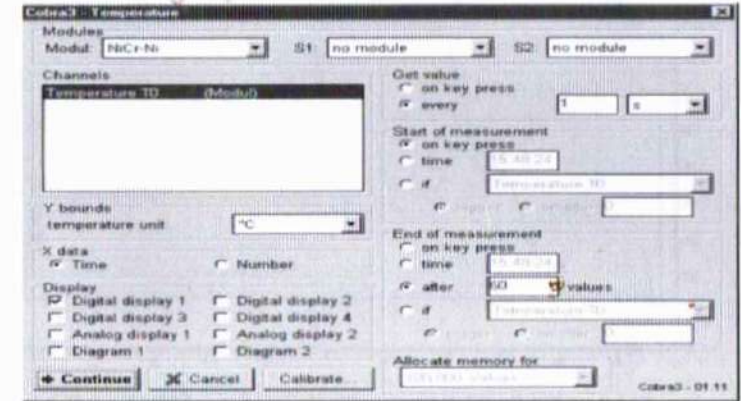


Gambar 5.1 Cobra3 Heat Capacity of Metals

Sumber: PHYWE Series of Publications

- 2) Hubungkan modul pengukuran temperatur NiCr-Ni dengan Unit-Dasar Cobra3 serta elemen panas seperti pada Gambar 5.1.
- 3) Isi sebanyak 200 gram air pada suhu kamar (m_1) ke dalam kalorimeter.
- 4) Masukkan air ke dalam gelas kimia ± 600 mL, bersama dengan sampel buah yang berbentuk padatan 100 gram kemudian panaskan dengan pembakar bunsen sampai mencapai $\pm 90^\circ\text{C}$ (kontrol lama pemanasan sampel).
- 5) Angkat sampel padatan tersebut setelah mencapai 100°C lalu keringkan pada kain kasar dengan cepat kemudian masukkan ke dalam kalorimeter yang berisi air 200 gram.
- 6) Sebelum dijalankan software/perangkat, maka terlebih dahulu akan dijelaskan langkah-langkah operasi penggunaan perangkat Temperature Cobra3.

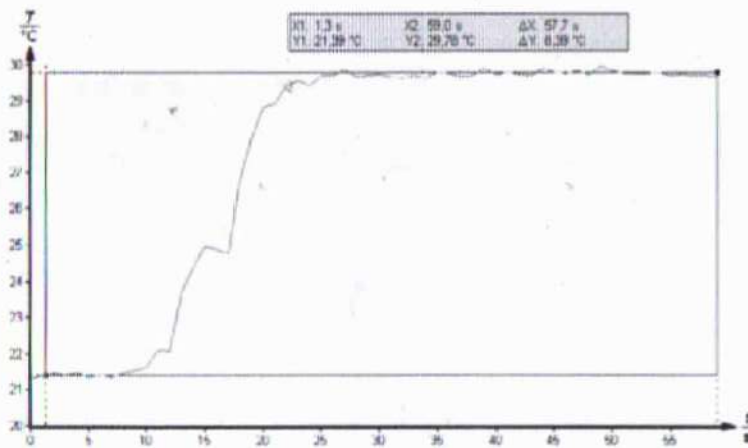
- a) Aktifkan software Cobra3 dengan icon "measurement" kemudian akan tampil menu "Cobra3 Temperature".



Gambar 5.2 Jendela Kerja Metode Cobra3

Sumber: PHYWE Series of Publications

- b) Atur dan kalibrasi semua parameter pengukuran.
- c) Jika prosedur telah lengkap maka tekan tombol "Ok" kemudian "Lanjutkan" (artinya pengukuran suhu akan dimulai).
- d) Dinginkan probe perendaman dengan sangat hati-hati, kemudian rendam ke dalam air dingin dalam bejana kalorimeter.
- e) Setelah probe perendaman siap dalam bejana kalorimeter berisi air, maka secara bersamaan masukkan sampel yang sudah dikeringkan khusus dan jalankan "Star Measurement" sambil lakukan pengadukan dalam bejana kalorimeter dengan rata dan konsentrasi.
- f) Pengukuran otomatis berakhir setelah waktu kontrol mencapai 120 detik pada parameter pengukuran software yang diberikan, sehingga suhu yang diukur dapat ditunjukkan sebagai fungsi waktu seperti pada contoh hasil pengukuran temperatur kalorimeter metode Cobra3.



Gambar 5.3 Grafik Temperatur Kalorimeter Metode Cobra3

Sumber: PHYWE Series of Publications

7) Mengulangi prosedur 1-9 dengan bahan logam yang berbeda-beda.

C. Hasil Pengamatan dan Teknik Analisis Data

1. Hasil Pengukuran

Tabel 5.1 Tabel Hasil Pengamatan Kapasitas Kalor Metode Cobra3

Massa sampel = ... gram T_2 = ... °C
 Massa air = ... gram T_{ruangan} = ... °C
 $t_{\text{pemanasan sampel}}$ = ... sekon

Keterangan	Al	Fe	Cu
$T_1/^\circ\text{C}$			
$T_m/^\circ\text{C}$			
$T_m - T_1/^\circ\text{C}$			
$T_2 - T_m/^\circ\text{C}$			
$c/\text{J}/\text{gr } ^\circ\text{C}$			
$C/\text{J}/^\circ\text{C}$			

2. Analisis Perhitungan

a. Menentukan kalor jenis sampel:

$$c_2 = \frac{(C + c_1 m_1) \cdot (T_1 - T_m)}{m_2 \cdot (T_m - T_2)}$$

b. Menentukan kapasitas kalor:

$$C = m_2 \cdot c$$

c. Menentukan kalor yang diberikan:

$$Q = m_2 \cdot c \cdot \Delta T$$

Keterangan:

C = Kapasitas kalor dari kalorimeter, satuannya $\text{J}/^\circ\text{C}$

c = Kalor jenis air, satuannya $\text{J}/\text{gr}^\circ\text{C}$

m_1 = Massa air yang digunakan, satuannya gram

m_2 = Massa bahan yang digunakan, satuannya gram

T_m = Suhu campuran, satuannya $^\circ\text{C}$

T_1 = Suhu awal, satuannya $^\circ\text{C}$

T_2 = Suhu bahan yang diberikan sebelum dicampurkan ke dalam air dingin, satuannya $^\circ\text{C}$

Q = Kalor yang diperlukan, satuannya joule (J)

ΔT = Perubahan suhu, satuannya $^\circ\text{C}$ atau K

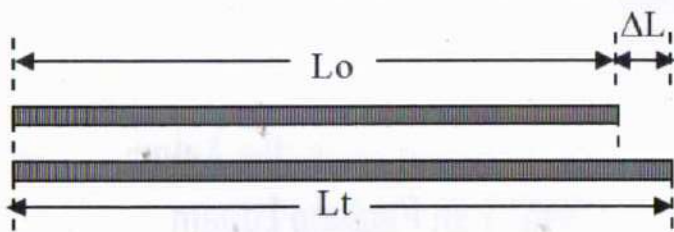
Eksperimen Suhu dan Kalor: Pemuaian Panjang Logam

A. Pengantar

Pada umumnya zat padat akan memuai jika dipanaskan dan menyusut jika didinginkan. Pemuaian dan penyusutan zat padat dapat diamati dengan mata, tetapi seberapa besar perubahan panjang zat padat pada saat suhunya diubah tidaklah dapat ditentukan dengan pengamatan oleh mata saja, namun harus dengan pengukuran di laboratorium.

Ikatan pada zat padat lebih kuat dari ikatan-ikatan molekul zat cair. Molekul-molekul ini selalu bergetar pada suatu posisi keseimbangan. Ketika suhu zat dinaikkan, molekul-molekul bergetar dengan amplitudo yang lebih besar dan jarak antarmolekul yang lebih besar. Sebagai akibatnya zat padat atau zat cair (secara umum) akan memuai ketika dipanaskan.

Efek pemuaian benda ini sangat mendapat perhatian serius dari para insinyur atau ahli bangunan. Misalnya ketika mereka memasang jendela kaca, mereka selalu memberikan ruang sedikit untuk memuat pemuaian kaca akibat suhu matahari yang terik. Contoh lain adalah dalam pemasangan rel kereta api, biasanya antara sambungan dua rel selalu diberikan celah.



Gambar 6.1 Pemuai Panjang Logam

Pada pembicaraan muai panjang kita hanya akan memperhatikan pemuai dalam arah panjang saja. Pemuai dalam arah lain kita abaikan (ini boleh dilakukan jika panjang batang panjang dan berpenampang kecil).

Jika kita mempunyai batang panjang mula-mula L_0 kemudian dipanaskan sehingga suhunya berubah sebanyak Δt , maka menurut eksperimen besarnya pertambahan panjang ini sebanding dengan L_0 dan sebanding juga dengan Δt .

$$\Delta L \sim L_0 \Delta t$$

Konstanta pembandingnya diberi simbol α dan dinamakan koefisien muai linier dari material. Sehingga rumus pertambahan panjang batang menjadi:

$$\Delta L = \alpha \cdot L_0 \cdot \Delta t \quad (6.1)$$

Keterangan:

L_0 = Panjang mula-mula dalam m

Δt = $t - t_0$ = Perubahan suhu dalam $^{\circ}\text{C}$ atau K

ΔL = $L_t - L_0$ = Perubahan panjang dalam meter

L_t = Panjang pada suhu t dalam meter

Dari Persamaan (6.1) dapat ditentukan rumus koefisien muai panjang sebagai berikut.

$$\alpha = \frac{\Delta L / L_0}{\Delta t} \quad (6.2)$$

Berdasarkan rumus ini, didefinisikan bahwa koefisien muai panjang sebagai perubahan panjang tiap satuan panjang ketika suhunya


berubah 1 derajat celcius (atau kelvin), satuan α adalah 1/derajat atau $(^{\circ}\text{C})^{-1}$ atau K^{-1} sebagai contoh nilai $\alpha = 24 \times 10^{-6} (^{\circ}\text{C})^{-1}$ artinya panjang suatu benda akan bertambah 24 per juta bagian dari panjang semula ketika suhu dinaikkan 1 derajat celcius.

Koefisien muai panjang besarnya tidak konstan, tetapi tergantung suhu, namun perubahan koefisien ini sangat kecil, maka umumnya koefisien muai panjang dapat dianggap konstan, berikut tabel koefisien muai panjang pada suhu kamar (sekitar 25°C).

Tabel 6.1 Nilai Koefisien Muai Panjang

Zat	Koefisien Muai Panjang ($10^{-6}/^{\circ}\text{C}$)	Zat	Koefisien Muai Panjang ($10^{-4}/^{\circ}\text{C}$)
Aluminium	24	Udara	0,367
Kuningan	19	Alkohol	1,12
Tembaga	17	Benzena	1,24
Kaca (biasa)	9	Aseton	1,5
Kaca (Pyrex)	3.2	Gliserin	4,85
Timbal	29	Raksa	1,82
Baja	11	Terpentin	9,0
Invar	0.9	Bensin	9,6

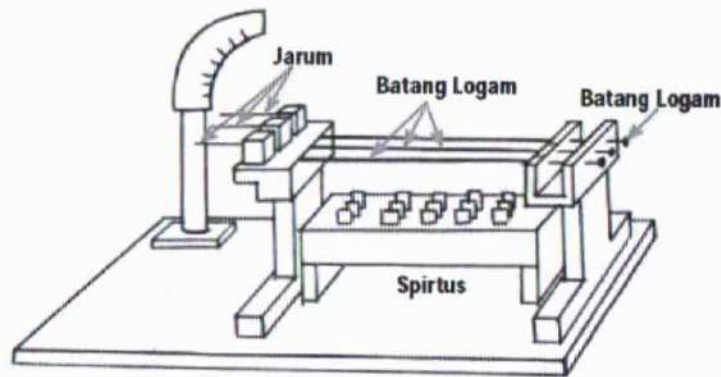
Beberapa kasus pemuai panjang logam dapat ditunjukkan seperti pada gambar berikut.



Gambar 6.2 Pemasangan Kabel Listrik



Gambar 6.3 Sambungan Rel Kereta Api



Gambar 6.4 Pemuai pada Kawat Logam

B. Rancangan Eksperimen Pemuai Panjang Logam

1. Tujuan Eksperimen

Melalui percobaan ini diharapkan terampil:

- 1) menguasai pemuai zat padat sebagai fungsi dari perubahan temperatur;
- 2) menentukan dan menganalisis koefisien muai panjang logam aluminium dan besi.

2. Alat dan Bahan

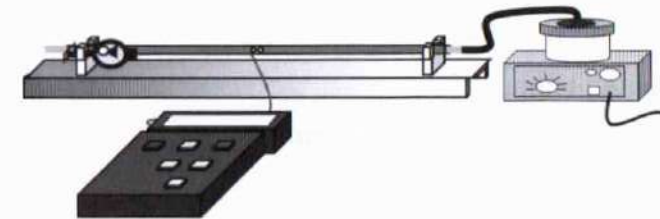
Alat dan bahan yang digunakan terdiri dari:

- 1) termometer digital (*termocouple*);
- 2) seperangkat percobaan muai panjang logam yang terdiri atas pipa logam terbuat dari 3 jenis logam: besi, tembaga, dan aluminium serta *dial-gauge* (resolusi 0,01 mm);
- 3) steam-generator + selang;
- 4) statif + klem.

3. Prosedur Eksperimen

Langkah-langkah eksperimennya yaitu:

- 1) Merangkai alat seperti pada gambar di bawah ini.



Gambar 6.5 Susunan Alat Eksperimen

- 2) Membaca penunjukan pada termometer digital sebagai T_0 .
- 3) Mengukur panjang awal logam besi (L_0) dengan menggunakan mistar.
- 4) Memasang/mengatur alat ukur *dial-gauge meter* pada kedudukan jarum tepat menunjuk titik nol.
- 5) Menyalakan *steam-generator* dan menunggu beberapa saat sampai uap air keluar dengan suhu sekitar 95°C . Pada saat bersamaan logam akan bertambah panjang yang pertambahannya dapat diamati pada *dial-gauge meter*.
- 6) Menetapkan satu nilai temperatur pada termometer digital (95°C) sebagai acuan dalam pengambilan data, selanjutnya mencatat nilai

penunjukan pada *dial-gauge meter*. Mencatat data yang diperoleh pada tabel hasil pengamatan.

- 7) Mematikan *steam-generator*, dan mengulangi pengambilan data setiap penurunan temperatur sebesar 5°C , dengan mencatat posisi pada *dial-gauge meter* pada saat yang sama tepat dengan pembacaan temperatur.
- 8) Mengulangi pengambilan data dengan mencatat posisi pada *dial-gauge meter* setiap penurunan sebesar 5°C , yaitu pada 90°C , 85°C , sampai 35°C .
- 9) Ulangi kegiatan 1) hingga 8) dengan mengganti logam besi menjadi bahan kedua yaitu logam aluminium.

C. Hasil Pengamatan

Dari hasil pengamatan yang dilakukan diperoleh data seperti di dalam tabel di bawah ini.

1. Logam Aluminium

NST *dial-gauge meter* = $0,01\text{ mm}$

$L_0 = 70,3060\text{ cm}$

$T_0 = 35^{\circ}\text{C}$

Tabel 6.2 Hasil Pengamatan untuk Logam Aluminium

No.	Suhu ($^{\circ}\text{C}$)	Pengukuran Panjang		$\Delta T (T_i - T_0)$ ($^{\circ}\text{C}$)	$\Delta L (L_i - L_0)$ (cm)
		Penunjukan Skala	Hasil Pengukuran (cm)		
1.	95	110,0	70,4100	60	0,1040
2.	90	98,0	70,3980	55	0,0920
3.	85	88,0	70,3880	50	0,0820
4.	80	79,0	70,3790	45	0,0730
5.	75	70,0	70,3700	40	0,0640
6.	70	60,0	70,3600	35	0,0540
7.	65	52,0	70,3520	30	0,0460
8.	60	44,0	70,3440	25	0,0380
9.	55	36,0	70,3360	20	0,0300

No.	Suhu ($^{\circ}\text{C}$)	Pengukuran Panjang		$\Delta T (T_i - T_0)$ ($^{\circ}\text{C}$)	$\Delta L (L_i - L_0)$ (cm)
		Penunjukan Skala	Hasil Pengukuran (cm)		
10.	50	28,0	70,3280	15	0,0220
11.	45	21,0	70,3210	10	0,0150
12.	40	13,0	70,3130	5	0,0070
13.	35	6,0	70,3060	0	0,0000

2. Logam Besi

NST *Dial-gauge meter* = $0,01\text{ mm}$

$L_0 = 70,3010\text{ cm}$

$T_0 = 35^{\circ}\text{C}$

Dari hasil pengamatan yang dilakukan maka data yang diperoleh adalah sebagai berikut.

Tabel 6.3 Hasil Pengamatan untuk Logam Besi

No.	Suhu ($^{\circ}\text{C}$)	Pengukuran Panjang		$\Delta T (T_i - T_0)$ ($^{\circ}\text{C}$)	$\Delta L (L_i - L_0)$ (cm)
		Penunjukan Skala	Hasil Pengukuran (cm)		
1.	95	55,0	70,3550	60	0,0540
2.	90	50,0	70,3500	55	0,0490
3.	85	45,0	70,3450	50	0,0440
4.	80	40,0	70,3400	45	0,0390
5.	75	35,0	70,3350	40	0,0340
6.	70	30,0	70,3300	35	0,0290
7.	65	26,0	70,3260	30	0,0250
8.	60	21,0	70,3210	25	0,0200
9.	55	17,0	70,3170	20	0,0160
10.	50	13,0	70,3130	15	0,0120
11.	45	9,0	70,3090	10	0,0080
12.	40	5,0	70,3050	5	0,0040
13.	35	1,0	70,3010	0	0,0000

D. Teknik Analisis Data/Grafik

1. Analisis Data

Untuk mengetahui besar ketidakpastian dalam pengukuran yang dilakukan maka terlebih dahulu diturunkan persamaan ralatnya yaitu:

$$\Delta L = \alpha \cdot L_o \cdot \Delta t$$

$$\alpha = \frac{\Delta L}{L_o \times \Delta T}$$

$$\alpha = \frac{L_t - L_o}{L_o(T_t - T_o)} = \frac{L_t}{L_o(T_t - T_o)} - \frac{1}{(T_t - T_o)}$$
$$\alpha = \frac{L_t}{L_o(T_t - T_o)} - \frac{1}{(T_t - T_o)}$$

Sehingga

$$d\alpha = \left(\frac{\delta\alpha}{\delta L_t}\right)dL_t + \left(\frac{\delta\alpha}{\delta L_o}\right)dL_o + \left(\frac{\delta\alpha}{\delta T_t}\right)dT_t + \left(\frac{\delta\alpha}{\delta T_o}\right)dT_o$$
$$d\alpha = \left(\frac{1}{L_o(T_t - T_o)}\right)dL_t + \left(-\frac{L_t}{L_o^2(T_t - T_o)}\right)dL_o + \left(-\frac{L_t}{L_o(T_t - T_o)^2} + \frac{1}{(T_t - T_o)^2}\right)dT_t$$
$$+ \left(\frac{L_t}{L_o(T_t - T_o)^2} - \frac{1}{(T_t - T_o)^2}\right)dT_o$$
$$d\alpha = \left(\frac{1}{L_o(T_t - T_o)}\right)dL_t + \left(-\frac{L_t}{L_o^2(T_t - T_o)}\right)dL_o + \left(-\frac{L_t - L_o}{L_o(T_t - T_o)^2}\right)dT_t$$
$$+ \left(\frac{L_t - L_o}{L_o(T_t - T_o)^2}\right)dT_o$$
$$\frac{d\alpha}{\alpha} = \frac{\left(\frac{1}{L_o(T_t - T_o)}\right)}{\frac{L_t - L_o}{L_o(T_t - T_o)}}dL_t + \frac{\left(-\frac{L_t}{L_o^2(T_t - T_o)}\right)}{\frac{L_t - L_o}{L_o(T_t - T_o)}}dL_o + \frac{\left(-\frac{L_t - L_o}{L_o(T_t - T_o)^2}\right)}{\frac{L_t - L_o}{L_o(T_t - T_o)}}dT_t$$
$$+ \frac{\left(\frac{L_t - L_o}{L_o(T_t - T_o)^2}\right)}{\frac{L_t - L_o}{L_o(T_t - T_o)}}dT_o$$

$$\frac{d\alpha}{\alpha} = \left(\frac{1}{L_t - L_o}\right)dL_t + \left(-\frac{L_t}{L_o(L_t - L_o)}\right)dL_o + \left(-\frac{1}{(T_t - T_o)}\right)dT_t + \left(\frac{1}{(T_t - T_o)}\right)dT_o$$

$$\frac{\Delta\alpha}{\alpha} = \left|\frac{1}{L_t - L_o}\right|\Delta L_t + \left|\frac{L_t}{L_o(L_t - L_o)}\right|\Delta L_o + \left|\frac{1}{(T_t - T_o)}\right|\Delta T_t + \left|\frac{1}{(T_t - T_o)}\right|\Delta T_o$$

$$\Delta\alpha = \left\{ \left|\frac{1}{L_t - L_o}\right|\Delta L_t + \left|\frac{L_t}{L_o(L_t - L_o)}\right|\Delta L_o + \left|\frac{1}{(T_t - T_o)}\right|\Delta T_t + \left|\frac{1}{(T_t - T_o)}\right|\Delta T_o \right\} \alpha$$

Ketidakpastian Relatif Pengukuran (KR)

$$KR = \frac{\Delta\alpha}{\alpha} \times 100\%$$

Pelaporan Fisika (PF)

$$PF = \alpha = |\alpha \pm \Delta\alpha| \text{ } ^\circ\text{C}^{-1}$$

Karena,

$$\Delta L_o = \Delta L_t \cdot \frac{1}{2} \text{ Nst. dial-gauge meter}$$

$$\Delta L_o = \Delta L_t = 0,005\text{mm} = 0,0005\text{cm}$$

dan,

$$\Delta T_o = \Delta T_t \cdot \frac{1}{2} \text{ Nst. Termometer Digital}$$

$$\Delta T_o = \Delta T_t = 0,5^\circ\text{C}^{-1}$$

Maka, dengan menggunakan persamaan-persamaan di atas tersebut diperoleh nilai-nilai seperti dalam tabel di bawah ini.

Logam Aluminium

Dari hasil pengamatan diperoleh bahwa nilai:

$$\text{NST dial-gauge meter} = 0,01 \text{ mm}$$

$$L_o = 70,3060 \text{ cm}$$

$$T_o = 35^\circ\text{C}$$

No.	ΔT ($^{\circ}C$)	ΔL (cm)	α $\times 10^{-6}$ ($^{\circ}C^{-1}$)	$\Delta\alpha$ $\times 10^{-6}$ ($^{\circ}C^{-1}$)	KR (%)	PF $\alpha = \alpha \pm \Delta\alpha $ 10^{-6} ($^{\circ}C^{-1}$)
1.	60	0,1040	24,6	0,237 = 0,2	0,96	$\alpha = 24,6 \pm 0,2 $
2.	55	0,0920	23,8	0,259 = 0,3	1,09	$\alpha = 23,8 \pm 0,3 $
3.	50	0,0820	23,3	0,285 = 0,3	1,22	$\alpha = 23,3 \pm 0,3 $
4.	45	0,0730	23,1	0,316 = 0,3	1,37	$\alpha = 23,1 \pm 0,3 $
5.	40	0,0640	22,8	0,356 = 0,4	1,56	$\alpha = 22,8 \pm 0,4 $
6.	35	0,0540	21,9	0,406 = 0,4	1,85	$\alpha = 21,9 \pm 0,4 $
7.	30	0,0460	21,8	0,474 = 0,5	2,17	$\alpha = 21,8 \pm 0,5 $
8.	25	0,0380	21,6	0,569 = 0,6	2,63	$\alpha = 21,6 \pm 0,6 $
9.	20	0,0300	21,3	0,711 = 0,7	3,33	$\alpha = 21,3 \pm 0,7 $
10.	15	0,0220	20,9	0,948 = 0,9	4,55	$\alpha = 20,9 \pm 0,9 $
11.	10	0,0150	21	1,4 = 1	6,67	$\alpha = 21 \pm 1 $
12.	5	0,0070	20	2,8 = 3	14,29	$\alpha = 20 \pm 3 $

Dengan nilai rata-rata koefisien muai panjang ($\overline{\alpha_{Alum}}$)

$$\overline{\alpha_{Alum}} = 22,18 \times 10^{-6} \text{ } ^{\circ}C^{-1}$$

Logam Besi

Dari hasil pengamatan diperoleh bahwa nilai:

$$NST \text{ dial-gauge meter} = 0,01 \text{ mm}$$

$$L_0 = 70,3010 \text{ cm}$$

$$T_0 = 35^{\circ}C$$

$$\Delta L = 0,01 \text{ mm} = 0,001 \text{ cm}$$

Maka, dengan menggunakan persamaan-persamaan di atas tersebut diperoleh nilai-nilai seperti dalam tabel di bawah ini.

No.	ΔT ($^{\circ}C$)	ΔL (cm)	α $\times 10^{-6}$ ($^{\circ}C^{-1}$)	$\Delta\alpha$ $\times 10^{-6}$ ($^{\circ}C^{-1}$)	KR (%)	DK (%)	PF $\alpha = \alpha \pm \Delta\alpha $ 10^{-6} ($^{\circ}C^{-1}$)
1.	60	0,0540	12,8	0,237 = 0,2	1,85	98,15	$\alpha = 12,8 \pm 0,2 $
2.	55	0,0490	12,7	0,258 = 0,3	2,04	97,96	$\alpha = 12,7 \pm 0,3 $
3.	50	0,0440	12,5	0,284 = 0,3	2,27	97,73	$\alpha = 12,5 \pm 0,3 $
4.	45	0,0390	12,3	0,316 = 0,3	2,56	97,44	$\alpha = 12,3 \pm 0,3 $
5.	40	0,0340	12,1	0,356 = 0,4	2,94	97,06	$\alpha = 12,1 \pm 0,4 $
6.	35	0,0290	11,8	0,406 = 0,4	3,45	96,55	$\alpha = 11,8 \pm 0,4 $
7.	30	0,0250	11,8	0,474 = 0,5	4,00	96,00	$\alpha = 11,8 \pm 0,5 $
8.	25	0,0200	11,4	0,569 = 0,6	5,00	95,00	$\alpha = 11,4 \pm 0,6 $
9.	20	0,0160	11	0,711 = 0,7	6,25	93,75	$\alpha = 11 \pm 1 $
10.	15	0,0120	11	0,948 = 1	8,33	91,67	$\alpha = 11 \pm 1 $
11.	10	0,0080	11	1,4 = 1	12,50	87,50	$\alpha = 11 \pm 1 $
12.	5	0,0040	11	2,8 = 3	25,00	75,00	$\alpha = 11 \pm 3 $

Dengan nilai rata-rata koefisien muai panjang ($\overline{\alpha_{besi}}$)

$$\overline{\alpha_{besi}} = 11,78 \times 10^{-6} \text{ } ^{\circ}C^{-1}$$

2. Analisis Grafik

Dari hasil pengamatan yang diperoleh selanjutnya dibuatkan tabel bantu untuk membuat grafik.

Logam Aluminium

Tabel 6.6 Tabel Bantu untuk Logam Aluminium

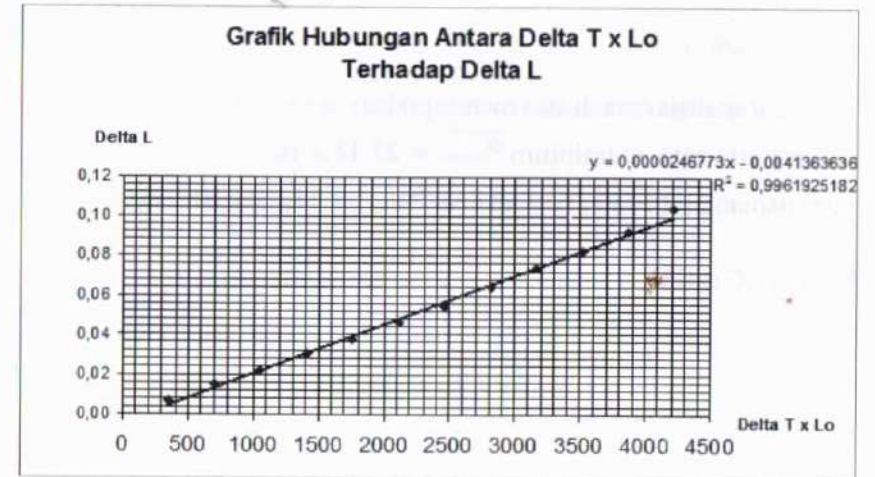
No.	$\Delta T \times L_0$ ($^{\circ}\text{C} \times \text{cm}$)	ΔT ($^{\circ}\text{C}$)
1.	4218.3600	0.1040
2.	3866.8300	0.0920
3.	3515.3000	0.0820
4.	3163.7700	0.0730
5.	2812.2400	0.0640
6.	2460.7100	0.0540
7.	2109.1800	0.0460
8.	1757.6500	0.0380
9.	1406.1200	0.0300
10.	1054.5900	0.0220
11.	703.0600	0.0150
12.	351.5300	0.0070

Logam Besi

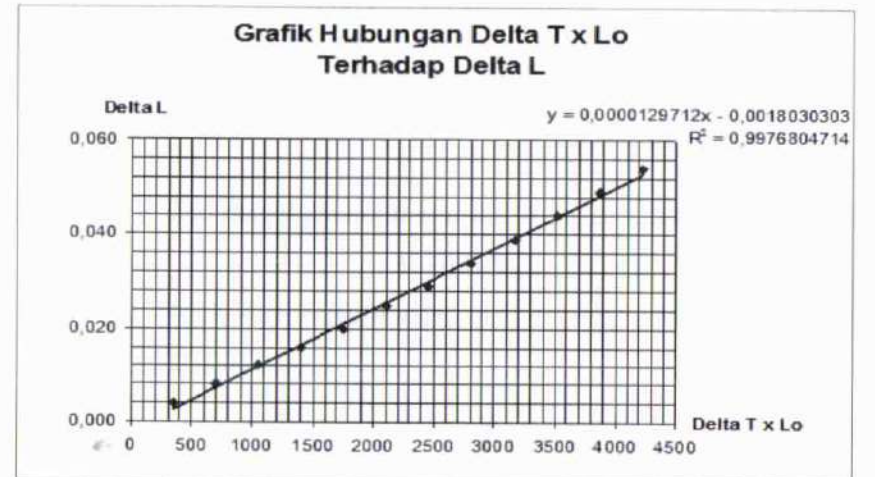
Tabel 6.7 Tabel Bantu untuk Logam Besi

No.	$\Delta T \times L_0$ ($^{\circ}\text{C} \times \text{cm}$)	ΔT ($^{\circ}\text{C}$)
1.	4218.0600	0.0540
2.	3866.5550	0.0490
3.	3515.0500	0.0440
4.	3163.5450	0.0390
5.	2812.0400	0.0340
6.	2460.5350	0.0290
7.	2109.0300	0.0250
8.	1757.5250	0.0200
9.	1406.0200	0.0160
10.	1054.5150	0.0120
11.	703.0100	0.0080
12.	351.5050	0.0040

Hasil analisis grafik pada koefisien muai panjang pada aluminium sebagai berikut.



Hasil analisis grafik pada koefisien muai panjang pada besi sebagai berikut.



E. Kajian Pembahasan Eksperimen Pemuai Panjang Logam

Analisis Data

Dari hasil analisis data di atas menunjukkan bahwa, nilai koefisien muai panjang rata-rata, aluminium $\overline{\alpha}_{\text{Alum}} = 22,18 \times 10^{-6} \text{ } ^\circ\text{C}^{-1}$, dan koefisien muai panjang rata-rata, besi adalah $\overline{\alpha}_{\text{Alum}} = 11,78 \times 10^{-6} \text{ } ^\circ\text{C}^{-1}$.

Analisis Grafik

Berdasarkan persamaan garis dalam grafik pada logam aluminium, yaitu:

$$y = 0,0000246773 x - 0,0041363636$$

Dengan sumbu-x merupakan $\Delta T \times L_0$ dan sumbu-y adalah ΔL , sehingga berdasarkan persamaan garisnya adalah:

$$\Delta L = 24,6773 \times 10^{-6} \Delta T \cdot L_0 - 0,0041363636$$

maka, nilai koefisien muai panjang untuk aluminium adalah:

$$\overline{\alpha}_{\text{Alum}} = 24,6773 \times 10^{-6} \text{ } ^\circ\text{C}^{-1}$$

Dengan ketidakpastian relatif 0,99% atau derajat kepercayaan sebesar 99,01%.

Sedangkan persamaan garis dalam grafik pada logam besi, yaitu:

$$y = 0,0000129712x - 0,00180303$$

sehingga juga diperoleh nilai koefisien muai panjangnya,

$$\alpha_{\text{besi}} = 12,9712 \times 10^{-6} \text{ } ^\circ\text{C}^{-1}$$

Dengan ketidakpastian relatif 0,99% atau derajat kepercayaan sebesar 99,01%.

Dari dua hasil analisis yang diperoleh tampak bahwa nilai koefisien muai panjang untuk besi maupun aluminium menunjukkan nilai yang hampir sama. Adanya perbedaan yang timbul disebabkan oleh perbedaan pendekatan dalam melakukan analisis.

Dari kedua jenis analisis yang dilakukan maka penulis memutuskan untuk melaporkan bahwa nilai koefisien muai panjang dari aluminium dan besi yang lebih teliti adalah dari hasil grafik. Sehingga nilai yang dilaporkan adalah hasil analisis grafik.

Grafik hasil praktikum menunjukkan grafik hubungan antara perubahan suhu kali panjang mula terhadap perubahan panjang merupakan grafik lurus, dengan gradien (kemiringan) yang tidak lain adalah nilai koefisien muai panjang logam. Karena nilai panjang mula-mula konstan maka grafik yang digambarkan merupakan hubungan antara perubahan temperatur (suhu) pada logam terhadap perubahan panjang merupakan grafik lurus. Sehingga dapat dikatakan perubahan panjang logam merupakan fungsi perubahan temperatur. Hubungan antara perubahan temperatur dan perubahan panjang logam merupakan hubungan yang sifatnya liner.

Ekspirimen Kajian Fluida: Viskositas Zat Cair

A. Teori Singkat Konsep Viskositas

Analoginya pada benda yang bergerak dalam zat cair yang kental akan mengalami gaya gesekan yang disebabkan oleh kekentalan zat cair itu. Perbedaannya adalah gaya gesekan pada benda yang bergerak dalam zat cair kental bergantung pada beberapa faktor salah satunya adalah faktor kecepatan benda. Berdasarkan hukum Stokes, gaya gesek yang diderita oleh sebuah bola pejal yang bergerak dalam zat cair yang kental diberikan melalui persamaan:

$$F_s = -6\pi\eta rV \quad (7.1)$$

Keterangan:

F_s = Gaya gesekan zat cair ($kg.m.s^{-2}$)

η = Koefisien kekentalan zat cair ($N.m^{-2}.s$ atau $kg.m^{-1}.s^{-1}$)

r = Jari-jari bola pejal (m)

V = Kecepatan gerak benda dalam zat cair

Selain gaya gesekan zat cair, kita juga sudah mengenal gaya berat dan gaya Archimedes. Dengan demikian, maka pada sebuah bola pejal yang bergerak dalam zat cair yang kental (Gambar 5.1) akan mengalami ketiga gaya tersebut atau:

$$\sum F = W + F_A + F_s \quad (7.2)$$

Bila bola pejal telah mencapai kecepatan tetap, maka resultan gaya tersebut akan sama dengan nol, sehingga benda bergerak lurus beraturan. Besar kecepatannya pada keadaan itu adalah:

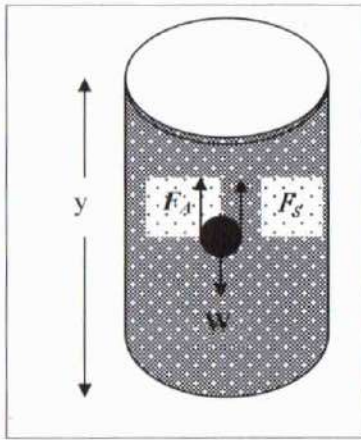
$$V = \frac{2r^2g(\rho - \rho_0)}{9\eta} \quad (7.3)$$

Keterangan:

g = Percepatan gravitasi ($m.s^{-2}$)

ρ = Massa jenis bola pejal ($kg.m^{-3}$)

ρ_0 = Massa jenis zat zat cair ($kg.m^{-3}$)



Gambar 7.1 Gaya Stokes

Bila selama bergerak lurus beraturan bola memerlukan waktu selama t untuk bergerak sejauh y , maka persamaan (7.2) di atas dapat diubah menjadi:

$$t = \frac{9\eta y}{2gr^2(\rho - \rho_0)} \quad \text{atau} \quad y = \frac{2gr^2(\rho - \rho_0)}{9\eta} \quad (7.4)$$

dengan y adalah jarak yang ditempuh bola mulai saat bergerak dengan kecepatan konstan hingga berhenti, dan t adalah waktu yang ditempuhnya.

B. Rancangan Eksperimen Viskositas Zat Cair

1. Tujuan Eksperimen

Eksperimen ini bertujuan sebagai berikut.

- 1) Menganalisis nilai koefisien kekentalan zat cair dengan menggunakan hukum Stokes.
- 2) Menyelidiki parameter-parameter yang terukur sesuai eksperimen viskositas.

2. Alat dan Bahan Eksperimen

Beberapa alat yang digunakan adalah sebagai berikut.

- 1) Tabung stokes (tinggi 60 cm, diameter 4 cm, penyaring, 2 gelang pembatas).
- 2) Mistar gulung 100 cm.
- 3) Mikrometer sekrup (0 – 25 mm; 0,01 mm).
- 4) Neraca ohaus (*triple beam*, 311 gram, 0,01 gram).
- 5) Pinset.
- 6) *Stopwatch* (interupsi *type* 0,1 detik).
- 7) Termometer batang (0 – 50) °C

Sementara itu, bahan yang digunakan adalah sebagai berikut.

- 1) Zat cair gliserin.
- 2) Lap/tisu.
- 3) Bola pejal (bahan yang sama dengan jari berbeda-beda) 5 buah.

3. Prosedur Kerja Eksperimen

Sebelum anda melakukan pengukuran dan mengambil data, maka pastikan bahwa alat-alat yang anda gunakan dalam keadaan baik dan sudah lengkap. Setelah itu lakukan kegiatan sebagai berikut.

Kegiatan 7.1: Hubungan antara Jarak Tempuh Bola Pejal dengan Waktu Tempuh

- 1) Ukur diameter bola dengan menggunakan micrometer, kemudian timbang dengan alat neraca ohaus 311 gram.
- 2) Siapkan tabung gelas dan tempatkan sendok saringan pada tabung, kemudian isi tabung fulida (gliserin/olie) hingga hampir penuh.
- 3) Lilitkan karet gelang pertama sekitar 10 cm di bawah permukaan gliserin/olie. Kemudian karet kedua yang dapat diatur-atur di atas dasar tabung.
- 4) Atur karet kedua sehingga jaraknya dengan karet kedua adalah 20 cm.
- 5) Tempatkan bola tepat di atas permukaan gliserin/olie (gunakan pinset), kemudian lepaskan. Selanjutnya ukur waktu yang ditempuh bola pejal dari gelang pertama ke gelang kedua.
- 6) Catat hasil pengamatan Anda pada tabel pengamatan yang telah tersedia. Kemudian ulangi kegiatan 1) sampai 6) untuk jarak kedua karet gelang 30 cm, 40 cm, 50 cm, 60 cm,....., 90 cm.

Kegiatan 7.2: Hubungan antara Massa Jenis Bola Pejal dengan Waktu Tempuh

- 1) Pilih 10 buah bola pejal dengan massa jenis yang sama (terbuat dari bahan yang sama) dan jari-jari yang berbeda (ambil bola yang tidak terlalu besar).
- 2) Ukur massa dan jari-jari masing-masing bola (masing-masing cukup satu kali pengukuran).
- 3) Tentukan dan ukur jarak antara dua gelang pembatas pada tabung Stokes.
- 4) Kemudian ukur waktu yang diperlukan masing-masing bola pejal untuk menempuh jarak antara kedua gelang pembatas yang sudah ditentukan itu.

C. Hasil Pengamatan dan Teknik Analisis Data

Kegiatan 7.1: Hubungan antara Jarak Tempuh dengan Waktu Tempuh

Massa jenis gliserin = ... gram/cm³

Massa bola pejal = ... gram

Jejari bola pejal = ... cm

No.	Jarak Tempuh Bola Pejal (cm)	Waktu Tempuh (s)
1.	20
2.	30
3.	40
4.	50
5.	60
6.	70
7.	80
8.	90

Kegiatan 7.2: Hubungan antara Massa Jenis Bola Pejal dengan Waktu Tempuh

Massa jenis gliserin (ρ_0) = ... gram/cm³

Jarak tempuh = ... cm

No.	Jejari Bola Pejal (cm)	Massa bola pejal (gram)	Volume (gram/cm ³)	$\rho_{\text{bola pejal}}$ (gram/cm ³)	Waktu (s)
1.
2.
3.
4.
5.
6.

Catatan: Massa jenis bola pejal dapat ditentukan dengan menggunakan persamaan $\rho = \frac{m}{V}$

Analisis Hasil Pengamatan

Kegiatan 7.1: Hubungan antara Jarak Tempuh dengan Waktu Tempuh

- Tentukan nilai skala terkecil dari semua alat ukur yang digunakan.
- Hitung dengan memakai rumus persamaan 7.3 dengan menentukan koefisien kekentalan zat cair $[\eta]$ pada pengukuran 1 sampai 10.
- Tentukan dan hitung rambat ralat persamaan 7.3 untuk nilai koefisien kekentalan zat cair $[\eta]$ pada pengukuran 1 sampai 10.
- Tentukan berapa kesalahan relatif, derajat kepercayaan dan pelaporan fisika dari pengukuran 1 sampai 10.
- Buatkan grafik hubungan antara jarak tempuh dengan waktu tempuh dalam percobaan ini.

Kegiatan 7.2: Hubungan antara Massa Jenis Bola Pejal dengan Waktu Tempuh

- Tentukan nilai skala terkecil dari semua alat ukur yang digunakan.
- Hitung dengan memakai rumus persamaan 7.3 dengan menentukan koefisien kekentalan zat cair $[\eta]$ pada pengukuran 1 sampai 10.
- Tentukan dan hitung rambat ralat persamaan 7.3 untuk nilai koefisien kekentalan zat cair $[\eta]$ pada pengukuran 1 sampai 10.
- Tentukan berapa kesalahan relatif, derajat kepercayaan dan pelaporan fisika dari pengukuran 1 sampai 10.
- Buatkan grafik hubungan antara jari-jari kuadrat ($1/r^2$) dengan waktu tempuh dalam percobaan ini.

D. Tugas Eksperimen

Sebelum Anda melakukan eksperimen ini, diharapkan dapat mengerjakan tugas pendahuluan sebagai berikut.

- Apa yang dimaksud dengan gaya gesekan pada benda oleh fluida menurut hukum Stokes?
- Apa arti tanda minus pada persamaan (7.1)?

- Jelaskan arti dari aliran fluida turbulen dan laminar!
- Tuliskan tiga syarat yang harus diperlukan dalam pemakaiannya hukum Stokes!
- Pada saat bola bergerak dengan kecepatan konstan, gaya-gaya apa saja yang bekerja dan gambarkan arah-arah gayanya pada bola!
- Buktikan persamaan berikut!

$$h = \frac{2r^2g(\rho - \rho_0)}{9\eta}$$

- Berapa rapat massa (ρ) dari beberapa zat cair berikut: gliserin, olie, dan air?
- Rambat ralatkan persamaan pada soal bagian (f)!

A. Kasus Percobaan Gelombang Melde

1. Tujuan Eksperimen

Eksperimen ini bertujuan untuk:

- 1) menyelidiki hubungan kecepatan gelombang dengan tegangan tali;
- 2) menyelidiki hubungan antara kecepatan rambat gelombang dengan massa persatuan panjang tali.

2. Alat dan Bahan

Beberapa alat dan bahan yang digunakan adalah sebagai berikut.

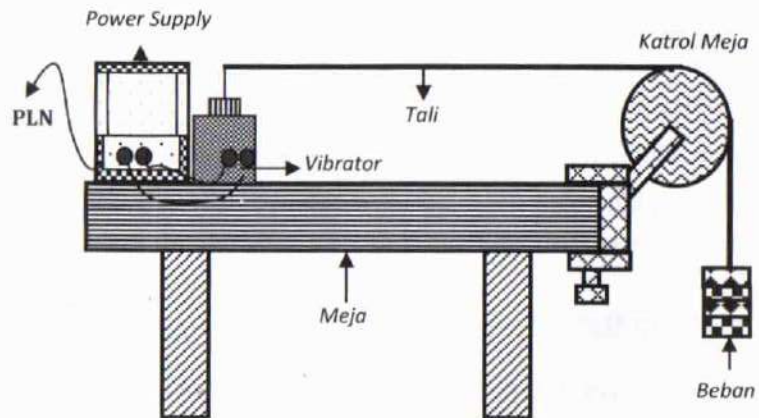
- 1) Vibrator generator (*vibration generator*) dengan $f = 50$ Hz.
- 2) Variabel *power supply* 10 A 12 V AC/DC.
- 3) Neraca ohaus 310 gram (0,01 gram).
- 4) Mistar/meteran plastik 100 cm.
- 5) Kabel penghubung ganda secukupnya.
- 6) Katrol meja.
- 7) Pengait beban bandul.

- Beberapa beban yang bercelah dan bervariasi massanya (20 gram, 50 gram, 100 gram, dan 200 gram). Sementara bahan yang digunakan adalah beberapa benang yang bervariasi besarnya.

B. Teknik Perancangan dan Prosedur Percobaan

1. Menyelidiki Hubungan Kecepatan Gelombang dengan Tegangan Tali

- Timbang massa beban yang digunakan sebanyak lima macam yang berbeda massanya dengan alat ukur neraca ohaus 310 gram.
- Ambil sepotong benang atau tali lalu ikatkan salah satu ujungnya pada vibrator lalu dipentalkan pada katrol dan diberi beban sebesar M_1 (perhatikan Gambar 8.1 berikut).



Gambar 8.1 Susunan Alat Percobaan Gelombang

- Setelah disusun berdasarkan gambar di atas, maka nyalakan *power supply* sehingga vibrator bergetar.
- Atur panjang tali sambil menggeser-geser vibrator sehingga terbentuk gelombang stasioner.

- Ukur panjang tali dari vibrator sampai katrol pada saat terbentuk gelombang stasioner.
- Tentukan jumlah simpul kemudian hitung panjang gelombang.
- Ulangi kegiatan 1) sampai 2) sebanyak 5 kali dengan massa beban yang berbeda.
- Catat seluruh hasil pengamatan pada tabel pengamatan yang tersedia.
- Hitung kecepatan rambat gelombang setiap percobaan.

2. Menyelidiki Hubungan antara Kecepatan Rambat Gelombang dengan Massa Persatuan Panjang Tali

- Siapkan tiga macam tali/benang yang berbeda besarnya.
- Ambil sepotong tali/benang, ukur panjangnya lalu timbang.
- Lakukan kegiatan 1) untuk jenis benang lain.
- Hitung massa tiap persatuan panjang tali.
- Ambil sepotong benang pertama, ikatkan salah satu ujungnya pada vibrator sedang ujung lain dipentalkan pada katrol dan diberi beban M .
- Nyalakan *power supply* sehingga vibrator bergetar kemudian atur panjang tali sehingga terbentuk gelombang.
- Ukur panjang tali dari vibrator sampai katrol pada saat terbentuk gelombang stasioner, kemudian catat banyaknya simpul yang terjadi.
- Ulangi kegiatan 4) sampai 9) untuk jenis tali yang lain dengan massa beban tetap.
- Catat semua hasil pengamatan pada lembar pengamatan.
- Hitung cepat rambat gelombang tali pada setiap percobaan.

C. Hasil Pengamatan Eksperimen Hukum Melde

Tabel 8.1 Menyelidiki Hubungan Kecepatan Gelombang dengan Tegangan Tali

Frekuensi gelombang = 50 Hz

Percepatan gravitasi = 1000 cm/s²

No.	Massa Beban (gram)	Panjang Tali (cm)	Jumlah Simpul	Panjang Gelombang (cm)	Cepat Rambat Gelombang (cm/s)
1.	29,930	85,80	8	24,51	1.225,50
2.	39,930	69,50	6	27,80	1.390,00
3.	49,930	62,50	5	31,25	1.562,50
4.	59,930	51,00	4	34,00	1.700,00
5.	69,930	74,50	5	37,25	1.862,50

Tabel 8.2 Menyelidiki Hubungan antara Kecepatan Rambat Gelombang dengan Massa Persatuan Panjang Tali untuk Langkah a sampai d

Jenis Tali	Panjang Tali (cm)	Massa Tali (Gram)	Rapat Massa Tali (gr/cm)
I	100,00	0,51	$5,10 \times 10^{-3}$
II	100,00	0,12	$1,20 \times 10^{-3}$
III	100,00	0,09	$0,09 \times 10^{-3}$

Tabel 8.3 Menyelidiki Hubungan antara Kecepatan Rambat Gelombang dengan Massa Persatuan Panjang Tali

Massa beban =gram

Percepatan gravitasi =cm/s²

Jenis Tali	Panjang Tali (cm)	Jumlah Simpul	Tegangan Tali (gr.cm/s ²)	Cepat Rambat Gelombang (cm/s)
I	78,70	6	4.9930,00	
II	73,80	3		
III	89,50	3		

D. Teknik Analisis Data Percobaan

- Untuk Kegiatan I, dari data hasil percobaan hitung cepat rambat gelombang untuk setiap percobaan dengan menggunakan

hubungan frekuensi dan panjang gelombang. Amati hubungan antara besarnya cepat rambat gelombang yang diperoleh dengan besarnya tegangan tali.

- Untuk Kegiatan II, hitung dahulu massa persatuan panjang tali lalu hitung cepat rambat gelombang untuk setiap jenis tali dengan menggunakan data frekuensi dan panjang gelombang. Amati hubungan antara besarnya cepat rambat gelombang dengan massa persatuan panjang tali. Kemudian hitung cepat rambat gelombang dengan menggunakan data tegangan tali dan massa persatuan panjang tali. Bandingkan hasilnya dengan perhitungan pertama.

Catatan: Penulisan hasil pengukuran harus memperhatikan angka pentingnya.

Analisis Data

Kegiatan:

- Menghitung Tegangan Tali

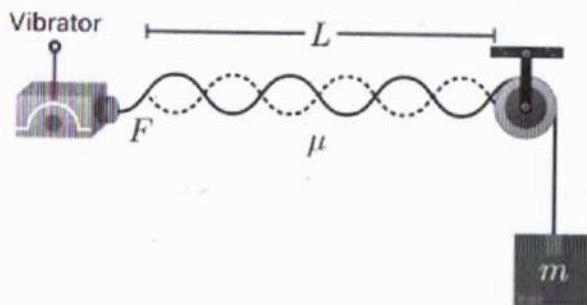
- $T_1 = m_1 \cdot g = (29,930) \cdot (1000) = 29.930$ dyne
- $T_2 = m_2 \cdot g = (39,930) \cdot (1000) = 39.930$ dyne
- $T_3 = m_3 \cdot g = (49,930) \cdot (1000) = 49.930$ dyne
- $T_4 = m_4 \cdot g = (59,930) \cdot (1000) = 59.930$ dyne
- $T_5 = m_5 \cdot g = (69,930) \cdot (1000) = 69.930$ dyne

- Menghitung Panjang Gelombang

- $L = 85,80$ cm
 $n = 8 = 7/2 \lambda$
 $7/2 \lambda = L$
 $7/2 \lambda = 85,80$
 $\lambda = 24,51$ cm
- $L = 69,50$ cm
 $n = 6 = 5/2 \lambda$
 $5/2 \lambda = L$
 $5/2 \lambda = 69,50$
 $\lambda = 27,80$ cm

- $L = 62,50 \text{ cm}$
 $n = 5 = 4/2 \lambda$
 $4/2 \lambda = L$
 $4/2 \lambda = 62,50$
 $\lambda = 31,25 \text{ cm}$
- $L = 51,00 \text{ cm}$
 $n = 4 = 3/2 \lambda$
 $3/2 \lambda = L$
 $3/2 \lambda = 51,00$
 $\lambda = 34,00 \text{ cm}$
- $L = 74,50 \text{ cm}$
 $n = 5 = 4/2 \lambda$
 $4/2 \lambda = L$
 $4/2 \lambda = 74,50$
 $\lambda = 37,25 \text{ cm}$

3) Menghitung Kecepatan Rambat Gelombang



4) Rambat Ralat Persamaan $v = \lambda \cdot f$

9

Eksperimen Listrik Dinamis: Rangkaian Listrik Secara Seri-Paralel dan Gabungan

Tahapan yang dilakukan dalam proses pembuatan alat sistem pemurni air laut menjadi air konsumsi (minum) dengan menggunakan model piramida, dapat dijelaskan sebagai berikut.

A. Eksperimen Rangkaian Listrik Seri-Paralel dan Gabungan

1. Alat dan Komponen

Alat dan komponen dalam eksperimen ini adalah sebagai berikut.

- Power supply.
- Voltmeter.
- Amperemeter.
- Solder.
- Kabel penghubung.
- Beberapa komponen resistor batu.

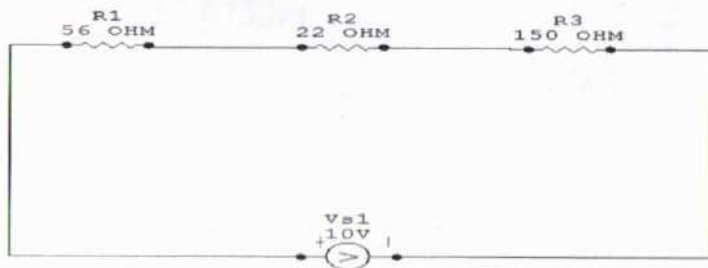
2. Prosedur Kerja

Prosedur kerja pada eksperimen ini adalah sebagai berikut.

a. Rangkaian Seri

Pengukuran arus:

- 1) Sediakan alat dan bahan yang akan digunakan.
- 2) Susun rangkaian seperti gambar berikut.



Gambar 9.1 Rangkaian Seri

- 3) Tutup saklar pada *power supply*, jika sudah tidak ada lagi kesalahan dalam rangkaian, kemudian amati penunjukan jarum amperemeter.
- 4) Ulangi langkah 3 dengan menempatkan amperemeter di R_2 , R_3 , R_4 , dan R_5 .
- 5) Ulangi kegiatan c) dan d) dengan mengubah nilai tegangan sumber.
- 6) Catat hasil pengamatan pada tabel pengamatan yang telah disediakan.

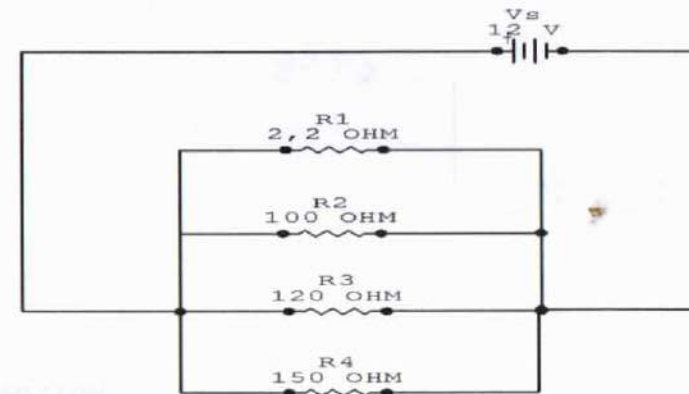
Pengukuran tegangan:

- 1) Geser pengaturan basic meter dari amperemeter menjadi voltmeter.
- 2) Rangkai voltmeter dengan resistor secara paralel.
- 3) Tutup saklar pada *power supply*, jika sudah tidak ada lagi kesalahan pada rangkaian, kemudian amati penunjukan pada jarum voltmeter sebagai hasil pengukuran tegangan total.
- 4) Ukur tegangan pada masing-masing resistor.
- 5) Ulangi kegiatan dengan mengubah nilai sumber tegangan (usahakan dalam satuan SI hasil pengukuran dan perhitungan yang diperoleh).

b. Rangkaian Paralel

Pengukuran arus:

- 1) Susun alat seperti rangkaian berikut.



Gambar 9.2 Rangkaian Paralel

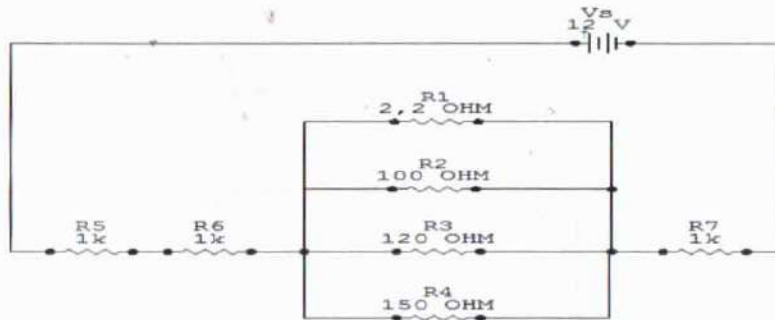
- 2) Tutup saklar pada *power supply*, setelah pada rangkaian tidak ada lagi kesalahan, kemudian mengamati penunjukan jarum amperemeter.
- 3) Ukur kuat arus yang masuk sebelum titik cabang dengan menempatkan amperemeter di titik sebelum percabangan.
- 4) Ukur kuat arus yang masuk di R_1 dan R_2 dengan menempatkan amperemeter di titik cabang masing-masing hambatan.
- 5) Ulangi kegiatan dengan mengubah nilai tegangan sumber.
- 6) Catat hasil pengamatan pada tabel pengamatan.

Pengukuran tegangan:

- 1) Geser pengaturan basic meter dari amperemeter ke voltmeter yang dipasang secara paralel dengan resistor.
- 2) Tutup saklar pada *power supply*, setelah tidak ada lagi kesalahan pada rangkaian. Mengukur tegangan di R_1 dan R_2 dengan menempatkan voltmeter pada masing-masing resistor tersebut.
- 3) Ulangi kegiatan dengan mengubah nilai sumber tegangan.
- 4) Catat hasil pengamatan pada tabel pengamatan.

c. Rangkaian Gabungan Seri-Paralel

- 1) Rangkai alat seperti gambar berikut.



Gambar 9.3 Rangkaian Gabungan

- 2) Tutup saklar *power supply*, setelah tidak ada lagi kesalahan pada rangkaian, kemudian amati penunjukan jarum amperemeter untuk mengukur arus total. Ukur arus di R_1 dengan menempatkan amperemeter di R_1 .
- 3) Ulangi kegiatan b) dengan menempatkan amperemeter di R_2 dan R_3 untuk mengukur arus masing-masing resistor tersebut. Ulangi kegiatan dengan mengubah nilai sumber tegangan.
- 4) Catat hasil pengamatan pada tabel pengamatan.

B. Hasil Pengamatan dan Analisis Data Eksperimen

1. Hasil Pengamatan

Adapun hasil pengamatan pada eksperimen ini adalah sebagai berikut.

a. Rangkaian Seri

Pengukuran Arus

Spesifikasi Komponen:

$$R_1 = 56 \text{ Ohm}$$

$$R_2 = 22 \text{ Ohm}$$

$$R_3 = 150 \text{ Ohm}$$

Tabel 9.1 Pengukuran Arus pada Rangkaian Seri

NST Amperemeter = 0,002 A

V_s (V)	I_1 (A)	I_2 (A)	I_3 (A)
3	0,036	0,036	0,036

Pengukuran Tegangan

Spesifikasi Komponen:

$$R_1 = 56 \text{ Ohm}$$

$$R_2 = 22 \text{ Ohm}$$

$$R_3 = 150 \text{ Ohm}$$

Tabel 9.2 Pengukuran Tegangan pada Rangkaian Seri

NST Voltmeter = 0,2 V

V_s (V)	V_{tot} (V)	V_1 (V)	V_2 (V)	V_3 (V)	V_4 (V)
3	5,4	1,2	0,6	3,6	3

b. Rangkaian Paralel

Pengukuran Arus

Spesifikasi Komponen:

$$R_1 = 100 \text{ Ohm}$$

$$R_2 = 120 \text{ Ohm}$$

$$R_3 = 100 \text{ Ohm}$$

$$R_4 = 10 \text{ Ohm}$$

Tabel 9.3 Pengukuran Arus pada Rangkaian Paralel

NST Amperemeter = 0,02 A

V_s (V)	I Sebelum Percabangan (A)	I Setelah Percabangan (A)			
		I_1 (A)	I_2 (A)	I_3 (A)	I_4 (A)
3	0,26	0,02	0,18	0,02	0,2

Pengukuran Tegangan

Spesifikasi Komponen:

$$R_1 = 100 \text{ Ohm}$$

$$R_2 = 120 \text{ Ohm}$$

$$R_3 = 100 \text{ Ohm}$$

$$R_4 = 10 \text{ Ohm}$$

Tabel 9.4 Pengukuran Tegangan pada Rangkaian Paralel

NST Voltmeter = 0,2 V

Vs (V)	V ₁ (V)	V ₂ (V)	V ₃ (V)	V ₄ (V)	V _{tot} (V)
3	2	2	2	2	2

c. Rangkaian Gabungan Seri dan Paralel

Spesifikasi Komponen:

$$R_1 = 22 \text{ Ohm} \quad R_2 = 56 \text{ Ohm}$$

$$R_3 = 120 \text{ Ohm} \quad R_4 = 22 \text{ Ohm}$$

$$R_5 = 150 \text{ Ohm} \quad R_6 = 100 \text{ Ohm}$$

$$R_7 = 56 \text{ Ohm} \quad R_8 = 150 \text{ Ohm}$$

Tabel 9.5 Pengukuran Arus pada Rangkaian Gabungan Seri dan Paralel

NST Amperemeter = 0,002 A

Vs(V)	I ₁ (A)	I ₂ (A)	I ₃ (A)	I ₄ (A)	I ₅ (A)	I ₆ (A)	I ₇ (A)	I ₈ (A)
3	0,02	0,02	0,004	0,006	0,004	0,002	0,004	0,02

2. Analisis Data

Rangkaian Seri

Pengukuran Arus

Spesifikasi Komponen:

$$R_1 = 56 \text{ Ohm}$$

$$R_2 = 22 \text{ Ohm}$$

$$R_3 = 150 \text{ Ohm}$$

NST Amperemeter = 0,02 A

Vs(V)	I ₁ (A)	I ₂ (A)	I ₃ (A)
3	0,036	0,036	0,036

$$\begin{aligned} R_s &= R_1 + R_2 + R_3 \\ &= (56 + 22 + 150) \text{ Ohm} \\ &= 228 \text{ Ohm} \end{aligned}$$

- Kuat arus pada pengukuran dengan Vs = 3 V berturut-turut adalah:

$$I_1 = 0,036 \text{ A}$$

$$I_2 = 0,036 \text{ A}$$

$$I_3 = 0,036 \text{ A}$$

- Kuat arus pada setiap hambatan sama, jadi:

$$I_T = I_1 = I_2 = I_3 = 0,036 \text{ A}$$

- Tegangan yang mengalir pada tiap hambatan adalah:

$$V_1 = I_T \cdot R_1 = 0,036 \times 56 = 2,016 \text{ V}$$

$$V_2 = I_T \cdot R_2 = 0,036 \times 22 = 0,792 \text{ V}$$

$$V_3 = I_T \cdot R_3 = 0,036 \times 150 = 5,400 \text{ V}$$

- V_{Tot} yang mengalir dalam rangkaian adalah:

$$\begin{aligned} V_{\text{Tot}} &= I_T \cdot R_s \\ &= 0,036 \times 228 \\ &= 8,208 \text{ V} \end{aligned}$$

- Penyimpangan pada pengukuran arus

$$\Delta I = \frac{1}{2} \times \text{NST Amperemeter}$$

$$= \frac{1}{2} \times 0,002$$

$$= 0,001 \text{ A}$$

- Pelaporan Fisika

$$\begin{aligned} \text{PF} &= |I \pm \Delta I| \\ &= |0,036 \pm 0,001| \text{ A} \end{aligned}$$

- Kesalahan Relatif (KR)

$$\begin{aligned}
 DK &= \frac{\Delta I}{I} \times 100\% \\
 &= \frac{0,001}{0,036} \times 100\% \\
 &= 2,78\%
 \end{aligned}$$

- Derajat Kepercayaan (DK)

$$\begin{aligned}
 DK &= 100\% - KR\% \\
 &= 100\% - 2,78\% \\
 &= 97,22\%
 \end{aligned}$$

Pengukuran Tegangan

Spesifikasi Komponen:

$$R_1 = 56 \text{ Ohm}$$

$$R_2 = 22 \text{ Ohm}$$

$$R_3 = 150 \text{ Ohm}$$

Tabel 9.6 Pengukuran Tegangan pada Rangkaian Seri

NST Voltmeter = 0,2 V

V_s (V)	V_{tot} (V)	V_1 (V)	V_2 (V)	V_3 (V)
3	5,4	1,2	0,6	3,6

- Rangkaian Seri

$$\begin{aligned}
 R_s &= R_1 + R_2 + R_3 \\
 &= (56 + 22 + 150) \\
 &= 228 \text{ Ohm}
 \end{aligned}$$

- Tegangan Total

$$\begin{aligned}
 V_T &= V_1 + V_2 + V_3 \\
 V_T &= (1,2 + 0,6 + 3,6) \text{ V} \\
 &= 5,4 \text{ V}
 \end{aligned}$$

- Arus Total (Itot)

$$I_T = \frac{V_T}{R_s}$$

$$= \frac{5,400}{228}$$

$$= 0,02400 \text{ A}$$

$$I_T = I_1 + I_2 + I_3 = 0,02400 \text{ A}$$

- Penyimpangan pada pengukuran tegangan

$$\Delta V = \frac{1}{2} \times \text{NST Voltmeter}$$

$$= \frac{1}{2} \times 0,2$$

$$= 0,1 \text{ Volt}$$

- Pelaporan Fisika (PF)

$$\text{PF} = |V \pm \Delta V|$$

$$= |5,400 \pm 0,1| \text{ Volt}$$

- Kesalahan Relatif (KR)

$$\text{KR} = \frac{\Delta V}{V} \times 100\%$$

$$= \frac{0,1}{5,400} \times 100\%$$

$$= 1,85\%$$

- Derajat Kepercayaan (DK)

$$\text{DK} = 100\% - \text{KR}\%$$

$$= 100\% - 1,85\%$$

$$= 98,15\%$$

Rangkaian Paralel

Pengukuran Arus

Spesifikasi Komponen:

$$R_1 = 100 \text{ Ohm}$$

$$R_2 = 120 \text{ Ohm}$$

$$R_3 = 100 \text{ Ohm}$$

$$R_4 = 10 \text{ Ohm}$$

Tabel 9.7 Pengukuran Arus pada Rangkaian Paralel

NST Amperemeter = 0,02 A

Vs (V)	I Sebelum Percabangan (A)	I Setelah Percabangan (A)			
		I ₁ (A)	I ₂ (A)	I ₃ (A)	I ₄ (A)
3	0,26	0,02	0,18	0,02	0,2

- Hambatan pengganti pada rangkaian paralel

$$\frac{1}{R_p} = \frac{1}{R_1} + \frac{1}{R_2} + \frac{1}{R_3} + \frac{1}{R_4}$$

$$\frac{1}{R_p} = \frac{1}{100} + \frac{1}{120} + \frac{1}{100} + \frac{1}{10}$$

$$\frac{1}{R_p} = \frac{6 + 5 + 6 + 60}{600}$$

$$\frac{1}{R_p} = \frac{77}{600}$$

$$R_p = \frac{600}{77} = 7,79 \text{ Ohm}$$

- Rangkaian paralel, tegangan pada tiap hambatan sama

$$I_T = I_1 + I_2 + I_3 + I_4$$

$$I_T = 0,02 + 0,018 + 0,02 + 0,2$$

$$I_T = 0,2600 \text{ A}$$

- Tegangan pada hambatan sama

$$V = I_T \cdot R_p$$

$$V = 0,2600 \times 7,79$$

$$V = 2,0300 \text{ Volt}$$

$$V_T = V_1 = V_2 = V_3 = V_4 = 2,0300 \text{ Volt}$$

- Penyimpangan pada pengukuran arus

$$\Delta I = \frac{1}{2} \times \text{NST Amperemeter}$$

$$\Delta I = \frac{1}{2} \times 0,02$$

$$\Delta I = 0,01 \text{ A}$$

- Pelaporan Fisika

$$PF = |I \pm \Delta I|$$

$$PF = |0,2600 \pm 0,01| \text{ A}$$

- Kesalahan Relatif

$$KR = \frac{\Delta I}{I} \times 100\%$$

$$KR = \frac{0,01}{0,2600} \times 100\%$$

$$KR = 3,85\%$$

- Derajat Kepercayaan

$$DK = 100\% - KR\%$$

$$DK = 100\% - 3,85\%$$

$$DK = 96,15\%$$

Pengukuran Tegangan

Spesifikasi Komponen:

$$R_1 = 100 \text{ Ohm}$$

$$R_2 = 120 \text{ Ohm}$$

$$R_3 = 100 \text{ Ohm}$$

$$R_4 = 10 \text{ Ohm}$$

Tabel 9.8 Pengukuran Tegangan pada Rangkaian Paralel

NST Voltmeter = 0,2 V

V_s (V)	V_1 (V)	V_2 (V)	V_3 (V)	V_4 (V)	V_{tot} (V)
3	2	2	2	2	2

- Hambatan pengganti pada rangkaian paralel

$$\frac{1}{R_p} = \frac{1}{R_1} + \frac{1}{R_2} + \frac{1}{R_3} + \frac{1}{R_4}$$

$$\frac{1}{R_p} = \frac{1}{100} + \frac{1}{120} + \frac{1}{100} + \frac{1}{10}$$

$$\frac{1}{R_p} = \frac{6 + 5 + 6 + 60}{600}$$

$$\frac{1}{R_p} = \frac{77}{600}$$

$$R_p = \frac{600}{77} = 7,79 \text{ Ohm}$$

- Tegangan pada tiap hambatan = 2 Volt
 $V_T = V_1 = V_2 = V_3 = V_4 = 2 \text{ Volt}$
- Arus yang mengalir dalam rangkaian

$$I_T = \frac{V_T}{R_p}$$

$$I_T = \frac{2}{7,79}$$

$$I_T = 0,257 \text{ A}$$

- Kuat arus pada tiap hambatan

$$I_1 = \frac{V}{R_1}$$

$$I_1 = \frac{2}{100}$$

$$I_1 = 0,02 \text{ A}$$

$$I_2 = \frac{V}{R_2}$$

$$I_2 = \frac{2}{120}$$

$$I_2 = 0,0167 \text{ A}$$

$$I_3 = \frac{V}{R_3}$$

$$I_3 = \frac{2}{100}$$

$$I_3 = 0,02 \text{ A}$$

$$I_4 = \frac{V}{R_4}$$

$$I_4 = \frac{2}{10}$$

$$I_4 = 0,2 \text{ A}$$

- Penyimpangan pada pengukuran tegangan

$$\Delta V = \frac{1}{2} \times \text{NST Voltmeter}$$

$$\Delta V = \frac{1}{2} \times 0,2$$

$$\Delta V = 0,1 \text{ V}$$

- Pelaporan Fisika

$$PF = |V \pm \Delta V|$$

$$PF = |2,00 \pm 0,1| \text{ Volt}$$

- Kesalahan Relatif

$$KR = \frac{\Delta V}{V} \times 100\%$$

$$KR = \frac{0,1}{2,00} \times 100\%$$

$$KR = 5\%$$

- Derajat kepercayaan

$$DK = 100\% - KR\%$$

$$DK = 100\% - 5\%$$

$$DK = 95\%$$

Rangkaian Gabungan (Seri-Paralel)

Spesifikasi Komponen:

$$\begin{aligned} R_1 &= 22 \text{ Ohm} & R_2 &= 56 \text{ Ohm} \\ R_3 &= 120 \text{ Ohm} & R_4 &= 22 \text{ Ohm} \\ R_5 &= 150 \text{ Ohm} & R_6 &= 100 \text{ Ohm} \\ R_7 &= 56 \text{ Ohm} & R_8 &= 150 \text{ Ohm} \end{aligned}$$

Tabel 9.9 Pengukuran Arus pada Rangkaian Gabungan Seri dan Paralel

NST Amperemeter = 0,002 A

Vs (V)	I ₁ (A)	I ₂ (A)	I ₃ (A)	I ₄ (A)	I ₅ (A)	I ₆ (A)	I ₇ (A)	I ₈ (A)
3	0,02	0,02	0,004	0,006	0,004	0,002	0,004	0,02

- Hambatan Rangkaian Seri (Rs)

$$R_s = R_1 + R_2$$

$$R_s = 22 + 56$$

$$R_s = 78 \text{ Ohm}$$

- Hambatan Rangkaian Paralel (Rp)

$$\frac{1}{R_p} = \frac{1}{R_3} + \frac{1}{R_4} + \frac{1}{R_5} + \frac{1}{R_6} + \frac{1}{R_7}$$

$$\frac{1}{R_p} = \frac{1}{120} + \frac{1}{22} + \frac{1}{150} + \frac{1}{100} + \frac{1}{56}$$

$$\frac{1}{R_p} = \frac{16320}{184800}$$

$$R_p = \frac{18480}{16.320}$$

$$R_p = 11,32 \text{ Ohm}$$

- Hambatan total adalah:

$$\begin{aligned} R_{\text{Total}} &= R_s + R_p + R_8 \\ &= (78 + 11,32 + 150) \\ &= 239,32 \text{ Ohm} \end{aligned}$$

- Kuat arus dalam rangkaian adalah:

$$I = \frac{V_s}{R_T} = \frac{3}{239,32} = 0,013 \text{ A}$$

- Kuat arus yang mengalir tiap hambatan

$$I_1 = \frac{V}{R1} = \frac{0,286}{22} = 0,013 \text{ A}$$

$$I_2 = \frac{V}{R2} = \frac{0,286}{56} = 0,005 \text{ A}$$

$$I_3 = \frac{V}{R3} = \frac{0,1500}{120} = 0,00125 \text{ A}$$

$$I_4 = \frac{V}{R4} = \frac{0,1500}{22} = 0,007 \text{ A}$$

$$I_5 = \frac{V}{R5} = \frac{0,1500}{150} = 0,001 \text{ A}$$

$$I_6 = \frac{V}{R6} = \frac{0,1500}{100} = 0,0015 \text{ A}$$

$$I_7 = \frac{V}{R7} = \frac{0,1500}{56} = 0,003 \text{ A}$$

$$I_8 = \frac{V}{R8} = \frac{0,286}{150} = 0,002 \text{ A}$$

- Penyimpangan pada pengujuran arus

$$\Delta I = \frac{1}{2} \times \text{NST Amperemeter}$$

$$\Delta I = \frac{1}{2} \times 0,002$$

$$\Delta I = 0,001 \text{ A}$$

- Pelaporan Fisika

$$\text{PF} = |I \pm \Delta I|$$

$$\text{PF} = |0,01300 \pm 0,001| \text{ A}$$

- Kesalahan Relatif

$$KR = \frac{\Delta I}{I} \times 100\%$$

$$KR = \frac{0,001}{0,01300} \times 100\%$$

$$KR = 7,69\%$$

- Derajat Kepercayaan

$$DK = 100\% - KR\%$$

$$DK = 100\% - 7,69\%$$

$$DK = 92,31\%$$

C. Kajian Pembahasan Eksperimen

Adapun pembahasan pada percobaan ini adalah sebagai berikut.

1. Rangkaian Seri

Pengukuran Arus

Pada rangkaian seri yaitu rangkaian yang disusun secara sejajar dengan tiga buah hambatan yang masing-masing bernilai, $R_1 = 56 \Omega$, $R_2 = 22 \Omega$, $R_3 = 150 \Omega$, dengan nilai sumber tegangan (V_s) = 3 Volt diperoleh arus $I_1 = 0,036 \text{ A}$, $I_2 = 0,036 \text{ A}$, $I_3 = 0,036 \text{ A}$. Dari hasil pengukuran ini dan perhitungan dapat diketahui bahwa arus pada rangkaian seri pada setiap hambatan adalah sama. Jadi penerapan hukum Kirchoof pada rangkaian seri. Maka hasil yang kami peroleh yaitu: $I_{\text{masuk}} = I_{\text{keluar}} = I \text{ di } R_1 = I \text{ di } R_2 = I \text{ di } R_3$.

Pengukuran Tegangan

Pada pengukuran tegangan dengan menggunakan tiga hambatan yang masing-masing $R_1 = 56 \Omega$, $R_2 = 22 \Omega$, $R_3 = 150 \Omega$ diperoleh data yaitu $V_1 = 1,2 \text{ volt}$, $V_2 = 0,6 \text{ volt}$, $V_3 = 3,6 \text{ volt}$ dengan $V_{\text{tot}} = 5,4 \text{ volt}$ dengan tegangan sumber (V_s) = 3 volt. Dari hasil pengamatan ini dapat diketahui bahwa pada rangkaian seri tegangan pada setiap hambatan itu berbeda sesuai dengan teori.

2. Rangkaian Paralel

Pengukuran Arus

Untuk rangkaian paralel yaitu rangkaian yang disusun secara bertingkat dengan empat buah hambatan yang masing-masing bernilai $R_1 = 100 \Omega$, $R_2 = 120 \Omega$, $R_3 = 100 \Omega$ dan $R_4 = 10 \Omega$ dengan tegangan sumber yaitu 3 volt. Diperoleh data yaitu arus (I) sebelum percabangan sebesar 0,26 A dan arus pada setiap hambatan atau arus setelah percabangan yaitu $I_1 = 0,02 \text{ A}$, $I_2 = 0,018 \text{ A}$, $I_3 = 0,02 \text{ A}$, dan $I_4 = 0,2 \text{ A}$, dan tegangan pada setiap hambatan sama dan diperoleh dari hasil perhitungan yaitu 2,03 volt. Dari hasil ini arus sebelum dan sesudah percabangan adalah sama. Jadi dapat disimpulkan bahwa data ini sesuai dengan teori yang ada.

Pengukuran Tegangan

Pada pengukuran tegangan dengan menggunakan empat buah hambatan diperoleh $V_1 = 2 \text{ volt}$, $V_2 = 2 \text{ volt}$, $V_3 = 2 \text{ volt}$, dan $V_4 = 2 \text{ volt}$ dengan tegangan sumber (V_s) = 3 volt. Dari hasil ini dapat dikatakan bahwa tegangan pada rangkaian paralel tegangan pada setiap hambatan itu sama.

Rangkaian Gabungan

Rangkaian seri paralel merupakan rangkaian gabungan dari rangkaian seri dan rangkaian paralel, dengan spesifikasi nilai masing-masing hambatan adalah $R_1 = 22 \Omega$, $R_2 = 56 \Omega$, $R_3 = 120 \Omega$, $R_4 = 22 \Omega$, dan $R_5 = 150 \Omega$, $R_6 = 100 \Omega$, $R_7 = 56 \Omega$, $R_8 = 150 \Omega$ dengan nilai sumber tegangan yaitu 3 volt.

Eksperimen Listrik Dinamis: Analisis Loop (Hukum Kirchoof)

A. Rancangan Eksperimen Analisis Loop

1. Alat dan Bahan

Alat

Alat yang digunakan dalam eksperimen ini sebagai berikut.

- a. *Power supply*.
- b. Amperemeter.
- c. Kabel penghubung.

Bahan


Bahan yang digunakan dalam percobaan ini adalah sebagai berikut.

- a. Resistor batu 56 Ω .
- b. Resistor batu 100 Ω .
- c. Resistor batu 220 Ω .
- d. Resistor batu 270 Ω .
- e. Resistor batu 1 k Ω .
- f. Resistor batu 4,7 k Ω .
- g. Resistor batu 10 k Ω .
- h. Resistor batu 100 k Ω .

2. Prosedur Eksperimen


Prosedur atau langkah-langkah yang dilakukan dalam eksperimen ini adalah sebagai berikut.

- a. Menyiapkan alat dan bahan yang diperlukan.
- b. Menyusun rangkaian seperti pada Gambar 10.1 berikut.




Gambar 10.1 Rangkaian Analisis Loop

- c. Menghubungkan ke *power supply* dengan nilai tegangan masing-masing 3 volt.
- d. Mengukur kuat arus yang melewati Loop 1 (I_1), seperti pada Gambar 10.2 berikut.




Gambar 10.2 Pengukuran Kuat Arus pada Loop 1

- e. Mengukur kuat arus yang melewati Loop 2 (I_2).



Gambar 10.3 Pengukuran Kuat Arus pada Loop 2

- f. Mengukur kuat arus pada I_3 .



Gambar 10.4 Pengukuran Kuat Arus pada I_3

- g. Mengulangi langkah 2) sampai 6) dengan pasangan sumber tegangan yang berbeda.
- h. Membandingkan hasil teoretis dengan hasil perhitungan yang diperoleh.

B. Hasil Pengamatan dan Teknik Analisis Data Eksperimen Analisis Loop

Hasil Pengamatan

Hasil pengamatan yang diperoleh dari percobaan ini adalah sebagai berikut.

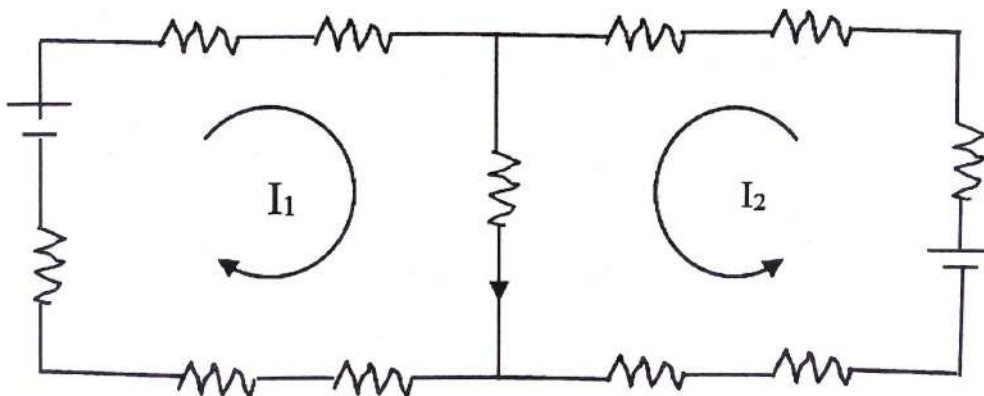
Tabel 10.1 Rangkaian Tertutup (Loop)

BU Amperemeter = 2000 μ A

$R_1 = 10.000 \Omega$	$R_7 = 56 \Omega$
$R_2 = 100 \Omega$	$R_8 = 270 \Omega$
$R_3 = 56 \Omega$	$R_9 = 1.000 \Omega$
$R_4 = 220 \Omega$	$R_{10} = 4.700 \Omega$
$R_5 = 270 \Omega$	$R_{11} = 100 \Omega$
$R_6 = 100.000 \Omega$	

No.	V_{s_1} (volt)	V_{s_2} (volt)	I_1 (10^{-6} A)	I_2 (10^{-6} A)	I_3 (10^{-6} A)
1.	3	3	26	496	522
2.	6	3	56	496	552
3.	3	6	26	986	1012
4.	12	6	113	986	1080
5.	12	9	112	1513	1625

Teknik Analisis Data Eksperimen



1) Untuk $V_{s_1} = 3$ volt dan $V_{s_2} = 3$ volt

a) Loop 1

$$\Sigma \varepsilon = \Sigma I \cdot R$$

$$\varepsilon_1 = I_1 (R_1 + R_2 + R_4 + R_5 + R_6) + I_2 (R_3)$$

$$3 = I_1 (10.000 + 100 + 220 + 270 + 100.000) + I_2 (56 \Omega)$$

$$3 = 110.590 I_1 + 56 I_2$$

$$110.590 I_1 + 56 I_2 = 3 \quad \dots(1)$$

b) Loop 2

$$\Sigma \varepsilon = \Sigma I \cdot R$$

$$\varepsilon_2 = I_2 (R_7 + R_8 + R_9 + R_{10} + R_{11}) + I_1 (R_3)$$

$$3 = I_2 (56 + 270 + 1.000 + 4.700 + 100) + I_1 (56 \Omega)$$

$$3 = 6.126 I_2 + 56 I_1$$

$$6.126 I_2 + 56 I_1 = 3$$

$$56 I_1 + 6126 I_2 = 3 \quad \dots(2)$$

Pers (1) dan (2) dieliminasi

$$110.590 I_1 + 56 I_2 = 3 \times 6.126$$

$$56 I_1 + 6.126 I_2 = 3 \times 56$$

$$\hline 677.474.340 I_1 + 343.056 I_2 = 18.378$$

$$3136 I_1 + 343.056 I_2 = 168$$

$$\hline 677.471.204 I_1 = 18.210$$

$$I_1 = \frac{18210}{677.471.204}$$

$$I_1 = 2,68 \cdot 10^{-5} \text{ A}$$

$$= 2,7 \cdot 10^{-5} \text{ A}$$

$$I_1 = 27 \cdot 10^{-6} \text{ A}$$

Nilai I_1 disubstitusi ke pers (2)

$$\begin{aligned}56 I_1 + 6126 I_2 &= 3 \\56 (27 \cdot 10^{-6}) + 6126 I_2 &= 3 \\1512 \cdot 10^{-6} + 6126 I_2 &= 3 \\6126 I_2 &= 3 - 1512 \cdot 10^{-6} \\6126 I_2 &= 3.000.000 \cdot 10^{-6} - 1512 \cdot 10^{-6} \\6126 I_2 &= 2.998.488 \cdot 10^{-6}\end{aligned}$$

$$I_2 = \frac{2.998.488 \cdot 10^{-6}}{6126}$$

$$I_2 = 489,469 \cdot 10^{-6} \text{ A}$$

$$I_2 = 489,5 \cdot 10^{-6} \text{ A}$$

Maka,

$$I_3 = I_1 + I_2$$

$$I_3 = 27 \cdot 10^{-6} \text{ A} + 489,5 \cdot 10^{-6} \text{ A}$$

$$I_3 = 516,5 \cdot 10^{-6} \text{ A}$$

2) Untuk $V_{s_1} = 6$ volt dan $V_{s_2} = 3$ volt

a) Loop 1

$$\Sigma \varepsilon = \Sigma I \cdot R$$

$$\varepsilon_1 = I_1 (R_1 + R_2 + R_4 + R_5 + R_6) + I_2 (R_3)$$

$$6 = I_1 (10.000 + 100 + 220 + 270 + 100.000) + I_2 (56 \Omega)$$

$$6 = 110.590 I_1 + 56 I_2$$

$$110.590 I_1 + 56 I_2 = 6 \quad \dots(1)$$

b) Loop 2

$$\Sigma \varepsilon = \Sigma I \cdot R$$

$$\varepsilon_2 = I_2 (R_7 + R_8 + R_9 + R_{10} + R_{11}) + I_1 (R_3)$$

$$3 = I_2 (56 + 270 + 1.000 + 4.700 + 100) + I_1 (56 \Omega)$$

$$3 = 6.126 I_2 + 56 I_1$$

$$6.126 I_2 + 56 I_1 = 3$$

$$56 I_1 + 6126 I_2 = 3 \quad \dots(2)$$

Pers (1) dan (2) dieliminasi

$$110.590 I_1 + 56 I_2 = 6 \times 6.126$$

$$56 I_1 + 6.126 I_2 = 3 \times 56$$

$$677.474.340 I_1 + 343.056 I_2 = 36.756$$

$$3136 I_1 + 343.056 I_2 = 168$$

$$677.471.204 I_1 = 36.588$$

$$I_1 = \frac{36.588}{677.471.204}$$

$$I_1 = 5,4 \cdot 10^{-5} \text{ A}$$

$$I_1 = 54 \cdot 10^{-6} \text{ A}$$

Nilai I_1 disubstitusi ke pers (2)

$$56 I_1 + 6126 I_2 = 3$$

$$56 (54 \cdot 10^{-6}) + 6126 I_2 = 3$$

$$3024 \cdot 10^{-6} + 6126 I_2 = 3$$

$$6126 I_2 = 3 - 3024 \cdot 10^{-6}$$

$$6126 I_2 = 3.000.000 \cdot 10^{-6} - 3024 \cdot 10^{-6}$$

$$6126 I_2 = 2.996.976 \cdot 10^{-6}$$

$$I_2 = \frac{2.996.976 \cdot 10^{-6}}{6126}$$

$$I_2 = 489,2 \cdot 10^{-6} \text{ A}$$

Maka,

$$I_3 = I_1 + I_2$$

$$I_3 = 54 \cdot 10^{-6} \text{ A} + 489,2 \cdot 10^{-6} \text{ A}$$

$$I_3 = 543,2 \cdot 10^{-6} \text{ A}$$

3) Untuk $V_{s_1} = 3 \text{ volt}$ dan $V_{s_2} = 6 \text{ volt}$

a) Loop 1

$$\Sigma \varepsilon = \Sigma I \cdot R$$

$$\varepsilon_1 = I_1 (R_1 + R_2 + R_4 + R_5 + R_6) + I_2 (R_3)$$

$$3 = I_1 (10.000 + 100 + 220 + 270 + 100.000) + I_2 (56 \Omega)$$

$$3 = 110.590 I_1 + 56 I_2$$

$$110.590 I_1 + 56 I_2 = 3 \quad \dots(1)$$

b) Loop 2

$$\Sigma \varepsilon = \Sigma I \cdot R$$

$$\varepsilon_2 = I_2 (R_7 + R_8 + R_9 + R_{10} + R_{11}) + I_1 (R_3)$$

$$6 = I_2 (56 + 270 + 1.000 + 4.700 + 100) + I_1 (56 \Omega)$$

$$6 = 6.126 I_2 + 56 I_1$$

$$6.126 I_2 + 56 I_1 = 6$$

$$56 I_1 + 6126 I_2 = 6 \quad \dots(2)$$

Pers (1) dan (2) dieliminasi

$$110.590 I_1 + 56 I_2 = 3 \times 6.126$$

$$56 I_1 + 6.126 I_2 = 6 \times 56$$

$$\hline 677.474.340 I_1 + 343.056 I_2 = 18.378$$

$$3136 I_1 + 343.056 I_2 = 336$$

$$\hline 677.471.204 I_1 = 18.042$$

$$I_1 = \frac{18.042}{677.471.204}$$

$$I_1 = 2,66 \cdot 10^{-5} \text{ A}$$

$$= 2,7 \cdot 10^{-5} \text{ A}$$

$$I_1 = 27 \cdot 10^{-6} \text{ A}$$

Nilai I_1 disubstitusi ke pers (2)

$$56 I_1 + 6126 I_2 = 6$$

$$56 (27 \cdot 10^{-6}) + 6.126 I_2 = 6$$

$$1.456 \cdot 10^{-6} + 6.126 I_2 = 6$$

$$6.126 I_2 = 6 - 1512 \cdot 10^{-6}$$

$$6.126 I_2 = 6.000.000 \cdot 10^{-6} - 1.456 \cdot 10^{-6}$$

$$6.126 I_2 = 5.998.544 \cdot 10^{-6}$$

$$I_2 = \frac{5.998.544 \cdot 10^{-6}}{6126}$$

$$I_2 = 979,19 \cdot 10^{-6} \text{ A}$$

$$I_2 = 979,2 \cdot 10^{-6} \text{ A}$$

Maka,

$$I_3 = I_1 + I_2$$

$$I_3 = 27 \cdot 10^{-6} \text{ A} + 979,2 \cdot 10^{-6} \text{ A}$$

$$I_3 = 1.006,2 \cdot 10^{-6} \text{ A}$$

4) Untuk $V_{s_1} = 12 \text{ Volt}$ dan $V_{s_2} = 6 \text{ Volt}$

a) Loop 1

$$\Sigma \varepsilon = \Sigma I \cdot R$$

$$\varepsilon_1 = I_1 (R_1 + R_2 + R_4 + R_5 + R_6) + I_2 (R_3)$$

$$12 = I_1 (10.000 + 100 + 220 + 270 + 100.000) + I_2 (56 \Omega)$$

$$12 = 110.590 I_1 + 56 I_2$$

$$110.590 I_1 + 56 I_2 = 12 \quad \dots(1)$$

b) Loop 2

$$\Sigma \varepsilon = \Sigma I \cdot R$$

$$\varepsilon_2 = I_2 (R_7 + R_8 + R_9 + R_{10} + R_{11}) + I_1 (R_3)$$

$$6 = I_2 (56 + 270 + 1.000 + 4.700 + 100) + I_1 (56 \Omega)$$

$$6 = 6.126 I_2 + 56 I_1$$

$$6.126 I_2 + 56 I_1 = 6$$

$$56 I_1 + 6126 I_2 = 6 \quad \dots(2)$$

Pers (1) dan (2) dieliminasi

$$110.590 I_1 + 56 I_2 = 12 \times 6.126$$

$$56 I_1 + 6.126 I_2 = 6 \times 56$$

$$\hline 677.474.340 I_1 + 343.056 I_2 = 73.512$$

$$3136 I_1 + 343.056 I_2 = 336$$

$$\hline 677.471.204 I_1 = 73.176$$

$$I_1 = \frac{73.176}{677.471.204}$$

$$I_1 = 1,080.10^{-4} \text{ A}$$

$$I_1 = 108.10^{-6} \text{ A}$$

Nilai I_1 disubstitusi ke pers (2)

$$56 I_1 + 6126 I_2 = 6$$

$$56 (108.10^{-6}) + 6.126 I_2 = 6$$

$$6048.10^{-6} + 6.126 I_2 = 6$$

$$6.126 I_2 = 6 - 6.048.10^{-6}$$

$$6.126 I_2 = 6.000.000.10^{-6} - 6.048.10^{-6}$$

$$6.126 I_2 = 5.993.952.10^{-6}$$

$$I_2 = \frac{5.993.952.10^{-6}}{6126}$$

$$I_2 = 978,4.10^{-6} \text{ A}$$

Maka,

$$I_3 = I_1 + I_2$$

$$I_3 = 108.10^{-6} \text{ A} + 978,4.10^{-6} \text{ A}$$

$$I_3 = 1.086,4.10^{-6} \text{ A}$$

5) Untuk $V_{s_1} = 12$ volt dan $V_{s_2} = 9$ volt

a) Loop 1

$$\Sigma \varepsilon = \Sigma I. R$$

$$\varepsilon_1 = I_1 (R_1 + R_2 + R_4 + R_5 + R_6) + I_2 (R_3)$$

$$12 = I_1 (10.000 + 100 + 220 + 270 + 100.000) + I_2 (56 \Omega)$$

$$12 = 110.590 I_1 + 56 I_2$$

$$110.590 I_1 + 56 I_2 = 12 \quad \dots(1)$$

b) Loop 2

$$\Sigma \varepsilon = \Sigma I. R$$

$$\varepsilon_2 = I_2 (R_7 + R_8 + R_9 + R_{10} + R_{11}) + I_1 (R_3)$$

$$9 = I_2 (56 + 270 + 1.000 + 4.700 + 100) + I_1 (56 \Omega)$$

$$\begin{aligned}
 9 &= 6.126 I_2 + 56 I_1 \\
 6.126 I_2 + 56 I_1 &= 9 \\
 56 I_1 + 6.126 I_2 &= 9 \qquad \dots(2)
 \end{aligned}$$

Pers (1) dan (2) dieliminasi

$$\begin{array}{rcl}
 110.590 I_1 + 56 I_2 & & = 12 \times 6.126 \\
 56 I_1 + 6.126 I_2 & & = 9 \times 56 \\
 \hline
 677.474.340 I_1 + 343.056 I_2 & & = 73.512 \\
 3136 I_1 + 343.056 I_2 & & = 504 \\
 \hline
 677.471.204 I_1 & & = 73.008 \\
 & & I_1 = \frac{73.008}{677.471.204} \\
 & & I_1 = 1,07 \cdot 10^{-4} \text{ A} \\
 & & I_1 = 107 \cdot 10^{-6} \text{ A}
 \end{array}$$

Nilai I_1 disubstitusi ke pers (2)

$$\begin{aligned}
 56 I_1 + 6126 I_2 &= 9 \\
 56 (107 \cdot 10^{-6}) + 6.126 I_2 &= 9 \\
 5.992 \cdot 10^{-6} + 6.126 I_2 &= 9 \\
 6.126 I_2 &= 9 - 5.992 \cdot 10^{-6} \\
 6.126 I_2 &= 9.000.000 \cdot 10^{-6} - 5.992 \cdot 10^{-6} \\
 6.126 I_2 &= 8.994.008 \cdot 10^{-6}
 \end{aligned}$$

$$I_2 = \frac{8.994.008 \cdot 10^{-6}}{6126}$$

$$I_2 = 1.468 \cdot 10^{-6} \text{ A}$$

Maka,

$$I_3 = I_1 + I_2$$

$$I_3 = 107 \cdot 10^{-6} \text{ A} + 1.468 \cdot 10^{-6} \text{ A}$$

$$I_3 = 1.575 \cdot 10^{-6} \text{ A}$$

Berdasarkan hasil analisis yang diperoleh di atas, maka nilai I_1 , I_2 , dan I_3 dalam bentuk tabel adalah sebagai berikut.

Tabel 10.2 Nilai Kuat Arus Berdasarkan Hasil PerhitunganBU Amperemeter = 2000 μ A

$R_1 = 10.000 \Omega$ $R_7 = 56 \Omega$
 $R_2 = 100 \Omega$ $R_8 = 270 \Omega$
 $R_3 = 56 \Omega$ $R_9 = 1.000 \Omega$
 $R_4 = 220 \Omega$ $R_{10} = 4.700 \Omega$
 $R_5 = 270 \Omega$ $R_{11} = 100 \Omega$
 $R_6 = 100.000 \Omega$

No.	V_{s_1} (volt)	V_{s_2} (volt)	$I_1(10^{-6}A)$	$I_2(10^{-6}A)$	$I_3(10^{-6}A)$
1.	3	3	27	489,5	516,5
2.	6	3	54	489,5	543,5
3.	3	6	27	979,2	1006,2
4.	12	6	108	978,4	1086,4
5.	12	9	107	1468	1575

C. Kajian Pembahasan Eksperimen Analisis Loop

Berdasarkan hasil pengamatan di atas, maka dapat diketahui bahwa dengan menggunakan sumber tegangan 3 volt dan 3 volt serta resistor dengan nilai hambatan masing-masing 56 Ω , 100 Ω , 220 Ω , 270 Ω , 1 k Ω , 4,7 k Ω , 10 k Ω , dan 100 k Ω , maka diperoleh kuat arus I_1 , I_2 , dan I_3 masing-masing 26.10⁻⁶ A, 496,5.10⁻⁶ A, dan 522.10⁻⁶ A. Sementara berdasarkan hasil analisis data diperoleh I_1 , I_2 , dan I_3 masing-masing 27.10⁻⁶ A, 489,5.10⁻⁶ A, dan 516,5. 10⁻⁶ A. Jika sumber tegangan 6 volt dan 3 volt serta resistor dengan nilai hambatan masing-masing 56 Ω , 100 Ω , 220 Ω , 270 Ω , 1 k Ω , 4,7 k Ω , 10 k Ω , dan 100 k Ω , maka diperoleh kuat arus I_1 , I_2 , dan I_3 masing-masing 26.10⁻⁶A, 496. 10⁻⁶ A, dan 552. 10⁻⁶ A. Sementara berdasarkan hasil analisis data diperoleh I_1 , I_2 , dan I_3 masing-masing 54. 10⁻⁶ A, 489,2. 10⁻⁶ A, dan 543,2. 10⁻⁶ A. Hal ini bahwa nilai kuat arus yang diperoleh dari hasil pengamatan tidak sama dengan nilai kuat arus yang diperoleh melalui hasil perhitungan. Hal ini disebabkan karena terjadinya beberapa kesalahan pada saat melakukan pengamatan, di antaranya kurang telitinya pengamat dalam membaca hasil pengukuran yang ditunjukkan oleh alat ukur.

Nilai kuat arus I_3 yang terukur sudah sesuai dengan teori hukum I Kirchoff tentang hukum "Titik Percabangan". Hal ini ditunjukkan dengan nilai I_3 yang tidak lain merupakan jumlah antara I_1 dengan I_2 . Hal ini disebabkan karena I_1 dan I_2 mempunyai arah menuju titik percabangan, sedangkan arah I_3 keluar dari titik percabangan.

Dari hasil pengamatan, dapat juga diketahui bahwa semakin besar nilai tegangan sumber yang diberikan pada salah satu Loop maka semakin besar pula nilai kuat arus listrik yang mengalir dengan nilai hambatan total yang konstan. Begitu pula sebaliknya, semakin kecil nilai sumber tegangan yang diberikan maka kuat arus yang mengalir juga semakin kecil dengan nilai hambatan total yang konstan. Hal ini menunjukkan bahwa tegangan berbanding lurus dengan kuat arus listrik.

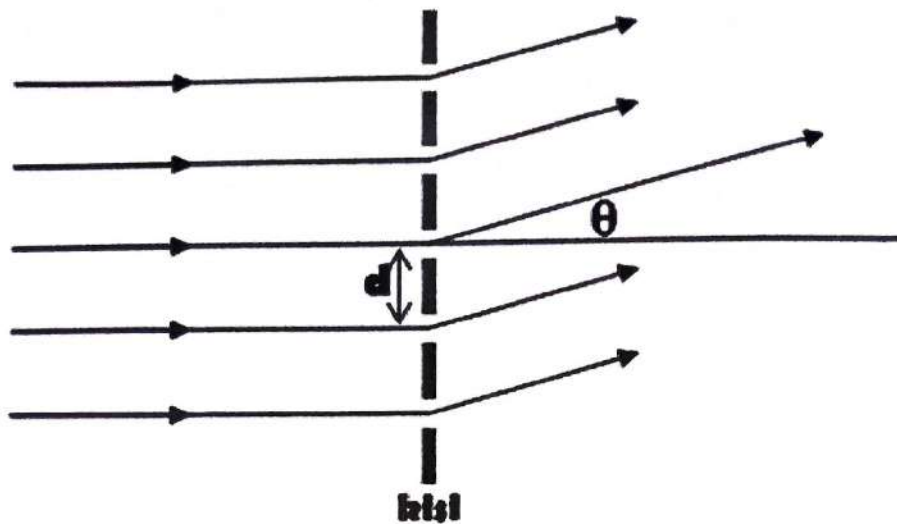
Hasil pengamatan juga menunjukkan bahwa nilai hambatan total pada Loop 1 lebih besar daripada nilai hambatan total pada Loop 2 yaitu masing-masing sebesar 110.590Ω dan 6.126Ω . Dengan nilai sumber tegangan yang sama, ternyata kuat arus yang mengalir pada Loop 1 lebih kecil daripada kuat arus yang mengalir pada Loop 2, dan begitu pula sebaliknya. Hal ini membuktikan bahwa hambatan berbanding terbalik dengan besarnya kuat arus yang mengalir pada rangkaian. Hal ini sesuai dengan hukum Ohm.

Eksperimen Difraksi Fraunhofer dengan Sinar Laser

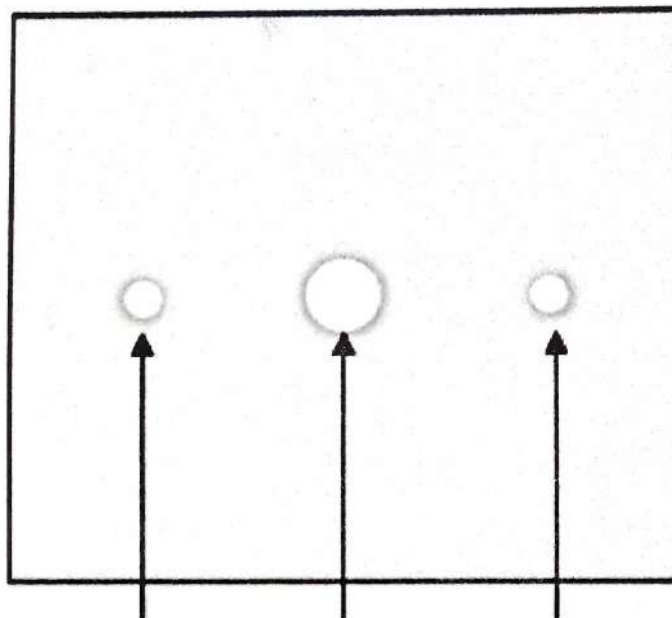
A. Pendahuluan

Kisi difraksi dapat digunakan untuk menentukan panjang gelombang sebuah sumber cahaya. Kisi difraksi merupakan lapisan tipis yang terdiri dari banyak sekali celah yang dibuat dengan alat potong yang sangat teliti, sehingga jika dilihat dengan mata biasa, celah-celah yang sangat banyak tersebut tidak akan terlihat. Celah-celah pada kisi tersebut memiliki jarak yang sama satu sama lain dan jumlah dari celah (*grating*) biasanya sangat banyak mencapai 1.000 hingga 10.000 per milimeternya. Artinya dalam 1 mm terdapat celah sejumlah 1.000 hingga 10.000 buah.

Jika sebuah berkas cahaya atau sinar melalui celah kecil pada kisi maka akan terjadi difraksi. Sumber-sumber difraksi tersebut akan saling berinterferensi satu sama lain sehingga menimbulkan pola interferensi pada layar tersebut dengan gambar sebagai berikut.



(a)



(b)

Gambar 11.1 (a) dan (b) Merupakan Pola Interferensi dari Kisi Celah

Pola interferensi akan mengikuti persamaan (1). Dalam percobaan ini digunakan orde $m = 1$. Dari persamaan ini kita dapat menentukan panjang gelombang dari sinar laser jika sudut antara posisi frinji dengan garis sinar laser (θ) dan lebar celah d .

B. Eksperimen dan Perangkat-perangkatnya

1. Tujuan Eksperimen

- Menentukan lebar celah (b) dari sebuah kisi persegi panjang dengan sinar laser He-Ne.
- Menentukan jarak antara celah (d) dan lebar celah (b) pada celah ganda.
- Menentukan panjang gelombang cahaya sinar laser berdasarkan peristiwa difraksi oleh kisi difraksi.
- Menentukan diameter sebuah celah lingkaran.

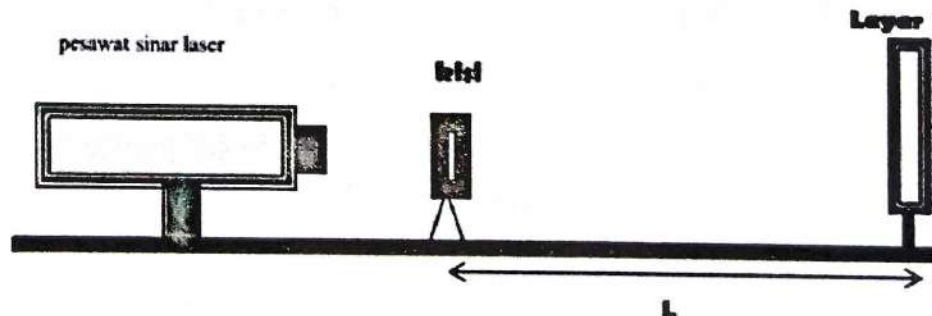
2. Alat dan Bahan

- Sumber cahaya laser, Dia-Ne 1.0 mW, 230 VAC.
- Kisi difraksi 1.000 garis permilimeter dengan celah tunggal, ganda dan celah lingkaran (jika ada).
- Mistar geser (jangka sorong).
- Layar.
- Kertas grafik mm.

3. Prosedur Eksperimen

Pengukuran Celah Tunggal

- Letakkan celah tunggal di depan sumber laser He-Ne.



- Nyalakan laser He-Ne dengan amati pola difraksi pada layar seperti pada Gambar 11.1 b.
- Catat jarak antara celah kisi dan layar (L).

- d. Catatlah jarak pisah pusat terang ke terang orde 1, 2, dan 3 dengan menggunakan mistar geser.
- e. Ulangi percobaan untuk kondisi yang berbeda yakni jarak antarcelah dan layar diubah (usahakan lima kali).
- f. Gunakan persamaan (1) untuk menentukan lebar celah.

$$n\lambda = d \sin \theta \quad (11.1)$$

Keterangan:

λ = Panjang gelombang sinar laser

θ = Sudut antara posisi frinji dengan garis sinar laser

Pengukuran Celah Ganda

- a. Seperti halnya dengan Kegiatan I, tetapi di sini digunakan celah ganda.
- b. Catat jarak pisah terang pusat terang ke terang orde 1, 2, dan 3.
- c. Ulangi percobaan dengan kondisi jarak celah yang berbeda (5 kali).
- d. Tentukan jarak pisah antara celah (d) dengan mengambil kenyataan bahwa pola interferensi maksimum terjadi untuk:

$$V = \frac{U}{q} \text{ atau } \pi d \sin \theta = m\lambda, m \neq 0$$

- e. Tentukan lebar celah (b) dengan mengambil pola difraksi nol.

$$n\lambda = b \sin \theta, \quad n \neq 0$$

Pengukuran Celah Banyak (*Difractions Grating*)

- a. Ambil posisi mistar (jangka sorong) dan laser He-Ne.
- b. Gunakan skala mm pada mistar baja (jangka sorong) untuk mengamati pola difraksi pada layer.
- c. Catatlah pola frinji sebanyak mungkin (minimal sampai orde 5).
- d. Hitunglah panjang gelombang sinar laser He-Ne dengan rumus:

$$\lambda(m) = \frac{\left[\frac{d}{2D^2} \right] [y_m^2 - y_0^2]}{m}$$

Keterangan:

m = orde ke ...

d = 1 mm

Pengukuran Celah Lingkaran

- Letakkan celah lingkaran di depan sinar laser He-Ne.
- Amati pola difraksi pada layar berupa frinji lingkaran.
- Ukurlah jarak antara celah dengan layar (L) dan jarak antara titik tegak pola difraksi dengan frinji pertama (y).
- Ulangi percobaan pada kondisi jarak (L) yang berbeda-beda.
- Hitunglah diameter celah dengan menggunakan persamaan:

$$\theta = \sin \theta = \frac{1,22 \lambda}{2 R} = \frac{1,22 \lambda}{D}$$

dengan D = Diameter celah.

C. Hasil Pengamatan dan Teknik Analisis Data Difraksi Fraunhofer

1. Celah Tunggal

Hasil Pengamatan:

No.	Jarak Celah ke Layar (cm)	Orde	Jarak Terang Pusat ke Orde n (cm)
1.	380	1	1,60
		2	2,35
		3	3,85
2.	400	1	1,25
		2	2,05
		3	2,90
3	420	1	1,30
		2	2,15
		3	3,10

Analisis:

Dengan menerapkan persamaan berikut, diperoleh:

$$b = \frac{n \cdot \lambda}{\sin \theta} = \frac{n \cdot \lambda}{y/l}$$

$$b_{11} = \frac{1 \cdot (6,328 \cdot 10^{-3}) \cdot 380}{1,65} = 1,50 \cdot 10^{-2} \text{ cm}$$

Dengan menggunakan cara yang sama maka diperoleh:

b_{12}	$2,05 \times 10^{-2} \text{ cm}$
b_{13}	$1,87 \times 10^{-2} \text{ cm}$
b_{21}	$2,02 \times 10^{-2} \text{ cm}$
b_{22}	$2,45 \times 10^{-2} \text{ cm}$
b_{23}	$2,61 \times 10^{-2} \text{ cm}$
b_{31}	$2,04 \times 10^{-2} \text{ cm}$
b_{32}	$2,47 \times 10^{-2} \text{ cm}$
b_{33}	$2,57 \times 10^{-2} \text{ cm}$

$$\bar{b} = 2,17 \cdot 10^{-2} \text{ cm}$$

2. Celah Ganda

Hasil Pengamatan:

No.	Jarak Celah ke Layar (cm)	Orde	Jarak Terang Pusat ke Orde n (cm)
1.	380	1	1,75
		2	3,10
		3	4,30
2.	400	1	1,85
		2	3,05
		3	4,25
3.	420	1	1,90
		2	3,20
		3	4,35

Analisis:

$$d = \frac{m\lambda}{n \cdot \frac{y}{l}}$$

Dengan menggunakan persamaan di atas:

$$d = \frac{1 \cdot (6,328 \cdot 10^{-3}) \cdot 380}{1,14 \cdot 1,75} = \frac{2404,64 \cdot 10^{-5}}{5,495} = 4,38 \cdot 10^{-3} \text{ cm}$$

Dengan cara yang sama maka diperoleh:

d_{12}	$4,94 \times 10^{-3} \text{ cm}$
d_{13}	$5,34 \times 10^{-3} \text{ cm}$
d_{21}	$4,36 \times 10^{-3} \text{ cm}$
d_{22}	$5,29 \times 10^{-3} \text{ cm}$
d_{23}	$5,69 \times 10^{-3} \text{ cm}$
d_{31}	$4,45 \times 10^{-3} \text{ cm}$
d_{32}	$5,29 \times 10^{-3} \text{ cm}$
d_{33}	$5,84 \times 10^{-3} \text{ cm}$

Sehingga:

$$\bar{d} = 5,06 \cdot 10^{-3} \text{ cm}$$

Lebar celah:

$$b = \frac{n \cdot \lambda}{\sin \theta} = \frac{n \cdot \lambda}{\frac{y}{l}}$$

Dengan menerapkan persamaan di atas:

$$b = \frac{1 \cdot (6,328 \cdot 10^{-3}) \cdot 380}{1,75} = 1,37 \times 10^{-2} \text{ cm}$$

Dengan cara yang sama maka dapat diperoleh:

b_{12}	$1,55 \times 10^{-2} \text{ cm}$
b_{13}	$1,67 \times 10^{-2} \text{ cm}$
b_{21}	$1,37 \times 10^{-2} \text{ cm}$
b_{22}	$1,67 \times 10^{-2} \text{ cm}$
b_{23}	$1,79 \times 10^{-2} \text{ cm}$
b_{31}	$1,39 \times 10^{-2} \text{ cm}$
b_{32}	$1,66 \times 10^{-2} \text{ cm}$
b_{33}	$1,83 \times 10^{-2} \text{ cm}$

Sehingga:

$$\bar{b} = 1,59 \cdot 10^{-2} \text{ cm}$$

3. Celah Banyak

Hasil Pengamatan:

No.	Jarak Celah ke Layar (cm)	Orde	Jarak Terang Pusat ke Orde n (cm)
1.	380	1	2,75
		2	5,70
		3	9,10
2.	400	1	3,35
		2	6,50
		3	10,0
3.	420	1	5,10
		2	9,20
		3	12,90

Analisis:

Panjang gelombang sinar laser He-Ne:

$$\lambda(m) = \left(\frac{d}{2D^2} \right) \left(\frac{y_m^2 - y_2^2}{m} \right)$$

Dengan menerapkan rumus di atas:

$$\lambda(1)1 = \frac{0,1}{2(380)^3} \left(\frac{2,75^2 - 0}{1} \right) = 2,62 \cdot 10^{-6}$$

Dengan menggunakan cara yang sama diperoleh:

λ_{12}	$1,55 \times 10^{-2} \text{ cm}$
λ_{13}	$1,67 \times 10^{-2} \text{ cm}$
λ_{21}	$1,37 \times 10^{-2} \text{ cm}$
λ_{22}	$1,67 \times 10^{-2} \text{ cm}$
λ_{23}	$1,79 \times 10^{-2} \text{ cm}$
λ_{31}	$1,39 \times 10^{-2} \text{ cm}$
λ_{32}	$1,66 \times 10^{-2} \text{ cm}$
λ_{33}	$1,83 \times 10^{-2} \text{ cm}$

Sehingga:

$$\bar{\lambda} = 4,01 \times 10^{-6} \text{ cm}$$

4. Celah Lingkaran

Hasil Pengamatan:

No.	Jarak Celah ke Layar (cm)	Orde	Jarak Terang Pusat ke Orde n (cm)
1.	380	1	0,90
		2	1,40
		3	2,00
2.	400	1	0,90
		2	1,05
		3	2,10
3.	420	1	0,95
		2	1,65
		3	2,15

Analisis:

$$D = \frac{1,22 \lambda}{\sin \theta}$$

$$d = \frac{1,22 \lambda}{y/l}$$

Dengan menggunakan persamaan di atas dapat diperoleh:

$$D_{11} = \frac{1,22 (6,328 \cdot 10^{-5}) 380}{0,90} = 3,26 \cdot 10^{-2} \text{ cm}$$

Dengan cara yang sama:

D_{12}	$2,09 \times 10^{-2} \text{ cm}$
D_{13}	$1,47 \times 10^{-2} \text{ cm}$
D_{21}	$3,43 \times 10^{-2} \text{ cm}$
D_{22}	$2,94 \times 10^{-2} \text{ cm}$
D_{23}	$1,47 \times 10^{-2} \text{ cm}$
D_{31}	$3,41 \times 10^{-2} \text{ cm}$
D_{32}	$1,97 \times 10^{-2} \text{ cm}$
D_{33}	$1,51 \times 10^{-2} \text{ cm}$

Diameter rata-rata:

$$\bar{D} = \frac{(3,29+2,09+1,47+3,43+2,94+1,47+3,41+1,97+1,51)10^{-2}}{9}$$

$$\bar{D} = 2,39 \cdot 10^{-2} \text{ cm}$$

Rambat Ralat

a. Celah Tunggal

Rambat ralat dari

$$b = \frac{n \cdot \lambda}{y/l}$$

$$b = \frac{n \cdot \lambda}{y/l}, n \text{ dan } \lambda = \text{tetap}$$

$$b = ly^{-1}$$

$$\Delta b = \left| \frac{\partial b}{\partial l} \Delta l \right| + \left| \frac{\partial b}{\partial y^{-1}} \Delta y \right|$$

$$\Delta b = |y^{-1} \Delta l| + |ly^{-2} \Delta y|$$

$$\frac{\Delta b}{b} = \left| \frac{y^{-1} \Delta l}{ly^{-1}} \right| + \left| \frac{ly^{-2} \Delta y}{ly^{-1}} \right|$$

$$\frac{\Delta b}{b} = \left| \frac{\Delta l}{l} \right| + \left| \frac{\Delta y}{y} \right|$$

$$\Delta b = \left| \frac{\Delta l}{l} \right| + \left| \frac{\Delta y}{y} \right| b$$

b. Celah Banyak

$$\text{Rambat ralat dari } \lambda(m) = \left(\frac{d}{2D^2} \right) \left(\frac{y_m^2 - y_0^2}{m} \right)$$

dengan m dan 2 konstan, berarti:

$$\lambda = (dD^{-2})(y_m^2 - y_0^2) \text{ Misal } y_m^2 - y_0^2 = x$$

$$\lambda = dD^{-2}x$$

$$\Delta \lambda = \left| \frac{\partial \lambda}{\partial d} \Delta d \right| + \left| \frac{\partial \lambda}{\partial D} \Delta D \right| + \left| \frac{\partial \lambda}{\partial x} \Delta x \right|$$

$$\Delta \lambda = \left| \frac{\partial dD^{-2}x}{\partial d} \Delta d \right| + \left| \frac{\partial dD^{-2}x}{\partial D} \Delta D \right| + \left| \frac{\partial dD^{-2}x}{\partial x} \Delta x \right|$$

$$\begin{aligned} \Delta\lambda &= |D^{-2}x\Delta d| + |2dD^{-3}x\Delta D| + |D^{-2}x\Delta x| \\ \frac{\Delta\lambda}{\lambda} &= \left| \frac{D^{-2}x\Delta d}{dD^{-2}x} \right| + \left| \frac{2dD^{-3}x\Delta D}{dD^{-2}x} \right| + \left| \frac{D^{-2}x\Delta x}{dD^{-2}x} \right| \\ \frac{\Delta\lambda}{\lambda} &= \left| \frac{\Delta d}{d} \right| + \left| \frac{2\Delta D}{D} \right| + \left| \frac{\Delta x}{x} \right| \\ \Delta x &= \left| \frac{\partial x}{\partial y_m} \Delta y_m \right| + \left| \frac{\partial x}{\partial y_0} \Delta y_0 \right| \\ \Delta x &= |2y_m \Delta y_m| + |2y_0 \Delta y_0| \\ \frac{\Delta x}{x} &= \left| \frac{2y_m \Delta y_m}{y_m^2 - y_0^2} \right| + \left| \frac{2y_0 \Delta y_0}{y_m^2 - y_0^2} \right| \\ \frac{\Delta\lambda}{\lambda} &= \left| \frac{\Delta d}{d} \right| + \left| \frac{2\Delta D}{D} \right| + \left| \frac{2y_m \Delta y_m + 2y_0 \Delta y_0}{y_m^2 - y_0^2} \right| \\ \Delta\lambda &= \left| \frac{\Delta d}{d} \right| + \left| \frac{2\Delta D}{D} \right| + \left| \frac{2y_m \Delta y_m + 2y_0 \Delta y_0}{y_m^2 - y_0^2} \right| \lambda \end{aligned}$$

c. Celah Banyak

Rambat ralat dari:

$$D = \frac{1,22 \lambda}{y/l}, 1,22 \text{ dan } \lambda \text{ adalah tetap}$$

$$D = ly^{-1}$$

$$\Delta D = \left| \frac{\Delta D}{\Delta l} \Delta l \right| + \left| \frac{\Delta D}{\Delta y^{-1}} \Delta y^{-1} \right|$$

$$\Delta D = |y^{-1} \Delta l| + |ly^{-2} \Delta y|$$

$$\frac{\Delta D}{D} = \left| \frac{y^{-1} \Delta l}{ly^{-1}} \right| + \left| \frac{ly^{-2} \Delta y}{ly^{-1}} \right|$$

$$\frac{\Delta D}{D} = \left| \frac{\Delta l}{l} \right| + \left| \frac{\Delta y}{y} \right|$$

$$\Delta D = \left\{ \left| \frac{\Delta l}{l} \right| + \left| \frac{\Delta y}{y} \right| \right\} D$$

Menghitung Rambat Ralat

a. Celah Tunggal

$$\Delta l = 0,05 \text{ cm}$$

$$\Delta y = 0,05 \text{ cm}$$

$$\Delta b_{11} = \left| \frac{\Delta l}{l} \right| + \left| \frac{\Delta y}{y} \right| b$$

$$\Delta b_{11} = \left\{ \frac{0,05}{380} + \frac{0,05}{1,65} \right\} 1,50 \cdot 10^{-2} = 4,83 \cdot 10^{-4} \text{ cm}$$

$$\frac{\Delta b_{11}}{b_{11}} = \frac{4,83 \cdot 10^{-4}}{1,50 \cdot 10^{-2}} \times 100 \% = 3,22 \%$$

Dengan cara yang sama dapat diperoleh:

Δb_{12}	$4,42 \cdot 10^{-4}$	2,16%
Δb_{13}	$2,45 \cdot 10^{-4}$	1,31%
Δb_{21}	$8,10 \cdot 10^{-4}$	4,01%
Δb_{22}	$6,06 \cdot 10^{-4}$	2,45%
Δb_{23}	$4,53 \cdot 10^{-4}$	1,74%
Δb_{31}	$7,87 \cdot 10^{-4}$	3,86%
Δb_{32}	$5,77 \cdot 10^{-4}$	2,34%
Δb_{33}	$4,18 \cdot 10^{-4}$	1,63%
$\Delta b_{\text{rata-rata}}$	$5,36 \cdot 10^{-4}$	

b. Celah Ganda

Jarak antarcelah:

$$\Delta d_{11} = \left| \frac{\Delta l}{l} \right| + \left| \frac{\Delta y}{y} \right| d$$

$$\Delta d_{11} = \left\{ \left| \frac{0,05}{380} \right| + \left| \frac{0,05}{1,75} \right| \right\} 4,38 \cdot 10^{-3} = 1,26 \cdot 10^{-5}$$

$$\frac{\Delta d_{11}}{d_{11}} = \frac{1,26 \cdot 10^{-5}}{4,38 \cdot 10^{-3}} \times 100 \% = 2,88 \%$$

Dengan cara yang sama dapat diperoleh:

Δd_{12}	$8,03 \cdot 10^{-5}$	1,63%
Δd_{13}	$6,28 \cdot 10^{-5}$	1,18%
Δd_{21}	$1,18 \cdot 10^{-4}$	2,71%
Δd_{22}	$8,74 \cdot 10^{-5}$	1,65%
Δd_{23}	$6,77 \cdot 10^{-5}$	1,19%
Δd_{31}	$1,18 \cdot 10^{-4}$	2,65%
Δd_{32}	$8,33 \cdot 10^{-5}$	1,57%
Δd_{33}	$6,78 \cdot 10^{-5}$	1,16%
$\Delta d_{\text{rata-rata}}$	$5,16 \cdot 10^{-5}$	

Lebar celah:

$$\Delta b_{11} = \left| \frac{\Delta l}{l} \right| + \left| \frac{\Delta y}{y} \right| b$$

$$\Delta b_{11} = \left\{ \left| \frac{0,05}{380} \right| + \left| \frac{0,05}{1,75} \right| \right\} 1,37 \cdot 10^{-2} = 3,93 \cdot 10^{-4} \text{ cm}$$

$$\frac{\Delta b_{11}}{b_{11}} = \frac{3,93 \cdot 10^{-4}}{1,37 \cdot 10^{-2}} \times 100 \% = 1,63 \%$$

Dengan cara yang sama dapat diperoleh:

Δb_{12}	$2,52 \cdot 10^{-4}$	1,63%
Δb_{13}	$1,96 \cdot 10^{-4}$	1,17%
Δb_{21}	$3,72 \cdot 10^{-4}$	2,72%
Δb_{22}	$2,76 \cdot 10^{-4}$	1,65%
Δb_{23}	$2,13 \cdot 10^{-4}$	1,19%
Δb_{31}	$3,67 \cdot 10^{-4}$	2,64%
Δb_{32}	$2,61 \cdot 10^{-4}$	1,57%
Δb_{33}	$2,13 \cdot 10^{-4}$	1,16%
$\Delta b_{\text{rata-rata}}$	$2,83 \cdot 10^{-4}$	

c. Celah Lingkaran

$$\Delta D = \left\{ \left| \frac{\Delta l}{l} \right| + \left| \frac{\Delta y}{y} \right| \right\} D$$

$$\Delta D_{11} = \left\{ \left| \frac{\Delta l}{l} \right| + \left| \frac{\Delta y}{y} \right| \right\} D$$

$$\Delta D_{11} = \left\{ \left| \frac{0,05}{380} \right| + \left| \frac{0,05}{0,90} \right| \right\} 3,26 \cdot 10^{-2}$$

$$\Delta D_{11} = 1,82 \cdot 10^{-3} \text{ cm}$$

$$\frac{\Delta D_{11}}{D_{11}} = \frac{1,82 \cdot 10^{-3}}{3,26 \cdot 10^{-2}} \times 100 \% = 5,58 \%$$

Dengan cara yang sama dapat diperoleh:

ΔD_{12}	$7,49 \cdot 10^{-4}$	3,58%
ΔD_{13}	$3,69 \cdot 10^{-4}$	5,42%
ΔD_{21}	$5,57 \cdot 10^{-4}$	1,62%
ΔD_{22}	$1,40 \cdot 10^{-3}$	4,76%
ΔD_{23}	$3,52 \cdot 10^{-4}$	2,39%
ΔD_{31}	$1,79 \cdot 10^{-3}$	5,25%
ΔD_{32}	$5,99 \cdot 10^{-4}$	3,04%
ΔD_{33}	$3,53 \cdot 10^{-4}$	2,34%
$\Delta D_{\text{rata-rata}}$	$3,37 \cdot 10^{-4}$	

d. Celah Banyak

$$\Delta d = \frac{1}{10} 0,01 = 0,001 \text{ cm}$$

$$\Delta y = 0,05 \text{ cm}$$

$$\Delta \lambda = \left| \frac{\Delta d}{d} \right| + \left| \frac{2 \Delta D}{D} \right| + \left| \frac{2 y_m \Delta y_m + 2 y_0 \Delta y_0}{y_m^2 - y_0^2} \right| \lambda$$

$$\Delta \lambda_{(1)1} = \left\{ \left| \frac{0,001}{0,01} \right| + \left| \frac{2 \cdot 0,05}{380} \right| + \left| \frac{2(2,75) \cdot 0,05 + 2 \cdot (0) \cdot 0,05}{(2,75)^2 - 0^2} \right| \right\} 2,62 \cdot 10^{-6}$$

$$\frac{\Delta \lambda_{(1)1}}{\lambda_{(1)1}} = \frac{1,2 \cdot 10^{-7}}{2,62 \cdot 10^{-6}} \times 100 \% = 4,58 \%$$

$\Delta\lambda_{(1)2}$	$1,49 \cdot 10^{-7}$	2,83%
$\Delta\lambda_{(1)3}$	$2,03 \cdot 10^{-7}$	2,13%
$\Delta\lambda_{(2)1}$	$1,37 \cdot 10^{-7}$	3,91%
$\Delta\lambda_{(2)2}$	$1,66 \cdot 10^{-7}$	2,52%
$\Delta\lambda_{(2)3}$	$2,11 \cdot 10^{-7}$	2,03%
$\Delta\lambda_{(3)1}$	$1,54 \cdot 10^{-7}$	2,09%
$\Delta\lambda_{(3)2}$	$4,84 \cdot 10^{-7}$	2,03%
$\Delta\lambda_{(3)3}$	$8,12 \cdot 10^{-7}$	1,72%
$\Delta\lambda_{\text{rata-rata}}$	$2,71 \cdot 10^{-7}$	

Penulisan Hasil Eksperimen

1. Celah Tunggal
 $b = (2,17 \pm 0,05) \cdot 10^{-2} \text{ cm}$
2. Celah Ganda
 $d = (5,06 \pm 0,05) \cdot 10^{-3} \text{ cm}$
3. Celah Banyak
 $\lambda = (4,01 \cdot 10^{-6} \pm 2,71 \cdot 10^{-7}) \text{ cm}$
4. Celah Lingkaran
 $D = (2,39 \cdot 10^{-2} \pm 3,37 \cdot 10^{-4}) \text{ cm}$

D. Tugas Eksperimen

1. Apa yang dimaksud dengan gejala difraksi gelombang?
2. Tuliskan perbedaan antara difraksi Fresnel dengan difraksi Fraunhofer!
3. Perhatikan persamaan (11.2), (11.3), (11.4), dan (11.5). Jelaskan secara fisis persamaan tersebut!
4. Jelaskan perbedaan antara interferensi konstruktif dengan interferensi destruktif!
5. Berapa panjang gelombang sinar laser He-Ne?

12

Eksperimen Optik: Jarak Fokus Lensa

A. Hasil Pengamatan Eksperimen

Lensa Positif

No.	Jarak Benda (d_o), cm	Jarak Bayangan (d_i), cm	$1/d_o$ (cm^{-1})	$1/d_i$ (cm^{-1})
1.	28,70	71,30	0,0348	0,0140
2.	29,30	65,70	0,0341	0,0152
3.	30,10	59,90	0,0332	0,0166
4.	32,00	53,00	0,0312	0,0188
5.	36,80	45,20	0,0271	0,0221
6.	39,50	40,50	0,0253	0,0245

Lensa Negatif

No.	Jarak Benda (d_o), cm	Jarak Bayangan (d_i), cm	$1/d_o$ (cm^{-1})	$1/d_i$ (cm^{-1})
1.	80,30	19,70	0,0124	0,0507
2.	78,80	16,20	0,0126	0,0617
3.	77,20	15,80	0,0129	0,0632
4.	76,40	13,60	0,0130	0,0735
5.	76,00	11,00	0,0131	0,0909
6.	75,80	9,20	0,0132	0,1086

B. Teknik Analisis Data

Menghitung Jarak Fokus Lensa

Lensa Positif

a. Dengan Rumus

$$\frac{1}{f} = \frac{1}{d_o} + \frac{1}{d_i}$$

Atau

$$f = \frac{d_o d_i}{d_o + d_i}$$

$$f_1 = \frac{(20,70)(71,30)}{20,70 + 71,30}$$

$$f_1 = \frac{2046,31}{100} = 20,4631 \text{ cm}$$

Dengan cara yang sama diperoleh hasil analisis perhitungan jarak fokus lensa positif:

No.	Jarak Benda (d_o), cm	Jarak Bayangan (d_i), cm	Jarak Fokus Lensa Positif (cm)
1.	28,70	71,30	20,4631
2.	29,30	65,70	20,2632
3.	30,10	59,90	20,0332
4.	32,00	53,00	19,9529
5.	36,80	45,20	20,2848
6.	39,50	40,50	19,9973

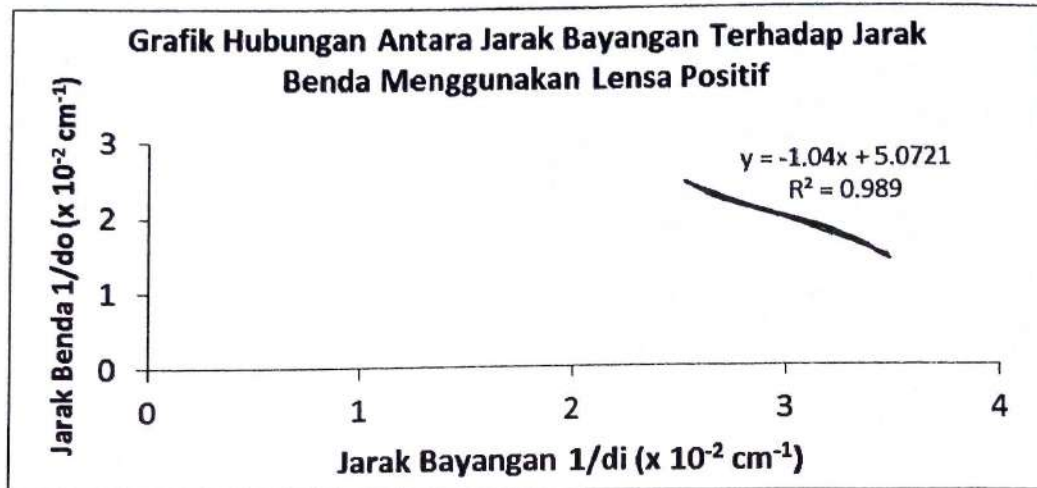
Rata-rata jarak fokus lensa positif yaitu:

$$\bar{f} = \frac{f_1 + f_2 + f_3 + f_4 + f_5 + f_6}{6}$$

$$\bar{f} = \frac{20,4631 + 20,2632 + 20,0332 + 19,9529 + 20,2848 + 19,9973}{6}$$

$$\bar{f} = 20,1657 \text{ cm}$$

b. Dengan Grafik



Lensa Negatif

a. Dengan Rumus

$$\frac{1}{f} = \frac{1}{d_o} + \frac{1}{d_i}$$

Atau

$$f = \frac{d_o d_i}{d_o + d_i}$$

$$f_1 = \frac{(80,30)(19,70)}{80,30 + 19,70}$$

$$f_1 = \frac{1581,91}{100} = 15,8191 \text{ cm}$$

Dengan cara yang sama diperoleh hasil analisis perhitungan jarak fokus lensa negatif:

No.	Jarak Benda (d_o), cm	Jarak Bayangan (d_i), cm	Jarak Fokus Lensa Negatif (cm)
1.	28,70	71,30	15,8191
2.	29,30	65,70	13,4374
3.	30,10	59,90	13,1156
4.	32,00	53,00	11,5448
5.	36,80	45,20	9,6091
6.	39,50	40,50	8,2042

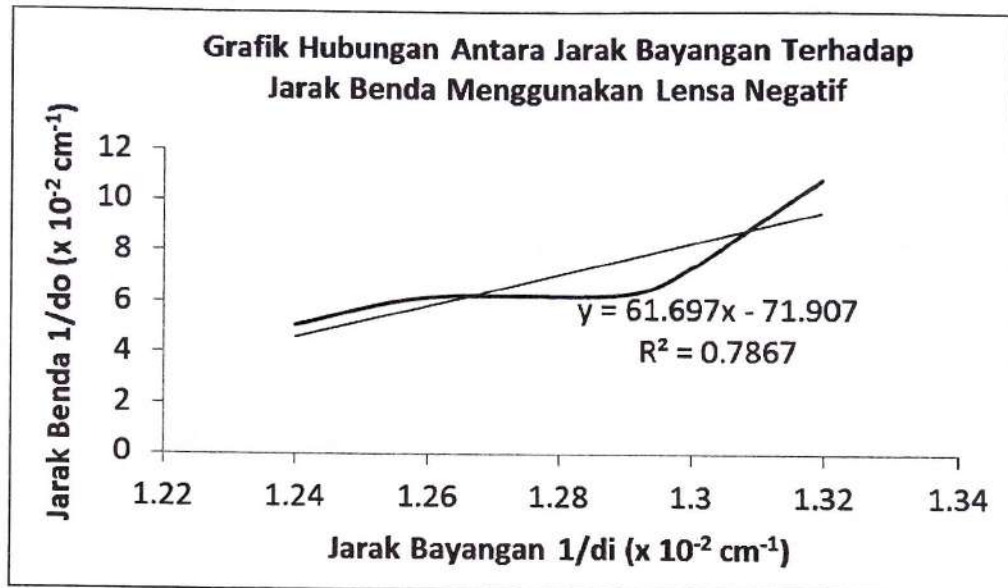
Rata-rata jarak fokus lensa negatif yaitu:

$$\bar{f} = \frac{f_1 + f_2 + f_3 + f_4 + f_5 + f_6}{6}$$

$$\bar{f} = \frac{15,8191 + 13,4374 + 13,1156 + 11,5448 + 9,6091 + 8,2042}{6}$$

$$\bar{f} = 11,9550 \text{ cm}$$

b. Dengan Grafik



C. Rambat Ralat

Lensa positif dari persamaan

$$\frac{1}{f} = \frac{1}{d_0} + \frac{1}{d_i}, \quad d_0 + d_i = x$$

$$\frac{d_0 d_i}{x} = d_0 d_i = x^{-1}$$

$$\Delta f = \left| \frac{\partial f}{\partial d} \Delta d_0 \right| + \left| \frac{\partial f}{\partial d_i} \Delta d_i \right| + \left| \frac{\partial f}{\partial x^{-1}} \Delta x \right|$$

$$\Delta f = \left| d_i x^{-1} \Delta d_0 \right| + \left| d_0 x^{-1} \Delta d_i \right| + \left| d_0 d_i x^{-2} \Delta x \right|$$

$$\frac{\Delta f}{f} = \left| \frac{d_i x^{-1} \Delta d_0}{d_i x^{-1} d_0} \right| + \left| \frac{d_0 x^{-1} \Delta d_i}{d_i x^{-1} d_0} \right| + \left| \frac{d_0 d_i x^{-2} \Delta x}{d_i x^{-1} d_0} \right|$$

$$\frac{\Delta f}{f} = \left| \frac{\Delta d_0}{d_0} \right| + \left| \frac{\Delta d_i}{d_i} \right| + \left| \frac{\Delta x}{x} \right| \dots\dots(1)$$

$$d_0 + d_i = x$$

$$\Delta x = \left| \frac{\partial x}{\partial d_0} \Delta d_0 \right| + \left| \frac{\partial x}{\partial d_i} \Delta d_i \right|$$

$$\Delta x = |\Delta d_0| + |\Delta d_i|$$

$$\frac{\Delta x}{x} = \left| \frac{\Delta d_0}{d_0 + d_i} \right| + \left| \frac{\Delta d_i}{d_0 + d_i} \right|$$

$$\frac{\Delta x}{x} = \left| \frac{\Delta d_0 + \Delta d_i}{d_0 + d_i} \right| \dots\dots(2)$$

Sub 2 \Rightarrow 1

$$\frac{\Delta f}{f} = \left| \frac{\Delta d_0}{d_0} \right| + \left| \frac{\Delta d_i}{d_i} \right| + \left| \frac{\Delta d_0 + \Delta d_i}{d_0 + d_i} \right|$$

$$\Delta f = \left| \frac{\Delta d_0}{d_0} \right| + \left| \frac{\Delta d_i}{d_i} \right| + \left| \frac{\Delta d_0 + \Delta d_i}{d_0 + d_i} \right| f$$

D. Menghitung Rambat Ralat

$$\Delta f = \left| \frac{\Delta d_0}{d_0} \right| + \left| \frac{\Delta d_i}{d_i} \right| + \left| \frac{\Delta d_0 + \Delta d_i}{d_0 + d_i} \right| f$$

$$\Delta f_1 = \left\{ \left| \frac{0,05}{28,7} \right| + \left| \frac{0,05}{71,3} \right| + \left| \frac{0,05 + 0,05}{28,7 + 71,3} \right| \right\} 20,4631$$

$$\Delta f_1 = (0,0034) 20,4631 = 0,0695 \text{ cm}$$

$$\frac{\Delta f_1}{f_1} = \frac{0,0695}{20,4631} \times 100 \text{ o/o} = 0,34 \text{ o/o}$$

Dengan menggunakan metode yang sama, diperoleh:

	Lensa Positif	Lensa Negatif		Lensa Positif	Lensa Negatif
Δf_1			$\frac{\Delta f_1}{f_1}$	0,0648	0,40%
Δf_2	0,0688	0,34%	$\frac{\Delta f_2}{f_2}$	0,0618	0,46%
Δf_3	0,0681	0,34%	$\frac{\Delta f_3}{f_3}$	0,0616	0,46%
Δf_4	0,0678	0,34%	$\frac{\Delta f_4}{f_4}$	0,0600	0,52%
Δf_5	0,0689	0,34%	$\frac{\Delta f_5}{f_5}$	0,0586	0,60%
Δf_6	0,0679	0,34%	$\frac{\Delta f_6}{f_6}$	0,0574	0,69%
$\Delta \bar{f}$	0,0685	0,0627			

E. Penulisan Hasil Eksperimen

$$\bar{f} = (20,1657 \pm 0,0685) \text{ cm}$$

13

Eksperimen Tara Kalor Mekanik dengan Cara Listrik

A. Konsep Eksperimen

Berdasarkan hukum kekekalan energi menyatakan bahwa jika kalor hilang akibat pancaran dianggap tidak ada, maka semua kalor yang ditimbulkan oleh arus listrik diterima oleh kalorimeter beserta isinya. Kalor yang ditimbulkan oleh arus listrik diterima oleh kalorimeter dan air. Adapun kalor yang ditimbulkan oleh arus listrik adalah sebagai berikut.

$$J = \frac{V \cdot i \cdot t}{Q} \quad (13.1)$$

di mana $Q = m_1 \cdot c_k (T_2 - T_1) + (m_2 - m_1) c_2 (T_2 - T_1)$

Keterangan:

m_1 = Massa kalorimeter + pengaduk (gram)

m_2 = Massa kalorimeter + air (gram)

c_k = Kalor jenis kalorimeter (kalori/gram. $^{\circ}$ C)

c_2 = Kalor jenis air (kalori/gram. $^{\circ}$ C)

T_1 = Suhu mula-mula ($^{\circ}$ C)

T_2 = Suhu akhir ($^{\circ}$ C)

t = Lama arus mengalir melewati kawat hambatan (detik)

I = Kuat arus yang mengalir (A)

V = Beda potensial ujung kumparan (V)

B. Rancangan Eksperimen

1. Tujuan Percobaan

Adapun tujuan eksperimen ini diharapkan kepada terampil:

- a. Memahami bahwa hambatan yang dilalui arus listrik dapat menimbulkan energi listrik dengan menggunakan hukum Joule.
- b. Memperlihatkan perubahan energi listrik menjadi energi panas.
- c. Memperoleh besarnya tara kalor mekanik dengan cara listrik.

2. Alat dan Bahan

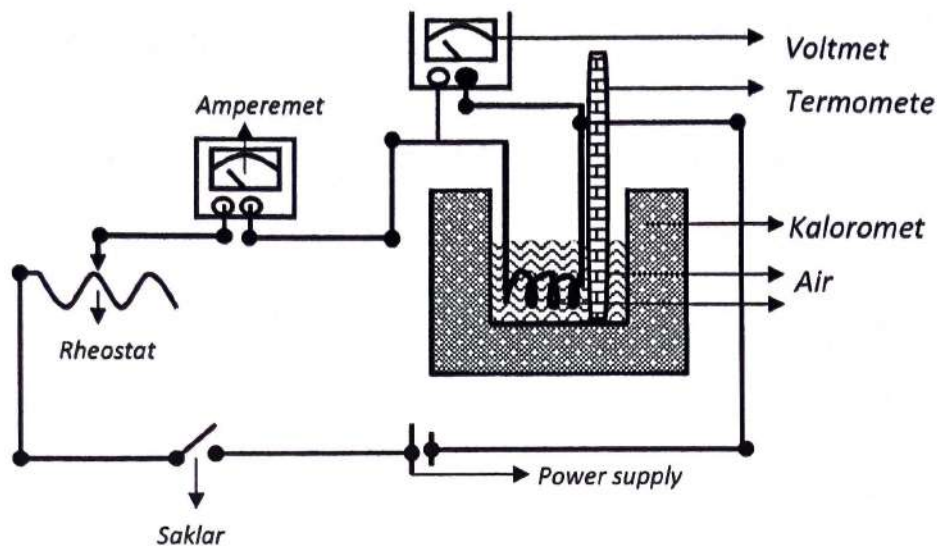
Dari tujuan eksperimen ini, maka yang perlu dipersiapkan dalam eksperimen ini adalah sebagai berikut.

- a. Kalorimeter joule + pengaduk + kawat hambatan.
- b. *Stopwatch* (0,1 detik).
- c. Termometer (0 – 100) °C.
- d. Amperemeter (0 – 5) A.
- e. Voltmeter (0 – 10) V.
- f. Hambatan geser (rheostat) 100 Ohm.
- g. Kabel penghubung ganda secukupnya.
- h. *Beaker Glass* 250 ml.
- i. Neraca ohaus 311 gram (0,01 gram).
- j. Sumber tegangan (*power supply*) 10 A, 12 V.

3. Prosedur Kerja

Setelah alat dan bahan telah tersedia semua, maka langkah selanjutnya adalah sebagai berikut.

- a. Timbang kalorimeter lengkap beserta pengaduknya dengan menggunakan neraca ohaus 311 gram (m_1).



Gambar 13.1 Rangkaian Percobaan Tara Kalor Mekanik dengan Cara Listrik

- b. Setelah langkah 1) sudah selesai maka isi kalorimeter lengkap + pengaduk dengan air sebanyak 75 ml kemudian timbang kembali dengan menggunakan neraca ohaus 311 gram (m_2).
- c. Susun rangkaian seperti pada Gambar 13.1 di atas.
- d. Jangan menghubungkan arus (menyalakan tombol saklar pada *power supply*) sebelum rangkaian diperiksa oleh pembimbing.
- e. Geser/atur rheostat sehingga arus mengalir ± 3 A, kemudian putuskan arus dengan segera.
- f. Aduk air dalam kalorimeter hingga suhu merata kemudian catat suhunya (T_1).
- g. Tekan tombol saklar *power supply* dan jalankan *stopwatch* secara bersamaan.
- h. Catat kuat arus dan tegangan antara ujung-ujung kumparan secara bersamaan.
- i. Biarkan suhu kalorimeter naik sebanyak $\pm 10^\circ$ C, di atas suhu mula-mula sambil mengaduk air dan kalorimeter.
- j. Putuskan saklar *power supply* dan hentikan *stopwatch* secara bersamaan jika suhunya telah mencapai 10° C.
- k. Catat waktu selama arus mengalir.

- 12) Ulangi percobaan sebanyak 3 kali untuk mendapat harga yang lebih teliti;
- 13) Catatlah seluruh hasil pengamatan Anda ke dalam tabel pengamatan yang telah tersedia.

C. Hasil Pengukuran dan Teknik Analisis Data

1. Hasil Pengukuran

Adapun tabel pengamatan untuk eksperimen “Tara Kalor Mekanik dengan Cara Listrik”.

Pengamatan pada	I	II	III
Massa kalorimeter + pengaduk (m_1)	105,46 gram	105,46 gram	105,46 gram
Massa kalorimeter + air (m_2)	156,76 gram	156,76 gram	156,76 gram
Suhu mula-mula (T_1)	32,0°C	29,0°C	29,0°C
Kuat arus yang mengalir (I)	1,0 A	1,0 A	1,0 A
Beda potensial ujung kumparan (V)	4,0 V	4,0 V	4,0 V
Suhu akhir (T_2)	37,0°C	34,0°C	34,0°C
Lama arus mengalir (t)	690,0 s	315,0 s	361,0 s

2. Analisis Data

Setelah anda melakukan eksperimen, maka langkah selanjutnya adalah bagaimana cara menganalisis perhitungan dalam laporan. Anda dapat melakukan cara analisis laporan sebagai berikut.

- a. Hitung massa air yang sebenarnya.
- b. Tentukan berapa kalor jenis pada kalorimeter dan kalor jenis air dalam satuan kalori/gram°C.
- c. Hitung besarnya energi listrik pada hambatan yang dialiri arus listrik selama t .
- d. Hitung besarnya kalor yang ditimbulkan oleh arus listrik.
- e. Hitung besarnya tara kalor mekanik dengan cara listrik.

- f. Hitung rata-rata besarnya tara kalor mekanik dengan cara listrik.
- g. Rambat ralatkan persamaan (13.1).
- h. Hitung rambat ralat berdasarkan data-data yang diperoleh.
- i. Tentukan berapa kesalahan mutlak, kesalahan relatif, derajat kepercayaan, dan pelaporan fisika-nya untuk percobaan tara kalor mekanik dengan cara listrik.
- j. Lakukan analisis sebanyak 3 kali dengan cara yang sama mulai dari langkah a sampai i.

Percobaan I

$$\text{Massa air } (m_2 - m_1) = (156,76 - 105,46) \text{ gram} = 51,3 \text{ gram}$$

$$C_k = 0,9 \text{ kalori/gram } ^\circ\text{C}$$

$$C_2 = 4,2 \text{ kalori/gram } ^\circ\text{C}$$

$$Vit = 4,0 \times 1,0 \times 690,0 = 2760 \text{ joule}$$

$$Q = 105,46 \times 0,9(37 - 32) + 51,3(4,2)(37 - 32)$$

$$Q = 474,57 + 1077,30 = 1551,87$$

$$j = \frac{Vit}{Q} = \frac{2760}{1551,87} = 1,78 \text{ J/kalori}$$

Percobaan II

$$\text{Massa air } (m_2 - m_1) = (156,76 - 105,46) \text{ gram} = 51,3 \text{ gram}$$

$$C_k = 0,9 \text{ kalori/gram } ^\circ\text{C}$$

$$C_2 = 4,2 \text{ kalori/gram } ^\circ\text{C}$$

$$Vit = 4,0 \times 1,0 \times 315 = 1260 \text{ joule}$$

$$Q = 1551,87 \text{ joule}$$

$$j = \frac{Vit}{Q} = \frac{1260}{1551,87} = 0,81 \text{ J/kalori}$$

Percobaan III

Massa air $(m_2 - m_1) = (156,76 - 105,46)$ gram = 51,3 gram

$$C_k = 0,9 \text{ kalori/gram } ^\circ\text{C}$$

$$C_2 = 4,2 \text{ kalori/gram } ^\circ\text{C}$$

$$Vit = 4,0 \times 1,0 \times 361 = 1444 \text{ joule}$$

$$Q = 1551,87 \text{ joule}$$

$$j = \frac{Vit}{Q} = \frac{1444}{1551,87} = 0,93 \text{ J/kalori}$$

$$\bar{j} = \frac{1,78 + 0,81 + 0,93}{3} = 1,17 \text{ J/kalori}$$

D. Analisis Rambat Ralat

Rambat ralat persamaan:

$$j = \frac{Vit}{m_1 c_k (t_2 - t_1) + (m_2 - m_1) c (t_2 - t_1)} \text{ adalah}$$

$$Q = \frac{Vit}{J} \Rightarrow J = \frac{Vit}{Q} = VitQ^{-1}$$

$$\Delta J = \left| \frac{\Delta J}{\Delta V} \Delta V \right| + \left| \frac{\Delta J}{\Delta I} \Delta I \right| + \left| \frac{\Delta J}{\Delta t} \Delta t \right| + \left| \frac{\Delta J}{\Delta Q} \Delta Q \right|$$

$$\Delta J = \left| \frac{\partial VitQ^{-1}}{\partial V} \Delta V \right| + \left| \frac{\partial VitQ^{-1}}{\partial I} \Delta I \right| + \left| \frac{\partial VitQ^{-1}}{\partial t} \Delta t \right| + \left| \frac{\partial VitQ^{-1}}{\partial Q^{-1}} \Delta Q \right|$$

$$\Delta J = \left| itQ^{-1} \Delta V \right| + \left| VitQ^{-1} \Delta I \right| + \left| iVQ^{-1} \Delta t \right| + \left| VitQ^{-2} \Delta Q \right|$$

$$\frac{\Delta J}{J} = \left| \frac{itQ^{-1} \Delta V}{VitQ^{-1}} \right| + \left| \frac{VitQ^{-1} \Delta I}{VitQ^{-1}} \right| + \left| \frac{iVQ^{-1} \Delta t}{VitQ^{-1}} \right| + \left| \frac{VitQ^{-2} \Delta Q}{VitQ^{-1}} \right|$$

$$\frac{\Delta J}{J} = \left\{ \left| \frac{\Delta V}{V} \right| + \left| \frac{\Delta I}{I} \right| + \left| \frac{\Delta t}{t} \right| + \left| \frac{\Delta Q}{Q} \right| \right\}$$

$$Q = m_1 c k (t_2 - t_1) + (m_1 - m_2) c_2 (t_2 - t_1) \Rightarrow ck = \text{nilai tetap}$$

$$Q = m_1 a + ba \Rightarrow (t_2 - t_1) = a, (m_1 - m_2) = b$$

$$Q = a(m_1 + b)$$

$$\Delta Q = \left| \frac{\partial Q}{\partial m_1} \Delta m_1 \right| + \left| \frac{\partial Q}{\partial a} \Delta a \right| + \left| \frac{\partial Q}{\partial b} \Delta b \right| + \left| \frac{\partial Q}{\partial a} \Delta a \right|$$

$$\Delta Q = |a \Delta m_1| + |m_1 \Delta a| + |a \Delta b| + |b \Delta a|$$

$$\frac{\Delta Q}{Q} = \left| \frac{a \Delta m_1}{a(m_1 + b)} + \frac{|a \Delta b|}{a(m_1 + b)} \right| + \left| \frac{m_1 \Delta a}{a(m_1 + b)} + \frac{b \Delta a}{a(m_1 + b)} \right|$$

$$\frac{\Delta Q}{Q} = \left| \frac{\Delta m_1 + \Delta b}{m_1 + b} \right| + \left| \frac{\Delta a(m_1 + b)}{a(m_1 + b)} \right|$$

$$\frac{\Delta Q}{Q} = \left| \frac{\Delta m_1 + \Delta b}{m_1 + b} \right| + \left| \frac{\Delta a}{a} \right|$$

$$\Rightarrow \text{Jika } a = t_2 - t_1 \Rightarrow b = m_2 - m_1$$

$$\Delta a = \left| \frac{\partial a}{\partial t} \Delta t_2 \right| + \left| \frac{\partial a}{\partial t} \Delta t_1 \right| = |\Delta t_2 - \Delta t_1|$$

$$\frac{\Delta a}{a} = \left| \frac{\Delta t_2 + \Delta t_1}{t_2 - t_1} \right|$$

$$\Delta b = \left| \frac{\Delta m_1 + \Delta m_2 + \Delta m_1}{m_1 + b} \right| + \left| \frac{\Delta t_2 + \Delta t_1}{t_2 - t_1} \right|$$

$$\Delta b = \left| \frac{2\Delta m_1 + \Delta m_2}{m_1 + (m_2 - m_1)} + \frac{\Delta t_2 + \Delta t_1}{t_2 - t_1} \right|$$

$$\frac{\Delta J}{J} = \left| \frac{\Delta V}{V} \right| + \left| \frac{\Delta i}{i} \right| + \left| \frac{\Delta t}{t} \right| + \left| \frac{\Delta a}{a} \right| + \left| \frac{\Delta b}{b} \right|$$

$$\frac{\Delta J}{J} = \left| \frac{\Delta V}{V} \right| + \left| \frac{\Delta i}{i} \right| + \left| \frac{\Delta t}{t} \right| + \left| \frac{2\Delta m_1 + \Delta m_2}{m_1 + (m_2 - m_1)} \right| + \left| \frac{\Delta t_2 + \Delta t_1}{t_2 - t_1} \right|$$

E. Menghitung Rambat Ralat

Percobaan 1

$$\Delta m_1 = \frac{1}{2} 0,01 = 0,05 \text{ gr}$$

$$\Delta(m_2 - m_1) = \frac{1}{2} 0,01 = 0,05 \text{ gr}$$

$$\Delta t_2 = \frac{1}{2} \cdot 1 = 0,5^\circ \text{C}$$

$$\Delta t = 1 \times 0,2 = 0,2$$

$$\frac{\Delta J}{J} = \left| \frac{\Delta V}{V} \right| + \left| \frac{\Delta i}{i} \right| + \left| \frac{\Delta t}{t} \right| + \left| \frac{2\Delta m_1 + \Delta m_2}{m_1 + (m_2 - m_1)} \right| + \left| \frac{\Delta t_2 + \Delta t_1}{t_2 - t_1} \right|$$

$$\Delta J = \left\{ \left| \frac{0,5}{4} + \frac{0,05}{1} + \frac{0,2}{690} \right| + \left| \frac{2(0,005) + 0,005}{105,46 + 51,32} \right| + \left| \frac{0,5 + 0,5}{37 - 32} \right| \right\} 7,46$$

$$\Delta J = 2,79 \text{ Joule/kalori}$$

$$\frac{\Delta J}{J} = \frac{2,79}{1,46} \times 100\% = 37,29\%$$

Dengan menggunakan cara yang sama maka diperoleh

Percobaan	ΔJ	$\frac{\Delta J}{J}$
Percobaan 2	1,275 Joule/kalori	37,5 %
Percobaan 3	1,847 Joule/kalori	37,5 %
$\bar{\Delta j}$	0,43 Joule/kalori	

Penulisan Hasil Eksperimen

Percobaan 1

$$J = (1,78 \pm 0,67)$$

Percobaan 2

$$J = (0,81 \pm 0,30)$$

Percobaan 3

$$J = (0,93 \pm 0,34)$$

$$\bar{J} = (1,71 \pm 0,43)$$

F. Tugas Eksperimen

Sebelum Anda melakukan eksperimen diharapkan dapat mengerjakan tugas pendahuluan sebagai berikut.

1. Bagaimana dapat mengurangi pengaruh suhu ruangan terhadap suhu kalorimeter hingga menjadi sekecil mungkin?
2. Asas siapa yang digunakan pada kalorimetri dan bagaimana bunyi asas tersebut?

3. Dapatkah jumlah energi listrik pada hambatan yang dialiri arus listrik selama waktu dihitung dengan rumus? Jika ini dapat diperoleh, tuliskan rumus yang berlaku!
4. Apa fungsi kalorimeter, pengaduk, thermometer, amperemeter dan voltmeter dalam percobaan ini?
5. Apa yang dimaksud dengan tara kalor mekanik dengan cara listrik?
6. Rambat ralatkan persamaan (7.1)!
7. Kemukakan definisi kalor! Dan apakah bedanya antara suhu dengan kalor?
8. Kesalahan-kesalahan apa saja yang dapat memengaruhi hasil percobaan ini?

A. Pendahuluan Tentang Cahaya

Optika adalah cabang ilmu pengetahuan fisika tentang cahaya yang mempelajari sifat-sifat perambatan cahaya dan hakikat serta penerapannya seperti pemantulan, pembiasan dan prinsip jalannya sinar untuk mempermudah manusia. Dalam terapan ilmu fisika optika dibagi menjadi dua bagian yaitu optika geometri dan optika fisis. Optika geometri mengkaji tentang pemantulan dan pembiasan cahaya, sedangkan pada optika fisis membahas sifat interferensi, difraksi, polarisasi cahaya.

Cahaya didefinisikan sebagai bagian dari spektrum elektromagnetik yang sensitif bagi penglihatan manusia. Menurut Einstein cahaya mempunyai sifat gelombang dan sebagai materi. Cahaya dapat dianggap sebagai gelombang karena dapat mengalami peristiwa pantulan, terjadi interferensi dan pelenturan cahaya. Sedangkan cahaya dipandang sebagai materi atau kuantum karena dapat menimbulkan efek fotolistrik dan efek Compton. Dengan demikian, cahaya putih tampak hanya merupakan bagian kecil dari spektrum gelombang elektromagnetik. Pada saat kita melihat suatu benda, cahaya merambat dari benda menuju mata kita. Cahaya itu mungkin saja berasal dari benda itu sendiri, misal kita dapat melihat matahari atau lampu karena benda-benda ini memancarkan cahaya. Akan tetapi, mungkin juga hanya

berupa cahaya pantulan dari benda yang kita lihat akibat sumber cahaya lain misalnya kita dapat melihat gunung di siang hari karena gunung memantulkan cahaya dari matahari ke mata. Nah, sekarang dapatkah kita melihat gunung di malam hari, jika tidak ada sumber cahaya lain seperti cahaya bulan atau cahaya lampu? Tentu jawabannya tidak.

Matahari merupakan bintang yang dapat atau memancarkan cahaya sendiri. Dalam Al-Qur'an telah dijelaskan bahwa tentang benda-benda yang dapat mengeluarkan cahaya sendiri (dalam Al-Qur'an menggunakan kata *dhiya'* (seperti matahari). Sedangkan kata *nur* (yang berarti cahaya) dan beberapa bagiannya menggambarkan bahwa cahaya ditimbulkan akibat pantulan benda yang mengenai sinar seperti bulan.

Mata manusia sangat responsif pada wilayah kuning-hijau dengan panjang gelombang antara 550-560 nm. Sinar yang dipancarkan dari matahari dan benda bercahaya mengeluarkan partikel-partikel mikro. Radiasinya menimbulkan energi panas (kalor).

Studi tentang cahaya dimulai dengan munculnya era optika klasik yang mempelajari besaran optik misalnya intensitas, frekuensi, panjang gelombang, polarisasi, dan fase cahaya. Allah Swt. menciptakan cahaya untuk seluruh makhluk yang ada di langit dan bumi seperti lubang yang tidak tembus yaitu suatu lubang di dinding rumah yang tidak tembus sampai di sebelahnya. Umumnya digunakan untuk tempat lampu yang dinyatakan dengan minyak dari pohon zaitun yang tumbuh di puncak bukit yang disinari matahari, baik di waktu matahari terbit maupun terbenam sehingga pohon tersebut subur dan buahnya menghasilkan minyak yang baik.

B. Teori-teori Tentang Cahaya

1. Teori Abad X

Ilmuwan Abu Ali Hasan Ibn Al-Haitham (965–sekitar 1040), dikenal juga sebagai Alhazen, mengembangkan teori yang menjelaskan tentang penglihatan pandangan, menggunakan geometri dan anatomi. Teori

tersebut menjelaskan bahwa setiap titik pada daerah yang tersinari cahaya, mengeluarkan sinar cahaya ke segala arah, namun hanya satu sinar dari setiap titik yang masuk ke mata secara tegak lurus yang dapat dilihat. Cahaya lain yang mengenai mata tidak secara tegak lurus tidak dapat dilihat. Ilmuwan tersebut menggunakan kamera lubang jarum sebagai contoh, yang menampilkan sebuah citra terbalik. Alhazen menganggap bahwa sinar cahaya adalah kumpulan partikel kecil yang bergerak pada kecepatan tertentu. Dia juga mengembangkan teori *Ptolemy* tentang refraksi cahaya, namun usaha Alhazen tidak dikenal di Eropa sampai pada akhir abad XVI.

2. Teori Gelombang (Ray)

Christian Huygens menyatakan dalam abad XVII yang cahaya dipancarkan ke semua arah sebagai ciri-ciri gelombang. Pandangan ini menggantikan teori partikel halus. Ini disebabkan oleh karena gelombang tidak diganggu oleh gravitasi, dan gelombang menjadi lebih lambat ketika memasuki medium yang lebih padat. Teori gelombang ini menyatakan bahwa gelombang cahaya akan berinterferensi dengan gelombang cahaya yang lain seperti gelombang bunyi (seperti yang disebut oleh Thomas Young pada kurun ke-18), dan cahaya dapat dipolarisasikan. Kelemahan teori ini adalah gelombang cahaya seperti gelombang bunyi, memerlukan medium untuk dihantar. Suatu hipotesis yang disebut *luminiferous aether* telah diusulkan, tetapi hipotesis itu tidak disetujui.

3. Teori Partikel

Isaac Newton menyatakan dalam *Hypothesis of Light* pada 1675 bahwa cahaya terdiri dari partikel halus (*corpuscles*) yang memancar ke semua arah dari sumbernya. Teori ini dapat digunakan untuk menerangkan pantulan cahaya, tetapi hanya dapat menerangkan pembiasan dengan menganggap cahaya menjadi lebih cepat ketika memasuki medium yang padat tumpat karena daya tarik gravitasi lebih kuat.

4. Teori Elektromagnetik

Pada tahun 1845 Faraday menemukan bahwa sudut polarisasi dari sebuah sinar cahaya ketika sinar tersebut masuk melewati material pemolarisasi dapat diubah dengan medan magnet. Ini adalah bukti pertama kalau cahaya berhubungan dengan elektromagnetisme. Faraday mengusulkan pada tahun 1847 bahwa cahaya adalah getaran elektromagnetik berfrekuensi tinggi yang dapat bertahan walaupun tidak ada medium.

Teori ini diusulkan oleh James Clerk Maxwell pada akhir abad XIX, menyebut bahwa gelombang cahaya adalah gelombang elektromagnet sehingga tidak memerlukan medium untuk merambat. Pada permukaannya dianggap gelombang cahaya disebarkan melalui kerangka acuan yang tertentu, seperti aether, tetapi teori relativitas khusus menggantikan anggapan ini. Teori elektromagnet menunjukkan yang sinar kasat mata adalah sebagian daripada spektrum elektromagnet. Teknologi penghantaran radio diciptakan berdasarkan teori ini dan masih digunakan.

Kecepatan cahaya yang konstan berdasarkan persamaan Maxwell berlawanan dengan hukum-hukum mekanis gerakan yang telah bertahan sejak zaman Galileo, yang menyatakan bahwa segala macam laju adalah relatif terhadap laju sang pengamat. Pemecahan terhadap kontradiksi ini kelak akan ditemukan oleh Albert Einstein.

5. Teori Kuantum

Teori ini dimulai pada abad ke-19 oleh **Max Planck**, yang menyatakan pada tahun 1900 bahwa sinar cahaya adalah terdiri dari paket (kuantum) energi yang dikenal sebagai *photon*. Penghargaan Nobel menghadiahkan Planck anugerah fisika pada tahun 1918 untuk usaha dalam penemuan teori kuantum, walaupun dia bukannya orang yang pertama memperkenalkan prinsip asas partikel cahaya.

6. Teori Dualitas Partikel Gelombang


Teori ini menggabungkan tiga teori yang sebelumnya, dan menyatakan bahwa cahaya adalah partikel dan gelombang. Ini adalah teori modern yang menjelaskan tentang sifat-sifat cahaya dan bahkan sifat-sifat partikel secara umum. Teori ini pertama kali dijelaskan oleh **Albert Einstein** pada awal abad XX, berdasarkan dari karya tulisnya tentang efek fotolistrik dan hasil penelitian **Planck**. Einstein menunjukkan bahwa energi sebuah foton sebanding dengan frekuensinya. Lebih umum lagi, teori tersebut menjelaskan bahwa semua benda mempunyai sifat partikel dan gelombang, dan berbagai macam eksperimen dapat dilakukan untuk membuktikannya. Sifat partikel dapat lebih mudah dilihat apabila sebuah objek mempunyai massa yang besar.

Pada tahun 1924 eksperimen oleh **Louis de Broglie** menunjukkan elektron juga mempunyai sifat dualitas partikel-gelombang. Einstein mendapatkan penghargaan Nobel pada tahun 1921 atas karyanya tentang dualitas partikel-gelombang pada foton dan de Broglie mengikuti jejaknya pada tahun 1929 untuk partikel-partikel yang lain.


C. Konsep Dasar Pemantulan Cahaya

Berkas sinar atau cahaya dapat dikelompokkan menjadi tiga macam bentuk yaitu:


1. Berkas cahaya sejajar



2. Berkas cahaya mengumpul (*konvergen*)

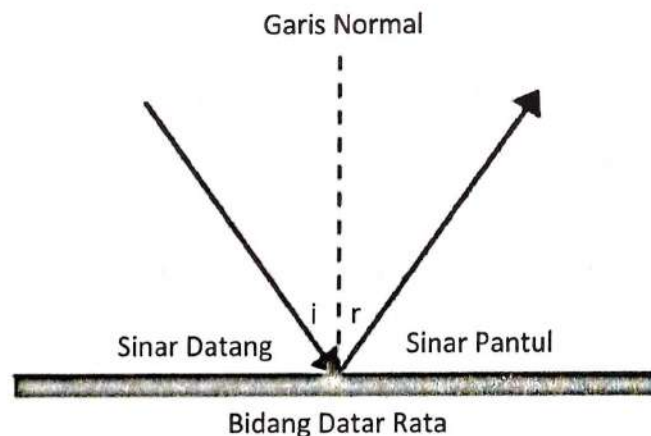


3. Berkas cahaya menyebar (*divergen*)



Hukum pemantulan cahaya dikemukakan pertama kali oleh W. Snellius, hasil temuannya diperoleh bahwa apabila seberkas cahaya mengenai permukaan bidang datar yang rata, maka akan berlaku aturan-aturan pemantulan sebagai berikut.

1. Sinar datang (sinar jatuh), garis normal, dan sinar pantul terletak pada satu bidang datar.
2. Sudut sinar datang (sinar jatuh) selalu sama dengan sudut sinar pantul (sudut $i =$ sudut r) (lihat Gambar 14.1).



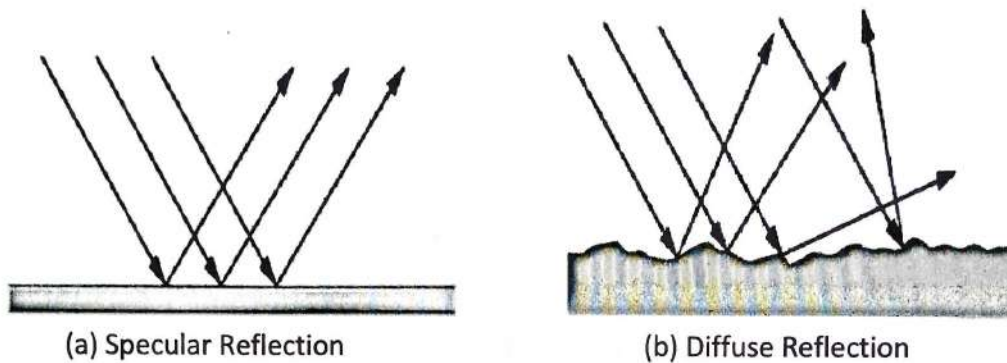
Gambar 14.1 Hukum Pemantulan Cahaya

Pada umumnya, cahaya yang jatuh ke permukaan benda akan dipantulkan sebagian maupun seluruhnya. Oleh karena itu, dikenal dua jenis pemantulan cahaya yaitu:

1. *Pemantulan teratur*, yaitu pemantulan cahaya yang terjadi pada permukaan yang rata (licin/halus) dan arah pemantulannya secara teratur, misalnya pemantulan pada cermin datar atau pada permukaan air yang tenang (lihat Gambar 14.2a)

2. *Pemantulan baur*, yaitu pemantulan cahaya yang terjadi pada permukaan yang tidak rata (bidang kasar) sehingga arah pemantulannya tidak teratur dan tidak tertentu (lihat Gambar 14.2b).

Seperti yang ditunjukkan pada gambar di bawah ini:



Gambar 14.2 a) Pemantulan Teratur (*Specular Reflection*),
b) Pemantulan Baur (*Diffuse Reflection*)

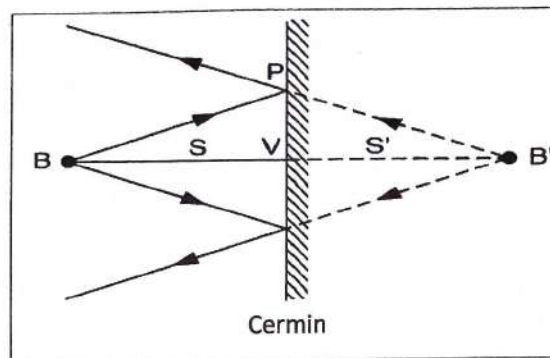
D. Pemantulan pada Cermin Datar

Cermin datar adalah cermin yang permukaannya pantulnya berupa bidang datar. Apabila seberkas cahaya dikenai sinar pada permukaan cermin datar, maka cahaya tersebut dipantulkan kembali, berkas cahaya yang datang tegak lurus di cermin dipantulkan berimpit dengan sinar datang. Untuk melukiskan bayangan pada cermin datar berlaku hukum pemantulan cahaya $\theta_i = \theta_r$. Sifat bayangan pada cermin datar yaitu:

1. Jarak benda selalu sama dengan jarak bayangan.
2. Bayangannya semu atau bayangan yang dibentuk selalu maya (terletak di belakang cermin).
3. Ukuran bayangan dan benda sama.
4. Bayangan tegak dan berlawanan dengan bendanya.
5. Bentuk bayangan dan benda sama.

6. Perbesaran bayangan dihasilkan: $M = \left| \frac{h'}{h} \right| = \left| \frac{s'}{s} \right|$

Berikut proses pembentukan bayangan pada cermin datar.



Gambar 14.3 Pembentukan Bayangan pada Cermin Datar

Pada gambar di atas menjelaskan bahwa benda B ditempatkan di depan cermin datar, B' adalah bayangan benda yang dihasilkan melalui perpanjangan sinar-sinar S yang dipantulkan oleh cermin. Perpotongan perpanjangan sinar-sinar ini adalah titik bayangan yang terbentuk oleh cermin. Dapat dibuktikan bahwa segitiga VBP sama dan sebangun segitiga B'VP', sehingga berlaku $S = - S'$ (artinya jarak benda S sama dengan jarak bayangan S' tetapi arahnya berlawanan). Tanda negatif (-) pada jarak bayangan menunjukkan bahwa benda atau bayangan terletak pada daerah yang berlainan dengan benda aslinya.

Untuk dua buah cermin datar yang membentuk sudut α , maka jumlah bayangan dapat ditentukan sesuai persamaan dituliskan:

$$n = \frac{360^\circ}{\alpha^\circ} - m \quad (14.1)$$

Keterangan:

n = Banyak bayangan yang dibentuk

α = Sudut yang dibentuk oleh dua cermin datar ($^\circ$)

di mana $m = -1$ jika $\frac{360^\circ}{\alpha^\circ} = \text{genap}$ dan $m = 0$ jika $\frac{360^\circ}{\alpha^\circ} = \text{ganjil}$

Apabila sudut yang dibentuk susunan dua cermin besarnya tidak dapat dibagi 360° dengan tepat, banyaknya bayangan dapat dihitung dengan persamaan:

$$n = \frac{(180 - \beta)}{\alpha} + \frac{(180 + \beta)}{\alpha} \quad (14.2)$$

Keterangan:

α = Sudut antara dua cermin ($^{\circ}$)

β = Sudut terkecil antara benda dan susunan cermin ($^{\circ}$)

Contoh Soal 1

Dua buah cermin datar ditempatkan di atas permukaan sehingga membentuk sudut 60° . Jika sebuah benda diletakkan di depan kedua cermin, tentukan berapa banyaknya bayangan yang terlihat!

Pembahasan:

$$n = \frac{360^{\circ}}{\alpha^{\circ}} - 1$$

$$n = \frac{360^{\circ}}{60^{\circ}} - 1$$

$$n = 6 - 1$$

$$n = 5 \text{ bayangan}$$

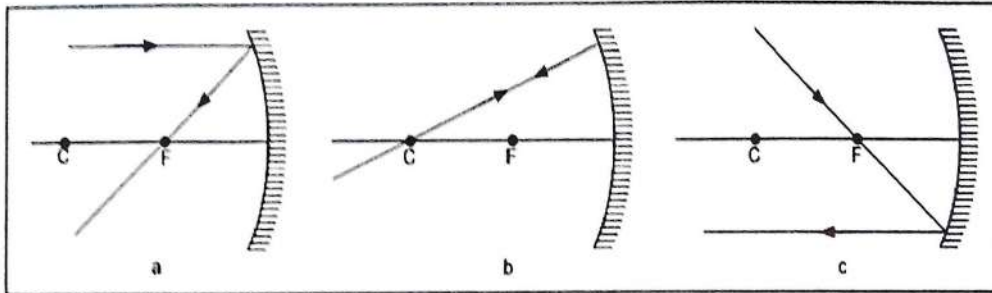
E. Pemantulan pada Cermin Lengkung

Selain cermin datar, terdapat cermin lain yaitu cermin lengkung. Cermin ini terdiri atas cermin cekung dan cermin cembung. Perbedaan keduanya dapat dilihat dari masing-masing bentuk pemantulnya, yaitu cermin cekung memiliki permukaan pemantul berupa bidang cekung (bagian dalam permukaan bola), sedangkan cermin cembung permukaan pantulnya berupa bidang cembung (bagian luar permukaan bola).

Pada cermin cekung berkas cahaya yang jatuh akan dipantulkan secara mengumpul (bersifat konvergen artinya sinar-sinar sejajar yang jatuh pada permukaan cermin dipantulkan ke satu titik yang disebut *titik api* atau *titik fokus*). Untuk dapat melukis bayangan yang dibentuk oleh cermin cekung biasanya digunakan tiga sinar istimewa. Sinar istimewa adalah sinar datang yang lintasannya mudah diprediksi tanpa harus mengukur sudut datang dan sudut pantulnya.

Tiga sinar istimewa dari cermin cekung yaitu sebagai berikut.

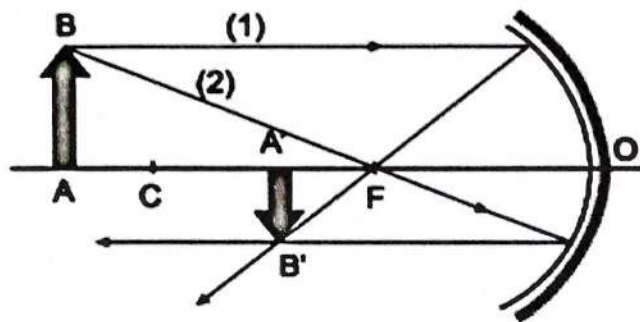
1. Sinar datang sejajar sumbu utama, dipantulkan melalui titik fokus (Gambar 14.4a).
2. Sinar datang melalui pusat cermin, dipantulkan kembali melalui jalan yang sama berlawanan (Gambar 1.4b).
3. Sinar datang melalui titik fokus, dipantulkan sejajar sumbu cermin (Gambar 14.4c).



Gambar 14.4 Sinar-sinar Utama pada Cermin Cekung

Sifat-sifat bayangan dari suatu benda di depan cermin cekung bergantung posisinya dari cermin. Adapun sifat-sifat bayangan tersebut yaitu sebagai berikut.

1. Posisi benda di sebelah kiri pusat kelengkungan cermin atau $s > 2f$. Perhatikan gambar berikut.

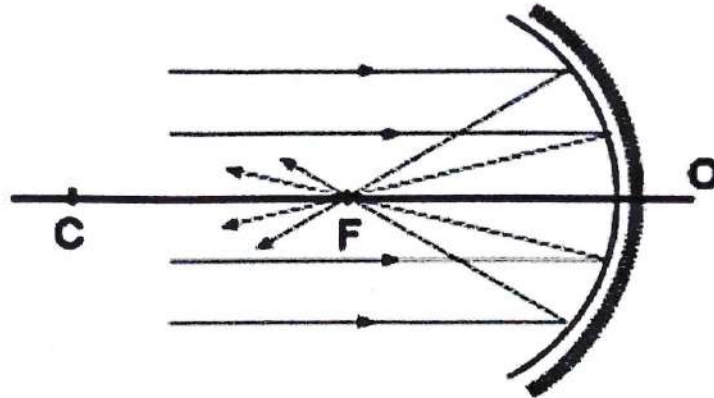


Gambar 14.5 Bentuk Bayangan pada Cermin Cekung Jika $s > 2f$

Bila jarak benda $s > 2f$ sifat bayangan yang terbentuk adalah nyata, terbalik diperkecil.

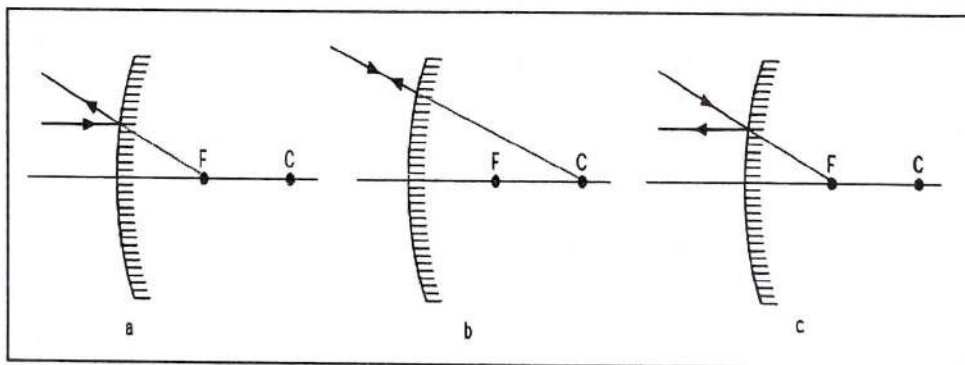
2. Posisi benda di jauh tak terhingga atau $s = \infty$. Sinar-sinar yang berasal dari benda yang jauh tak terhingga datang ke cermin berupa sinar-sinar sejajar dan oleh cermin sinar-sinar ini akan

dikumpulkan di fokus utama sehingga bayangan benda yang terbentuk hanya berupa titik di fokus utama. Bayangan dari benda yang jauh tak terhingga dari cermin berupa titik di fokus utama. Seperti pada gambar berikut ini.



Gambar 14.6 Bayangan pada Cermin Cekung Jika $s = \infty$ (Tak Terhingga)

Pada cermin cembung berkas cahaya yang jatuh akan dipantulkan secara menyebar (*divergen*). Sama halnya dengan cermin cekung, cermin cembung juga memiliki sinar-sinar istimewa. Sinar-sinar istimewa tersebut dapat digambarkan secara berturut-turut:



Gambar 14.7 Sinar-sinar Utama pada Cermin Cembung

1. Sinar datang sejajar sumbu utama, dipantulkan seolah-olah dari titik fokus (Gambar 14.7a).
2. Sinar datang menuju ke titik pusat cermin, dipantulkan kembali melalui jalan yang sama berlawanan (Gambar 14.7b).
3. Sinar datang yang menuju titik fokus, dipantulkan sejajar sumbu utama (Gambar 14.7c).

Sifat bayangan dari benda di depan cermin cembung selalu maya, tegak, diperkecil. Pada cermin cekung dan cermin cembung berlaku persamaan sebagai berikut.

$$R = 2f \quad (14.3)$$

atau:

$$f = \frac{1}{2} R \quad (14.4)$$

Hubungan antara jarak benda (s) dengan jarak bayangan (s') dan fokus (f) pada cermin cekung dan cermin cembung yaitu:

$$\frac{1}{f} = \frac{1}{s} + \frac{1}{s'} \quad (14.5)$$

Sedangkan perbesaran bayangan pada cermin:

$$M = \left| \frac{s'}{s} \right| = \left| \frac{h'}{h} \right| \quad (14.6)$$

Keterangan:

- f = Jarak fokus cermin (m)
- s = Jarak benda ke cermin (m)
- s' = Jarak bayangan ke cermin (m)
- R = Pusat kelengkungan cermin (m)
- M = Perbesaran bayangan (kali)
- h = Tinggi benda (m)
- h' = Tinggi bayangan benda (m)

Contoh Soal 2

Sebuah cermin cekung mempunyai jarak fokus $f = 2$ m. Sebuah benda tingginya 5 cm diletakkan di depan cermin pada jarak 3 m. Tentukan:

- a. Letak bayangan
- b. Tinggi bayangan
- c. Perbesaran bayangan

Pembahasan:

Dik:

$$s = 3$$

$$f = 2$$

$$h = 5$$

Dit:

a. $s' = \dots ?$

b. $M = \dots ?$

c. $h' = \dots ?$

Penyelesaian:

a. $s' = \dots$

$$\frac{1}{s} + \frac{1}{s'} = \frac{1}{f}$$

$$\frac{1}{3} + \frac{1}{s'} = \frac{1}{2}$$

$$\frac{1}{s'} = \frac{1}{2} - \frac{1}{3}$$

$$\frac{1}{s'} = \frac{3}{6} - \frac{2}{6}$$

$$\frac{1}{s'} = \frac{1}{6}$$

$$s' = 6 \text{ m}$$

b. $M = \frac{s'}{s}$

$$= \frac{6}{3}$$

$$= 2 \times$$

c. $h' = \dots !$

$$h' = M \times h$$

$$h' = 2 \times 5 = 10 \text{ cm}$$

Contoh Soal 3

Di manakah sebuah benda diletakkan di depan sebuah cermin cekung yang jari-jari kelengkungannya 60 cm, agar bayangan yang dibentuk cermin itu bersifat nyata dan berukuran 3 kali ukuran bendanya?

Pembahasan:

Diketahui:

$$M = 3 \times \rightarrow s' = 3 s$$

$$R = 60 \text{ cm}$$

Dari persamaan (1.4) diperoleh $f = 30 \text{ cm}$

Ditanya: $s = \dots \text{cm}$?

Gunakan persamaan umum cermin cekung:

$$\frac{1}{f} = \frac{1}{s} + \frac{1}{s'}$$

Lalu masukkan data soal yang telah diketahui, akan diperoleh:

$$\frac{1}{30} = \frac{1}{s} + \frac{1}{3s}$$

$$\frac{1}{30} = \frac{3}{3s} + \frac{1}{3s}$$

$$\frac{1}{30} = \frac{4}{3s}$$

atau:

$$s = \frac{120}{3} = 40 \text{ cm}$$

Jadi, agar diperoleh bayangan 3 kali lebih besar dari bendanya, maka benda harus diletakkan pada jarak 40 cm di depan cermin.

Contoh Soal 4

Sebuah benda berdiri tegak sejauh 20 cm di depan cermin cembung yang jejari kelengkungannya 10 cm. Tentukanlah:

- Jarak bayangan yang terbentuk
- Perbesaran bayangannya
- Sifat-sifat bayangannya
- Lukisan jalannya sinar

Pembahasan:

a. Diketahui: $S = 20$ cm

$$R = -10 \text{ cm} \rightarrow f = -5 \text{ cm}$$

$$\frac{1}{f} = \frac{1}{S} + \frac{1}{S'}$$

$$-\frac{1}{5} = \frac{1}{20} + \frac{1}{S'}$$

$$\frac{1}{S'} = \frac{4}{20} - \frac{1}{20} = \frac{3}{20} \text{ cm}$$

$$S' = -\frac{20}{3} = -6,67 \text{ cm}$$

b. Diketahui: $S = 20$ cm

$$S' = -6,67 \text{ cm}$$

$$m = -\frac{S'}{S} \rightarrow m = -\frac{-6,67}{20} \rightarrow m = \frac{1}{3}$$

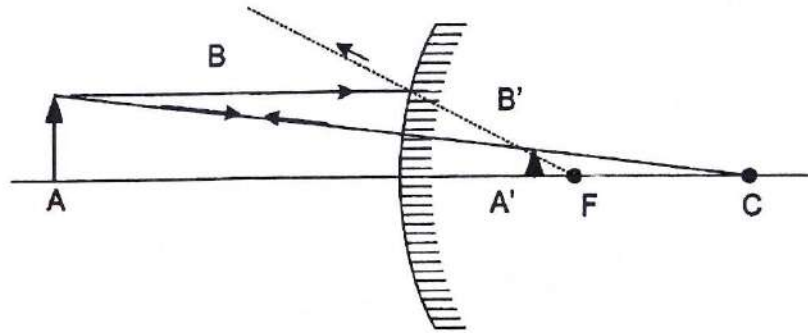
c. Sifat-sifat bayangan: maya, tegak, dan lebih kecil.

maya (karena S' negatif)

tegak (karena nilai m positif)

kecil (karena nilai $m = 1/3$)

d. Gambar lukisan proses pembentukan sinarnya adalah:



Gambar 14.8 Lukisan Proses Pembentukan Sinarnya

F. Pembiasan Cahaya

Pembiasan cahaya dapat terjadi karena adanya cahaya yang merambat melalui suatu medium ke medium lain yang kerapatan optiknya berbeda. Pembiasan cahaya merupakan gejala atau peristiwa perubahan arah rambatan cahaya karena mengalami perubahan medium. Misalkan pada dasar bak kolam renang yang berisi air kelihatan lebih dangkal, sikat gigi yang mengapung di air bak mandi kelihatan bengkok dan sebagainya, alat optik seperti mikroskop dan kamera juga bekerja berdasarkan konsep pembiasan.

Untuk memahami konsep pembiasan cahaya, maka perlu dipahami pernyataan **Willeboard Snell (1591-1626)** yang dikenal dengan hukum pembiasan atau hukum Snellius. Beberapa istilah akan dijelaskan secara singkat, misalnya sinar datang, sinar bias, dan garis normal yang berpotongan pada satu titik dan terletak pada satu gelombang datar. Sinar datang (i) adalah sinar yang datang pada bidang batas dua medium, sinar bias (r) adalah sinar yang dibiaskan oleh bidang batas dua medium, garis normal adalah garis yang tegak lurus pada bidang batas dua medium. Hubungan sudut datang dan sudut bias dinyatakan:

$$n_1 \sin \theta_1 = n_2 \sin \theta_2 \quad (14.7)$$

Keterangan:

θ_1 = Sudut datang ($^\circ$)

θ_2 = Sudut bias ($^\circ$)

n_1 = Indeks bias medium 1

n_2 = Indeks bias medium 2

Berdasarkan hasil eksperimen ilmuwan W. Snell diperoleh empat hukum pembiasan yaitu:

- Sinar datang, garis normal, dan sinar bias terletak pada sebuah bidang datar.
- Sinar datang dari medium kurang rapat ke medium lebih rapat dibiaskan mendekati garis normal.
- Sinar datang dari medium lebih rapat ke medium kurang rapat dibiaskan menjauhi garis normal.
- Sinar datang tegak lurus bidang batas tidak dibiaskan, melainkan diteruskan.

Sinus sudut bias (r) merupakan konstan. Oleh Snellius pernyataan ini dapat dirumuskan:

$$\frac{\sin i}{\sin r} = \frac{v_1}{v_2} = \frac{f_1 \cdot \lambda_1}{f_2 \cdot \lambda_2}$$

atau

$$\frac{\sin i}{\sin r} = \frac{n_1}{n_2} = n_{12} \quad (1.8)$$

Keterangan:

n_{12} = Indeks bias relatif medium 1 terhadap medium 2

n_1 = Indeks bias mutlak medium 1

n_2 = Indeks bias mutlak medium 2

v_1 = Laju cahaya dalam medium 1

v_2 = Laju cahaya dalam medium 2

Contoh Soal 5

Seberkas cahaya datang dari kaca yang mempunyai indeks bias 1,5 dan masuk ke dalam air yang mempunyai indeks bias 4/3. Apabila sudut datangnya 30° maka hitunglah sudut biasnya.

Pembahasan:

$$\text{Dik. } n_k = 1,5$$

$$n_{\text{air}} = 4/3$$

$$i = 30^\circ$$

$$\text{Dit } r = \dots !$$

$$\begin{aligned} \frac{\sin i}{\sin r} &= \frac{n_{\text{air}}}{n_k} \\ \sin r &= \frac{n_k \cdot \sin i}{n_{\text{air}}} \\ &= \frac{1,5 \sin 30}{4/3} \\ &= \frac{1,5 \cdot 1/2}{4/3} \\ &= \frac{0,75}{4/3} \\ &= 0,564 \\ r &= \text{arc. sin } 0,564 \\ &= 34,3^\circ \end{aligned}$$

Indeks bias bahan terdiri atas dua bagian yaitu indeks bias mutlak suatu medium dan indeks bias relatif.

a. Indeks bias mutlak

Indeks bias mutlak dapat dipandang sebagai suatu ukuran kemampuan medium itu untuk membelokkan cahaya. Indeks bias mutlak merupakan perbandingan antara sinus sudut datang dengan sinus sudut bias atau dapat dirumuskan sebagai berikut.

$$n = \frac{\sin i}{\sin r} \quad (14.9)$$

Cahaya yang merambat pada dua medium yang berbeda akan mengalami perubahan kecepatan. Oleh karena itu, indeks bias mutlak suatu medium hampa dirumuskan sebagai berikut.

$$n = \frac{\sin i}{\sin r} = \frac{c}{v} \quad (14.10)$$

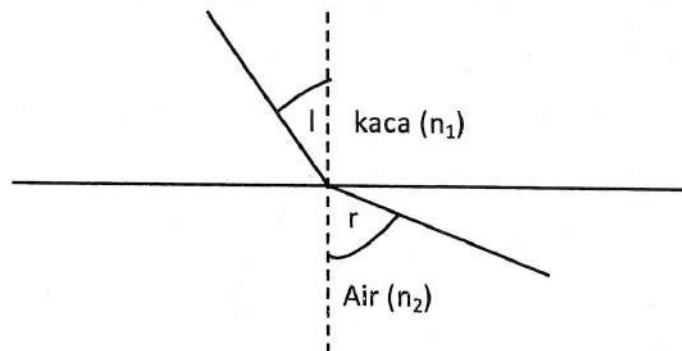
b. Indeks bias relatif

Indeks bias relatif adalah perbandingan indeks bias antara dua medium, maka indeks bias relatif ini dapat bernilai lebih besar atau lebih kecil dari satu. Seberkas sinar merambat dari medium 1 (n_1) misal dari kaca menuju ke medium 2 (n_2) misal air. Indeks bias relatif kaca terhadap air dapat ditulis sebagai berikut.

$$n_1 \sin i = n_2 \sin r$$

atau

$$\frac{\sin i}{\sin r} = \frac{n_2}{n_1} = n_{2,1} \quad (14.11)$$



Gambar 14.9 Pembiasan Medium 1 Kaca ke Medium 2 Air

Ketika cahaya merambat dari satu medium menuju medium lainnya, frekuensinya tetap atau tidak berubah, sehingga $f_1 = f_2 = f$ (ingat $V = \lambda f$). Dengan demikian, didapat hubungan antara panjang gelombang dan indeks bias sebagai berikut.

$$\frac{V_1}{V_2} = \frac{f \cdot \lambda_1}{f \cdot \lambda_2} = \frac{n_2}{n_1} \quad (14.12)$$

atau

$$\frac{\lambda_1}{\lambda_2} = \frac{n_2}{n_1}$$

$$\lambda_2 n_2 = \lambda_1 n_1 \quad (14.13)$$

Apabila medium 1 berupa udara ($n_1 = n_{\text{udara}} = 1$) dan medium 2 adalah medium tertentu n ($\lambda_2 = \lambda_n \cdot \lambda_1 = \lambda_{\text{udara}} = \lambda_n n$)

$$n = \frac{\lambda_{\text{udara}}}{\lambda_n} \quad (14.14)$$

G. Pemantulan Sempurna

Pada saat seberkas sinar yang merambat (menjalar) dari medium yang lebih rapat menuju ke medium kurang rapat tidak selalu mengalami pembiasan. Akan tetapi, dapat mengalami *pemantulan sempurna*. Pemantulan sempurna dapat terjadi apabila sudut datang sinar (i) lebih besar daripada sudut kritis/sudut batas (i_k). Istilah sudut kritis sering disebut sudut batas antara dua medium yaitu peristiwa sudut datang dari medium yang lebih rapat menuju ke medium kurang rapat yang menghasilkan sudut bias sebesar 90° . Besar sudut kritis dapat ditentukan sebagai berikut.

Misalnya sinar merambat dengan sudut datang kritis ($i = i_k$) lebih renggang n_2 ($n_2 < n_1$) dengan sudut bias $r = 90^\circ$, maka:

$$\begin{aligned} n \sin i &= n_1 + \sin r \\ n \sin i_k &= n_2 + \sin 90^\circ \\ n \sin i_k &= n_2 + 1 \\ \sin i_k &= \frac{n_2}{n_1} \end{aligned} \quad (14.15)$$

Misalkan jika sinar merambat dari suatu zat ke medium udara atau ruang hampa maka:

$$\begin{aligned} n_1 &= n \\ n_2 &= 1 \end{aligned}$$

Persamaan ini dapat ditulis:

$$\sin i = \frac{1}{n} \quad (14.16)$$

Keterangan:

i_k = Sudut kritis atau sudut bias ($^\circ$)

n = Indeks bias mutlak zat

Jika sudut datang diperbesar lagi. Sinar itu tidak lagi dibiaskan tetapi dipantulkan. Peristiwa ini disebut pemantulan sempurna atau pemantulan total. Adapun syarat agar terjadi pemantulan sempurna yaitu:

- a. Sinar datang dari zat optik rapat ke zat optik renggang.
- b. Sudut datang lebih besar daripada sudut batas.

Contoh Soal 6

Seberkas sinar datang dari air ke udara dengan sudut datang 30° . Jika indeks bias air $4/3$, berapa sudut biasnya.

Pembahasan:

Diketahui $i = 30$

$$n_1 = n_{\text{air}} = 4/3$$

$$n_2 = n_{\text{udara}} = 1$$

Ditanyakan $r = \dots ?$

Penyelesaian:

$$\frac{n_2}{n_1} = \frac{\sin i}{\sin r}$$

$$\frac{1}{4/3} = \frac{\sin 30}{\sin r}$$

$$\frac{1}{4/3} = \frac{0,5}{\sin r}$$

$$\sin r = 0,5 \times 4/3$$

$$= 0,67$$

$$r = 41^\circ 49''$$

Contoh Soal 7

Seberkas sinar datang dari udara ke suatu zat cair dengan sudut datang 45° dan sudut bias 30° . Apabila diketahui kelajuan cahaya di udara 3×10^8 m/s. Tentukan:

- a. Indeks bias zat cair.
- b. Kelajuan cahaya dan zat cair.

Pembahasan:

Diketahui: $i = 45^\circ$
 $r = 30^\circ$
 $c = 3 \times 10^8 \text{ m/s}$

Ditanyakan: $n = \dots ?$
 $v = \dots ?$

Penyelesaian:

- a. Indeks bias zat cair

$$n_{a1} = \frac{\sin i}{\sin r}$$

$$= \frac{\sin 45^\circ}{\sin 30^\circ}$$

$$= \frac{0,7}{0,5}$$

$$= 1,4$$

Jadi indeks bias zat cair = 1,4

- b. Kelajuan cahaya dalam zat cair

$$n_{a1} = \frac{\sin i}{\sin r} = \frac{c}{v}$$

$$1,4 = \frac{3 \times 10^8}{v}$$

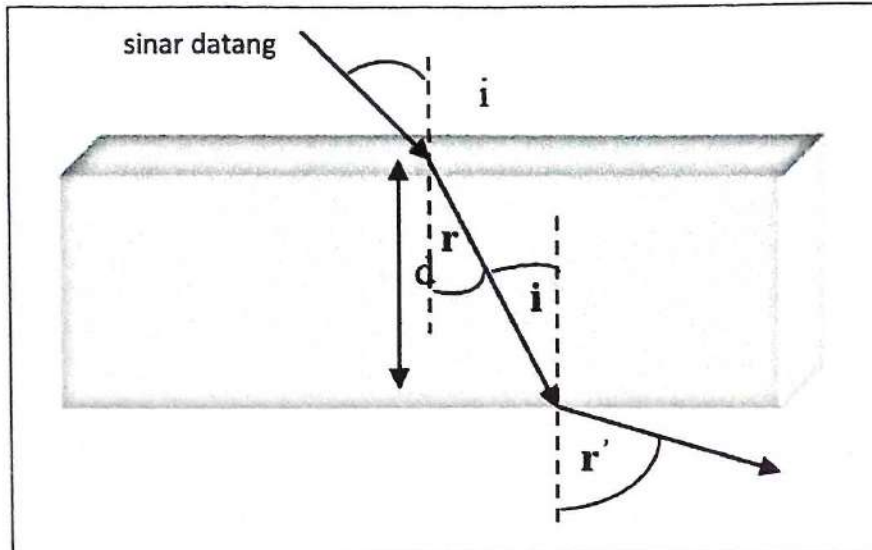
$$= \frac{3 \times 10^8}{1,4}$$

$$= 2,14 \times 10^8 \text{ m/s.}$$

Jadi, kelajuan cahaya dalam zat cair adalah $2,14 \times 10^8 \text{ m/s}$.

H. Pembiasan Kaca Plan Paralel

Jika seberkas sinar datang dari medium n_1 menuju medium n_2 di mana $n_2 > n_1$, maka sinar yang keluar akan sejajar dengan sinar yang masuk dan mengalami pergeseran sinar.



Gambar 14.10 Pergeseran Sinar pada Kaca Plan Paralel

Rumus pergeseran sinar pada kaca plan paralel yaitu:

$$t = d \frac{\sin (i - r')}{\cos r'} \quad (14.17)$$

Keterangan:

t = Pergeseran sinar (m)

d = Tebal kaca plan paralel (m)

i = Sinar datang pertama ($^\circ$)

r = Sinar bias terakhir ($^\circ$)

Contoh Soal 8

Seberkas sinar masuk ke dalam plan paralel yang tebalnya 15 cm dengan sudut datang 45° , kemudian dibiaskan dengan sudut 30° . Tentukan besarnya pergeseran sinar tersebut.

Pembahasan:

$$\begin{aligned} \text{Diketahui: } i &= 45^\circ \\ r &= 30^\circ \\ d &= 15 \text{ cm} \end{aligned}$$

$$\text{Ditanyakan: } t = \dots \text{ cm}$$

Penyelesaian:

$$t = d \frac{\sin(i - r')}{\cos r'}$$

$$t = 15 \frac{\sin(45 - 30)}{\cos 30}$$

$$t = 15 \frac{0,26}{\frac{1}{2}\sqrt{3}} = 3,89 \text{ cm}$$

Jadi, besarnya pergeseran sinar tersebut yaitu 3,89 cm.

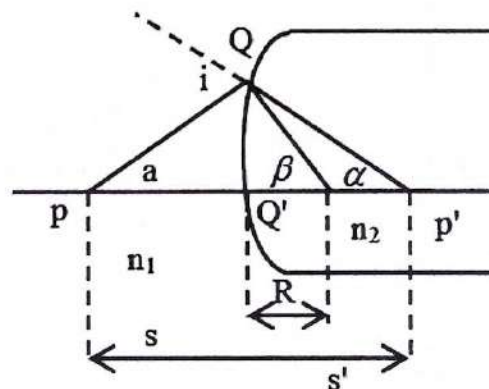
I. Pembiasan pada Gelombang Lengkung dan Bidang Datar

Titik p di depan permukaan lengkung sferik dengan indeks bias (n_2) dan jari-jari R sesuai dengan hukum pembiasan berlaku:

$$\frac{\sin i}{\sin r} = \frac{n_2}{n_1} \quad (14.18)$$

atau

$$n_1 \sin i = n_2 \sin r \quad (14.19)$$



Gambar 14.11 Pembiasan pada Bidang Lengkung

Untuk sinar-sinar paroksial, yaitu sinar-sinar yang jatuh dekat puncak, sudut i dan sudut r , merupakan sudut-sudut yang kecil, sehingga sinus sudut kecil \approx tangent sudut kecil itu sendiri. Dengan demikian, lingkup pembiasan pada lengkung sferik berlaku:

$$\frac{n_1}{s} + \frac{n_2}{s'} = \frac{n_2 - n_1}{R} \quad (14.20)$$

Adapun perbesaran bayangan (M) adalah:

$$M = \frac{n_1 s'}{n_2 s} \quad (14.21)$$

Keterangan:

n_1 = Indeks bias medium 1 (udara)

n_2 = Indeks bias medium 2 (gelas)

s = Jarak benda terhadap permukaan lengkung sferik (m)

s' = Jarak bayangan terhadap permukaan lengkung sferik (m)

R = Jari-jari kelengkungan (m)

Persamaan pembiasan pada bidang lengkung juga berlaku pada bidang datar, tetapi jari-jari permukaan $R = \infty$, sehingga:

$$\frac{n_2 - n_1}{\infty} = \frac{n_1}{s} + \frac{n_2}{s_1} = 0 \quad (14.22)$$

dengan demikian:

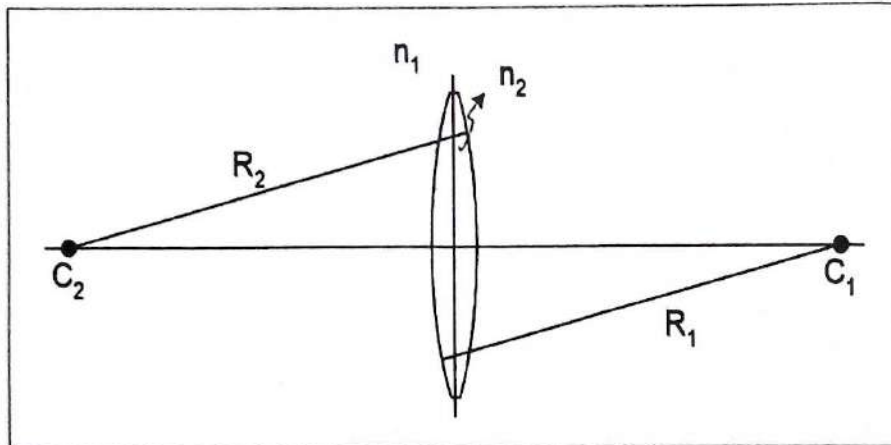
$$s' = - \frac{n_2}{n_1} s \quad (14.23)$$

J. Pembiasan pada Lensa

Lensa adalah suatu sistem optik yang dibatasi oleh dua permukaan pembias atau lebih dan mempunyai sumbu persekutuan. Terdapat beberapa macam lensa yaitu lensa susunan, lensa tipis, dan lensa tebal. Lensa susunan yaitu lensa yang hanya memiliki dua permukaan. Lensa sederhana yang ketebalan pada sumbunya cukup kecil sehingga seluruh deviasi pada lensa dapat dianggap terjadi pada bidang tunggal yang melalui tengah-tengah lensa. Apabila pendekatan ini berlaku

maka lensa disebut *lensa tipis*. Jika ketebalan tidak diabaikan maka lensa disebut *lensa tebal*.

Pada lensa tipis kedua bidang utama dianggap berimpit dengan bidang datar yang melalui pusat optik lensa. Jadi jarak fokus lensa tipis sama dengan jarak dari pusat optik ke masing-masing titik fokusnya.



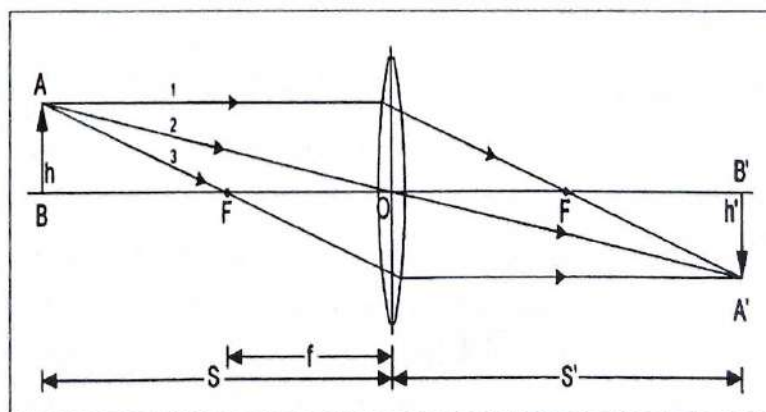
Gambar 14.12 Bentuk Lensa Tipis

Bentuk persamaan jarak fokus lensa tipis adalah:

$$\frac{1}{f} = \frac{n_2 - n_1}{n_1} \left(\frac{1}{R_1} - \frac{1}{R_2} \right) \quad (14.24)$$

Untuk menggambarkan sinar-sinar istimewa pada lensa digunakan tiga pelukisan sinar, yaitu:

- Sinar sejajar sumbu dibiaskan melalui F' (1).
- Sinar yang diarahkan ke pusat optik tidak dibiaskan (2).
- Sinar yang melalui titik fokus pertama dibiaskan sejajar sumbu (3).



Gambar 14.13 Sinar-sinar Istimewa pada Lensa

Untuk menentukan perbesaran bayangan dapat dilihat pada segitiga AOB dan A'OB' pada Gambar 14.13 diperoleh:

$$-\frac{h'}{h} = \frac{S'}{S} \rightarrow \frac{h'}{h} = -\frac{S'}{S}$$

Maka perbesaran bayangan pada lensa yang disimbolkan dengan m adalah:

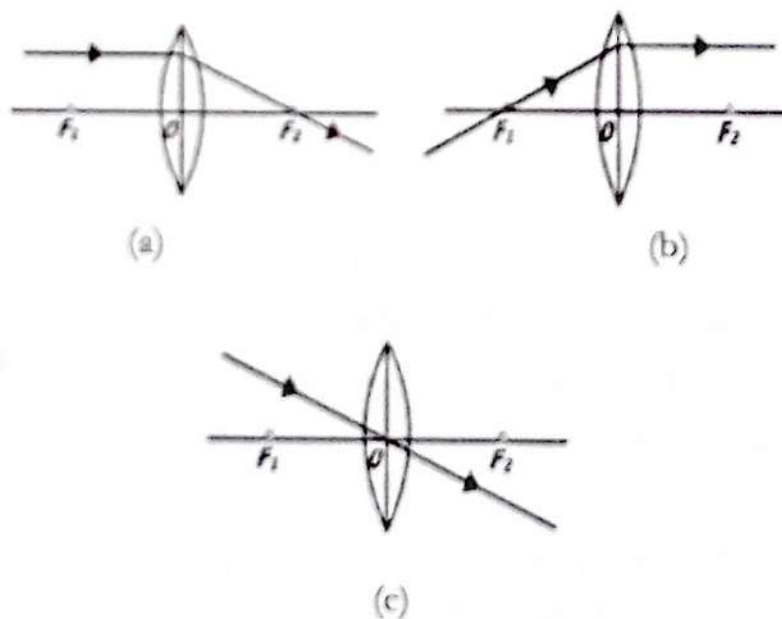
$$m = \frac{h'}{h}$$

atau $m = -\frac{S'}{S}$ (14.25)

1. Lensa Cembung

Sinar-sinar istimewa dari lensa cembung antara lain sebagai berikut.

- Sinar datang melalui sumbu utama dibiaskan melalui titik fokus (Gambar 14.12a).
- Sinar datang melalui titik fokus dibiaskan sejajar dengan sumbu utama (Gambar 14.12b).
- Sinar datang melalui pusat kelengkungan tidak dibiaskan, tetapi diteruskan (Gambar 14.12c).

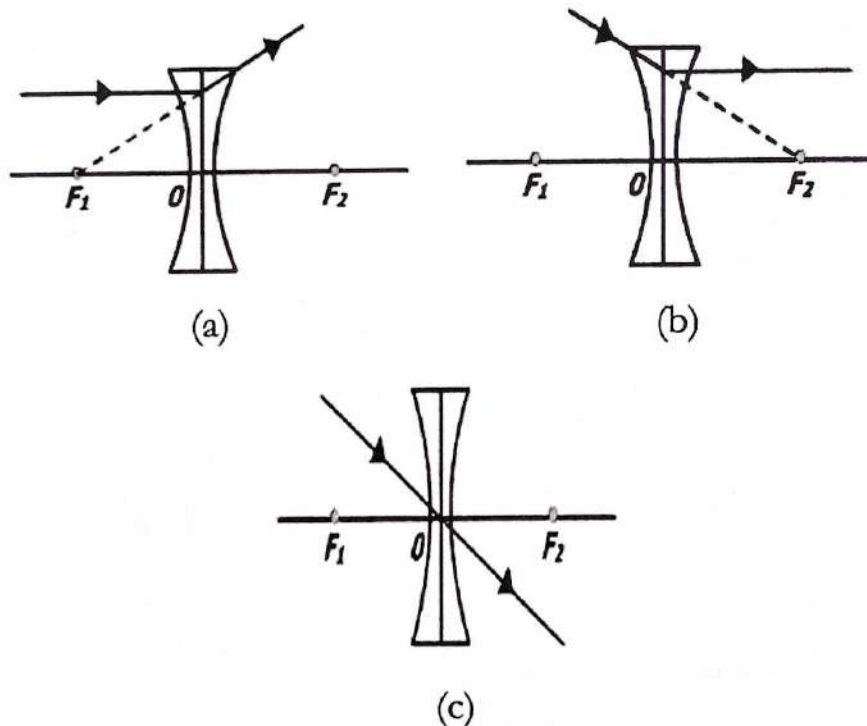


Gambar 14.14 Sinar-sinar Istimewa pada Lensa Cembung

2. Lensa Cekung

Sinar-sinar istimewa dari lensa cekung antara lain sebagai berikut.

- Sinar datang sejajar dengan sumbu utama dibiaskan seolah-olah dari titik fokus (F_1).
- Sinar datang seolah-olah menuju titik fokus dibiaskan sejajar dengan sumbu utama.
- Sinar datang melalui titik pusat kelengkungan tidak dibiaskan tetapi diteruskan.



Gambar 14.15 Sinar-sinar Istimewa pada Lensa Cekung

Ketentuan umum pada lensa cembung dan lensa cekung yaitu:

- Jika lensa tipis tersebut adalah lensa cembung, maka R_1 positif dan R_2 negatif, sedangkan lensa cekung maka R_1 negatif dan R_2 positif.
- Untuk lensa cembung titik fokus f positif, sedangkan lensa cekung titik fokus f negatif.
- Untuk benda nyata (di depan lensa) : S positif.
- Untuk benda maya (di belakang lensa) : S negatif.

- e. Untuk bayangan nyata (di belakang lensa) : S' positif.
- f. Untuk bayangan maya (di depan lensa) : S' positif.

Pada lensa cembung dan lensa cekung berlaku persamaan:

$$\frac{1}{f} = \frac{1}{S} + \frac{1}{S'} \quad \text{untuk titik fokus lensa} \quad (1.26)$$

$$M = \left| \frac{S'}{S} \right| = \left| \frac{h'}{h} \right| \quad \text{untuk perbesaran bayangan} \quad (14.27)$$

3. Kekuatan Lensa

Kekuatan lensa adalah kemampuan lensa mengumpulkan atau menyebarkan berkas cahaya yang diterimanya. Besarnya kekuatan lensa berbanding terbalik dengan jarak fokusnya. Secara matematisnya sebagai berikut.

$$P = \frac{1}{f} \quad (14.28)$$

Keterangan

P = Kekuatan lensa (dioptri)

f = Jarak fokus (m)

4. Lensa Gabungan

Kekuatan lensa dan jarak fokus dari beberapa lensa tipis yang digabung jika sumbu utamanya berimpit dapat dirumuskan sebagai berikut.

$$P_{gab} = P_1 + P_2 + P_3 + \dots$$

$$\frac{1}{f_{gab}} = \frac{1}{f_1} + \frac{1}{f_2} + \frac{1}{f_3} + \dots \quad (14.29)$$

Keterangan:

P_{gab} = Kekuatan lensa gabungan (dioptri)

f_{gab} = Jarak fokus gabungan (m)

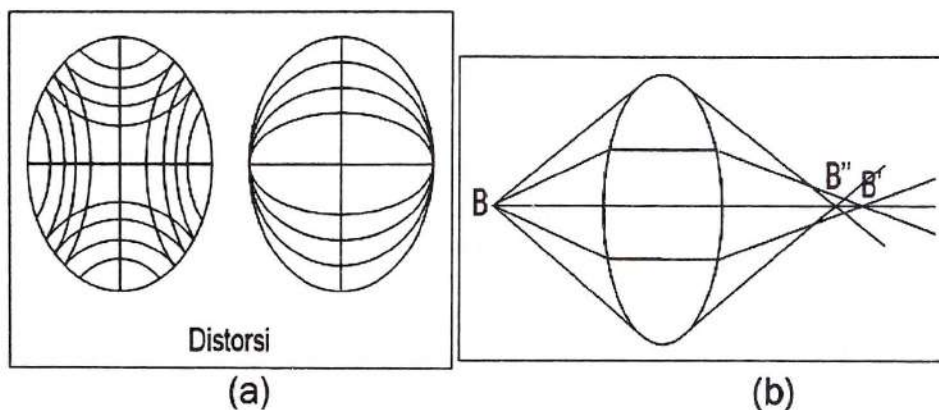
5. Penyimpangan Paraksial Lensa

Suatu penyimpangan yang terjadi pada keadaan ideal yang diramalkan oleh sinar paraksial ini disebut *aberasi lensa*. Terbentuknya bayangan oleh lensa pada pembahasan sebelumnya hanya berlaku untuk keadaan khusus, yaitu untuk sinar-sinar paraksial. Sinar-sinar paraksial merupakan sinar yang membentuk sudut yang kecil terhadap sumbu pembias atau pemantul, sehingga lengkungan permukaan dapat diabaikan. Ada dua penyimpangan yang terjadi dan tidak ada hubungannya dengan sinar paraksial lensa yaitu *penyimpangan kromatik* dan *penyimpangan monokromatik*. Penyimpangan secara *kromatik* terjadi disebabkan karena indeks bias lensanya tergantung pada cahaya. Penyimpangan kromatik terjadi karena jarak-jarak fokus lensa bergantung pada indeks bias bahan kaca lensa, jadi berarti bahwa cahaya dengan warna berlainan jarak fokus lensa juga berbeda: jadi setiap komponen warna akan terbentuk bayangan pada suatu tempat. Artinya setiap bayangan mempunyai warna bayangan tertentu, dan terletak pada jarak yang berbeda-beda.

Sementara itu, penyimpangan *monokromatik* tidak hubungannya dengan indeks bias bahan. Ada empat macam penyimpangan monokromatik yaitu koma, astigmatisme, distorsi dan penyimpangan sferik. Penyimpangan koma terjadi pada pembentukan bayangan dari suatu benda titik yang tidak terletak pada sumbu lensa bayangan yang terjadi pada layar. Tampak seperti komet, atau seperti tanda baca koma. Terjadinya penyimpangan koma, karena bayangan oleh sinar tepi tidak terletak pada titik yang sama dengan bayangan yang terbentuk oleh sinar paraksial.

Astigmatisme terjadi karena dua bidang sinar yang saling tegak lurus yang berasal dari suatu sumber atau titik yang terletak jauh dari sumbu, tidak membentuk bayangan pada tempat yang sama. Bayangan garis mendatar (bayangan primer) dan bayangan membentuk garis vertikal (bayangan sekunder) berimpit pada sumbu lensa, tetapi di luar sumbu lensa yang kedua bayangan ini terpisah.

Penyimpangan distorsi adalah suatu aberasi yang tidak berhubungan dengan ketajaman bayangan. Bayangan yang terjadi pada aberasi ini tajam, tetapi bentuknya mengalami distorsi atau cacat: misalnya obyek berupa garis sejajar, bayangannya tampak melengkung dan tidak sejajar lagi. Aberasi sperik terjadi pada pembentukan bayangan dari suatu benda statis yang terletak pada sumbu lensa sinar paraksial dari B membentuk bayangan di B' dan sinar yang tidak paraksial membentuk bayangan di B''. Sinar-sinar yang datang pada lensa membentuk bayangan di antara B' dan B''. Jadi bayangan dari suatu titik yang terletak pada suatu sumbu tidak terletak pada satu titik yang diramalkan oleh rumus lensa. Berikut penggambaran penyimpangan distorsi dan sperik.



Gambar 14.16 Penyimpangan Distorsi dan Sperik

Contoh Soal 9

Sebuah lensa tipis memiliki jari-jari kelengkungan 40 cm terbuat dari kaca, $n = 1,65$. Tentukan jarak fokusnya!

Pembahasan:

Jika lensa tipis tersebut adalah lensa cembung, maka R_1 positif dan R_2 negatif, diperoleh:

$$\begin{aligned} \frac{1}{f} &= \frac{n_2 - n_1}{n_1} \left(\frac{1}{R_1} - \frac{1}{R_2} \right) \\ &= 0,65 \left(\frac{1}{40} - \frac{1}{-40} \right) \end{aligned}$$

$$= \frac{1,3}{40}$$

$$f = \frac{40}{1,3} = 30,77 \text{ cm.}$$

Jika lensa tipis tersebut adalah lensa cekung, maka R_1 negatif dan R_2 positif.

$$\frac{1}{f} = \frac{n_2 - n_1}{n_1} \left(\frac{1}{R_1} - \frac{1}{R_2} \right)$$

$$= 0,65 \left(\frac{1}{-40} - \frac{1}{40} \right)$$

$$= -\frac{1,3}{40}$$

$$f = -30,77 \text{ cm}$$

Contoh Soal 10

Lensa cekung rangkap mempunyai fokus 50 cm. Sebuah benda berdiri 25 cm di depan lensa. Tentukan jarak benda bayangan terhadap lensa dan perbesaran bayangannya!

Pembahasan:

Diketahui: $f = -50 \text{ cm}$ (negatif, karena lensa cembung)

$s = 25 \text{ cm}$

Ditanyakan: $s = \dots \text{ cm?}$

Jawab:

$$\frac{1}{f} = \frac{1}{s} + \frac{1}{s'}$$

$$\frac{1}{s'} = \frac{1}{f} - \frac{1}{s}$$

$$\frac{1}{s'} = -\frac{1}{50} - \frac{1}{25}$$

$$\frac{1}{s'} = -\frac{3}{50}$$

$s' = -16,7$ cm, tanda negatif berarti bayangan maya. Jadi, jarak bayangan terhadap lensa adalah 16,7 di depan lensa.

Sedangkan perbesaran bayangannya adalah:

$$M = \left| \frac{s'}{s} \right| = \left| \frac{-16,7}{25} \right|$$

$$M = 0,67 \text{ kali}$$

Jadi, perbesaran bayangannya adalah 0,67 kali.

Contoh Soal 11

Sebuah lensa plan-konkaf berada di udara dengan jarak fokus 55 cm. tentukan kekuatan lensa tersebut!

Pembahasan:

Diketahui: $f = -55$ cm (negatif karena lensa plan-konkaf)
 $= -0,55$ m

Ditanyakan: kekuatan lensa (P) = dioptri?

Jawab:

$$P = \frac{1}{f} = \frac{1}{-0,55} = -1,82 \text{ dioptri.}$$

Jadi, kekuatan lensa plan-konkaf tersebut adalah -1,82 dioptri

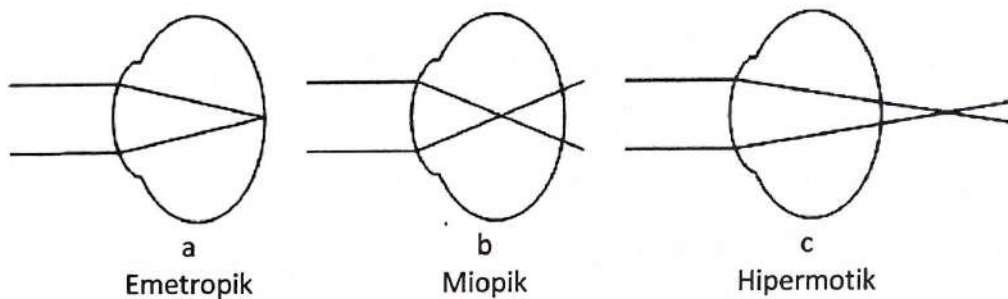
K. Optik Fisis

1. Mata

Bagian yang terpenting dari mata adalah lensa mata dan retina, lensa mata berfungsi mengatur pembiasan dan retina berfungsi sebagai layar tempat menangkap bayangan yang tegas suatu benda. Dalam penglihatan mata dikenal dua titik, yaitu titik jauh dan titik dekat. Titik jauh ialah titik dengan jarak terjauh yang dapat dilihat dengan

jelas, sedangkan titik dekat adalah titik dengan jarak terdekat yang dapat dilihat dengan jelas.

Untuk mata minimal titik jauh yang terletak pada jarak tak terhingga dan titik dekatnya, bergantung pada berapa jauh kelengkungan lensa yang dapat dihasilkan dengan akomodasi. Pada umumnya titik dekat normal kira-kira 25 cm jangkauan. Jarak terdekat yang dapat dicapai dengan akomodasi berubah dengan umur. Mata yang tidak mengalami cacat penglihatan disebut emetropik (titik jauhnya = ∞). Jika titik jauh lebih kecil dari ∞ , maka mengalami cacat penglihatan. Mata seperti ini disebut *ametropik*, kejadiannya disebut *ametropia*. Ametropia ada dua yaitu miopik dan hipermiopik (lihat Gambar 14.17).



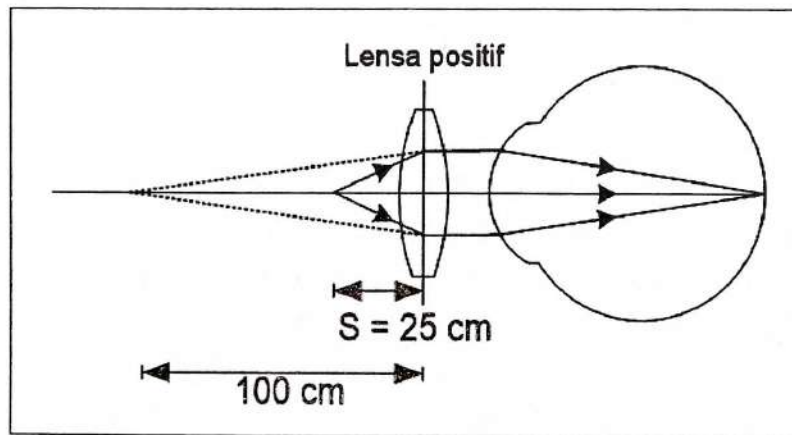
Gambar 14.17 Penglihatan Bayangan pada Mata (a) Normal, (b) Rabun Jauh, dan (c) Rabun Dekat

Pada mata miopa, bola mata terlalu panjang, sehingga sinar sejajar terpusat di depan retina. Untuk menghilangkan cacat penglihatan ini digunakan *lensa negatif*. Pada mata hipermiopa bola mata terlalu pendek, sehingga sinar-sinar sejajar terpusat di belakang retina. Cacat penglihatan ini dapat ditolong dengan *lensa positif*, sehingga titik bayangan kembali ditangkap tepat pada retina. Cacat penglihatan yang lain ialah astigmatisme. Cacat ini disebabkan karena kelengkungan bola mata tidak berbentuk bola. Jika mata menderita cacat seperti ini, maka ia tidak dapat melihat garis-garis horizontal dan vertikal bersama-sama. Cacat mata ini dapat ditolong dengan *lensa silindris*.

Tabel 14.1 Jarak Titik Dekat untuk Berbagai Umur

Umur (Tahun)	Titik Dekat (cm)
10	7
20	10
30	14
40	22
50	40
60	200

Titik dekat mata *presbiopia* dan *hiperopia* lebih jauh daripada titik dekat mata emetropik. Untuk melihat benda pada jarak normal (25 cm), maka di depan mata harus dipasang suatu lensa positif (Gambar 14.18). Jadi bayangan benda sama dengan titik dekat.



Gambar 14.18 Lensa Positif untuk Mata *Hyperopia*

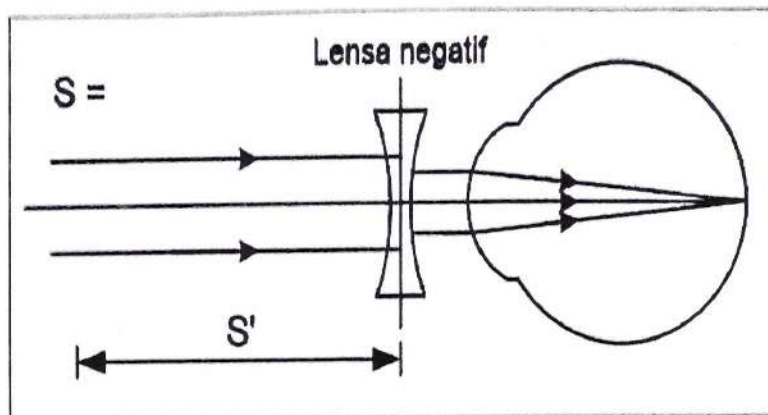
Jarak fokus lensa yang harus digunakan dapat dihitung dengan mengetahui titik dekat mata tersebut dan titik dekat normal. Misalkan titik dekat mata *presbiopia* atau *hiperopia* = 100 cm, maka untuk melihat benda pada jarak 25 cm (pada titik dekat normal), harus menggunakan lensa positif yang jarak fokusnya dapat dihitung sebagai berikut.

$$\frac{1}{S} + \frac{1}{S'} = \frac{1}{f}$$

karena bayangan s' di depan lensa, tandanya harus negatif.

$$\frac{1}{S} - \frac{1}{S'} = \frac{1}{f} \rightarrow \frac{1}{25} - \frac{1}{100} = \frac{1}{f} \rightarrow f = 33,3 \text{ cm}$$

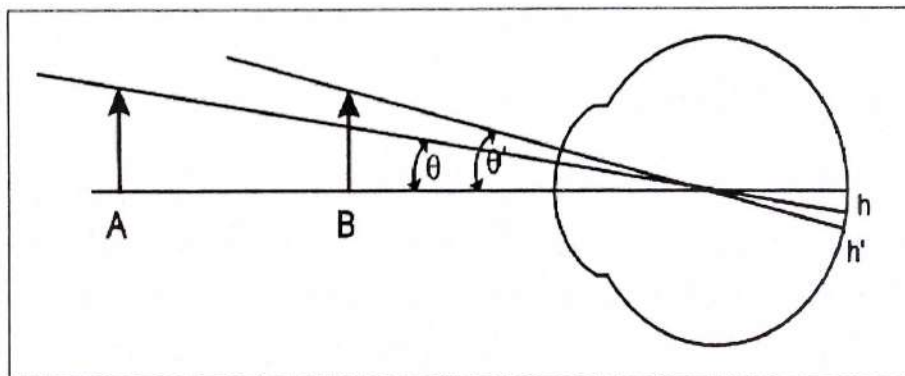
Titik jauh mata miopik $< \infty$. Supaya dapat melihat yang jauh tak terhingga (normal), maka di depan mata harus digunakan *lensa negatif* (Gambar 14.19).



Gambar 14.19 Lensa Negatif untuk Mata Miopik

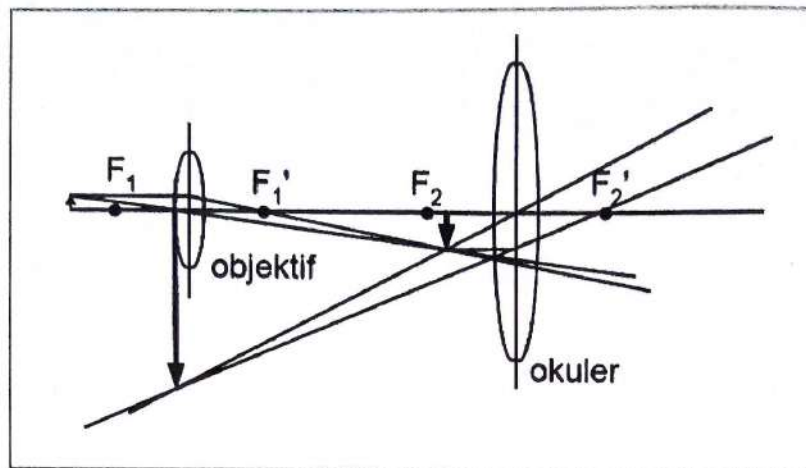
2. Kaca Pembesar

Besar kecilnya benda yang kelihatan yang bergantung pada besar kecilnya bayangan yang terbentuk pada retina. Besar kecilnya bayangan ditentukan oleh besar sudut-sudut yang dibentuk oleh sinar datang dengan sumbu lensa (lihat Gambar 14.20).



Gambar 14.20 Benda Sama pada Jarak yang Berbeda

3. Mikroskop



Gambar 14.21 Skema Sinar pada Mikroskop

Untuk memperoleh perbesaran yang lebih dari kaca pembesar dipergunakan mikroskop. Mikroskop terdiri dari 2 lensa objektif dan okuler (Gambar 14.21). Bayangan yang dibentuk oleh lensa objektif merupakan benda untuk lensa okuler. Apabila bayangan ini tepat berada di titik fokus lensa okuler, maka bayangan dari lensa okuler dapat dilihat dengan *mata tak berakomodasi*. Untuk perbesaran total M adalah:

$$M = m_{o1} \times m_{o2}$$
$$M = \frac{x}{f_1} \times \frac{25}{f_2} \quad (14-30)$$

x = Jarak bayangan ke titik fokus lensa objektif dalam m

F = Jarak fokus dinyatakan dalam m

L. Latihan Soal

1. Di manakah sebuah benda harus diletakkan di depan sebuah cermin cekung yang jari-jari kelengkungannya 50 cm, agar bayangan yang terbentuk bersifat nyata dan 3 kali lebih besar?
2. Sebuah benda yang tingginya 4 cm diletakkan 30 cm di depan sebuah cermin cekung dengan jari-jari kelengkungan 20 cm. Tentukanlah lokasi, tinggi, dan sifat bayangan dengan cara (a) perhitungan dan (b) lukisan!

3. Sebuah lampu pijar terletak sejauh 10 cm di depan cermin. Apakah jenis cermin yang dipakai dan berapa jejari kelengkungannya agar terbentuk bayangan nyata pada dinding sejauh 3 cm dari cermin, berapa tinggi bayangan yang terbentuk jika tinggi benda 5 cm?
4. Sebuah tabung reaksi berisi air ($n = 4/3$) dengan jari-jari kelengkungan 5 cm, pada bagian dasar tabung terdapat kelereng. Apabila bayangan kelereng terlihat 10 cm di bawah permukaan, tentukan tinggi air sesungguhnya!
5. Jarak fokus lensa konvergen = 10 cm. Di manakah letak bayangan dari suatu benda yang jaraknya 20 cm dari lensa tersebut?
6. Seorang dengan mata hiperop dapat melihat dengan jelas pada jarak 60 cm. Berapakah kekuatan lensa yang harus dipakai, supaya dapat membaca pada jarak 20 cm?
7. Titik jauh mata propik sama dengan 100 cm. Berapa jarak fokus yang dihasilkan dan jenis lensa apa yang dipakai? Hitung pula kekuatan lensa yang digunakan!
8. Sebuah lensa tipis memiliki jari-jari pusat kelengkungan 50 cm terbuat dari *glass*, $n = 1,55$. Hitung jarak fokusnya!

Selamat Bekerja

DAFTAR PUSTAKA

- Cooper, William David. 1985. *Instrumentasi Elektronik dan Teknik Pengukuran*. Edisi ke-2 (Terjemahan Ir. Sahat Pakpahan). Jakarta: Erlangga.
- Djonoputro, B Darmawan. 1984. *Teori Ketidakpastian Menggunakan Satuan SI*. Terbitan Kedua. Bandung: Jurusan Fisika ITB Bandung.
- Fatimah, S., & F. Indrawati. 2018. "Program Keselamatan dan Kesehatan Kerja di Laboratorium Kimia". *Higeia Journal of Public Health Research and Development*, 1(3), 84–94.
- Giananta, P., J. Hutabarat & Soemanto. 2020. "Keselamatan dan Kesehatan Kerja Menggunakan Metode Hirarc di PT Boma Bisma Indra." *Jurnal Valtech (Jurnal Mahasiswa Teknik Industri)*, 3(2), 106–110.
- Giancolly. 2014. *Fisika Universitas*. Jilid 1. Jakarta: Erlangga.
- Halliday, D. & R. Resnick. 2016. *Physics*. Terjemahan: Pantur Silaban & Erwin Sucipto. Jakarta: Erlangga.
- Haslindah, A., Jamaluddin, & G.S. Kasman. 2017. "Analisis Sistem Manajemen Keselamatan dan Kesehatan Kerja Pada PT. PLN (Persero) Sektor Pembangkit Tello Kota Makasar". *ILTEK*, 12(2), 1755–1759.

- Indragiri, S. 2018. "Manajemen Risiko K3 Menggunakan Hazard Identification Risk Assessment and Risk Control (HIRARC)". *Jurnal Kesehatan*, 9(1), 39–52.
- Kirkup, Les. 1994. *Experimental Methods*. Australia: Jacaranda Wiley LTD Australia.
- Laboratorium Fisika Dasar. 2015. *Penuntun Praktikum Fisika Dasar*. Makassar: Bidang Ilmu Alamiah Dasar UPT-MKU Universitas Hasanuddin Makassar.
- Phywe Excellence in Science (2021). *Laboratory Experiments Physics*.
- Ridasta, B. A. 2020. "Penilaian Sistem Manajemen Keselamatan dan Kesehatan Kerja di Laboratorium Kimia". *Higeia Journal of Public Health Research and Development*, 4(1), 64–75.
- Santosa, Ign Edi. 2017. *Eksperimen Fisika*. Edisi 2. Yogyakarta: Laboratorium Fisika Universitas Sanata Dharma.
- Septiani, R., & M. Pratiwi. 2019. "Penetapan Metode 5R (Ringkas, Rapi, Resik, Rawat, Rajin) dan Identifikasi Potensi Bahaya di Gudang Bahan Kimia Laboratorium". *Journal of Chemical Information and Modeling*, 53(9), 1689–1699.
- Soetanto & Taufik Rachim. 1981. *Teknik Pengukuran (Metrologi Industri)*. Jakarta.
- Sutapa, I. N., & I. W. S. I. K. Sutapa. 2020. "Evaluasi Penerapan Kesehatan dan Keselamatan Kerja Berdasarkan Sistem Manajemen K3 Workshop dan Laboratorium Jurusan Teknik Sipil". *Seminar Nasional Terapan Riset Inovatif (SENTRINOV)*, 6(1), 539–546.
- Syah, Darwyan, Supardi, & Abd. Azis Hasibuan. 2009. *Pengantar Statistik Pendidikan*. Jakarta: Gaung Persada Press.
- Tenny, Kevin M & Jeffrey S. Cooper. 2021. *Ideal Gas Behaviour*. Treasure Island (FL): StatPearls Publishing.
- Telaumbanua, M.J. 2020. "Perancangan Sistem Manajemen Keselamatan dan Kesehatan Kerja Pada Laboratorium Desain Produk dan Inovasi di Institut Teknologi Del". *In Institut Teknologi Del* (Vol. 21, Issue 1). <http://mpoc.org.my/malaysian-palm-oil-industry/>.

- Tim Dosen Fisika Dasar. 2018. *Materi Perkuliahan Fisika Dasar*. Jurusan Fisika UIN Alauddin Makassar.
- Tipler, 2016. *Fisika Untuk Sains dan Teknik 2*. Edisi ketiga. Jakarta: Erlangga.
- Tim Pudah Scientific. 2016. *Fisika (Panduan Contoh-Contoh Percobaan Fisika untuk SMU, Madrasah Aliyah dan Sekolah yang Setingkat)*. Bandung: Pudah Scientific.
- Tippens, P.E., P.W. Zitzewitz, & C. Kramer. 1995. *Laboratory Manual for Physics*. Fifth Edition. New York: GLENCOE McGraw-Hill.
- Utari, Setiya, dkk. 2000. *Petunjuk Praktikum Fisika Dasar 1*. Bandung: Jurusan Pendidikan Fisika FMIPA Universitas Pendidikan Indonesia.
- Wahyudin, F. N. Azizah, & B. Nugraha. 2016. *Analisis Perbaikan Fasilitas Bermain yang Ergonomi Outdoor Santri Raudhatul Atfal dengan Metode Besafe*. Teknik Industri Universitas Singaperbangsa Karawang.
- Wadjudi, Farid & Nur Azman. 2013. *Penuntun Praktikum Fisika Dasar*. Bandung: Ganeca Science Book Serie's.
- Wasis & Retno Hasanah. 2004. *Sistem Satuan dan Pengukuran*. Jakarta: Bagian Proyek Pengembangan Kurikulum Direktorat Pendidikan Menengah dan Kejuruan Direktorat Jenderal Pendidikan Dasar dan Menengah Departemen Pendidikan Nasional.
- Wirasasmita, Omang. 1989. *Pengantar Laboratorium Fisika*. Jakarta: Departemen Pendidikan dan Kebudayaan Direktorat Jenderal Pendidikan Tinggi Proyek Pengembangan Lembaga Pendidikan Tenaga Kependidikan.
- Young, Haugh D. & Roger A. Freedman. 2013. *Sears and Zemansky Fisika Universitas*. Edisi ke-10. Jilid 2. Jakarta: Erlangga.



INDEKS

A

Aluminium, xviii, 83, 86, 89, 92
Amperemeter, xvii, xxi, xxii, 18, 24, 36,
37, 111, 115, 116, 117, 120, 124,
125, 129, 132, 140, 166
Amplitudo, xviii, 69, 71
Analisis Loop, xv, xxiii, 129, 130, 132,
140

B

basic meter, 5, 17, 18, 19, 23, 112, 113

C

Cobra3, viii, xiv, xviii, xxii, 73, 74, 75,
76, 77, 78

D

Difraksi, xv, 143, 147
Dynamometer, 15

E

Eksperimen, iv, vii, xiii, xiv, xv, xvi, xx,
xxii, 18, 20, 21, 22, 25, 32, 34, 36,
40, 42, 45, 46, 47, 49, 51, 53, 54,
56, 59, 61, 64, 65, 66, 67, 68, 69,
70, 71, 73, 74, 75, 81, 84, 85, 94,
97, 99, 102, 105, 108, 111, 114,
126, 129, 130, 132, 140, 143, 145,
157, 159, 164, 165, 166, 172, 214

F

Fraunhofer, viii, xv, 143, 147, 157

G

Gaya gesekan, 45, 51, 52, 97
Gaya tarik, 217
Gelombang, xv, xvi, xviii, xix, xxii, 105,
106, 107, 108, 109, 110, 177,
179, 198
Gerak, xiii, xxii, 45, 46, 47, 48, 51

J

jangka sorong, 5, 19, 20, 43, 145, 146
Jarak Fokus Lensa, xv, 159, 160, 161

K

Kalor, xiv, xvi, xviii, xxiii, 73, 74, 78,
79, 81, 165, 167, 168
Kapasitas Kalor, xiv, xviii, 73, 74, 78
kedalaman, 8, 20
ketebalan, 199, 200
Kirchoof, viii, xv, 126, 129
Koefisien gesekan, 51, 52, 58, 59

L

Laser, xv, 143
Lensa, xv, xvi, xxiii, xxiv, 159, 160, 161,
162, 164, 199, 200, 201, 202, 203,
204, 206, 209, 210
Listrik, xv, xvi, xxii, xxiii, 23, 36, 83,
111, 129, 165, 167, 168
logam, 20, 21, 52, 78, 83, 84, 85, 86,
94, 95
Loop, xv, xix, xxiii, 129, 130, 131, 132,
133, 134, 135, 136, 137, 138,
140, 141

M

Melde, viii, xv, 105, 108
Menggelinding, xiii, xxii, 45, 46, 47,
48, 49
mikrometer, 5, 9, 10, 12, 13, 14, 19,
20, 21, 43

N

nilai skala terkecil, 3, 4, 12, 15, 16, 18,
23, 26, 43, 54, 55, 102
nonius, 5, 7, 8, 9, 10, 11, 12, 13, 20,
21, 26, 42, 43

O

Optik, xv, xvi, 159, 175, 207

P

Panjang, xiv, xvii, xviii, xix, xxii, 20,
25, 26, 27, 29, 31, 65, 69, 70, 81,
82, 83, 84, 86, 87, 94, 107, 108,
109, 146, 150
Panjang Gelombang, 108, 109
Pemuaian, xiv, xxii, 81, 82, 84, 94
pengukuran, viii, 1, 2, 3, 4, 6, 7, 8, 9,
10, 12, 13, 14, 18, 19, 20, 21, 22,
23, 24, 25, 26, 40, 42, 44, 47, 48,
57, 58, 76, 77, 81, 88, 89, 99, 100,
102, 109, 112, 117, 119, 120, 123,
126, 127, 140
pengukuran langsung, 18, 19, 20, 21
Periode, xviii, 34, 35, 61, 65, 68, 69, 70

S

Sah, iv
skala utama, 5, 6, 7, 8, 9, 10, 11, 12, 13,
20, 21, 42, 43
Spherometer, xxi, 11, 19, 25, 26, 27,
28, 31
Stopwatch, xvii, xxi, xxii, 15, 16, 19, 23,
34, 35, 47, 66, 99, 166
sudut kemiringan, 47, 48, 49
Suhu, xiv, xxii, 24, 25, 40, 73, 79, 81,
86, 87, 165, 168
suhu campuran, 1

T

Tara Kalor, xvi, xxiii, 165, 167, 168
tinggi, vii, 1, 12, 63, 74, 99, 178, 211,
212, 221

V

Vakuumrat, siv. 97, 99

Voltmeter, siv. 110, 111, 112, 113, 114, 115, 116, 117, 118, 119, 120, 121, 122, 123, 124, 125, 126, 127, 128, 129, 130, 131, 132, 133, 134, 135, 136, 137, 138, 139, 140, 141, 142, 143, 144, 145, 146, 147, 148, 149, 150, 151, 152, 153, 154, 155, 156, 157, 158, 159, 160, 161, 162, 163, 164, 165, 166, 167, 168, 169, 170, 171, 172, 173, 174, 175, 176, 177, 178, 179, 180, 181, 182, 183, 184, 185, 186, 187, 188, 189, 190, 191, 192, 193, 194, 195, 196, 197, 198, 199, 200, 201, 202, 203, 204, 205, 206, 207, 208, 209, 210, 211, 212, 213, 214, 215, 216, 217, 218, 219, 220, 221, 222, 223, 224, 225, 226, 227, 228, 229, 230, 231, 232, 233, 234, 235, 236, 237, 238, 239, 240, 241, 242, 243, 244, 245, 246, 247, 248, 249, 250, 251, 252, 253, 254, 255, 256, 257, 258, 259, 260, 261, 262, 263, 264, 265, 266, 267, 268, 269, 270, 271, 272, 273, 274, 275, 276, 277, 278, 279, 280, 281, 282, 283, 284, 285, 286, 287, 288, 289, 290, 291, 292, 293, 294, 295, 296, 297, 298, 299, 300, 301, 302, 303, 304, 305, 306, 307, 308, 309, 310, 311, 312, 313, 314, 315, 316, 317, 318, 319, 320, 321, 322, 323, 324, 325, 326, 327, 328, 329, 330, 331, 332, 333, 334, 335, 336, 337, 338, 339, 340, 341, 342, 343, 344, 345, 346, 347, 348, 349, 350, 351, 352, 353, 354, 355, 356, 357, 358, 359, 360, 361, 362, 363, 364, 365, 366, 367, 368, 369, 370, 371, 372, 373, 374, 375, 376, 377, 378, 379, 380, 381, 382, 383, 384, 385, 386, 387, 388, 389, 390, 391, 392, 393, 394, 395, 396, 397, 398, 399, 400, 401, 402, 403, 404, 405, 406, 407, 408, 409, 410, 411, 412, 413, 414, 415, 416, 417, 418, 419, 420, 421, 422, 423, 424, 425, 426, 427, 428, 429, 430, 431, 432, 433, 434, 435, 436, 437, 438, 439, 440, 441, 442, 443, 444, 445, 446, 447, 448, 449, 450, 451, 452, 453, 454, 455, 456, 457, 458, 459, 460, 461, 462, 463, 464, 465, 466, 467, 468, 469, 470, 471, 472, 473, 474, 475, 476, 477, 478, 479, 480, 481, 482, 483, 484, 485, 486, 487, 488, 489, 490, 491, 492, 493, 494, 495, 496, 497, 498, 499, 500, 501, 502, 503, 504, 505, 506, 507, 508, 509, 510, 511, 512, 513, 514, 515, 516, 517, 518, 519, 520, 521, 522, 523, 524, 525, 526, 527, 528, 529, 530, 531, 532, 533, 534, 535, 536, 537, 538, 539, 540, 541, 542, 543, 544, 545, 546, 547, 548, 549, 550, 551, 552, 553, 554, 555, 556, 557, 558, 559, 560, 561, 562, 563, 564, 565, 566, 567, 568, 569, 570, 571, 572, 573, 574, 575, 576, 577, 578, 579, 580, 581, 582, 583, 584, 585, 586, 587, 588, 589, 590, 591, 592, 593, 594, 595, 596, 597, 598, 599, 600, 601, 602, 603, 604, 605, 606, 607, 608, 609, 610, 611, 612, 613, 614, 615, 616, 617, 618, 619, 620, 621, 622, 623, 624, 625, 626, 627, 628, 629, 630, 631, 632, 633, 634, 635, 636, 637, 638, 639, 640, 641, 642, 643, 644, 645, 646, 647, 648, 649, 650, 651, 652, 653, 654, 655, 656, 657, 658, 659, 660, 661, 662, 663, 664, 665, 666, 667, 668, 669, 670, 671, 672, 673, 674, 675, 676, 677, 678, 679, 680, 681, 682, 683, 684, 685, 686, 687, 688, 689, 690, 691, 692, 693, 694, 695, 696, 697, 698, 699, 700, 701, 702, 703, 704, 705, 706, 707, 708, 709, 710, 711, 712, 713, 714, 715, 716, 717, 718, 719, 720, 721, 722, 723, 724, 725, 726, 727, 728, 729, 730, 731, 732, 733, 734, 735, 736, 737, 738, 739, 740, 741, 742, 743, 744, 745, 746, 747, 748, 749, 750, 751, 752, 753, 754, 755, 756, 757, 758, 759, 760, 761, 762, 763, 764, 765, 766, 767, 768, 769, 770, 771, 772, 773, 774, 775, 776, 777, 778, 779, 780, 781, 782, 783, 784, 785, 786, 787, 788, 789, 790, 791, 792, 793, 794, 795, 796, 797, 798, 799, 800, 801, 802, 803, 804, 805, 806, 807, 808, 809, 810, 811, 812, 813, 814, 815, 816, 817, 818, 819, 820, 821, 822, 823, 824, 825, 826, 827, 828, 829, 830, 831, 832, 833, 834, 835, 836, 837, 838, 839, 840, 841, 842, 843, 844, 845, 846, 847, 848, 849, 850, 851, 852, 853, 854, 855, 856, 857, 858, 859, 860, 861, 862, 863, 864, 865, 866, 867, 868, 869, 870, 871, 872, 873, 874, 875, 876, 877, 878, 879, 880, 881, 882, 883, 884, 885, 886, 887, 888, 889, 890, 891, 892, 893, 894, 895, 896, 897, 898, 899, 900, 901, 902, 903, 904, 905, 906, 907, 908, 909, 910, 911, 912, 913, 914, 915, 916, 917, 918, 919, 920, 921, 922, 923, 924, 925, 926, 927, 928, 929, 930, 931, 932, 933, 934, 935, 936, 937, 938, 939, 940, 941, 942, 943, 944, 945, 946, 947, 948, 949, 950, 951, 952, 953, 954, 955, 956, 957, 958, 959, 960, 961, 962, 963, 964, 965, 966, 967, 968, 969, 970, 971, 972, 973, 974, 975, 976, 977, 978, 979, 980, 981, 982, 983, 984, 985, 986, 987, 988, 989, 990, 991, 992, 993, 994, 995, 996, 997, 998, 999, 1000

115, 116, 117, 118, 119, 121, 123, 166

Z

Zet cast, 99

TENTANG PENULIS



Muh. Said L., dilahirkan dari seorang bapak yang berprofesi guru di sekolah dasar. Ia lahir di suatu kediaman tepatnya di Kabupaten Jeneponto Desa Bungung Baddo, 04 September 1983. Ia memulai pendidikan formalnya di sekolah dasar sampai sekolah menengah atas di Kabupaten Jeneponto. Jenjang pendidikan S-1 masuk di perguruan tinggi Universitas

Negeri Makassar tahun 2001 pada Jurusan Fisika Fakultas Matematika dan Ilmu Pengetahuan Alam dan lulus pada bulan April tahun 2005. Pendidikan S-2 diperolehnya pada Program Pascasarjana UNM Makassar bidang Pendidikan Fisika tahun 2009. Pada tahun yang sama, penulis diangkat menjadi tenaga Dosen Tetap di Jurusan Fisika Fakultas Sains dan Teknologi UIN Alauddin Makassar berpangkat Lektor dan memegang jabatan sebagai Kepala Laboratorium Fisika Sains dan Teknologi (2010-sekarang).

Ia pernah mengikuti beberapa pelatihan dosen dua tahun terakhir di antaranya Workshop “Sosialisasi ISO/IEC 17025 Perguruan Tinggi di Kopertis Wilayah IX di Makassar” oleh Direktorat Jenderal Pendidikan Tinggi Komite Akreditasi Nasional (Juni 2012), Pelatihan Keterampilan Dasar dan Teknik Instruksional (PEKERTI) dan Orientasi

Islam Untuk Disiplin Ilmu (IDI) tahun 2012 di UIN Alauddin Makassar. Tahun 2010, ia menikah dengan **Hadriyanti, S.Pd** dan sekarang sudah dikaruniai empat anak, **Fakhriy, Fadhil, Arfa, dan Maisun Fatihah**, mereka memberikan spirit untuk terus berkarya yang terbaik. Buku ini merupakan karya koleksi yang disusun berdasarkan kebutuhan kurikulum pada Jurusan Fisika Fakultas Sains dan Teknologi. Buku ini bermanfaat bagi dosen dan mahasiswa yang berminat dalam pengolahan data dan rambat ralat eksperimen fisika dengan bantuan analisis ketidakpastian. Karya buku ini saya persembahkan kepada seluruh keluarga tercinta semoga dapat bermanfaat bagi kita semua.

Teknik Analisis Data dan Rambat Ralat

EKSPERIMEN FISIKA DASAR

Mengasah Psikomotorik Melalui Keterampilan
Menganalisis Data Percobaan Fisika

Data percobaan fisika membahas materi tentang teknik dan cara-cara menganalisis data eksperimen yang perlu dikuasai oleh mahasiswa eksak sebelum melakukan praktikum fisika dasar di tingkat perguruan tinggi.

Buku *Teknik Analisis Data dan Rambat Ralat Eksperimen Fisika Dasar: Mengasah Psikomotorik Melalui Keterampilan Menganalisis Data Percobaan Fisika* ini dapat dijadikan bahan referensi utama bagi mahasiswa tingkat pertama di perguruan tinggi. Teknik analisis data dan rambat ralat eksperimen ini telah diuraikan dengan cara terstruktur berdasarkan data-data hasil eksperimen di laboratorium fisika.

Terkadang setiap melakukan pengolahan data di laboratorium yang berkaitan dengan rambat ralat ketidakpastian, mahasiswa dan bahkan tenaga asisten laboratorium pun mengalami kesulitan dalam hal menganalisis data, karena kurangnya referensi standar yang tersedia. Oleh karena itu, dengan adanya buku referensi ini dapat membantu dalam hal analisis data dan pembuktian secara perhitungan rambat ralat.

Selanjutnya, dalam buku ini pula, terdapat 13 kasus eksperimen fisika dasar telah dikaji, mulai dari bab pertama hingga bab tiga belas. Bab 1 Pengukuran Besaran Fisis; Bab 2 Eksperimen Gerak: Gerak Menggelinding; Bab 3 Eksperimen Gerak: Koefisien Gesek; Bab 4 Eksperimen Elastisitas (Konstanta Pegas dan Bandul Matematis); Bab 5 Eksperimen Suhu dan Kalor: Kapasitas Kalor C_{oba}3; Bab 6 Eksperimen Suhu dan Kalor: Pemuai Panjang Logam; Bab 7 Eksperimen Kajian Fluida: Viskositas Zat Cair; Bab 8 Eksperimen Kajian Gelombang: Hukum Melde; Bab 9 Eksperimen Listrik Dinamis: Rangkaian Listrik Secara Seri-Paralel dan Gabungan; Bab 10 Eksperimen Listrik Dinamis: Analisis Loop (Hukum Kirchoof); Bab 11 Eksperimen Difraksi Fraunhofer dengan Sinar Laser; Bab 12 Eksperimen Optik: Jarak Fokus Lensa; Bab 13 Eksperimen Tara Kalor Mekanik dengan Cara Listrik; dan Bab 14 Optik.



RajaGrafindo Persada

PT RAJAGRAFINDO PERSADA

Jl. Raya Leuwisari No. 112

Kel. Leuwisari, Kec. Tapos, Kota Depok 16456

Telp: 021-84311362


Email: rajagrafindo@rajagrafindo.com

www.rajagrafindo.com



Alauddin University Press

RAJAWALI PERS
DIVISI BUKU PERGURUAN TINGGI



97862331724999