

**ANALISIS DESKRIPTIF SOAL-SOAL DALAM BUKU SISWA KURIKULUM
2013 (EDISI REVISI 2018) PELAJARAN MATEMATIKA SMP/MTs KELAS
IX DITINJAU DARI DOMAIN KOGNITIF TIMSS 2019**



Skripsi

Diajukan untuk Memenuhi Salah Satu Syarat Meraih Gelar
Sarjana Pendidikan pada Jurusan Pendidikan Matematika

Fakultas Tarbiyah dan Keguruan

UIN Alauddin Makassar

Oleh:

QAULAN MA'RUF LIRA

NIM: 20700117019

FAKULTAS TARBIYAH DAN KEGURUAN

UIN ALAUDDIN MAKASSAR

2024

PERNYATAAN KEASLIAN SKRIPSI

Mahasiswa yang bertanda tangan di bawah ini:

Nama : Qaulan Ma'ruf Lira
NIM : 20700117019
Tempat, Tgl. Lahir : Poso, 02 Agustus 1999
Jurusan/Prodi : Pendidikan Matematika
Fakultas : Tarbiyah dan Keguruan
Alamat : Jl. Tinumbu Lr. 165A No. 18 Makassar
Judul : Analisis Deskriptif Soal-Soal dalam Buku Siswa
Kurikulum 2013 (Edisi Revisi 2018) Pelajaran
Matematika SMP/MTs Kelas IX Ditinjau dari Domain
Kognitif TIMSS 2019

Menyatakan dengan sesungguhnya dan penuh kesadaran bahwa skripsi ini benar adalah hasil karya sendiri. Jika di kemudian hari terbukti bahwa ia merupakan duplikat, tiruan, plagiat, atau dibuat oleh orang lain, sebagian atau seluruhnya, maka skripsi dan gelar yang diperoleh karenanya batal demi hukum.

Makassar, 04 Januari 2024

Penyusun,



Qaulan Ma'ruf Lira

NIM: 20700117019

PERSETUJUAN UJIAN SKRIPSI (MUNAQASYAH)

Dewan penguji skripsi berjudul "Analisis Deskriptif Soal-Soal dalam Buku Siswa Kurikulum 2013 (Edisi Revisi 2018) Pelajaran Matematika SMP/MTs Kelas IX Ditinjau dari Domain Kognitif TIMSS 2019" disusun oleh Saudara Qaulan Ma'ruf Lira, NIM: 20700117019, dan telah diujikan dalam Ujian Kualifikasi Hasil Skripsi yang diselenggarakan pada hari Selasa, 7 November 2023 M, bertepatan dengan tanggal 23 Rabī'ul Akhir 1445 H, memandang bahwa skripsi tersebut telah memenuhi syarat-syarat ilmiah dan dapat disetujui untuk diajukan dalam sidang **Ujian Skripsi (Munaqasyah)**.

Demikian persetujuan ini diberikan untuk proses selanjutnya.

PEMBIMBING:

1. Drs. Thamrin Tayeb, M.Si.
2. Dr. Ridwan Idris, S.Ag., M.Pd.

(.....)

(.....)

PENGUJI:

1. Dr. Andi Halimah, M.Pd.
2. Dr. Nursalam, S.Pd., M.Si.

(.....)


(.....)


Samata-Gowa, 27 Desember 2023

Diketahui oleh:

A.n. Dekan FTK UIN Alauddin Makassar
Wakil Dekan Bidang Akademik,

Ketua Jurusan/Prodi
Pendidikan Matematika,


Dr. H. Muh. Rapi, M.Pd.
NIP 197303022001121002


Dr. Nursalam, S.Pd., M.Si.
NIP 198012292003121003

PENGESAHAN SKRIPSI

Skripsi berjudul, "Analisis Deskriptif Soal-Soal dalam Buku Siswa Kurikulum 2013 (Edisi Revisi 2018) Pelajaran Matematika SMP/MTs Kelas IX Ditinjau dari Domain Kognitif TIMSS 2019", yang disusun oleh Qaulan Ma'ruf Lira, NIM: 20700117019, mahasiswa Jurusan/Prodi Pendidikan Matematika, Fakultas Tarbiyah dan Keguruan, UIN Alauddin Makassar, telah diuji dan dipertahankan dalam sidang Ujian Skripsi/Munaqasyah yang diselenggarakan pada hari Senin, tanggal 08-Januari 2024 M, bertepatan dengan 26 Jumadil Akhir 1445 H, dinyatakan telah dapat diterima sebagai salah satu syarat untuk memperoleh gelar sarjana dalam Ilmu Tarbiyah dan Keguruan, Jurusan/Prodi Pendidikan Matematika dengan beberapa perbaikan.

Samata-Gowa, 16 Januari 2024 M
04 Rajab 1445 H

DEWAN PENGUJI:

Nomor SK 002 Tahun 2024

Ketua	: Dr. A. Ika Prasasti Abrar, S.Si., M.Pd.	(.....)
Sekretaris	: Ainul Uyuni Taufiq, S.Pd., M.Pd.	(.....)
Munaqisy I	: Dr. Andi Halimah, M.Pd.	(.....)
Munaqisy II	: Dr. Nursalam, S.Pd., M.Si.	(.....)
Pembimbing I	: Drs. Thamrin Tayeb, M.Si.	(.....)
Pembimbing II	: Dr. Ridwan Idris, S.Ag., M.Pd.	(.....)

Diketahui oleh:
Dekan Fakultas Tarbiyah dan Keguruan
UIN Alauddin Makassar,



Dr. Andi Achruh, M.Pd.I. r
06609081994031002

KATA PENGANTAR

Bismillahirrahmanirrahim.

Assalamu 'alaikum warahmatullahi wabarakatuh.

Alhamdulillah rabbil 'alamin, segala puji dan syukur kepada Allah swt. yang telah melimpahkan rahmat, taufik, dan hidayah-Nya, sehingga peneliti dapat menyelesaikan skripsi dengan judul “Analisis Deskriptif Soal-Soal dalam Buku Siswa Kurikulum 2013 (Edisi Revisi 2018) Pelajaran Matematika SMP/MTs Kelas IX Ditinjau dari Domain Kognitif TIMSS 2019” ini. Shalawat serta salam tak lupa senantiasa terhaturkan kepada Nabi Muhammad saw., keluarga, sahabat, serta para pengikutnya yang senantiasa mengikuti ajaran beliau hingga akhir zaman.

Banyak rintangan yang menghalangi peneliti dalam menyelesaikan skripsi ini. Oleh karena itu, peneliti ingin mengucapkan terima kasih kepada semua pihak yang telah membantu peneliti dalam proses penyelesaian skripsi ini. Secara khusus, peneliti mengucapkan terima kasih yang sebanyak-banyaknya kepada:

1. *Ummī* tercinta, Marsini, S.Pd.I dan *Abī* tercinta, Moh. Dirham, S.Pd. atas semua bantuan materil dan imateril yang telah diberikan kepada peneliti;
2. Drs. Thamrin Tayeb, M.Si. dan Dr. Ridwan Idris, S.Ag., M.Pd. atas semua masukannya selama membimbing peneliti;
3. Dr. Andi Halimah, M.Pd. dan Dr. Nursalam, S.Pd., M.Si. atas semua masukannya selama menguji peneliti;

4. Semua bapak dan ibu dosen serta bapak dan ibu staf program studi yang telah mengajar dan membantu peneliti selama duduk di bangku kuliah program studi Pendidikan Matematika;
5. Teman-teman Pendidikan Matematika kelas 1-2 angkatan 2017 Fakultas Tarbiyah dan Keguruan UIN Alauddin Makassar; serta
6. Toshiba Satellite L40-A PSKHCL-00P003.

Skripsi ini tentu saja jauh dari kata “sempurna”. Oleh karena itu, peneliti mengharapkan kritik dan saran yang membangun dari pembaca. Akhir kata, semoga skripsi ini dapat memberikan manfaat bagi peneliti dan pembaca.

Wassalamu 'alaikum warahmatullahi wabarakatuh.

Makassar, 04 Januari 2024

Peneliti,



Qaulan Ma'ruf Lira
NIM: 20700117019



DAFTAR ISI

PERNYATAAN KEASLIAN SKRIPSI.....	i
PERSETUJUAN UJIAN SKRIPSI (MUNAQASYAH).....	ii
PENGESAHAN SKRIPSI.....	iii
KATA PENGANTAR.....	iv
DAFTAR ISI.....	vi
DAFTAR TABEL.....	viii
DAFTAR GAMBAR.....	x
ABSTRAK.....	xi
BAB I PENDAHULUAN.....	1
A. Latar Belakang Masalah	1
B. Fokus Penelitian dan Deskripsi Fokus	6
C. Rumusan Masalah.....	9
D. Tujuan Penelitian	10
E. Manfaat Penelitian	11
BAB II TINJAUAN TEORETIS	12
A. Kurikulum.....	12
B. <i>Trends in International Mathematics and Science Study (TIMSS)</i>	19
C. Kajian Penelitian yang Relevan	25
D. Kerangka Konseptual.....	27

BAB III METODOLOGI PENELITIAN	29
A. Jenis Penelitian.....	29
B. Sumber Data Penelitian.....	30
C. Teknik Pengumpulan Data.....	30
D. Instrumen Penelitian	31
E. Teknik Analisis Data.....	31
F. Uji Keabsahan Data	33
BAB IV HASIL PENELITIAN DAN PEMBAHASAN.....	36
A. Identitas dan Isi Buku	36
B. Hasil Penelitian.....	38
C. Pembahasan.....	53
BAB V PENUTUP.....	69
A. Kesimpulan	69
B. Saran	70
DAFTAR PUSTAKA.....	71
LAMPIRAN.....	75

DAFTAR TABEL

Tabel 2.1 Domain Kognitif dari Kerangka Penilaian Matematika TIMSS.....	22
Tabel 2.2 Persentase Domain Kognitif pada Kerangka Penilaian Matematika TIMSS 2019.....	25
Tabel 4.1 Daftar Bab dan Subbab dalam Buku Siswa “Matematika”.....	37
Tabel 4.2 Hasil Analisis Soal-soal pada Bab I Ditinjau dari Domain Kognitif TIMSS.....	39
Tabel 4.3 Hasil Analisis Soal-soal pada Bab I Ditinjau dari Aspek Kognitif TIMSS.....	40
Tabel 4.4 Hasil Analisis Soal-soal pada Bab II Ditinjau dari Domain Kognitif TIMSS.....	42
Tabel 4.5 Hasil Analisis Soal-soal pada Bab II Ditinjau dari Aspek Kognitif TIMSS.....	43
Tabel 4.6 Hasil Analisis Soal-soal pada Bab III Ditinjau dari Domain Kognitif TIMSS.....	45
Tabel 4.7 Hasil Analisis Soal-soal pada Bab III Ditinjau dari Aspek Kognitif TIMSS.....	46
Tabel 4.8 Hasil Analisis Soal-soal pada Bab IV Ditinjau dari Domain Kognitif TIMSS.....	48

Tabel 4.9 Hasil Analisis Soal-soal pada Bab IV Ditinjau dari Aspek Kognitif	
TIMSS.....	49
Tabel 4.10 Hasil Analisis Soal-soal pada Bab V Ditinjau dari Domain Kognitif	
TIMSS.....	51
Tabel 4.11 Hasil Analisis Soal-soal pada Bab V Ditinjau dari Aspek Kognitif	
TIMSS.....	52
Tabel 4.12 Hasil Analisis Soal-soal pada Buku “Matematika” Kelas IX SMP/MTs Kurikulum 2013 Revisi 2018 Ditinjau dari Domain Kognitif	
TIMSS.....	64
Tabel 4.13 Hasil Analisis Soal-soal pada Buku “Matematika” Kelas IX SMP/MTs Kurikulum 2013 Revisi 2018 Ditinjau dari Aspek Kognitif	
TIMSS.....	66

DAFTAR GAMBAR

Gambar 2.1 Kerangka Konseptual Penelitian.....	28
Gambar 4.1 Persentase Domain Kognitif TIMSS Soal-soal pada Buku Matematika Kelas IX.....	65
Gambar 4.2 Jumlah Soal dalam Buku Siswa “Matematika” Kelas IX yang Termasuk dalam Tiap Aspek Kognitif TIMSS.....	68



ABSTRAK

Nama : Qaulan Ma'ruf Lira
NIM : 20700117019
Jurusan : Pendidikan Matematika
Fakultas : Tarbiyah dan Keguruan
Judul : Analisis Deskriptif Soal-Soal dalam Buku Siswa Kurikulum 2013 (Edisi Revisi 2018) Pelajaran Matematika SMP/MTs Kelas IX Ditinjau dari Domain Kognitif TIMSS 2019

Buku adalah sarana belajar-mengajar yang dibutuhkan peserta didik dalam belajar mata pelajaran matematika. Salah satu buku matematika yang beredar adalah buku “Matematika” yang diterbitkan oleh Kementerian Pendidikan dan Kebudayaan untuk Kelas IX SMP dan MTs untuk mendukung Kurikulum 2013, di mana buku tersebut mengacu pada studi internasional seperti PISA dan TIMSS.

Penelitian ini bertujuan untuk mengetahui proporsi soal-soal yang termasuk dalam domain kognitif TIMSS dibandingkan dengan proporsi standar TIMSS 2019. Jenis penelitian ini menggunakan penelitian deskriptif kualitatif. Instrumen penelitian yang digunakan adalah pedoman kerangka penilaian yang telah disediakan dalam buku TIMSS 2019. Proses penelitian diawali dengan analisis soal-soal yang terdapat dalam buku siswa Matematika untuk kelas IX SMP/MTs yang dilakukan mandiri oleh peneliti. Sumber data utama adalah buku siswa Matematika untuk kelas IX SMP/MTs, buku TIMSS 2019. Sumber data sekunder berupa buku yang relevan, jurnal, serta penelitian sebelumnya. Pengumpulan data yang dilakukan dalam penelitian ini adalah dengan proses dokumentasi.

Hasil penelitian menunjukkan bahwa dari 344 butir soal valid yang terdapat dalam buku siswa Matematika untuk kelas IX SMP/MTs, persentase domain kognitif *knowing* (pemahaman) dalam buku sebesar 37,68%, dibandingkan standar yang ditetapkan oleh kriteria penilaian TIMSS 2019 yaitu sebesar 35%. Kemudian, persentase domain kognitif *applying* (penerapan) dalam buku sebesar 52,21%, dibandingkan dengan standar yang ditetapkan oleh kriteria penilaian TIMSS 2019 yaitu sebesar 40%. Sementara itu, persentase domain kognitif *reasoning* (penalaran) dalam buku sebesar 10,11%, dibandingkan dengan standar yang ditetapkan oleh kriteria penilaian TIMSS 2019 yaitu sebesar 25%.

Kata Kunci: Analisis, Buku siswa Matematika kelas IX, Domain kognitif TIMSS.

BAB I

PENDAHULUAN

A. Latar Belakang Masalah

Ilmu adalah kunci untuk menyelesaikan segala persoalan, baik persoalan yang berhubungan dengan kehidupan beragama maupun persoalan yang berhubungan dengan kehidupan duniawi. Ilmu diibaratkan dengan cahaya, karena ilmu memiliki fungsi sebagai petunjuk kehidupan manusia dan pemberi penerangan bagi orang yang ada dalam kegelapan. Perkembangan zaman yang semakin modern terutama pada era globalisasi menuntut adanya sumber daya manusia yang berilmu dan berkualitas tinggi demi mencapai tujuan pembangunan. Salah satu wahana untuk meningkatkan kualitas sumber daya manusia adalah melalui pendidikan.¹ Pendidikan yang berkualitas sangat diperlukan untuk mendukung terciptanya manusia yang cerdas serta mampu berpikir kritis di era globalisasi. Salah satu cara meraihnya adalah dengan mengembangkan keterampilan, potensi, kreativitas, serta kecakapan peserta didik dalam pendidikan.

Pendidikan memegang peranan penting dalam perkembangan suatu negara. Pentingnya pendidikan dirasakan oleh setiap individu untuk masa depannya. Bagi sumber daya manusia untuk meningkatkan kualitas diri guna berkompetisi dalam perkembangan ilmu pengetahuan dan teknologi dibutuhkan pendidikan. Semakin tinggi kualitas pendidikan, maka akan semakin berkembang juga kualitas IPTEK suatu

¹ Abdul Hadi, "Perbandingan Hasil Belajar Matematika yang Diajar Melalui Model Siklus Belajar 7E dengan Model Pembelajaran *Think Pair Share* (TPS) pada Siswa Kelas IX SMP Negeri 2 Makassar", *Laporan Hasil Penelitian* (Pedagogy: Jurnal Pendidikan Matematika Vol. 4 No. 2, 2019), h. 31

negara. Begitu pula sebaliknya, jika kualitas pendidikan rendah, maka kualitas IPTEK suatu negara juga akan sulit berkembang.

Pada abad 21 sekarang ini, tidak bisa dipungkiri bahwa seluruh kehidupan manusia sudah mempergunakan matematika mulai dari perhitungan yang sederhana sampai menggunakan matematika yang lebih rumit. Banyak ahli menyatakan bahwa “*mathematics is the queen as well as servant of all science*” (matematika adalah ratu sekaligus pelayan semua ilmu pengetahuan). Ungkapan tersebut jelas menggambarkan bahwa ilmu matematika menduduki posisi netral dalam kancah dunia ilmu pengetahuan karena seluruh cabang ilmu pengetahuan menggunakan ilmu matematika baik dalam skala teori maupun dalam implementasi kehidupan sehari-hari.²

Peranan matematika dalam kehidupan pernah dilontarkan oleh Phytagoras. Beliau menyatakan bahwa “angka-angka mengatur segalanya”.³ Galileo Galilei menyatakan bahwa “*mathematics is the language in which God has written the universe.*” Matematika ialah bahasa yang digunakan oleh Tuhan dalam menulis hukum-hukum alam.⁴ Mereka menemukan bahwa ada suatu aturan atau persamaan matematika dalam segala hal yang telah diciptakan oleh Allah swt. sebagai sebuah bahasa yang universal di alam semesta. Dalam Al-Qur’an juga disebutkan bahwa

² Budi Cahyono dan Nurul Adilah, “Analisis Soal dalam Buku Siswa Matematika Kurikulum 2013 Kelas VIII Semester I Berdasarkan Dimensi Kognitif dari TIMSS”, *Laporan Hasil Penelitian* (Jurnal Review Pembelajaran Matematika Vol. 1 No. 1, 2016), h. 86—87

³ Phytagoras dalam Susilo, “Teorema Titik Tetap di Ruang Norm”, *Skripsi* (Malang: Fakultas Sains dan Teknologi Universitas Islam Negeri Maulana Malik Ibrahim, 2016), h. 3

⁴ Galileo Galilei dalam Agus Hasan Budiyanto, “Tentang Realitas dari Segala Sesuatu”, *Laporan Hasil Penelitian* (Jurnal Filsafat Universitas Gadjah Mada Vol. 28 No. 1, 2018), h. 2

segala sesuatu itu diciptakan secara matematis, yaitu memiliki besaran dan ukurannya masing-masing.

إِنَّا كُلَّ شَيْءٍ خَلَقْنَاهُ بِقَدَرٍ (٤٩)

*“Sesungguhnya Kami menciptakan segala sesuatu menurut ukuran.”*⁵

Oleh karena itu, mengingat begitu pentingnya peran matematika dalam kehidupan, dalam pembelajaran di sekolah sangat diharapkan juga bagi peserta didik untuk menguasai dan mempelajari matematika karena matematika merupakan sarana berpikir ilmiah yang sangat diperlukan peserta didik. Matematika merupakan pengetahuan dasar yang diperlukan oleh siswa untuk menunjang keberhasilan belajarnya dalam menempuh pendidikan yang lebih tinggi. Secara umum matematika diperlukan oleh semua orang dalam kehidupan sehari-hari. Oleh karena itu sangat diharapkan, siswa sekolah menengah untuk menguasai pelajaran matematika karena matematika merupakan sarana berpikir ilmiah yang sangat diperlukan oleh siswa.

Jika membahas tentang pembelajaran matematika di sekolah, hal itu tidak dapat dipisahkan dari peran kurikulum. Kurikulum adalah seperangkat rencana dan pengaturan mengenai isi dan bahan pelajaran serta metode yang digunakan menjadi pedoman penyelenggaraan kegiatan belajar mengajar.⁶

Kurikulum di Indonesia dari tahun ke tahun banyak mengalami perubahan. Salah satu kurikulum yang berlaku di Indonesia adalah Kurikulum 2013, menggantikan

⁵ Al-Qur'anul Karim, QS Al-Qamar/54: 49

⁶ Oemar Hamalik dalam Yayuk Kuswanti dkk., “Analisis Soal dalam Buku Siswa Matematika Kurikulum 2013 Untuk Sekolah Menengah Pertama Kelas VII Berdasarkan Dimensi Kognitif *Trends International Mathematics and Science Study (TIMSS)*”, *Laporan Hasil Penelitian (Jurnal Edukasi Vol. 4 No. 3, 2017)*, h. 25-26

Kurikulum Tingkat Satuan Pendidikan (KTSP) 2006. Kurikulum 2013 memiliki tujuan untuk mempersiapkan manusia Indonesia agar memiliki kemampuan hidup sebagai pribadi dan warga negara yang beriman, produktif, kreatif, inovatif, dan afektif serta mampu berkontribusi pada kehidupan bermasyarakat, berbangsa, bernegara, dan peradaban dunia.

Dalam rangka pembenahan pendidikan di Indonesia, pengembangan Kurikulum 2013 telah dipersiapkan oleh Pemerintah. Hal itu terbukti dalam penerapan Kurikulum 2013, pemerintah memberikan suatu sarana yang dapat mendukung terselenggaranya Kurikulum 2013, yaitu dengan buku siswa. Kurikulum 2013 dilaksanakan di kelas I, II, IV dan V untuk jenjang Sekolah Dasar/Madrasah Ibtidaiyah, kelas VII dan VIII untuk jenjang Sekolah Menengah Pertama/Madrasah Tsanawiyah, serta kelas X dan XI untuk jenjang Sekolah Menengah Atas/Sekolah Menengah Kejuruan/Madrasah Aliyah.

Kurikulum 2013 memiliki karakteristik yang menekankan pada optimalisasi ranah afektif, psikomotorik, dan kognitif sebagai hasil dari sebuah pembelajaran. Model pembelajaran yang digunakan oleh kurikulum 2013 adalah tematik-integratif, *scientific approach*, dan menggunakan *authentic assessment* sebagai penilaian semua aspek.⁷ Perubahan karakteristik kurikulum ini tentu mempengaruhi tingkat pemahaman dan pengetahuan peserta didik. Penelitian yang dilakukan oleh B. A. Saputro dan kawan-kawan pada tahun 2018 menunjukkan bahwa siswa yang belajar dengan kurikulum 2013 mengungguli siswa yang belajar dengan kurikulum 2006 (KTSP)

⁷ Anwar Novianto dan Ali Mustadi, "Analisis Buku Teks Muatan Tematik Integratif, *Scientific Approach*, dan *Authentic Assessment* Sekolah Dasar", *Laporan Hasil Penelitian* (Yogyakarta: Jurnal Kependidikan UNY Vol. 45 No. 1, 2015), h. 3

dalam memecahkan masalah domain konten aljabar, walaupun kesalahpahaman tentang aljabar dan aritmatika juga ditemukan dalam jawaban siswa.⁸

Salah satu alasan dicetuskannya Kurikulum 2013 adalah pencapaian anak-anak Indonesia dalam TIMSS (*Trends in International Mathematics and Science Study*). TIMSS adalah studi internasional tentang prestasi matematika dan sains siswa sekolah lanjutan tingkat pertama. TIMSS diselenggarakan setiap empat tahun sekali, yaitu pada tahun 1995, 1999, 2003, dan seterusnya. Sejak mengikuti TIMSS 1999 sampai TIMSS 2015, Indonesia selalu meraih skor di bawah rata-rata internasional. Pada TIMSS 1999, skor rata-rata yang diperoleh adalah 403, sedangkan skor rata-rata internasional adalah 487. Ini menjadikan siswa Indonesia menduduki peringkat 34 dari 38.⁹ Selanjutnya, pada TIMSS 2003, skor rata-rata yang diperoleh adalah 422, sementara skor rata-rata internasional adalah 467, menjadikan siswa Indonesia menduduki peringkat 34 dari 45 negara.¹⁰ Pada TIMSS 2007, skor rata-rata yang diperoleh adalah 397, sementara skor rata-rata internasional adalah 500, sehingga siswa Indonesia menduduki peringkat 36 dari 49 negara.¹¹ Pada TIMSS 2011, skor rata-rata yang diperoleh adalah 386,

⁸ B. A. Saputro, D. Suryadi, R. Rosjanuardi, dan B. G. Kartasmita, "Analysis of students' errors in responding to TIMSS domain algebra problem", *Laporan Hasil Penelitian* (Journal of Physics: Conf. Series 1088 012031, 2018)

⁹ Ina V.S. Mullis dkk. dalam Yayuk Kuswanti dkk., "Analisis Soal Dalam Buku Siswa Matematika Kurikulum 2013 Untuk Sekolah Menengah Pertama Kelas VII Berdasarkan Dimensi Kognitif Trends International Mathematics and Science Study (TIMSS)", *Laporan Hasil Penelitian* (Jurnal Edukasi Vol. 4 No. 3, 2017), h. 26

¹⁰ Ina V.S. Mullis dkk. dalam Yayuk Kuswanti dkk., "Analisis Soal Dalam Buku Siswa Matematika Kurikulum 2013 Untuk Sekolah Menengah Pertama Kelas VII Berdasarkan Dimensi Kognitif Trends International Mathematics and Science Study (TIMSS)", *Laporan Hasil Penelitian* (Jurnal Edukasi Vol. 4 No. 3, 2017), h. 26

¹¹ Ina V.S. Mullis dkk., *TIMSS 2007 International Mathematics Report: Findings from IEA's Trends in International Mathematics and Science Study at the Fourth and Eighth Grades* (Chestnut Hill, MA: TIMSS & PIRLS Internasional Study Center, 2008), h. 35

sementara skor rata-rata internasional adalah di bawah 500, menjadikan siswa Indonesia menduduki peringkat 38 dari 42 negara.¹² Pada TIMSS 2015, skor rata-rata yang diperoleh adalah 397, sementara skor rata-rata internasional adalah 500. Sehingga, siswa Indonesia menduduki peringkat 45 dari 50 negara.¹³

Hasil dari TIMSS ini menunjukkan bahwa kualitas pendidikan di Indonesia masih jauh di bawah rata-rata. Ini memaksa pendidikan di Indonesia harus berbenah agar tak tertinggal dari negara lain. Berdasarkan hal tersebut, penulis merasa tertarik untuk melakukan analisis buku teks matematika yang digunakan oleh guru di SMP Negeri 2 Pamona Selatan untuk mengetahui kesesuaian buku teks tersebut dengan standar TIMSS 2019, sehingga peneliti melakukan penelitian dengan judul, “*Analisis Deskriptif Soal-Soal dalam Buku Siswa Kurikulum 2013 (Edisi Revisi 2018) Pelajaran Matematika SMP/MTs Kelas IX Ditinjau dari Domain Kognitif TIMSS 2019*”.

B. Fokus Penelitian dan Deskripsi Fokus

Fokus utama dari penelitian ini adalah analisis deskriptif tentang soal-soal dalam buku siswa kurikulum 2013 (edisi revisi 2018) pelajaran Matematika SMP/MTs kelas IX terbitan Kementerian Pendidikan dan Kebudayaan yang termasuk dalam domain kognitif pemahaman, penerapan, dan penalaran TIMSS 2019.

Untuk menghindari terjadinya kekeliruan penafsiran pembaca terhadap variabel-variabel atau kata-kata dan istilah-istilah teknis yang terkandung dalam judul, serta untuk menghindari kesalahan persepsi dan perbedaan penafsiran, maka peneliti

¹² Ina V.S. Mullis dkk., *TIMSS 2011 International Results in Mathematics* (Chestnut Hill, MA: TIMSS & PIRLS Internasional Study Center, 2008), h. 42

¹³ Ina. V. S. Mullis dkk., “*TIMSS 2015 International Results in Mathematics*” (<http://timss2015.org/timss-2015/mathematics/student-achievement/distribution-of-mathematics-achievement/>, diakses 7 Mei 2020)

merasa perlu untuk memberikan gambaran penjelasan tentang istilah-istilah dalam penelitian ini.

a. Analisis

Analisis adalah penyelidikan sesuatu peristiwa (karangan, perbuatan, dan lain-lain) untuk mengetahui keadaan yang sebenarnya (sebab-musabab, duduk perkaranya, dan sebagainya). Analisis juga dapat didefinisikan sebagai proses mengolah, mengorganisir, dan memecahkan informasi ke dalam bagian-bagian yang lebih kecil, kemudian mencari pola-pola dan tema yang sama. Analisis dan penafsiran selalu berjalan secara beriringan.¹⁴

b. Deskriptif

Deskriptif menurut Kamus Besar Bahasa Indonesia edisi kelima adalah “bersifat menggambarkan apa adanya”. Menurut Sudjana dan Ibrahim, penelitian deskriptif adalah penelitian yang berusaha mendeskripsikan suatu gejala, peristiwa, atau kejadian yang terjadi pada masa sekarang. Dengan kata lain, penelitian ini memusatkan perhatian kepada masalah-masalah yang ada pada saat penelitian dilakukan.¹⁵

c. Buku siswa

Kata “buku” menurut Kamus Besar Bahasa Indonesia berarti “lembar kertas yang berjilid, berisi tulisan atau kosong”. Dalam arti luas, buku adalah seluruh

¹⁴ J.R. Raco, *Metode Penelitian Kualitatif: Jenis, Karakteristik, dan Keunggulannya* (Jakarta: Gramedia, 2010), h. 122.

¹⁵ Nadya Putri Saylendra, “Organisasi Ekstrakurikuler sebagai Laboratorium Pengembangan Disiplin Siswa (Studi Deskriptif terhadap Ekstrakurikuler Paskibra SMAN 6 Bogor)”, *Laporan Hasil Penelitian* (Karawang: CIVICS Universitas Buana Perjuangan Vol. 1 No. 1, 2016), h. 24

tulisan/gambar yang ditulis/dilukis di atas berbagai macam kertas, lontar, papirus, dan semacamnya, kemudian digulung, dilubangi, diikat, atau dijilid bagian depan dan belakangnya dengan karton atau kulit kayu.¹⁶

Buku yang diterbitkan oleh pemerintah dalam rangka penerapan Kurikulum 2013 di lingkungan pendidikan terdiri dari dua jenis, yaitu buku siswa dan buku guru. Buku siswa adalah buku yang digunakan untuk membantu proses berlangsungnya suatu pembelajaran melalui kegiatan mengamati, bertanya, mencoba, berdiskusi, menalar, dan meningkatkan keahlian berkomunikasi, baik itu dengan teman sejawatnya maupun dengan gurunya. Sementara itu, buku guru adalah sebuah panduan bagi tenaga pendidik dalam melakukan proses pembelajaran di kelas.¹⁷

d. Kognitif

Kognitif menurut para ahli dideskripsikan sebagai berikut:

- 1) Menurut Vigotsky, kognitif adalah kemampuan seseorang untuk memperhatikan dan penalaran, melibatkan pembelajaran melalui penemuan dalam masyarakat (seperti bahasa, sistem matematik, dan lainnya).
- 2) Menurut Jean Piaget, kognitif adalah bagaimana seorang anak bisa beradaptasi dan menginterpretasikan kejadian dan objek yang berada di sekitarnya.¹⁸

¹⁶ B. P. Sitepu, *Penulisan Buku Teks Pelajaran* (Bandung: PT Remaja Rosdakarya, 2012), h. 12.

¹⁷ Ade Sunawan dalam Nurul Adilah, “Analisis Soal-Soal dalam Buku Siswa Matematika Kurikulum 2013 Kelas VIII Semester 1 Terbitan Kemendikbud Berdasarkan Dimensi Kognitif dari Trends in Internasional Mathematics and Science Study (TIMSS)”, *Skripsi* (Semarang: UIN Walisongo, 2015), h. 17.

¹⁸ Ranita Maulidina dkk., “Upaya Peningkatan Kemampuan Kognitif Anak Usia Dini Melalui Metode Pencampuran Warna Sederhana”, *Laporan Hasil Penelitian* (Sukabumi: utile Universitas Muhammadiyah Vol. 6 No. 1, 2020), h. 101

e. Pemahaman

Pemahaman adalah kemampuan seseorang untuk memahami atau mengerti suatu hal, serta menjelaskan pengetahuan atau informasi yang telah diketahui dengan menggunakan kata-katanya sendiri.¹⁹

f. Penerapan

Penerapan adalah kemampuan seseorang untuk menggunakan atau menerapkan berbagai ide, metode, prinsip, rumus, teori, tata cara, dan sebagainya dalam sebuah situasi yang baru dan kongkret.²⁰

g. Penalaran

Penalaran adalah proses berpikir yang dilakukan dengan sebuah langkah-langkah untuk mendapatkan kesimpulan, di mana kesimpulan yang diperoleh tersebut berdasarkan pengamatan data-data yang telah ada sebelumnya dan telah terbukti kebenarannya.²¹

C. Rumusan Masalah

Masalah yang akan dikaji pada penelitian ini adalah:

1. Bagaimana kesesuaian proporsi soal-soal dalam buku siswa Kurikulum 2013 (edisi revisi 2018) pelajaran Matematika SMP/MTs kelas IX terbitan Kementerian

¹⁹ Dini Nuraeni dkk., *Analisis Pemahaman Kognitif Matematika Materi Sudut Menggunakan Video Pembelajaran Matematika Sistem Daring di Kelas IV B SDN Pintukisi* (Bandung: Jurnal Ilmiah Pendidikan Dasar Universitas Pasundan, 2020), h. 62.

²⁰ Anas Sudijono, *Pengantar Evaluasi Pendidikan* (Jakarta: Rajawali Press, 2011), h. 51.

²¹ Suherman dalam Mita Konita dkk., "Kemampuan Penalaran Matematis dalam Model Pembelajaran Connecting, Organizing, Reflecting, Extending (CORE)", *Laporan Hasil Penelitian* (Semarang: PRISMA 2 Universitas Negeri Semarang, 2019), h. 612.

Pendidikan dan Kebudayaan yang termasuk dalam domain kognitif pemahaman dibandingkan dengan standar TIMSS 2019?

2. Bagaimana kesesuaian proporsi soal-soal dalam buku siswa Kurikulum 2013 (edisi revisi 2018) pelajaran Matematika SMP/MTs kelas IX terbitan Kementerian Pendidikan dan Kebudayaan yang termasuk dalam domain kognitif penerapan dibandingkan dengan standar TIMSS 2019?
3. Bagaimana kesesuaian proporsi soal-soal dalam buku siswa Kurikulum 2013 (edisi revisi 2018) pelajaran Matematika SMP/MTs kelas IX terbitan Kementerian Pendidikan dan Kebudayaan yang termasuk dalam domain kognitif penalaran dibandingkan dengan standar TIMSS 2019?

D. Tujuan Penelitian

Tujuan dilakukannya penelitian ini adalah:

1. Mendeskripsikan proporsi soal-soal dalam buku siswa Kurikulum 2013 (edisi revisi 2018) pelajaran Matematika SMP/MTs kelas IX terbitan Kementerian Pendidikan dan Kebudayaan yang termasuk dalam domain kognitif pemahaman jika dibandingkan dengan standar TIMSS 2019.
2. Mendeskripsikan proporsi soal-soal dalam buku siswa Kurikulum 2013 (edisi revisi 2018) pelajaran Matematika SMP/MTs kelas IX terbitan Kementerian Pendidikan dan Kebudayaan yang termasuk dalam domain kognitif penerapan jika dibandingkan dengan standar TIMSS 2019.
3. Mendeskripsikan proporsi soal-soal dalam buku siswa Kurikulum 2013 (edisi revisi 2018) pelajaran Matematika SMP/MTs kelas IX terbitan Kementerian Pendidikan dan Kebudayaan yang termasuk dalam domain kognitif penalaran jika dibandingkan dengan standar TIMSS 2019.

E. Manfaat Penelitian

Manfaat dari penelitian ini adalah:

1. Penelitian ini dapat menjadi sumber referensi dan sumbangan ilmu pengetahuan tentang analisis deskriptif soal-soal pada buku siswa kurikulum 2013 (edisi revisi 2018) pelajaran Matematika SMP/MTs kelas IX terbitan Kementerian Pendidikan dan Kebudayaan ditinjau dari domain kognitif TIMSS 2019.
2. Bagi sekolah dan/atau guru, penelitian ini dapat digunakan sebagai bahan masukan bagi para guru khususnya pada guru matematika untuk dapat membenahi dan meningkatkan kualitas guru itu sendiri, kualitas proses belajar-mengajar, dan kualitas sekolah.
3. Bagi penyusun buku teks siswa, penelitian ini dapat digunakan sebagai bahan acuan untuk meningkatkan kualitas buku teks siswa.
4. Bagi peneliti, penelitian ini dapat menambah wawasan dan keterampilan sekaligus sebagai sarana untuk menyelesaikan proses pembelajaran Pendidikan Matematika.

BAB II

TINJAUAN TEORETIS

A. Kurikulum

1. Definisi Kurikulum

Kurikulum berasal dari bahasa Inggris *curriculum* yang berarti rencana pelajaran. Secara etimologis, kurikulum berasal dari bahasa Yunani *curir* yang berarti “pelari”, serta *curere* yang berarti “tempat berpacu”.¹ Menurut Kamus Besar Bahasa Indonesia, kurikulum adalah sebuah perangkat mata pelajaran yang diajarkan pada sebuah lembaga pendidikan.²

Menurut Undang-Undang No. 20 Tahun 2003 tentang Sistem Pendidikan Nasional pasal 1 ayat 19, kurikulum didefinisikan sebagai

“... seperangkat rencana dan pengaturan mengenai tujuan, isi, dan bahan pelajaran serta cara yang digunakan sebagai pedoman penyelenggaraan kegiatan pembelajaran untuk mencapai tujuan pendidikan tertentu.”³

Caswel dan Cambell dalam buku mereka, “*Curriculum Development*”, memandang bahwa kurikulum lebih menitikberatkan pada pengalaman belajar yang dialami oleh peserta didik di bawah bimbingan pendidik. Pengalaman belajar itu

¹ Muhammad Busro dan Siskandar, *Perencanaan dan Pengembangan Kurikulum* (Yogyakarta: Media Akademi, 2017), h. 3

² Kementerian Pendidikan dan Kebudayaan, *KBBI Daring* (<https://kbbi.kemdikbud.go.id/entri/kurikulum>), arsip: <https://archive.is/rRpIk>

³ UU No. 20 Tahun 2003 (<https://sipuu.setkab.go.id/PUUdoc/7308/UU0202003.htm>), arsip: <https://archive.is/cur9b>

melingkupi seluruh aktivitas yang terjadi ketika peserta didik melakukan kegiatan, baik itu aktivitas mental maupun fisik, terlihat maupun tak terlihat.⁴

S. Nasution mendefinisikan kurikulum sebagai sebuah rencana yang disusun dengan tujuan untuk membantu proses belajar mengajar di bawah bimbingan dan tanggung jawab sekolah. Selain itu, Saylor J. Galen dan William N. Alexander mendefinisikan kurikulum sebagai semua upaya yang dilakukan oleh sekolah untuk memengaruhi proses belajar mengajar yang dilakukan di dalam dan di luar lingkungan sekolah.⁵

Dari berbagai definisi kurikulum di atas, dapat disimpulkan bahwa kurikulum merupakan suatu program pengajaran untuk suatu jenjang atau tingkatan pendidikan untuk mencapai hasil atau tujuan yang diharapkan dari pendidikan. Tujuan pendidikan yang dimaksud ditentukan oleh pihak penyelenggara pendidikan secara nasional.

2. Kurikulum yang Pernah Berlaku di Indonesia

Sejak memerdekakan diri pada tanggal 17 Agustus 1945, Indonesia telah memberlakukan sepuluh versi kurikulum. Kurikulum-kurikulum tersebut adalah Kurikulum 1947, Kurikulum 1952, Kurikulum 1964, Kurikulum 1968, Kurikulum 1975, Kurikulum 1984, Kurikulum 1994, Kurikulum 2004 Berbasis Kompetensi, Kurikulum 2006 Tingkat Satuan Pendidikan, dan Kurikulum 2013.⁶

⁴ Een Y. Haenilah, *Kurikulum dan Pembelajaran PAUD* (Yogyakarta: Media Akademi, 2015), h. 4

⁵ Asep Jihad dalam Muhammad Busro dan Siskandar, *Perencanaan dan Pengembangan Kurikulum* (Yogyakarta: Media Akademi, 2017), h. 3

⁶ Iramdan dan Lengsi Manurung, "Sejarah Kurikulum di Indonesia", *Laporan Hasil Penelitian* (Jurnal Ilmiah Wahana Pendidikan Vol. 5 No. 2, 2019), h. 90—93

a. Kurikulum 1947 (Rentjana Peladjaran 1947)

Istilah kurikulum pada tahun 1947 lebih dikenal dengan sebutan *leer plan* (rencana pelajaran). Tujuan dari kurikulum ini lebih menekankan kepada pembentukan watak siswa dan kesadaran bernegara dan bermasyarakat.

b. Kurikulum 1952 (Rentjana Peladjaran Terurai 1952)

Orientasi dari kurikulum 1952 diubah kepada kebutuhan sebuah negara yang merdeka, dibandingkan dengan kurikulum sebelumnya yang berorientasi pada kepentingan zaman kolonial. Pada kurikulum ini, terdapat pendidikan watak, jasmani, kewarganegaraan dan masyarakat, serta isi pendidikan dihubungkan dengan kesenian.

c. Kurikulum 1964 (Rentjana Peladjaran 1964)

Dasar dari pembentukan kurikulum ini adalah Ketetapan Majelis Permusyawaratan Rakyat Sementara (MPRS) Republik Indonesia No. II/MPRS/1960 tahun 1960. Pada ketetapan tersebut, sistem pendidikan Indonesia harus tertuju ke arah pembentukan “manusia sosialis Indonesia” yang berbudi luhur.⁷

d. Kurikulum 1968

Kurikulum 1968 merupakan perubahan dari kurikulum 1964 yang mewujudkan perubahan orientasi pada pelaksanaan Undang-Undang Dasar (UUD) secara murni dan konsekuen. Kurikulum ini bertujuan untuk membentuk manusia Pancasila yang kuat

⁷ TAP MPRS No. II/MPRS/1960 (https://m.hukumonline.com/pusatdata/detail/lt5059801bccc1/nprt/657/tap-mprs-no-ii_mprs_1960-tahun-1960-garis-garis-besar-pola-pembangunan-nasional-semesta-berencana-tahapan-pertama-1961-1969), diakses 26 September 2020

dan sehat jasmani, mempertinggi kecerdasan dan keterampilan jasmani, moral, budi pekerti, dan keyakinan beragama.

e. Kurikulum 1975

Kurikulum 1975 dibentuk untuk mewujudkan strategi pembangunan pemerintahan orde baru dengan program Pelita dan Repelita-nya. Kurikulum ini memiliki beberapa prinsip, di antaranya berorientasi pada tujuan, menganut pendekatan integratif dan instruksional, serta mengefisiensikan daya dan waktu.

f. Kurikulum 1984

Kurikulum 1984 menempatkan siswa sebagai subjek belajar dengan melalui program yang dikenal sebagai “Cara Belajar Siswa Aktif (CBSA)”. Kurikulum ini berorientasi kepada tujuan instruksional, dengan memerhatikan pemberian pengalaman belajar kepada siswa yang memiliki waktu belajar yang sangat terbatas di sekolah, sehingga proses pembelajaran harus efektif dan fungsional.

g. Kurikulum 1994

Kurikulum 1994 dibentuk dan dilaksanakan berdasarkan UU No. 2 Tahun 1989 tentang Sistem Pendidikan Nasional. Salah satu efek penerapan dari kurikulum ini adalah perubahan waktu pembelajaran dari sistem semester (satu tahun pelajaran dibagi ke dua tahap) ke sistem caturwulan (satu tahun pelajaran dibagi ke tiga tahap).

h. Kurikulum Berbasis Kompetensi (KBK) 2004

Kurikulum Berbasis Kompetensi adalah kurikulum yang menekankan pada hasil kompetensi siswa, dengan berorientasi pada keberagaman dan hasil belajar dari siswa. Disebut Kurikulum Berbasis Kompetensi karena kewenangan untuk menyusun

silabus diserahkan kepada sekolah, sehingga sekolah dapat menyusun silabus sesuai dengan kebutuhan dan kehendak sekolah itu sendiri.

i. Kurikulum Tingkat Satuan Pendidikan (KTSP) 2006

Kurikulum Tingkat Satuan Pendidikan (KTSP) disusun untuk menjalankan amanah yang tercantum dalam UU No. 20 Tahun 2003 dan Peraturan Pemerintah No. 19 Tahun 2005. Kurikulum ini merupakan bagian yang tidak terpisahkan dari Standar Isi (SI) yang pengembangannya diserahkan kepada sekolah agar sesuai dengan kebutuhan sekolah itu sendiri.

j. Kurikulum 2013

Kurikulum 2013, juga dikenal sebagai K-13 atau Kurtilas, merupakan sebuah kurikulum berbasis karakter yang menekankan pemikiran kompetensi berbasis sikap, keterampilan, dan pengetahuan yang terintegrasi. Proses pembelajarannya tidak lagi terfokus pada guru melainkan terfokus kepada siswa. Guru hanya berperan sebagai fasilitator saja. Kurikulum ini mendorong siswa untuk memiliki tanggung jawab kepada lingkungan, kemampuan interpersonal, antar personal, maupun memiliki kemampuan berpikir kritis, agar terbentuk generasi yang produktif, kreatif, inovatif, dan afektif.

Kurikulum 2013 dikembangkan berdasarkan faktor yang meliputi arus globalisasi dan berbagai isu yang terkait dengan masalah lingkungan hidup, kemajuan teknologi dan informasi, kebangkitan industri kreatif dan budaya, dan perkembangan di tingkat internasional. Tantangan eksternal juga berkaitan dengan pergeseran kekuatan ekonomi, serta pengaruh teknosains dan transformasi di bidang pendidikan. Beberapa laporan yang dikeluarkan oleh studi internasional *Trends in Internasional*

Mathematics and Science Study (TIMSS) dan *Program for Internasional Student Assessment (PISA)* sejak 1999 menunjukkan bahwa anak-anak Indonesia tidak memberikan hasil pencapaian yang menggembirakan dalam kedua studi tersebut. Salah satu penyebabnya adalah kebanyakan materi pelajaran yang diujikan di TIMSS dan PISA tidak terdapat di kurikulum Indonesia sebelumnya.⁸

Terdapat perubahan besar pada mata pelajaran dalam Kurikulum 2013. Pada kurikulum ini, pendekatan pembelajaran dilakukan dengan mengajak siswa untuk mencari tahu sendiri, dengan cara bertanya, mengumpulkan data, menalar, dan/atau memanfaatkan sumber-sumber belajar yang tersedia. Terkhusus untuk mata pelajaran Matematika, perubahan-perubahan yang dilakukan dalam kurikulum 2013 di antaranya:

- 1) Proses pembelajaran dimulai dari pengamatan permasalahan konkret, semi konkret, dan abstraksi permasalahan.
- 2) Rumus-rumus harus diturunkan oleh siswa. Siswa diajak untuk tidak hanya mampu menggunakan rumus, tetapi juga mengetahui asal-usul dari rumus tersebut.
- 3) Materi dengan angka dan tanpa angka (gambar, pola, grafik, dan sebagainya) harus berimbang.
- 4) Siswa harus berpikir kritis dan algoritmis untuk menyelesaikan permasalahan.
- 5) Terdapat pengenalan konsep pendekatan dan perkiraan.

⁸ Kementerian Pendidikan dan Kebudayaan, *Lampiran Permendikbud No. 68 Tahun 2013 tentang Kerangka Dasar dan Struktur Kurikulum Sekolah Menengah Pertama/Madrasah Tsanawiyah*, h. 2

6) Pada bangku Sekolah Menengah Pertama/Madrasah Tsanawiyah, terdapat perluasan materi peluang, pengolahan data, statistik, dan materi-materi lain yang sesuai dengan standar internasional sejak kelas VII (tujuh).⁹

k. Merdeka Belajar dan Kampus Merdeka

Pada bulan Desember 2019, Kementerian Pendidikan dan Kebudayaan mencanangkan sebuah kebijakan baru yang dipopulerkan dengan istilah “Merdeka Belajar” dan “Kampus Merdeka”. Kebijakan ini berupaya menggandeng seluruh pihak yang terlibat dengan pendidikan dan kebudayaan, antara lain keluarga, pendidik dan tenaga kependidikan, lembaga pendidikan, serta masyarakat, untuk mewujudkan sebuah sistem pendidikan dan kebudayaan yang bernilai tinggi.¹⁰

Merdeka Belajar memiliki empat pokok kebijakan¹¹, yaitu:

- 1) Ujian Sekolah Berstandar Nasional (USBN) pada tahun 2020 diganti dengan sebuah ujian (asesmen) yang diselenggarakan oleh sekolah. Penilaian hasil belajar dilakukan dengan lebih leluasa oleh guru dan sekolah.
- 2) Ujian Nasional (UN) diganti dengan Asesmen Kompetensi Minimum dan Survei Karakter. Asesmen ini dilakukan pada peserta didik yang berada di tengah jenjang

⁹ Wakil Menteri Pendidikan dan Kebudayaan RI Bidang Pendidikan, “Konsep dan Implementasi Kurikulum 2013”, *Salindia paparan dalam press workshop di Universitas Terbuka tanggal 14 Januari 2014*, h. 49—52

¹⁰ Kementerian Pendidikan dan Kebudayaan, *Peraturan Menteri Pendidikan dan Kebudayaan Republik Indonesia Nomor 22 Tahun 2020 tentang Rencana Strategis Kementerian Pendidikan dan Kebudayaan Tahun 2020-2024*, <https://repo.isi-ska.ac.id/download/permendikbud-no-22-tahun-2020-tentang-rencana-strategis-kementerian-pendidikan-dan-kebudayaan/> (diakses 14 Maret 2021)

¹¹ Kementerian Pendidikan dan Kebudayaan, *Kebijakan Merdeka Belajar 1: Empat Pokok Kebijakan Merdeka Belajar*, <https://www.kemdikbud.go.id/main/blog/2019/12/empat-pokok-kebijakan-merdeka-belajar> (diakses 14 Maret 2021)

sekolah (misalnya kelas empat, delapan, dan sebelas) dengan mengacu pada praktik di tingkat internasional (seperti PISA dan TIMSS) serta memperhatikan tiga hal, yaitu kemampuan literasi, kemampuan numerasi, dan karakter peserta didik.

- 3) Rencana Pelaksanaan Pembelajaran (RPP) yang digunakan oleh guru mengalami perubahan pada format, komponen, dan durasi penulisannya.
- 4) Kebijakan Penerimaan Peserta Didik Baru (PPDB) lebih fleksibel, dengan mengakomodasi kualitas dan ketimpangan akses di daerah.

Sementara itu, kebijakan Kampus Merdeka merupakan kelanjutan dari program Merdeka Belajar di tingkat perguruan tinggi. Kampus Merdeka memiliki empat poin utama, yaitu otonomi bagi perguruan tinggi negeri dan swasta untuk membuka program studi baru, sistem akreditasi pada perguruan tinggi, kemudahan bagi universitas untuk menjadi Perguruan Tinggi Negeri Badan Hukum (PTN-BH), serta hak belajar tiga semester di luar program studi.¹² Tujuan dari program ini adalah untuk meningkatkan *hard skills* dan *soft skills* dari lulusan agar lebih siap dan relevan dalam menghadapi perkembangan zaman.¹³

B. Trends in International Mathematics and Science Study (TIMSS)

1. Definisi TIMSS

Trends in International Mathematics and Science Study (Kecenderungan Pembelajaran Matematika dan Sains Internasional), disingkat TIMSS, adalah sebuah

¹² A. Abidah dkk., The Impact of Covid-19 to Indonesian Education and Its Relation to the Philosophy of “Merdeka Belajar”, *Laporan Hasil Penelitian* (Studies in Philosophy of Science and Education (SiPoSE) Vol. 1 No. 1, 2020), h. 42-43

¹³ Kementerian Pendidikan dan Kebudayaan, *Buku Panduan Merdeka Belajar: Kampus Merdeka*, <https://kampusmerdeka.kemdikbud.go.id/notice/buku-panduan-merdeka-belajar-kampus-merdeka> (diakses 14 Maret 2021)

rangkaian studi untuk menilai pengetahuan matematika dan sains dari para pelajar di seluruh dunia. TIMSS diselenggarakan setiap empat tahun sekali oleh sebuah institusi independen bernama *International Association for the Evaluation of Educational Achievement* (IEA) asosiasi independen yang bermarkas di Amsterdam, Belanda yang telah melakukan penilaian (assessment) matematika dan sains internasional selama lebih dari 60 tahun. Sekitar 60 negara menggunakan indikator bagus atau tidaknya sistem pendidikan matematika dan sains mereka jika dibandingkan dengan konteks pendidikan global, di mana Indonesia termasuk salah satu di dalamnya. Tujuan utama dari TIMSS adalah meningkatkan pengajaran dan pembelajaran matematika dan sains dengan cara menyediakan data tentang prestasi siswa dalam kaitannya dengan bentuk kurikulum, praktik pengajaran, dan lingkungan sekolah yang berbeda-beda. Selain itu, TIMSS juga bertujuan untuk mengetahui peningkatan pembelajaran matematika dan sains.¹⁴ TIMSS, beserta PIRLS (*Progress in International Reading Literacy Study*), memiliki pusat studi yang berlokasi di Lynch School of Education and Human Development, Universitas Boston di Chestnut Hill, Massachusetts, Amerika Serikat.¹⁵

Salah satu kegiatan TIMSS adalah menguji kemampuan matematika siswa kelas IV (empat) dan VIII (delapan). Pengujian dilakukan dengan mengacu pada kerangka penelitian (*assessment framework*) yang telah ditetapkan oleh TIMSS. Kerangka penilaian tersebut dibagi ke dalam dua aspek, yaitu aspek konten dan aspek kognitif. Pusat Studi Internasional TIMSS & PIRLS menyiapkan draf awal berdasarkan informasi dari Ensiklopedia TIMSS 2015 (*TIMSS 2015 Encyclopedia: Education*

¹⁴ Syamsul Hadi dan Novaliyosi, "TIMSS Indonesia", *Prosiding Seminar Nasional & Call For Papers Program Studi Magister Pendidikan Matematika Universitas Siliwangi*, 2019

¹⁵ TIMSS & PIRLS International Study Center, *About TIMSS & PIRLS International Study Center*, <https://timssandpirls.bc.edu/about.html> (diakses 9 Maret 2021)

Policy and Curriculum in Mathematics and Science) dan ulasan yang diberikan oleh kelompok ahli TIMSS 2019, yaitu Komite Peninjau Item Sains dan Matematika (*Science and Mathematics Item Review Committee, SMIRC*). Pembaruan dibahas oleh Koordinator Riset Nasional (NRC) TIMSS 2019 pada pertemuan pertama mereka. Setiap negara peserta mengidentifikasi NRC untuk bekerja dengan staf proyek internasional untuk memastikan bahwa penilaian tersebut responsif terhadap keprihatinan negara tersebut. Setelah diskusi pada pertemuan NRC pertama, NRC berkonsultasi dengan pakar/ahli nasional dan menanggapi survei topik per topik tentang cara terbaik memperbarui konten dan domain kognitif untuk TIMSS 2019. Hasil survei digunakan untuk membuat draf lain yang ditinjau lebih lanjut dan disempurnakan oleh SMIRC. Dengan menggunakan proses berulang, draf terakhir sekali lagi ditinjau oleh NRC sebagai bagian dari pertemuan kedua mereka untuk TIMSS 2019 dan diperbarui untuk terakhir kalinya sebelum dipublikasikan. TIMSS menggunakan data asesmen dari puluhan ribu siswa di puluhan negara sebagai acuan (*benchmark*). Kemudian, hasil dari asesmen TIMSS dibandingkan dengan *benchmark* tersebut dan diberikan skor antara 0 sampai dengan 1.000, namun rata-rata negara mendapatkan skor antara 300 sampai dengan 700. Skala ini digunakan sejak tahun 1995 berdasarkan distribusi pencapaian di tiap negara peserta, memandang semua negara peserta sama rata.¹⁶ Hasil studi TIMSS dapat dijadikan bahan evaluasi untuk mengambil kebijakan guna meningkatkan mutu pendidikan oleh para ahli dan pengambil kebijakan di masing-masing negara peserta, sebab hasil dari studi TIMSS

¹⁶ TIMSS South Africa, *What are the TIMSS scale scores and centrepoin?*, <https://timsa.org/faq/what-are-the-timss-scale-scores-and-centrepoin> (diakses 21 Agustus 2023)

sangat valid dan dapat menggambarkan kualitas atau mutu pendidikan di negara tersebut.

2. Aspek Kognitif TIMSS

Salah satu aspek dalam kerangka penilaian matematika TIMSS adalah aspek kognitif. Aspek kognitif tersebut, baik untuk kelas IV maupun kelas VIII terbagi ke dalam tiga domain (ranah), yaitu domain *knowing* (pemahaman), *applying* (penerapan), dan *reasoning* (penalaran).

Berikut adalah detail dari ketiga domain kognitif tersebut.

Tabel 2.1

Domain Kognitif dari Kerangka Penilaian Matematika TIMSS

Domain	Topik/Aspek	Penjelasan
<i>Knowing</i> (Pemahaman)	<i>Recall</i> (Mengingat)	Memahami definisi, sifat-sifat, terminologi, dan notasi-notasi tertentu yang digunakan di dalam matematika (contoh: $a \times b = ab$, $a + a + a = 3a$)
	<i>Recognize</i> (Mengenali)	Mengenal bilangan, ekspresi, jumlah, dan bentuk, serta mengenal entitas matematika
	<i>Classify/order</i> (Mengurutkan/ menggolongkan)	Mengklasifikasikan objek, bangun, dan bilangan berdasarkan aljabar sederhana

Domain	Topik/Aspek	Penjelasan
	<i>Compute</i> (Menghitung)	Melakukan prosedur algoritmik perkalian, pembagian, penambahan, pengurangan, atau kombinasi dari keempat operasi tersebut dengan bilangan bulat, pecahan, dan desimal, serta melakukan prosedur aljabar secara langsung
	<i>Retrieve</i> (Memperoleh atau mendapatkan kembali)	Mengambil informasi yang diperlukan/diminta dari grafik, tabel, atau sumber lain yang sederhana
	<i>Measure</i> (Mengukur)	Menggunakan instrumen-instrumen pengukuran dan memilih unit pengukuran yang sesuai
<i>Applying</i> (Penerapan)	<i>Determine</i> (Menentukan)	Memilih operasi, metode, serta strategi yang tepat dalam memecahkan masalah di mana prosedur, metode, atau algoritma untuk menyelesaikan masalah tersebut sudah diketahui
	<i>Represent/Model</i> (Memodelkan)	Menyajikan informasi matematika atau data dalam bentuk tabel atau grafik, membuat persamaan, pertidaksamaan, menggunakan model matematika untuk memecahkan masalah rutin,

Domain	Topik/Aspek	Penjelasan
		menghasilkan representasi setara untuk entitas matematika yang diberikan atau yang saling berhubungan
	<i>Implement</i> (Mengimplementasikan atau menerapkan)	Menerapkan strategi dan operasi untuk memecahkan masalah yang melibatkan konsep dan prosedur matematika
<i>Reasoning</i> (Penalaran)	<i>Analyze</i> (Menganalisa)	Mendeskripsikan atau menggunakan hubungan antar bilangan, ekspresi aljabar, jumlah, dan bentuk
	<i>Integrate/Synthesize</i> (Mengintegrasikan/ menyintesis)	Membuat hubungan dari elemen-elemen pengetahuan, representasi terkait dan prosedur untuk memecahkan masalah
	<i>Evaluate</i> (Mengevaluasi)	Mengevaluasi alternatif strategi pemecahan masalah dan solusi pemecahannya
	<i>Draw Conclusions</i> (Menarik kesimpulan)	Membuat kesimpulan yang valid berdasarkan informasi dan bukti
	<i>Generalize</i> (Menggeneralisasikan)	Membuat pernyataan yang mewakili hubungan lebih umum dan istilah lebih luas yang berlaku
	<i>Justify</i> (Membenarkan)	Memberikan argumen matematis untuk mendukung strategi atau solusi

Berdasarkan studi dari TIMSS 2019, persentase dari ketiga domain kognitif untuk kelas IV dan kelas VIII sebagai berikut.

Tabel 2.2

Persentase Domain Kognitif pada Kerangka Penilaian Matematika TIMSS 2019

Domain Kognitif	Persentase	
	Kelas IV	Kelas VIII
<i>Knowing</i> (Pemahaman)	40%	35%
<i>Applying</i> (Penerapan)	40%	40%
<i>Reasoning</i> (Penalaran)	20%	25%

C. Kajian Penelitian yang Relevan

1. Hasil penelitian yang dilakukan oleh Nur Colis pada tahun 2020 yang berjudul “Analisis Soal Ujian Nasional Matematika SMP/MTs Berdasarkan Taksonomi TIMSS” terhadap soal-soal UN Matematika SMP/MTs dari berbagai tahun ajaran menyimpulkan bahwa persebaran persentase dimensi konten dan dimensi kognitif pada UN Matematika SMP/MTs Tahun Ajaran 2005/2006—2018/2019 masih belum sesuai dengan TIMSS *Assesment Framework*, meskipun kesesuaian domain konten dan kognitif pada soal UN Matematika berdasarkan taksonomi TIMSS berangsur-angsur mendekati proporsi yang ditetapkan TIMSS.¹⁷
2. Hasil penelitian yang dilakukan oleh Indah Fitri Zakiyah Rohmah pada tahun 2017 yang berjudul “Analisis Butir Soal Ujian Nasional Matematika SMP Tahun Ajaran

¹⁷ Nur Colis, “Analisis Soal Ujian Nasional Matematika SMP/MTs Berdasarkan Taksonomi TIMSS”, *Skripsi* (Salatiga: Fakultas Tarbiyah dan Ilmu Keguruan IAIN Salatiga, 2020)

2015/2016 Ditinjau dari Aspek Kognitif TIMSS” menyimpulkan bahwa persentase aspek kognitif dari butir-butir soal tersebut tidak mencapai harapan/target aspek kognitif dalam TIMSS 2015. Secara spesifik, peneliti menyimpulkan bahwa aspek kognitif *knowing* (pemahaman) memiliki persentase sebesar 25% (lebih kecil dari target TIMSS 2015 yaitu sebesar 35%), aspek kognitif *applying* (penerapan) sebesar 42,5% (lebih besar dari target TIMSS 2015 yaitu sebesar 40%), dan aspek kognitif *reasoning* (penalaran) sebesar 32,5% (lebih besar dari target TIMSS 2015 yaitu sebesar 25%).¹⁸

3. Hasil penelitian yang dilakukan oleh Budi Cahyono dan Nur Adilah pada tahun 2016 yang berjudul “Analisis Soal dalam Buku Siswa Matematika Kurikulum 2013 Kelas VIII Semester I Berdasarkan Dimensi Kognitif dari TIMSS” menyimpulkan bahwa persentase cakupan domain kognitif dari soal-soal tersebut belum sesuai dengan persentase domain kognitif yang ditetapkan oleh TIMSS 2015. Namun, peneliti juga menyimpulkan bahwa soal-soal tersebut “sudah memberikan bekal untuk melatih dan mendorong tingkat perkembangan berpikir peserta didik.”¹⁹
4. Hasil penelitian yang dilakukan oleh Yuyun Evi Mawarni pada tahun 2019 yang berjudul “Analisis Isi Buku Matematika Kurikulum 2013 SMP Kelas VIII Semester 1 Berdasarkan Taksonomi TIMSS” menyimpulkan bahwa cakupan domain konten dan

¹⁸ Indah Fitri Zakiyah Rohmah, “Analisis Butir Soal Ujian Nasional Matematika SMP Tahun Ajaran 2015/2016 Ditinjau dari Aspek Kognitif TIMSS”, *Skripsi* (Surakarta: Fakultas Keguruan dan Ilmu Pendidikan Universitas Muhammadiyah, 2017)

¹⁹ Budi Cahyono dan Nur Adilah, “Analisis Soal dalam Buku Siswa Matematika Kurikulum 2013 Kelas VIII Semester I Berdasarkan Dimensi Kognitif dari TIMSS”, *Laporan Hasil Penelitian* (Surabaya: Jurnal Review Pembelajaran Matematika Vol. 1 No. 1 UIN Sunan Ampel, 2016), h. 95

kognitif pada buku tersebut belum sesuai dengan proporsi domain konten dan kognitif pada TIMSS 2015.²⁰

D. Kerangka Konseptual

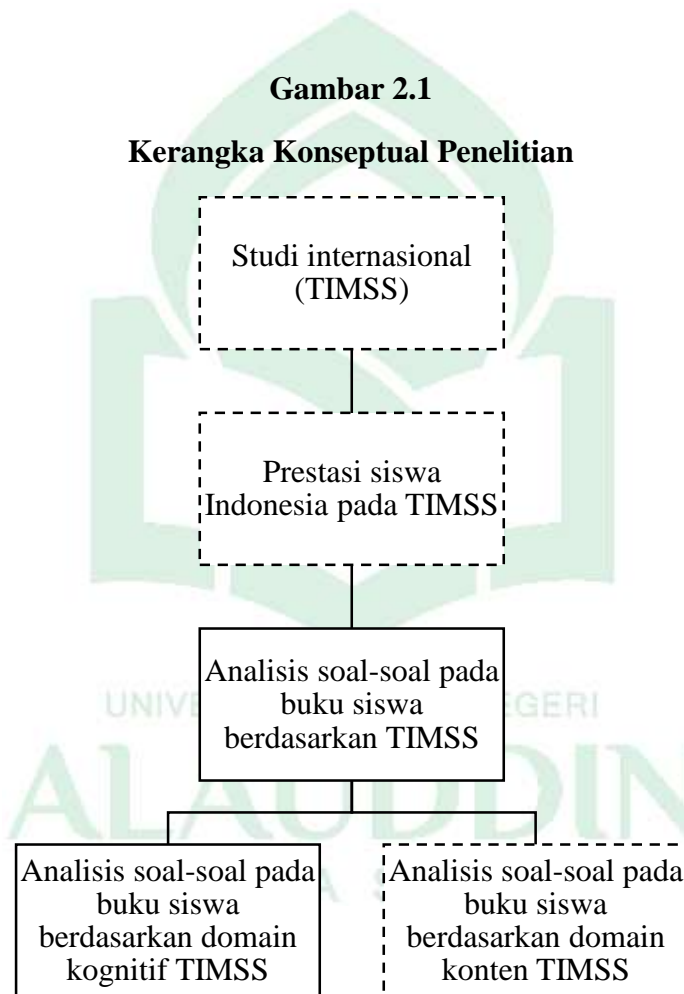
Hasil studi yang dilakukan oleh TIMSS menunjukkan prestasi siswa-siswi Indonesia yang cukup memprihatinkan. Padahal, buku ajar berbasis kurikulum 2013 yang diberlakukan oleh Kementerian Pendidikan dan Kebudayaan telah mengacu pada studi internasional seperti TIMSS dan PISA. Hal ini menimbulkan pertanyaan tentang apakah bahan ajar yang digunakan tersebut telah sesuai dengan studi internasional.

Penelitian ini berfokus pada buku siswa kelas IX SMP/MTs mata pelajaran Matematika kurikulum 2013 edisi revisi 2018. Pada buku yang diteliti tersebut, disediakan soal-soal yang ditempatkan di setiap akhir subbab dan akhir bab untuk menguji kompetensi dari para siswa. Setiap soal tersebut dapat mewakili salah satu atau beberapa domain kognitif yang ada pada TIMSS 2019, yaitu domain *knowing* (pemahaman), *applying* (penerapan), dan *reasoning* (penalaran). Penelitian ini dilakukan untuk mengetahui dan menganalisis seberapa banyak soal yang mewakili suatu domain kognitif TIMSS tersebut. Hasil analisis kemudian dibandingkan antara domain TIMSS yang satu dengan yang lainnya dalam bentuk persentase. Hasil perbandingan tersebut lalu dibandingkan kembali dengan proporsi domain kognitif yang telah ditetapkan oleh TIMSS untuk mengetahui apakah proporsi domain kognitif soal-soal dalam buku siswa kelas IX SMP/MTs mata pelajaran Matematika kurikulum

²⁰ Yuyun Evi Mawarni, "Analisis Isi Buku Matematika Kurikulum 2013 SMP Kelas VIII Semester 1 Berdasarkan Taksonomi TIMSS", *Laporan Hasil Penelitian* (Surakarta: Jurnal Varidika Vol. 31 No. 2, 2019), h. 19

2013 edisi revisi 2018 tersebut sesuai dengan proporsi domain kognitif yang telah ditetapkan oleh TIMSS 2019.

Berdasarkan uraian tersebut, maka kerangka konseptual dari penelitian ini dapat digambarkan sebagai berikut.



Keterangan:

□ = diteliti, □ (dashed) = tidak diteliti

BAB III

METODOLOGI PENELITIAN

A. Jenis Penelitian

Jenis penelitian yang digunakan dalam penelitian ini merupakan penelitian deskriptif kualitatif. Penelitian deskriptif merupakan sebuah penelitian yang dilakukan untuk memperoleh informasi tentang berbagai gejala atau kejadian apa adanya pada saat penelitian tersebut dilakukan. Secara umum, penelitian deskriptif tidak memiliki maksud untuk menguji hipotesis, namun adakalanya penelitian ini juga digunakan untuk maksud tersebut (menguji dan membuktikan dugaan).¹

Mayer dan Greenwood membagi penelitian deskriptif ke dalam dua tipe, yaitu tipe penelitian deskriptif kualitatif dan tipe penelitian deskriptif kuantitatif. Pada Penelitian deskriptif kualitatif yaitu tipe penelitian di mana proses konseptualisasi terlibat di dalamnya dan membentuk skema-skema klasifikasi. Tipe penelitian deskriptif kualitatif seperti ini melambangkan tahap permulaan dari perkembangan suatu disiplin. Sebaliknya, penelitian deskriptif kuantitatif menampilkan langkah selanjutnya dari suatu proses observasi. Setelah adanya seperangkat skema klasifikasi, kemudian peneliti mengukur distribusi atau besar sifat-sifat tersebut di antara berbagai anggota kelompok tertentu.²

¹ Arikunto dalam Cut Medika Zellatifanny dan Bambang Mudjiyanto, “Tipe Penelitian Deskripsi dalam Ilmu Komunikasi (*The Type of Descriptive Research in Communication Study*)”, *Laporan Hasil Penelitian* (Jakarta: Jurnal Diakom Vol. 1 No. 2, 2018), h. 84

² Cut Medika Zellatifanny dan Bambang Mudjiyanto, “Tipe Penelitian Deskripsi dalam Ilmu Komunikasi (*The Type of Descriptive Research in Communication Study*)”, *Laporan Hasil Penelitian* (Jakarta: Jurnal Diakom Vol. 1 No. 2, 2018), h. 85

B. Sumber Data Penelitian

Penelitian ini membutuhkan sumber data untuk mendukung terlaksananya penelitian dengan baik. Sumber data dari penelitian ini adalah soal-soal yang terdapat pada buku siswa kelas IX SMP/MTs mata pelajaran Matematika kurikulum 2013 edisi revisi 2018 terbitan Kementerian Pendidikan dan Kebudayaan.

C. Teknik Pengumpulan Data

Teknik pengumpulan data yang digunakan dalam penelitian adalah teknik yang memungkinkan peneliti untuk memperoleh data dengan detail. Pengumpulan data dalam penelitian ini dilaksanakan oleh peneliti menggunakan teknik dokumentasi dan wawancara.

Teknik dokumentasi adalah teknik memperoleh informasi yang berasal dari catatan dan dokumen yang bersifat penting. Dokumentasi penelitian ini merupakan pengumpulan data bahan yang akan dianalisis, yaitu buku siswa kelas IX SMP/MTs mata pelajaran Matematika kurikulum 2013 edisi revisi 2018 terbitan Kementerian Pendidikan dan Kebudayaan.

Teknik wawancara digunakan apabila peneliti akan melakukan studi pendahuluan untuk mengetahui permasalahan apa yang harus diteliti, atau peneliti ingin mengetahui hal-hal secara lebih mendalam di mana jumlah respondennya sedikit.³ Pada penelitian ini, teknik wawancara dilakukan dengan mengajukan pertanyaan-pertanyaan kepada para ahli untuk mengetahui sah tidaknya data yang diperoleh peneliti dari teknik dokumentasi.

³ Sugiyono, *Metode Penelitian Kuantitatif, Kualitatif, dan R&D* (Bandung: Alfabeta, 2013), h. 137

D. Instrumen Penelitian

Instrumen adalah suatu alat yang digunakan untuk mengukur fenomena alam maupun sosial yang diamati. Instrumen penelitian merupakan salah satu unsur yang sangat penting dalam penelitian karena berfungsi sebagai alat atau sarana pengumpulan data. Dengan demikian, instrumen harus relevan dengan masalah aspek yang diteliti agar memperoleh data yang akurat.⁴

Instrumen yang digunakan dalam penelitian ini adalah pedoman kerangka penilaian TIMSS 2019 dan peneliti.

E. Teknik Analisis Data

Analisis data adalah proses mencari dan menyusun secara sistematis data yang diperoleh dari hasil wawancara, catatan lapangan, dan dokumentasi dengan cara mengorganisasikan data ke dalam kategori, menjabarkan ke dalam unit-unit, melakukan sintesa, menyusun ke dalam pola, memilih nama yang penting dan yang akan dipelajari, dan membuat kesimpulan sehingga mudah dipahami oleh diri sendiri maupun orang lain.⁵ Data penelitian ini berupa soal-soal yang didokumentasikan dari buku siswa, kemudian diuji kevalidannya dan diidentifikasi dimensi kognitif dari soal tersebut.

⁴ Suharsimi Arikunto, *Prosedur Penelitian* Cet. VII (Jakarta: Rineka Cipta, 2002), h. 119

⁵ Wijaya dalam Nur Colis, “Analisis Soal Ujian Nasional Matematika SMP/MTs Berdasarkan Taksonomi TIMSS”, *Skripsi* (Salatiga: Fakultas Tarbiyah dan Ilmu Keguruan IAIN Salatiga, 2020), h. 33

Ada tiga macam kegiatan dalam analisis data, yaitu:

1. *Data reduction* (reduksi data)

Mereduksi data berarti merangkum, memilih hal-hal yang pokok, memfokuskan pada hal-hal yang penting, dicari tema dan polanya. Dengan demikian, data yang telah direduksi akan memberikan gambaran yang lebih jelas, dan mempermudah peneliti untuk melakukan pengumpulan data selanjutnya, dan mencarinya bila diperlukan.

Dalam penelitian ini, reduksi data dilakukan dengan cara menggolongkan soal-soal yang terdapat dalam buku siswa IX SMP/MTs mata pelajaran Matematika kurikulum 2013 edisi revisi 2018 ke dalam tiga domain kognitif TIMSS 2019 (pemahaman, penerapan, dan penalaran) berdasarkan pedoman yang digunakan, yaitu kerangka penelitian TIMSS 2019.

2. *Data display* (penyajian data)

Setelah data direduksi, maka langkah selanjutnya adalah menyajikan data. Dalam penelitian kualitatif, penyajian data bisa dilakukan dalam bentuk uraian singkat, bagan, hubungan antar kategori, *flowchart*, dan sejenisnya. Dengan menyajikan data, maka akan memudahkan untuk memahami apa yang terjadi, merencanakan kerja selanjutnya berdasarkan apa yang telah dipahami tersebut.

Dalam penelitian ini, hasil reduksi data berdasarkan domain kognitif disajikan dengan mengkalkulasikan persentase soal-soal yang masuk dalam tiap aspek dalam domain kognitif (pemahaman, penerapan, dan penalaran). Proses kalkulasi persentase tiap-tiap aspek domain kognitif tersebut adalah dengan membandingkan jumlah soal

valid yang termasuk dalam tiap domain kognitif dengan jumlah soal valid dalam buku siswa yang diteliti, kemudian dikalikan dengan seratus persen.

3. *Conclusion drawing/verification* (penarikan kesimpulan/verifikasi)

Langkah terakhir dari analisis data adalah melakukan penarikan kesimpulan dari berbagai data yang telah diperoleh.⁶ Kesimpulan adalah sebuah temuan baru yang sebelumnya belum pernah ada.

Penarikan kesimpulan dari penelitian ini dilakukan dengan cara membandingkan tiap persentase domain kognitif yang telah diperoleh dengan domain kognitif yang ditetapkan dalam kerangka penilaian TIMSS 2019.⁷

F. Uji Keabsahan Data

Hasil penelitian dipandang memenuhi kriteria ilmiah jika memiliki tingkat kepercayaan tertentu. Kriteria yang digunakan dalam penelitian adalah bahwa hasil penelitian wajib memenuhi empat macam kriteria, yaitu *credibility*, *transferability*, *dependability*, dan *confirmability*. Berikut uraian dari keempat kriteria tersebut.⁸

⁶ Sugiyono dalam Arina Ulil Faroh, “Kesesuaian Buku Teks Matematika Ditinjau dari Kriteria Penilaian dalam *Trends in International Mathematics and Science Study (TIMSS)*”, *Skripsi* (Salatiga: Fakultas Tarbiyah dan Ilmu Keguruan IAIN Salatiga, 2021), h. 54

⁷ Cut Medika Zellatifanny dan Bambang Mudjiyanto, “Tipe Penelitian Deskripsi dalam Ilmu Komunikasi (*The Type of Descriptive Research in Communication Study*)”, *Laporan Hasil Penelitian* (Jakarta: Jurnal Diakom Vol. 1 No. 2, 2018), h. 85

⁸ Hardani Ahyar dkk., *Metode Penelitian Kualitatif & Kuantitatif* (Yogyakarta: Pustaka Ilmu, 2020) h. 200

1. *Credibility*

Untuk memenuhi kriteria ini, data dan informasi yang diperoleh harus mengandung nilai kebenaran, yang berarti hasil penelitian dapat dipercaya oleh pembaca yang kritis dan dapat diterima oleh responden yang memberikan informasi.⁹

Beberapa cara yang dilakukan peneliti untuk memenuhi kriteria ini adalah dengan melakukan pemeriksaan ulang terhadap hasil analisis data dan melakukan diskusi dengan para ahli dan/atau teman sejawat.

2. *Transferability*

Untuk memenuhi kriteria ini, hasil penelitian yang dilakukan dalam konteks tertentu dapat diaplikasikan ke dalam konteks yang lain dengan cara uraian rinci. Dengan melakukan cara ini, peneliti akan melaporkan hasil penelitian yang menggambarkan konteks terselenggaranya penelitian dengan seteliti dan secermat mungkin dengan mengacu pada fokus penelitian. Dengan cara ini, segala sesuatu yang dibutuhkan oleh pembaca dapat terungkap agar temuan yang diperoleh peneliti dapat dipahami.¹⁰

3. *Dependability*

Kriteria ini digunakan untuk menilai apakah proses dari sebuah penelitian dapat dikatakan bermutu atau tidak. Cara untuk memenuhi kriteria ini adalah dengan melakukan audit (baik itu dengan auditor independen atau dengan pembimbing yang

⁹ Hardani Ahyar dkk., *Metode Penelitian Kualitatif & Kuantitatif* (Yogyakarta: Pustaka Ilmu, 2020), h. 201

¹⁰ Hardani Ahyar dkk., *Metode Penelitian Kualitatif & Kuantitatif* (Yogyakarta: Pustaka Ilmu, 2020), h. 205

mengaudit aktivitas peneliti selama proses penelitian) dengan cara *me-review* jejak aktivitas lapangan berupa catatan-catatan, arsip, serta laporan penelitian yang dibuat oleh peneliti.¹¹

4. *Confirmability*

Untuk memenuhi kriteria ini, sebuah hasil dari penelitian harus dapat dikatakan objektif. Sebuah hasil penelitian dapat dikatakan objektif jika hasil penelitian tersebut telah disepakati oleh banyak orang.¹²



¹¹ Hardani Ahyar dkk., *Metode Penelitian Kualitatif & Kuantitatif* (Yogyakarta: Pustaka Ilmu, 2020), h. 206

¹² Sugiyono, *Metode Penelitian Kuantitatif, Kualitatif, dan R&D* (Bandung: Alfabet, 2015), h. 277.

BAB IV

HASIL PENELITIAN DAN PEMBAHASAN

A. Identitas dan Isi Buku

Buku yang diteliti oleh peneliti adalah buku siswa mata pelajaran Matematika kelas IX SMP/MTs Kurikulum 2013 revisi 2018 terbitan Kementerian Pendidikan dan Kebudayaan dengan identitas sebagai berikut.

ISBN	: 978-602-282-984-3 (jilid lengkap)
Judul buku	: Matematika
Penulis buku	: Subchan, Winarni, Muhammad Syifa'ul Mufid, Kistosil Fahim, dan Wawan Hafid Syaifudin
Penelaah buku	: Agung Lukito, Turmudi, Sri Wardhani, St. Suwarno, dan Alhadi Bustamam
Pe-review buku	: Rachimin
Penerbit buku	: Kementerian Pendidikan dan Kebudayaan
Tahun terbit	: 2018
Jumlah halaman	: vi + 330 halaman
Jenis dan ukuran fon	: Times New Roman, 11pt

Buku siswa ini terdiri atas sampul/*cover*, hak cipta dan identitas buku, kata pengantar, daftar isi, lima bab (yang terbagi atas kata kunci, kompetensi dasar,

pengalaman belajar, peta konsep, tokoh matematika, 3—5 subbab, latihan akhir subbab dan akhir bab), daftar pustaka, glosarium, indeks, serta profil penulis, penelaah, editor, dan ilustrator. Berikut ini adalah daftar bab dan subbab yang ada pada buku siswa yang diteliti.

Tabel 4.1

Daftar Bab dan Subbab dalam Buku Siswa “Matematika”

No. Bab	Judul Bab	Subbab
I	Perpangkatan dan Bentuk Akar	1.1 Bilangan Berpangkat
		1.2 Perkalian pada Perpangkatan
		1.3 Pembagian pada Perpangkatan
		1.4 Pangkat Nol, Pangkat Negatif, dan Bentuk Akar
		1.5 Notasi Ilmiah (Bentuk Baku)
II	Persamaan dan Fungsi Kuadrat	2.1 Persamaan Kuadrat
		2.2 Grafik Fungsi Kuadrat
		2.3 Sumbu Simetri dan Nilai Optimum
		2.4 Menentukan Fungsi Kuadrat
		2.5 Aplikasi Fungsi Kuadrat
III	Transformasi	3.1 Pencerminan (Refleksi)
		3.2 Pergeseran (Translasi)
		3.3 Rotasi
		3.4 Dilatasi

No. Bab	Judul Bab	Subbab
IV	Kekongruenan dan Kesebangunan	4.1 Kekongruenan Bangun Datar
		4.2 Kekongruenan Dua Segitiga
		4.3 Kesebangunan Bangun Datar
		4.4 Kesebangunan Dua Segitiga
V	Bangun Ruang Sisi Lengkung	5.1 Tabung
		5.2 Kerucut
		5.3 Bola

B. Hasil Penelitian

Penelitian yang dilakukan berfokus pada soal-soal yang terdapat pada akhir bab dan akhir subbab pada buku siswa mata pelajaran Matematika untuk kelas IX SMP/MTs kurikulum 2013 edisi revisi 2018 terbitan Kementerian Pendidikan dan Kebudayaan. Hasil dari penelitian tersebut adalah:

1. Bab I (Perpangkatan dan Bentuk Akar)

Pada bab I terdapat 83 butir soal, dengan rincian 10 butir soal di akhir subbab 1.1, 13 butir soal di akhir subbab 1.2, 10 butir soal di akhir subbab 1.3, 15 butir soal di akhir subbab 1.4, 10 butir soal di akhir subbab 1.5, dan 25 butir soal di akhir bab (uji kompetensi). Dari 83 butir soal tersebut, terdapat 2 butir soal yang tidak valid, sehingga jumlah soal yang dianalisis adalah 81 butir. Hasil analisis domain kognitif pada ke-81 butir soal tersebut disajikan pada tabel 4.2.

Tabel 4.2

Hasil Analisis Soal-soal pada Bab I Ditinjau dari Domain Kognitif TIMSS

No. Subbab	Domain Kognitif		
	<i>Knowing</i> (Pemahaman)	<i>Applying</i> (Penerapan)	<i>Reasoning</i> (Penalaran)
1.1	7	6	1
1.2	12	5	5
1.3	7	6	2
1.4	13	11	2
1.5	7	3	1
UK	23	16	3
Jumlah	69	47	14
%	53,08%	36,15%	10,77%

Ket.: UK = uji kompetensi, % = persentase

Tabel 4.2 memperlihatkan bahwa dalam soal-soal yang ada pada akhir subbab dan uji kompetensi bab I, terdapat 69 butir soal yang masuk dalam domain kognitif *knowing* (pemahaman), 47 butir soal yang masuk dalam *applying* (penerapan), dan 14 butir soal yang masuk dalam *reasoning* (penalaran). Persentase ketiga domain kognitif tersebut dalam bab I berturut-turut adalah 53,08% *knowing*, 36,15% *applying*, dan 10,77% *reasoning*. Untuk hasil analisis aspek kognitif soal-soal pada bab I disajikan pada tabel 4.3.

Tabel 4.3

Hasil Analisis Soal-soal pada Bab I Ditinjau dari Aspek Kognitif TIMSS

DK	Aspek Kognitif	No. Subbab						Jml	%
		1.1	1.2	1.3	1.4	1.5	UK		
Knowing	<i>Recall</i>	3	5	3	4	5	10	30	43,48%
	<i>Recognize</i>	0	0	0	0	0	0	0	0,00%
	<i>Classify/Order</i>	0	0	0	0	0	1	1	1,45%
	<i>Compute</i>	2	4	3	2	1	5	17	24,64%
	<i>Retrieve</i>	2	3	1	7	1	7	21	30,43%
	<i>Measure</i>	0	0	0	0	0	0	0	0,00%
Jumlah		7	12	7	13	7	23	69	
Applying	<i>Determine</i>	4	2	4	4	0	9	23	48,94%
	<i>Represent/Model</i>	0	0	0	0	0	0	0	0,00%
	<i>Implement</i>	2	3	2	7	3	7	24	51,06%
Jumlah		6	5	6	11	3	16	47	
Reasoning	<i>Analyze</i>	0	1	1	0	0	0	2	14,29%
	<i>Integrate/Synthetize</i>	1	2	0	1	0	2	6	42,86%
	<i>Evaluate</i>	0	1	1	1	1	0	4	28,57%
	<i>Draw Conclusions</i>	0	0	0	0	0	0	0	0,00%
	<i>Generalize</i>	0	0	0	0	0	0	0	0,00%
	<i>Justify</i>	0	1	0	0	0	1	2	14,29%
Jumlah		1	5	2	2	1	3	14	

Ket.: DK = domain kognitif, UK = uji kompetensi, Jml = jumlah, % = persentase

Tabel 4.3 memperlihatkan bahwa dalam soal-soal yang ada pada akhir subbab dan uji kompetensi bab I, untuk domain kognitif *knowing*, terdapat 30 (43,48%) aspek

kognitif *recall* (mengingat), 1 (1,45%) *classify/order* (mengurutkan/menggolongkan), 17 (24,64%) *compute* (menghitung), dan 21 (30,43%) *retrieve* (memperoleh/mendapatkan kembali). Sementara itu, tidak ada aspek kognitif *recognize* (mengenali) dan *measure* (mengukur) pada soal-soal dalam bab I.

Untuk domain kognitif *applying*, terdapat 23 (48,94%) aspek kognitif *determine* (menentukan) dan 24 (51,06%) *implement* (mengimplementasikan). Sementara itu, tidak ada aspek kognitif *represent/model* (memodelkan) pada soal-soal dalam bab I.

Untuk domain kognitif *reasoning*, terdapat 2 (14,29%) aspek kognitif *analyze* (menganalisa), 6 (42,86%) *integrate/synthesize* (mengintegrasikan/menyintesis), 4 (28,57%) *evaluate* (mengevaluasi), dan 2 (14,29%) *justify* (membenarkan). Sementara itu, tidak ada aspek kognitif *draw conclusions* (menarik kesimpulan) dan *generalize* (menggeneralisasikan) pada soal-soal dalam bab I.

2. Bab II (Persamaan dan Fungsi Kuadrat)

Pada bab II terdapat 79 butir soal, dengan rincian 10 butir soal di akhir subbab 2.1, 10 butir soal di akhir subbab 2.2, 10 butir soal di akhir subbab 2.3, 10 butir soal di akhir subbab 2.4, 9 butir soal di akhir subbab 2.5, dan 30 butir soal di akhir bab (uji kompetensi). Seluruh butir soal tersebut valid. Hasil analisis domain kognitif pada ke-79 butir soal tersebut disajikan pada tabel 4.4.

Tabel 4.4

Hasil Analisis Soal-soal pada Bab II Ditinjau dari Domain Kognitif TIMSS

No. Subbab	Domain Kognitif		
	<i>Knowing</i> (Pemahaman)	<i>Applying</i> (Penerapan)	<i>Reasoning</i> (Penalaran)
2.1	3	8	0
2.2	0	4	7
2.3	1	10	0
2.4	1	11	0
2.5	8	9	0
UK	5	29	1
Jumlah	18	71	8
%	18,56%	73,19%	8,25%

Ket.: UK = uji kompetensi, % = persentase

Tabel 4.4 memperlihatkan bahwa dalam soal-soal yang ada pada akhir subbab dan uji kompetensi bab II, terdapat 18 butir soal yang masuk ke dalam domain kognitif *knowing* (pemahaman), 71 butir soal yang masuk ke dalam domain kognitif *applying* (penerapan), dan 8 butir soal yang masuk ke dalam domain kognitif *reasoning* (penalaran). Persentase tiap domain kognitif dalam bab II adalah 18,56% domain kognitif *knowing*, 73,19% domain kognitif *applying*, dan 8,25% domain kognitif *reasoning*. Untuk hasil analisis aspek kognitif soal-soal pada bab II disajikan pada tabel 4.5.

Tabel 4.5

Hasil Analisis Soal-soal pada Bab II Ditinjau dari Aspek Kognitif TIMSS

DK	Aspek Kognitif	No. Subbab						Jml	%
		2.1	2.2	2.3	2.4	2.5	UK		
Knowing	<i>Recall</i>	3	0	0	1	3	0	7	38,89%
	<i>Recognize</i>	0	0	0	0	0	0	0	0,00%
	<i>Classify/Order</i>	0	0	0	0	0	0	0	0,00%
	<i>Compute</i>	0	0	0	0	0	0	0	0,00%
	<i>Retrieve</i>	0	0	1	0	5	5	11	61,11%
	<i>Measure</i>	0	0	0	0	0	0	0	0,00%
Jumlah		3	0	1	1	8	5	18	
Applying	<i>Determine</i>	7	0	4	2	0	9	22	30,98%
	<i>Represent/Model</i>	0	3	1	1	1	2	8	11,27%
	<i>Implement</i>	1	1	5	8	8	18	41	57,75%
Jumlah		8	4	10	11	9	29	71	
Reasoning	<i>Analyze</i>	0	1	0	0	0	0	1	12,50%
	<i>Integrate/Synthesize</i>	0	0	0	0	0	0	0	0,00%
	<i>Evaluate</i>	0	0	0	0	0	1	1	12,50%
	<i>Draw Conclusions</i>	0	2	0	0	0	0	2	25,00%
	<i>Generalize</i>	0	0	0	0	0	0	0	0,00%
	<i>Justify</i>	0	4	0	0	0	0	4	50,00%
Jumlah		0	7	0	0	0	1	8	

Ket.: DK = domain kognitif, UK = uji kompetensi, Jml = jumlah, % = persentase

Tabel 4.5 memperlihatkan bahwa dalam soal-soal yang ada pada akhir subbab dan uji kompetensi bab II, untuk domain kognitif *knowing*, terdapat 7 (38,89%) aspek

kognitif *recall* (mengingat) dan 11 (61,11%) *retrieve* (memperoleh/mendapatkan kembali). Sementara itu, tidak ada aspek kognitif *recognize* (mengenali), *classify/order* (mengurutkan/menggolongkan), *compute* (menghitung), dan *measure* (mengukur) pada soal-soal dalam bab II.

Untuk domain kognitif *applying*, terdapat 22 (30,98%) aspek kognitif *determine* (menentukan), 8 (11,27%) *represent/model* (memodelkan), dan 41 (57,75%) *implement* (mengimplementasikan) pada soal-soal dalam bab II.

Untuk domain kognitif *reasoning*, terdapat 1 (12,5%) aspek kognitif *analyze* (menganalisa), 1 (12,5%) *evaluate* (mengevaluasi), 2 (25%) *draw conclusions* (menarik kesimpulan), dan 4 (50%) *justify* (membenarkan). Sementara itu, tidak ada aspek kognitif *integrate/synthesize* (mengintegrasikan/menyintesis) dan *generalize* (menggeneralisasikan) pada soal-soal dalam bab II.

3. Bab III (Transformasi)

Pada bab III terdapat 44 butir soal, dengan rincian 7 butir soal di akhir subbab 3.1, 7 butir soal di akhir subbab 3.2, 7 butir soal di akhir subbab 3.3, 8 butir soal di akhir subbab 3.4, dan 15 butir soal di akhir bab (uji kompetensi). Seluruh butir soal tersebut valid. Hasil analisis domain kognitif pada ke-44 butir soal tersebut disajikan pada tabel 4.6.

Tabel 4.6

Hasil Analisis Soal-soal pada Bab III Ditinjau dari Domain Kognitif TIMSS

No. Subbab	Domain Kognitif		
	<i>Knowing</i> (Pemahaman)	<i>Applying</i> (Penerapan)	<i>Reasoning</i> (Penalaran)
3.1	2	8	0
3.2	4	7	0
3.3	4	12	0
3.4	2	10	1
UK	8	24	1
Jumlah	20	61	2
%	24,10%	73,49%	2,41%

Ket.: UK = uji kompetensi, % = persentase

Tabel 4.6 memperlihatkan bahwa dalam soal-soal yang ada pada akhir subbab dan uji kompetensi bab III, terdapat 20 butir soal yang masuk ke dalam domain kognitif *knowing* (pemahaman), 61 butir soal yang masuk ke dalam domain kognitif *applying* (penerapan), dan 2 butir soal yang masuk ke dalam domain kognitif *reasoning* (penalaran). Persentase tiap domain dalam bab III berturut-turut adalah 24,1% *knowing*, 73,49% *applying*, dan 2,41% *reasoning*. Untuk hasil analisis aspek kognitif soal-soal pada bab III disajikan pada tabel 4.7.

Tabel 4.7

Hasil Analisis Soal-soal pada Bab III Ditinjau dari Aspek Kognitif TIMSS

DK	Aspek Kognitif	No. Subbab					Jml	%
		3.1	3.2	3.3	3.4	UK		
Knowing	<i>Recall</i>	1	2	3	1	1	8	40,00%
	<i>Recognize</i>	0	0	0	0	0	0	0,00%
	<i>Classify/Order</i>	0	0	0	0	0	0	0,00%
	<i>Compute</i>	0	0	0	1	1	2	10,00%
	<i>Retrieve</i>	1	2	1	0	6	10	50,00%
	<i>Measure</i>	0	0	0	0	0	0	0,00%
Jumlah		2	4	4	2	8	20	
Applying	<i>Determine</i>	3	3	2	3	4	15	24,59%
	<i>Represent/Model</i>	2	2	5	3	9	21	34,43%
	<i>Implement</i>	3	2	5	4	11	25	40,98%
Jumlah		8	7	12	10	24	61	
Reasoning	<i>Analyze</i>	0	0	0	1	1	2	100,00%
	<i>Integrate/Synthetize</i>	0	0	0	0	0	0	0,00%
	<i>Evaluate</i>	0	0	0	0	0	0	0,00%
	<i>Draw Conclusions</i>	0	0	0	0	0	0	0,00%
	<i>Generalize</i>	0	0	0	0	0	0	0,00%
	<i>Justify</i>	0	0	0	0	0	0	0,00%
Jumlah		0	0	0	1	1	2	

Ket.: DK = domain kognitif, UK = uji kompetensi, Jml = jumlah, % = persentase

Tabel 4.7 memperlihatkan bahwa dalam soal-soal yang ada pada akhir subbab dan uji kompetensi bab III, untuk domain kognitif *knowing*, terdapat 8 (40%) aspek

kognitif *recall* (mengingat), 2 (10%) *compute* (menghitung), dan 10 (50%) *retrieve* (memperoleh/mendapatkan kembali). Sementara itu, tidak ada aspek kognitif *recognize* (mengenali), *classify/order* (mengurutkan/menggolongkan), dan *measure* (mengukur) pada soal-soal dalam bab III.

Untuk domain kognitif *applying*, terdapat 15 (24,59%) aspek kognitif *determine* (menentukan), 21 (34,43%) *represent/model* (memodelkan), dan 25 (40,98%) *implement* (mengimplementasikan) pada soal-soal dalam bab III.

Untuk domain kognitif *reasoning*, terdapat 2 (100%) aspek kognitif *analyze* (menganalisa). Sementara itu, tidak ada aspek kognitif *integrate/synthesize* (mengintegrasikan/menyintesis), *evaluate* (mengevaluasi), *draw conclusions* (menarik kesimpulan), *generalize* (menggeneralisasikan), dan *justify* (membenarkan) pada soal-soal dalam bab III.

4. Bab IV (Kekongruenan dan Kesebangunan)

Pada bab IV terdapat 80 butir soal, dengan rincian 14 butir soal di akhir subbab 4.1, 12 butir soal di akhir subbab 4.2, 12 butir soal di akhir subbab 4.3, 17 butir soal di akhir subbab 4.4, dan 25 butir soal di akhir bab (uji kompetensi). Seluruh butir soal tersebut valid. Hasil analisis domain kognitif pada ke-80 butir soal tersebut disajikan pada tabel 4.8.

Tabel 4.8

Hasil Analisis Soal-soal pada Bab IV Ditinjau dari Domain Kognitif TIMSS

No. Subbab	Domain Kognitif		
	<i>Knowing</i> (Pemahaman)	<i>Applying</i> (Penerapan)	<i>Reasoning</i> (Penalaran)
4.1	13	7	4
4.2	8	11	2
4.3	7	12	0
4.4	16	15	2
UK	24	19	5
Jumlah	68	64	13
%	46,90%	44,14%	8,96%

Ket.: UK = uji kompetensi, % = persentase

Tabel 4.8 memperlihatkan bahwa dalam soal-soal yang ada pada akhir subbab dan uji kompetensi bab IV, terdapat 68 butir soal yang termasuk dalam domain kognitif *knowing* (pemahaman), 64 butir soal yang termasuk dalam domain kognitif *applying* (penerapan), dan 13 butir soal yang termasuk dalam domain kognitif *reasoning* (penalaran). Persentase tiap domain kognitif pada bab IV berturut-turut adalah 46,9% *knowing*, 44,14% *applying*, dan 8,96% *reasoning*. Untuk hasil analisis aspek kognitif soal-soal pada bab IV disajikan pada tabel 4.9.

Tabel 4.9

Hasil Analisis Soal-soal pada Bab IV Ditinjau dari Aspek Kognitif TIMSS

DK	Aspek Kognitif	No. Subbab					Jml	%
		4.1	4.2	4.3	4.4	UK		
Knowing	<i>Recall</i>	7	4	0	0	2	13	19,12%
	<i>Recognize</i>	0	0	0	0	0	0	0,00%
	<i>Classify/Order</i>	1	0	1	0	2	4	5,88%
	<i>Compute</i>	0	0	0	0	0	0	0,00%
	<i>Retrieve</i>	5	4	6	16	20	51	75,00%
	<i>Measure</i>	0	0	0	0	0	0	0,00%
Jumlah		13	8	7	16	24	68	
Applying	<i>Determine</i>	3	7	2	9	16	37	57,81%
	<i>Represent/Model</i>	2	1	0	0	0	3	4,69%
	<i>Implement</i>	2	3	10	6	3	24	37,50%
Jumlah		7	11	12	15	19	64	
Reasoning	<i>Analyze</i>	1	0	0	1	0	2	15,38%
	<i>Integrate/Synthetize</i>	1	0	0	0	4	5	38,46%
	<i>Evaluate</i>	1	0	0	0	1	2	15,38%
	<i>Draw Conclusions</i>	0	0	0	0	0	0	0,00%
	<i>Generalize</i>	0	0	0	0	0	0	0,00%
	<i>Justify</i>	1	2	0	1	0	4	30,77%
Jumlah		4	2	0	2	5	13	

Ket.: DK = domain kognitif, UK = uji kompetensi, Jml = jumlah, % = persentase

Tabel 4.9 memperlihatkan bahwa dalam soal-soal yang ada pada akhir subbab dan uji kompetensi bab IV, untuk domain kognitif *knowing*, terdapat 13 (19,12%) aspek

kognitif *recall* (mengingat), 4 (5,88%) *classify/order* (mengurutkan/menggolongkan), dan 51 (75%) *retrieve* (memperoleh/mendapatkan kembali). Sementara itu, tidak ada aspek kognitif *recognize* (mengenali), *compute* (menghitung), dan *measure* (mengukur) pada soal-soal dalam bab IV.

Untuk domain kognitif *applying*, terdapat 37 (57,81%) aspek kognitif *determine* (menentukan), 3 (4,69%) *represent/model* (memodelkan), dan 24 (37,5%) *implement* (mengimplementasikan) pada soal-soal dalam bab IV.

Untuk domain kognitif *reasoning*, terdapat 2 (15,38%) aspek kognitif *analyze* (menganalisa), 5 (38,46%) *integrate/synthesize* (mengintegrasikan/menyintesis), 2 (15,38%) *evaluate* (mengevaluasi), dan 4 (30,77%) *justify* (membenarkan). Sementara itu, tidak ada aspek kognitif *draw conclusions* (menarik kesimpulan) dan *generalize* (menggeneralisasikan) pada soal-soal dalam bab IV.

5. Bab V (Bangun Ruang Sisi Lengkung)

Pada bab V terdapat 50 butir soal, dengan rincian 10 butir soal di akhir subbab 5.1, 10 butir soal di akhir subbab 5.2, 10 butir soal di akhir subbab 5.3, dan 20 butir soal di akhir bab (uji kompetensi). Seluruh butir soal tersebut valid. Hasil analisis domain kognitif pada ke-50 butir soal tersebut disajikan pada tabel 4.10.

Tabel 4.10

Hasil Analisis Soal-soal pada Bab V Ditinjau dari Domain Kognitif TIMSS

No. Subbab	Domain Kognitif		
	<i>Knowing</i> (Pemahaman)	<i>Applying</i> (Penerapan)	<i>Reasoning</i> (Penalaran)
5.1	3	9	5
5.2	5	10	3
5.3	7	8	2
UK	15	14	8
Jumlah	30	41	18
%	33,71%	46,07%	20,22%

Ket.: UK = uji kompetensi, % = persentase

Tabel 4.10 memperlihatkan bahwa dalam soal-soal yang ada pada akhir subbab dan uji kompetensi bab V, terdapat 30 butir soal yang termasuk dalam domain kognitif *knowing* (pemahaman), 41 butir soal yang termasuk dalam domain kognitif *applying* (penerapan), dan 18 butir soal yang termasuk dalam domain kognitif *reasoning* (penalaran). Persentase tiap domain kognitif dalam bab V berturut-turut adalah 33,71% *knowing*, 46,07% *applying*, dan 20,22% *reasoning*. Untuk hasil analisis aspek kognitif soal-soal pada bab V disajikan pada tabel 4.11.

Tabel 4.11
Hasil Analisis Soal-soal pada Bab V Ditinjau dari Aspek Kognitif TIMSS

DK	Aspek Kognitif	No. Subbab				Jml	%
		5.1	5.2	5.3	UK		
Knowing	<i>Recall</i>	0	1	2	3	6	20,00%
	<i>Recognize</i>	0	0	0	0	0	0,00%
	<i>Classify/Order</i>	0	0	0	0	0	0,00%
	<i>Compute</i>	0	0	0	0	0	0,00%
	<i>Retrieve</i>	3	4	5	12	24	80,00%
	<i>Measure</i>	0	0	0	0	0	0,00%
Jumlah		3	5	7	15	30	
Applying	<i>Determine</i>	3	2	3	4	12	29,27%
	<i>Represent/Model</i>	0	0	0	0	0	0,00%
	<i>Implement</i>	6	8	5	10	29	70,73%
Jumlah		9	10	8	14	41	
Reasoning	<i>Analyze</i>	1	1	0	0	2	11,11%
	<i>Integrate/Synthetize</i>	2	0	1	4	7	38,89%
	<i>Evaluate</i>	1	1	1	0	3	16,67%
	<i>Draw Conclusions</i>	1	1	0	4	6	33,33%
	<i>Generalize</i>	0	0	0	0	0	0,00%
	<i>Justify</i>	0	0	0	0	0	0,00%
Jumlah		5	3	2	8	18	

Ket.: DK = domain kognitif, UK = uji kompetensi, Jml = jumlah, % = persentase

Tabel 4.11 memperlihatkan bahwa dalam soal-soal yang ada pada akhir subbab dan uji kompetensi bab V, untuk domain kognitif *knowing*, terdapat 6 (20%) aspek

kognitif *recall* (mengingat) dan 24 (80%) *retrieve* (memperoleh/mendapatkan kembali). Sementara itu, tidak ada aspek kognitif *recognize* (mengenali), *classify/order* (mengurutkan/menggolongkan), *compute* (menghitung), dan *measure* (mengukur) pada soal-soal dalam bab V.

Untuk domain kognitif *applying*, terdapat 12 (29,27%) aspek kognitif *determine* (menentukan) dan 29 (70,73%) *implement* (mengimplementasikan). Sementara itu, tidak ada aspek kognitif *represent/model* (memodelkan) pada soal-soal dalam bab V.

Untuk domain kognitif *reasoning*, terdapat 2 (11,11%) aspek kognitif *analyze* (menganalisa), 7 (38,89%) *integrate/synthesize* (mengintegrasikan/menyintesis), 3 (16,67%) *evaluate* (mengevaluasi), dan 6 (33,33%) *draw conclusions* (menarik kesimpulan). Sementara itu, tidak ada aspek kognitif *generalize* (menggeneralisasikan) dan *justify* (membenarkan) pada soal-soal dalam bab V.

C. Pembahasan

Penelitian yang dilakukan berfokus pada soal-soal yang terdapat pada akhir bab dan akhir subbab pada buku siswa mata pelajaran Matematika untuk kelas IX SMP/MTs kurikulum 2013 edisi revisi 2018. Total ada 334 butir soal yang dianggap valid untuk diteliti, di mana soal-soal tersebut tersebar dalam lima bab dan 21 subbab.

Berdasarkan hasil penelitian yang dilakukan pada buku Matematika kelas IX SMP/MTs kurikulum 2013 edisi revisi 2018, komposisi dan persentase domain kognitif soal-soal pada tiap babnya bervariasi. Secara sekilas, soal-soal pada bab I (dengan judul, “Perpangkatan dan Bentuk Akar”) lebih menekankan kepada domain kognitif *knowing* (pemahaman) dibandingkan dengan domain kognitif lainnya, dengan

persentase soal yang termasuk dalam domain kognitif *knowing* (pemahaman) sebesar 53,08%. Soal-soal pada bab II (dengan judul, “Persamaan dan Fungsi Kuadrat”) lebih banyak menekankan kepada domain kognitif *applying* (penerapan) dengan persentase soal-soal yang termasuk di dalamnya sebesar 73,19%. Soal-soal pada bab III (dengan judul, “Transformasi”) lebih banyak menekankan kepada domain kognitif *applying* (penerapan) dengan persentase soal-soal yang termasuk di dalamnya sebesar 73,49%. Soal-soal pada bab IV (dengan judul, “Kekongruenan dan Kesebangunan”) cenderung menekankan kepada domain kognitif *knowing* (pemahaman) dan *applying* (penerapan) dengan persentase soal-soal yang termasuk di dalam keduanya masing-masing sebesar 46,9% dan 44,14%. Sementara itu, soal-soal pada bab terakhir, yaitu bab V (dengan judul, “Bangun Ruang Sisi Lengkung”) cenderung menekankan kepada domain kognitif *applying* (penerapan) dengan persentase soal-soal yang termasuk di dalamnya sebesar 46,07%.

1. Bab I, “Perpangkatan dan Bentuk Akar”

Dari 83 soal yang terdapat pada bab I (dengan judul, “Perpangkatan dan Bentuk Akar”), lebih banyak menekankan domain kognitif *knowing* (pemahaman) dengan persentase soal yang masuk dalam domain tersebut sebesar 53,08%, dibandingkan dengan domain kognitif *applying* (penerapan, 36,15%) atau *reasoning* (penalaran, 10,77%). Salah satu soal pada bab ini yang termasuk dalam domain kognitif *knowing* (pemahaman) adalah soal nomor 5 pada subbab 1.1:

Tuliskan bilangan di bawah ini dalam notasi ilmiah.

- a. 0,00000056
- b. 2.500.000
- c. 0,98
- d. 10.000.000.000.000

Soal di atas termasuk dalam domain kognitif *knowing* karena siswa diminta untuk mengingat kembali (*recall*) materi tentang definisi notasi ilmiah untuk menyelesaikan soal. Sementara itu, soal pada bab ini yang termasuk dalam domain kognitif *applying* (penerapan) salah satunya terdapat pada soal nomor 7 di subbab 1.2:

Tentukan nilai x yang memenuhi persamaan berikut ini.

- a. $(3^x)^x = 81$
- b. $\frac{1}{64} \times 4^x \times 2^x = 64$

Soal di atas termasuk dalam domain kognitif *applying* karena siswa diminta untuk memilih strategi penyelesaian soal yang tepat (*determine*) untuk menyelesaikan soal tentang materi perpangkatan. Sementara itu, soal pada bab ini yang termasuk dalam domain kognitif *reasoning* (penalaran) salah satunya terdapat pada soal nomor 9 di subbab 1.3:

Analisis Kesalahan. Jelaskan dan perbaiki kesalahan dalam menyederhanakan bentuk di bawah ini.

$$\frac{7^{13}}{7^5} = 7^{\frac{13}{5}} = 7^8$$

Soal di atas termasuk dalam domain kognitif *reasoning* karena siswa diminta untuk melakukan evaluasi (*evaluate*) terhadap penyelesaian soal tentang materi perpangkatan yang telah diberikan dalam soal.

Terdapat juga soal-soal yang termasuk dalam dua domain kognitif sekaligus. Sebagai contoh, soal nomor 16 di uji kompetensi bab I:

Satu karung yang berisi beras memiliki massa 50 kg. Andaikan tiap-tiap butir beras yang terdapat dalam karung tersebut memiliki massa yang sama, yaitu $2,5 \times 10^{-2}$ gram. Berapakah banyak butir beras dalam karung tersebut? Tuliskan jawabanmu dalam bentuk perpangkatan paling sederhana.

Soal tersebut termasuk dalam domain kognitif *knowing* dan *applying*, karena dalam mengerjakan soal, siswa harus mengambil informasi penting (*retrieve*) yang dibutuhkan dari soal, kemudian menerapkan atau mengimplementasikan (*implement*) strategi dan operasi penyelesaian masalah terkait perpangkatan dan notasi ilmiah untuk menyelesaikan soal.

2. Bab II, “Persamaan dan Fungsi Kuadrat”

Dari 79 soal yang terdapat pada bab II (dengan judul, “Persamaan dan Fungsi Kuadrat”), lebih banyak soal yang menekankan pada domain kognitif *applying* (penerapan) dengan persentase soal yang masuk dalam domain tersebut sebesar 73,19%, dibandingkan dengan domain kognitif *knowing* (pemahaman, 18,56%) atau *reasoning* (penalaran, 8,25%). Salah satu soal pada bab ini yang termasuk dalam domain kognitif *knowing* (pemahaman) adalah soal nomor 10 pada subbab 2.1:

Nyatakan persamaan $2(x^2 + 1) = x(x + 3)$ dalam bentuk umum persamaan kuadrat.

Soal di atas termasuk dalam domain kognitif *knowing* karena siswa diminta untuk mengingat kembali (*recall*) materi tentang persamaan kuadrat untuk

menyelesaikan soal. Sementara itu, soal pada bab ini yang termasuk dalam domain kognitif *applying* (penerapan) salah satunya terdapat pada soal nomor 1 di subbab 2.2:

<p>Gambarkan grafik fungsi kuadrat berikut.</p>	
a. $y = \frac{1}{2}x^2$	c. $y = -\frac{1}{2}x^2$
b. $y = \frac{1}{4}x^2$	d. $y = -\frac{1}{2}x^2$

Soal di atas termasuk dalam domain kognitif *applying* karena untuk menyelesaikan soal, siswa diminta untuk menyajikan (*represent*) berbagai fungsi kuadrat dalam bentuk grafik. Sementara itu, soal pada bab ini yang termasuk dalam domain kognitif *reasoning* (penalaran) misalnya terdapat pada soal nomor 7—10 di subbab 2.2:

Apakah mungkin grafik fungsi kuadrat tidak memotong sumbu-x? Jelaskan alasanmu.
Apakah mungkin grafik fungsi kuadrat tidak memotong sumbu-y? Jelaskan alasanmu.
Apakah mungkin grafik fungsi kuadrat memotong sumbu-x pada tiga titik koordinat berbeda? Jelaskan alasanmu.
Apakah mungkin grafik fungsi kuadrat memotong sumbu-y pada tiga titik koordinat berbeda? Jelaskan alasanmu.

Soal-soal di atas termasuk dalam domain kognitif *reasoning* karena siswa diminta untuk memberikan argumentasi (*justify*) matematis terhadap berbagai masalah tentang materi fungsi kuadrat yang diberikan dalam soal.

Terdapat juga soal-soal yang termasuk dalam dua domain kognitif sekaligus. Sebagai contoh, soal nomor 3 di subbab 2.5:

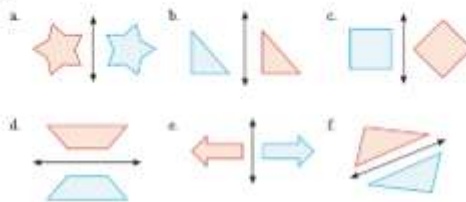
Seorang siswa memotong selembar kain. Kain hasil potongannya berbentuk persegi panjang dengan keliling 80 cm. Apabila siswa tersebut berharap mendapatkan kain hasil potongan mempunyai luas maksimum, tentukan panjang dan lebar kain.

Soal tersebut termasuk dalam domain kognitif *knowing* dan *applying*, karena dalam mengerjakan soal, siswa harus mengingat kembali (*recall*) materi tentang luas persegi panjang, kemudian menerapkan atau mengimplementasikan (*implement*) strategi dan operasi penyelesaian masalah terkait fungsi kuadrat untuk menyelesaikan soal.

3. Bab III, “Transformasi”

Dari 44 soal yang terdapat pada bab III (dengan judul, “Transformasi”), lebih banyak soal yang menekankan pada domain kognitif *applying* (penerapan) dengan persentase soal yang masuk dalam domain tersebut sebesar 73,49%, dibandingkan dengan domain kognitif *knowing* (pemahaman, 24,1%) atau *reasoning* (penalaran, 2,41%). Salah satu soal pada bab ini yang termasuk dalam domain kognitif *knowing* (pemahaman) adalah soal nomor 1 pada subbab 3.1:

Tunjukkan apakah gambar yang berwarna biru merupakan hasil pencerminan dari gambar yang berwarna merah. Berikan penjelasanmu.



Soal di atas termasuk dalam domain kognitif *knowing* karena siswa diminta untuk mengingat kembali (*recall*) materi tentang pencerminan pada bangun datar untuk menyelesaikan soal. Sementara itu, soal pada bab ini yang termasuk dalam domain kognitif *applying* (penerapan) salah satunya terdapat pada soal nomor 3 di subbab 3.1:

- Gambar masing-masing bangun berikut dan bayangannya terhadap refleksi yang diberikan.
- Segi empat JKLM dengan titik sudutnya di J (2, 2), K (7, 4), L (9, -2), dan M (3, -1) terhadap sumbu-y.
 - Trapesium dengan titik sudutnya di D (4, 0), E (-2, 4), F (-2, -1), dan G (4, -3) terhadap titik asal.
 - $\triangle ABC$ dengan titik sudutnya di A (4, -2), B (4, 2), dan C (6, -2) terhadap garis $y = x$.
 - $\triangle OPQ$ dengan titik sudutnya di O (-2, 1), P (0, 3), dan Q (2, 2) terhadap garis $y = -x$.
 - Segi empat WXYZ dengan titik sudutnya di W (2, -1), X (5, -2), Y (5, -5), dan Z (2, -4) terhadap garis $y = 2$.

Soal di atas termasuk dalam domain kognitif *applying* karena untuk menyelesaikan soal, siswa diminta untuk membuat gambar (*represent*) dari bangun datar yang diminta, serta menentukan (*determine*) strategi yang tepat dalam menggambar bayangannya. Sementara itu, soal pada bab ini yang termasuk dalam domain kognitif reasoning (penalaran) misalnya terdapat pada soal nomor 7 di subbab 3.4:

Gunakan lampu senter dan tanganmu untuk membuat bayangan kelinci pada dinding.

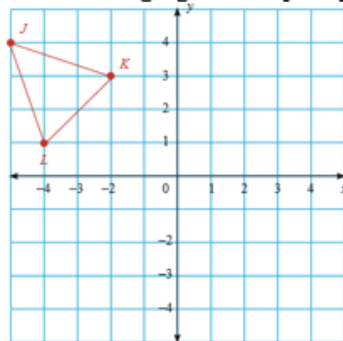


a. Menurutmu mana yang lebih besar, apakah tanganmu yang asli atau bayangan tanganmu yang membentuk gambar kelinci?

Soal di atas termasuk dalam domain kognitif *reasoning* karena siswa diminta untuk memberikan deskripsi atau hubungan (*analyze*) antara bentuk (senter, tangan, bayangan) dan ekspresi aljabar untuk menyelesaikan masalah terkait dilatasi dalam soal.

Terdapat juga soal-soal yang termasuk dalam dua domain kognitif sekaligus. Sebagai contoh, soal nomor 3 di subbab 2.5:

Diketahui segitiga JKL seperti pada gambar di bawah ini.



a. Rotasikan segitiga JKL dengan sudut rotasi 90° searah jarum jam dengan pusat rotasi titik asal $(0, 0)$. Berapakah koordinat titik sudut dari segitiga $J'K'L'$ yang merupakan bayangan dari segitiga JKL?

Rotasikan segitiga JKL dengan sudut rotasi 180° searah jarum jam dengan pusat rotasi titik asal $(0, 0)$. Berapakah koordinat titik sudut dari segitiga $J'K'L'$ yang merupakan bayangan dari segitiga JKL?

Soal tersebut termasuk dalam domain kognitif *knowing* dan *applying*, karena dalam mengerjakan soal, siswa mengambil (*retrieve*) informasi penting yang dibutuhkan dari soal, kemudian menerapkan atau mengimplementasikan (*implement*) strategi dan operasi penyelesaian masalah terkait perputaran/rotasi untuk menyelesaikan soal.

4. Bab IV, “Kekongruenan dan Kesebangunan”

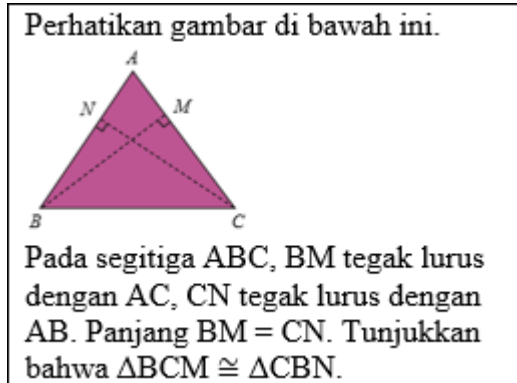
Dari 80 soal yang terdapat pada bab IV (dengan judul, “Kekongruenan dan Kesebangunan”), cenderung lebih banyak soal yang menekankan pada domain kognitif *knowing* (pemahaman) dengan persentase soal yang masuk dalam domain tersebut sebesar 46,9%, dibandingkan dengan domain kognitif *applying* (penerapan, 44,14%) atau *reasoning* (penalaran, 8,96%). Salah satu soal pada bab ini yang termasuk dalam domain kognitif *knowing* (pemahaman) adalah soal nomor 4 pada subbab 4.1:

Tuliskan pasangan bangun yang kongruen.

A	B	C	D	E	F	G	H
I	J	K	L	M	N	O	

Tuliskan langkahmu menentukan bangun tersebut, digeser (translasi), diputar (rotasi), atau gabungannya?

Soal di atas termasuk dalam domain kognitif *knowing* karena siswa diminta untuk mengingat kembali (*recall*) materi tentang kekongruenan, translasi, dan rotasi untuk menyelesaikan soal, kemudian mengkategorikannya (*classify*). Sementara itu, soal pada bab ini yang termasuk dalam domain kognitif *applying* (penerapan) salah satunya terdapat pada soal nomor 6 di subbab 4.2:



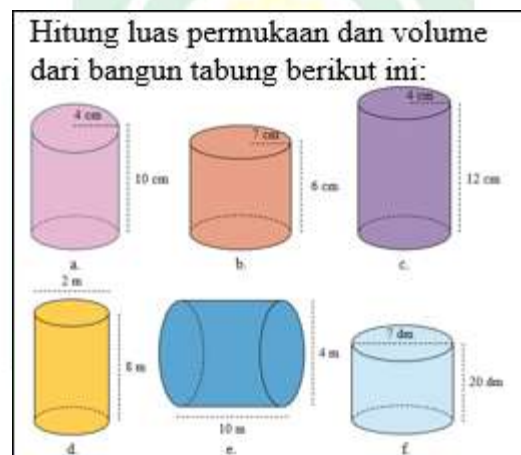
Soal di atas termasuk dalam domain kognitif *applying* karena siswa harus menentukan (*determine*) strategi yang tepat terkait materi kekongruenan dua segitiga untuk menyelesaikan soal. Sementara itu, soal pada bab ini yang termasuk dalam domain kognitif *reasoning* (penalaran) misalnya terdapat pada soal nomor 10 di subbab 4.2:

Berpikir Kritis. Apakah dua segitiga yang mempunyai dua pasang sisi yang bersesuaian sama panjang dan sepasang sudut yang bersesuaian sama besar pasti kongruen? Jelaskan dengan alasan yang mendukung jawabanmu.

Soal di atas termasuk dalam domain kognitif *reasoning* karena siswa diminta untuk memberikan argumen (*justify*) matematis untuk mendukung solusi yang diberikan soal terkait kekongruenan bangun datar atau mendukung solusi alternatif yang diberikan siswa. Soal ini juga termasuk dalam domain kognitif *knowing* karena dalam menyelesaikan soal, siswa harus mengingat kembali (*recall*) materi tentang kekongruenan bangun datar.

5. Bab V, “Bangun Ruang Sisi Lengkung”

Dari 50 soal yang terdapat pada bab V (dengan judul, “Bangun Ruang Sisi Lengkung”), cenderung lebih banyak soal yang menekankan pada domain kognitif *applying* (penerapan) dengan persentase soal yang masuk dalam domain tersebut sebesar 46,07%, dibandingkan dengan domain kognitif *knowing* (pemahaman, 33,71%) atau *reasoning* (penalaran, 20,22 %). Salah satu soal pada bab ini yang termasuk dalam domain kognitif *knowing* (pemahaman) adalah soal nomor 1 pada subbab 5.1:



Soal di atas termasuk dalam domain kognitif *knowing* karena dalam menyelesaikan soal, siswa harus mengambil (*retrieve*) informasi penting yang diperlukan dari gambar. Soal ini juga termasuk dalam domain kognitif *applying* karena untuk menyelesaikan soal, siswa harus menerapkan atau mengimplementasikan (*implement*) metode dan strategi terkait materi tabung untuk menyelesaikan masalah.

Sementara itu, soal pada bab ini yang termasuk dalam domain kognitif *reasoning* (penalaran) salah satunya terdapat pada soal nomor 7 di subbab 3.4:

Analisis kesalahan. Lia menghitung luas permukaan bola dengan cara membagi volume bola dengan jari-jari bola tersebut ($L = \frac{V}{r}$). Tentukan kesalahan yang dilakukan oleh Lia.

Soal di atas termasuk dalam domain kognitif *reasoning* karena siswa diminta untuk melakukan evaluasi (*evaluate*) alternatif pemecahan masalah yang disajikan dalam soal terkait materi bola.

6. Secara keseluruhan

Persentase domain kognitif TIMSS dalam buku “Matematika” kelas IX SMP/MTs yang diteliti sebagai berikut.

Tabel 4.12

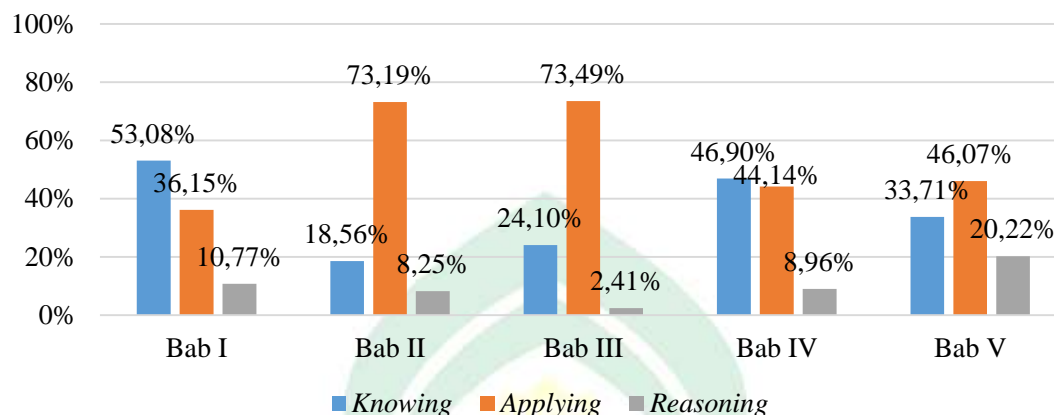
**Hasil Analisis Soal-soal pada Buku “Matematika” Kelas IX SMP/MTs
Kurikulum 2013 Revisi 2018 Ditinjau dari Domain Kognitif TIMSS**

Bab	Domain Kognitif					
	<i>Knowing</i>	%	<i>Applying</i>	%	<i>Reasoning</i>	%
I	69	53,08%	47	36,15%	14	10,77%
II	18	18,56%	71	73,19%	8	8,25%
III	20	24,1%	61	73,49%	2	2,41%
IV	68	46,9%	64	44,14%	13	8,96%
V	30	33,71%	41	46,07%	18	20,22%
Jml	205		284		55	
%	37,68%		52,21%		10,11%	

Ket.: Jml = jumlah, % = persentase

Gambar 4.1

Persentase Domain Kognitif TIMSS Soal-soal pada Buku Matematika Kelas IX



Tabel 4.12 memperlihatkan bahwa soal-soal pada buku “Matematika” kelas IX SMP/MTs kurikulum 2013 revisi 2018 memiliki persentase domain kognitif sebagai berikut: domain *knowing* (pemahaman) 37,68%, *applying* (penerapan) 52,21%, dan *reasoning* (penalaran) 10,11%. Persentase domain kognitif ini diperkuat dengan hasil wawancara dengan guru mata pelajaran Matematika kelas IX di SMPN 2 Pamona Selatan yang menggunakan buku siswa ini, beliau mengatakan bahwa soal-soal di dalam buku lebih banyak mengajak siswa untuk melakukan penerapan (*applying*), sementara tidak banyak soal-soal yang mengajak untuk melakukan penalaran (*reasoning*). Jika dibandingkan dengan standar persentase domain kognitif yang ditetapkan oleh kerangka penilaian TIMSS 2019, maka persentase domain kognitif *knowing* dalam buku lebih banyak dari standar (37,68% berbanding standar 35%), sehingga proporsi domain kognitif *knowing* dianggap belum sesuai dengan standar TIMSS 2019. Begitu pula dengan domain kognitif *applying* dalam buku lebih banyak dari standar TIMSS 2019 (52,21% berbanding standar 40%), sehingga proporsi domain

kognitif *applying* dianggap belum sesuai dengan standar TIMSS 2019. Sementara itu, domain kognitif *reasoning* dalam buku lebih sedikit dari standar TIMSS 2019 (10,11% berbanding standar 25%), sehingga proporsi domain kognitif *reasoning* dianggap belum sesuai dengan standar TIMSS 2019. Gambar 4.1 memperlihatkan bahwa bab dengan persentase domain kognitif *knowing* (pemahaman) tertinggi adalah bab I, yaitu 53,08%. Bab dengan persentase domain kognitif *applying* (penerapan) tertinggi adalah bab III, yaitu 73,49%. Sementara itu, bab dengan persentase domain kognitif *reasoning* (penalaran) tertinggi adalah bab V, yaitu 20,22%.

Untuk persentase aspek kognitif dalam buku siswa yang diteliti disajikan pada tabel 4.13 berikut.

Tabel 4.13

**Hasil Analisis Soal-soal pada Buku “Matematika” Kelas IX SMP/MTs
Kurikulum 2013 Revisi 2018 Ditinjau dari Aspek Kognitif TIMSS**

DK	Aspek Kognitif	Bab					Jml	%
		I	II	III	IV	V		
Knowing	<i>Recall</i>	30	7	8	13	6	64	31,22%
	<i>Recognize</i>	0	0	0	0	0	0	0,00%
	<i>Classify/Order</i>	1	0	0	4	0	5	2,41%
	<i>Compute</i>	17	0	2	0	0	19	9,27%
	<i>Retrieve</i>	21	11	10	51	24	117	57,07%
	<i>Measure</i>	0	0	0	0	0	0	0,00%
Jumlah		69	18	20	68	30	205	

DK	Aspek Kognitif	Bab					Jml	%
		I	II	III	IV	V		
Applying	<i>Determine</i>	23	22	15	37	12	109	38,38%
	<i>Represent/Model</i>	0	8	21	3	0	32	11,27%
	<i>Implement</i>	24	41	25	24	29	143	50,35%
Jumlah		47	71	61	64	41	284	
Reasoning	<i>Analyze</i>	2	1	2	2	2	9	16,36%
	<i>Integrate/Synthetize</i>	6	0	0	5	7	18	32,73%
	<i>Evaluate</i>	4	1	0	2	3	10	18,18%
	<i>Draw Conclusions</i>	0	2	0	0	6	8	14,55%
	<i>Generalize</i>	0	0	0	0	0	0	0,00%
	<i>Justify</i>	2	4	0	4	0	10	18,18%
Jumlah		14	8	2	13	18	55	

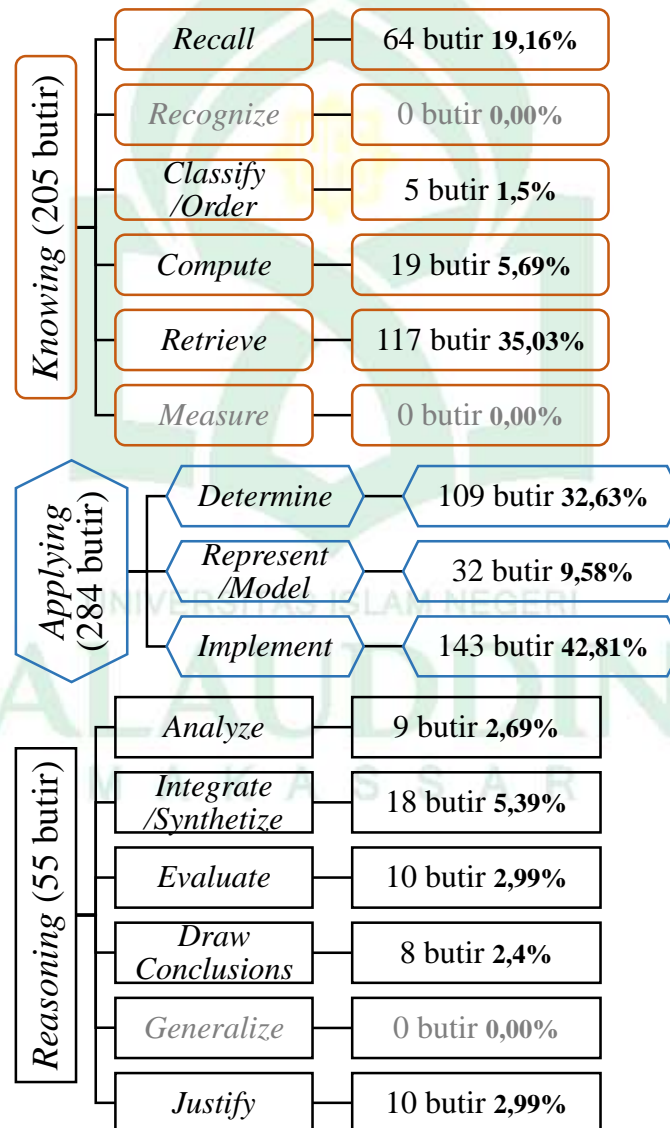
Ket.: DK = domain kognitif, Jml = jumlah, % = persentase

Tabel 4.13 memperlihatkan bahwa aspek kognitif dalam domain kognitif *knowing* yang memiliki persentase terbanyak adalah *retrieve* (memperoleh atau mendapatkan kembali) dengan persentase 57,07%. Aspek kognitif dalam domain kognitif *applying* yang memiliki persentase terbanyak adalah *implement* (mengimplementasikan) dengan persentase 50,35%. Sementara itu, aspek kognitif dalam domain kognitif *reasoning* yang memiliki persentase terbanyak adalah *integrate/synthetize* (mengintegrasikan/menyintesis) dengan persentase 32,73%. Data yang terdapat dalam tabel tersebut dapat menggambarkan bahwa secara garis besar, soal-soal dalam buku siswa yang diteliti lebih banyak yang termasuk dalam domain kognitif *applying* (penerapan), serta lebih banyak soal-soal yang termasuk dalam aspek kognitif *implement* (mengimplementasikan) dalam domain kognitif *applying*.

Banyaknya soal yang masuk dalam domain kognitif *applying* ini berdampak pada lebih sedikitnya soal-soal dalam buku siswa yang diteliti yang termasuk dalam domain kognitif *reasoning* (penalaran).

Gambar 4.2

Jumlah Soal dari 334 Butir Soal Valid dalam Buku Siswa “Matematika” Kelas IX yang Termasuk dalam Tiap Aspek Kognitif TIMSS



BAB V

PENUTUP

A. Kesimpulan

Berdasarkan hasil penelitian yang telah dilakukan oleh peneliti, diperoleh kesimpulan sebagai berikut.

1. Persentase domain kognitif *knowing* (pemahaman) dalam buku siswa kurikulum 2013 (edisi revisi 2018) pelajaran Matematika SMP/MTs kelas IX SMP/MTs sebesar 37,68%. Persentase ini lebih banyak daripada standar yang ditetapkan oleh kriteria penilaian TIMSS 2019, yaitu sebesar 35%. Banyaknya persentase dalam domain kognitif *knowing* ini berdampak pada lebih sedikitnya persentase domain kognitif yang lain, yaitu *reasoning* (penalaran).
2. Persentase domain kognitif *applying* (penerapan) dalam buku siswa kurikulum 2013 (edisi revisi 2018) pelajaran Matematika SMP/MTs kelas IX SMP/MTs sebesar 52,21%. Persentase ini lebih banyak daripada standar yang ditetapkan oleh kriteria penilaian TIMSS 2019, yaitu sebesar 40%. Banyaknya persentase dalam domain kognitif *applying* ini berdampak pada lebih sedikitnya persentase domain kognitif yang lain, yaitu *reasoning* (penalaran).
3. Persentase domain kognitif *reasoning* (penalaran) dalam buku siswa kurikulum 2013 (edisi revisi 2018) pelajaran Matematika SMP/MTs kelas IX SMP/MTs sebesar 10,11%. Persentase ini lebih sedikit daripada standar yang ditetapkan oleh kriteria penilaian TIMSS 2019, yaitu sebesar 25%. Sedikitnya persentase dalam domain kognitif *reasoning* ini diakibatkan oleh lebih banyaknya persentase domain

kognitif yang lain, yaitu *knowing* (pemahaman) dan *applying* (penerapan) jika dibandingkan dengan standar TIMSS 2019.

B. Saran

Dari hasil penelitian ini, terdapat saran untuk penulis soal-soal dalam buku siswa yang menggunakan standar TIMSS sebagai acuannya, agar kiranya dapat memperhatikan komposisi domain kognitif dari soal-soal tersebut supaya mengikuti jumlah persentase yang telah ditetapkan oleh standar TIMSS, khususnya pada domain kognitif *applying* (penerapan) dan *reasoning* (penalaran). Untuk guru atau pendidik yang menggunakan buku siswa yang diteliti ini sebagai bahan ajarnya, terdapat saran agar kiranya dapat mengetahui bahwa banyak soal-soal dalam buku siswa ini yang lebih condong kepada domain kognitif *applying* (penerapan) dan tidak banyak soal-soal yang termasuk dalam domain kognitif *knowing* (penalaran).

DAFTAR PUSTAKA

- Abidah, A. dkk. 2020. *The Impact of Covid-19 to Indonesian Education and Its Relation to the Philosophy of “Merdeka Belajar”*. Studies in Philosophy of Science and Education (SiPoSE) Vol. 1 No. 1.
- Adilah, Nurul. 2015. *Analisis Soal-Soal dalam Buku Siswa Matematika Kurikulum 2013 Kelas VIII Semester 1 Terbitan Kemendikbud Berdasarkan Dimensi Kognitif dari Trends in Internasional Mathematics and Science Study (TIMSS)*. Semarang: UIN Walisongo.
- Ahyar, H. dkk. 2020. *Metode Penelitian Kualitatif & Kuantitatif*. Yogyakarta: Pustaka Ilmu.
- Arikunto, Suharsimi. 2002. *Prosedur Penelitian Cetakan VII*. Jakarta: Rineka Cipta.
- Budiyanto, Agus Hasan. 2018. *Tentang Realitas dari Segala Sesuatu*. Yogyakarta: Jurnal Filsafat Vol. 28 No. 1. <https://doi.org/10.22146/jf.30244>
- Busro, Muhammad, & Siskandar. 2017. *Perencanaan dan Pengembangan Kurikulum*. Yogyakarta: Media Akademi.
- Cahyono, B., & Adilah, N. 2016. *Analisis Soal dalam Buku Siswa Matematika Kurikulum 2013 Kelas VIII Semester I Berdasarkan Dimensi Kognitif dari TIMSS*. Jurnal Review Pembelajaran Matematika. <https://doi.org/10.15642/jrpm.2016.1.1.86-98>
- Colis, Nur. 2020. *Analisis Soal Ujian Nasional Matematika SMP/MTs Berdasarkan Taksonomi TIMSS*. Salatiga: Fakultas Tarbiyah dan Ilmu Keguruan IAIN Salatiga.
- Faroh, Arina Ulil. 2021. *Kesesuaian Buku Teks Matematika Ditinjau dari Kriteria Penilaian dalam Trends in International Mathematics and Science Study (TIMSS)*. Salatiga: Fakultas Tarbiyah dan Ilmu Keguruan IAIN Salatiga.
- Hadi, A. 2019. *Perbandingan Hasil Belajar Matematika yang Diajar Melalui Model Siklus Belajar 7E dengan Model Pembelajaran Think Pair Share (TPS) pada*

- Siswa Kelas IX SMP Negeri 2 Makassar*. *Pedagogy: Jurnal Pendidikan Matematika*. <https://doi.org/10.30605/pedagogy.v4i2.1440>
- Hadi, Syamsul, & Novaliyosi. 2019. *TIMSS Indonesia*. Tasikmalaya: Universitas Siliwangi.
- Haenilah, Een Y. 2015. *Kurikulum dan Pembelajaran PAUD*. Yogyakarta: Media Akademi.
- Iramdan, & Manurung, L. 2019. *Sejarah Kurikulum di Indonesia*. *Jurnal Ilmiah Wahana Pendidikan*, 5(2), 88–95. <https://doi.org/10.5281/zenodo.2678137>
- Tim Redaksi Kamus Besar Bahasa Indonesia. 2020. *Hasil Pencarian - KBBI Daring*. Badan Pengembangan dan Pembinaan Bahasa, Kementerian Pendidikan dan Kebudayaan Republik Indonesia. <https://kbbi.kemdikbud.go.id/entri/kurikulum>
- Kementerian Pendidikan dan Kebudayaan. 2013. *Lampiran Permendikbud No. 68 Tahun 2013 tentang Kerangka Dasar dan Struktur Kurikulum Sekolah Menengah Pertama/Madrasah Tsanawiyah*.
- Kementerian Pendidikan dan Kebudayaan. 2019. *Kebijakan Merdeka Belajar 1: Empat Pokok Kebijakan Merdeka Belajar*. <https://www.kemdikbud.go.id/main/blog/2019/12/empat-pokok-kebijakan-merdeka-belajar>
- Kementerian Pendidikan dan Kebudayaan. 2020. *Peraturan Menteri Pendidikan dan Kebudayaan Republik Indonesia Nomor 22 Tahun 2020 tentang Rencana Strategis Kementerian Pendidikan dan Kebudayaan Tahun 2020-2024*. <https://repo.isi-ska.ac.id/download/permendikbud-no-22-tahun-2020-tentang-rencana-strategis-kementerian-pendidikan-dan-kebudayaan/>
- Konita, Mita dkk. 2019. *Kemampuan Penalaran Matematis dalam Model Pembelajaran Connecting, Organizing, Reflecting, Extending (CORE)*. Semarang: PRISMA 2 Universitas Negeri Semarang.
- Kuswanti, Y., Setiawani, S., & Lestari, N. D. S. 2017. *Analisis Soal Dalam Buku Siswa Matematika Kurikulum 2013 Untuk Sekolah Menengah Pertama Kelas VII*

- Berdasarkan Dimensi Kognitif Trends International Mathematics and Science Study (TIMSS)*. Jurnal Edukasi. <https://doi.org/10.19184/jukasi.v4i3.6156>
- Maulidina, Ranita dkk. 2020. *Upaya Peningkatan Kemampuan Kognitif Anak Usia Dini Melalui Metode Pencampuran Warna Sederhana*. Sukabumi: utile Universitas Muhammadiyah Vol. 6 No. 1.
- Mawarni, Yuyun Evi. 2019. *Analisis Isi Buku Matematika Kurikulum 2013 SMP Kelas VIII Semester 1 Berdasarkan Taksonomi TIMSS*. Surakarta: Jurnal Varidika Vol. 31 No. 2.
- Mullis, I. V. ., Martin, M. O., & Foy, P. 2008. *TIMSS 2007 International Mathematics Report*. TIMSS 2007 International Mathematics Report.
- Mullis, I. V. S., Martin, M. O., Foy, P., & Arora, A. 2015. *The TIMSS 2015 International Results in Mathematics*. In *The TIMSS 2015 International Results in Mathematics*. <https://doi.org/10.1002/yd.20038>
- Mullis, Ina V.S., Michael O. Martin, Pierre Foy, & A. A. 2012. *Timss 2011 International Results in Mathematics*. TIMSS & PIRLS International Study Center.
- Novianto, Anwar dan Mustadi, Ali. 2015. *Analisis Buku Teks Muatan Tematik Integratif, Scientific Approach, dan Authentic Assessment Sekolah Dasar*. Yogyakarta: Jurnal Kependidikan Universitas Negeri Yogyakarta Vol. 45 No. 1.
- Nuraeni, Dini dkk. 2020. *Analisis Pemahaman Kognitif Matematika Materi Sudut Menggunakan Video Pembelajaran Matematika Sistem Daring di Kelas IV B SDN Pintukisi*. Bandung: Jurnal Ilmiah Pendidikan Dasar Universitas Pasundan.
- Raco, J.R. 2010. *Metode Penelitian Kualitatif: Jenis, Karakteristik, dan Keunggulannya*. Jakarta: Gramedia.

- Rohmah, Indah Fitri Zakiyah. 2017. *Analisis Butir Soal Ujian Nasional Matematika SMP Tahun Ajaran 2015/2016 Ditinjau dari Aspek Kognitif TIMSS*. Surakarta: Fakultas Keguruan dan Ilmu Pendidikan Universitas Muhammadiyah.
- Saputro, B. A., Suryadi, D., Rosjanuardi, R., & Kartasasmita, B. G. 2018. *Analysis of students' errors in responding to TIMSS domain algebra problem*. Journal of Physics: Conference Series. <https://doi.org/10.1088/1742-6596/1088/1/012031>
- Saylendra, Nadya Putri. 2016. *Organisasi Ekstrakurikuler sebagai Laboratorium Pengembangan Disiplin Siswa (Studi Deskriptif terhadap Ekstrakurikuler Paskibra SMAN 6 Bogor)*. Karawang: CIVICS Universitas Buana Perjuangan Vol. 1 No. 1.
- Sitepu, B. P. 2012. *Penulisan Buku Teks Pelajaran*. Bandung: PT Remaja Rosdakarya.
- Sudijono, Anas. 2011. *Pengantar Evaluasi Pendidikan*. Jakarta: Rajawali Press.
- Sugiyono. 2013. *Metode Penelitian Kuantitatif, Kualitatif, dan R&D*. Bandung: Alfabeta.
- Susilo. 2016. *Teorema Titik Tetap di Ruang Norm*. Malang: Fakultas Sains dan Teknologi Universitas Islam Negeri Maulana Malik Ibrahim.
- TIMSS South Africa. *What are the TIMSS scale scores and centrepont?*. <https://timsa.org/faq/what-are-the-timss-scale-scores-and-centrepont>
- Wakil Menteri Pendidikan dan Kebudayaan RI Bidang Pendidikan. 2014. *Konsep dan Implementasi Kurikulum 2013*. Tangerang: Kementerian Pendidikan dan Kebudayaan.
- Zellatifanny, C. M., & Mudjianto, B. 2018. *Tipe Penelitian Deskripsi dalam Ilmu Komunikasi (The Type of Descriptive Research in Communication Study)*. Jakarta: Jurnal Diakom Vol. 1 No. 2.

LAMPIRAN



UNIVERSITAS ISLAM NEGERI
ALAUDDIN
M A K A S S A R

Bab I**Perpangkatan dan Bentuk Akar****Subbab 1.1: Bilangan Berpangkat**

Jumlah soal: 10 butir

No.	Soal	Domain Kognitif	Aspek Kognitif	Alasan
1	Nyatakan perkalian berulang berikut dalam perpangkatan a. $(-2) \times (-2) \times (-2)$ b. $\frac{1}{5} \times \frac{1}{5} \times \frac{1}{5} \times \frac{1}{5} \times \frac{1}{5}$ c. $(-\frac{2}{3}) \times (-\frac{2}{3}) \times (-\frac{2}{3}) \times (-\frac{2}{3}) \times (-\frac{2}{3})$ d. $t \times t \times t \times t \times t \times t$ e. $y \times y \times y \times y \times y \times y \times y \times y \times y \times y$	<i>Knowing</i>	<i>Recall</i>	Mengingat kembali sifat bilangan berpangkat
2	Nyatakan perpangkatan berikut dalam bentuk perkalian berulang. a. 3^8 b. $(0,83)^4$ c. t^3 d. $(-\frac{1}{4})^4$ e. $-(\frac{1}{4})^4$	<i>Knowing</i>	<i>Recall</i>	Mengingat kembali sifat bilangan berpangkat
3	Tentukan hasil dari perpangkatan berikut. a. 2^8 b. 5^4 c. $(0,02)^2$ d. $(\frac{1}{3})^3$ e. $-(\frac{1}{4})^4$	<i>Knowing</i>	<i>Compute</i>	Melakukan prosedur algoritmik berupa perkalian untuk menyelesaikan masalah
4	Nyatakan bilangan berikut dalam perpangkatan dengan basis 10. a. 1.000 b. 100.000 c. 1.000.000 d. 10.000.000	<i>Applying</i>	<i>Determine</i>	Memilih strategi dan metode yang tepat terkait bilangan berpangkat untuk menyelesaikan masalah
5	Nyatakan bilangan berikut dalam perpangkatan dengan basis 2. a. 256 b. 64 c. 512	<i>Applying</i>	<i>Determine</i>	Memilih strategi dan metode yang tepat terkait bilangan berpangkat untuk

No.	Soal	Domain Kognitif	Aspek Kognitif	Alasan
	d. 1.048.576			menyelesaikan masalah
6	Tuliskan sebagai bentuk perpangkatan dengan basis 5. a. 5 b. 625 c. 15.625 d. 125	<i>Applying</i>	<i>Determine</i>	Memilih strategi dan metode yang tepat terkait bilangan berpangkat untuk menyelesaikan masalah
7	Tentukan hasil dari operasi berikut ini. a. $5 + 3 \times 2^4$ b. $\frac{1}{2}(6^3 - 4^2)$ c. $8 + 3 \times (-3)^4$ d. $(6^4 - 4^4) : 2$ e. $\left(\frac{1}{4}\right)^4 \times \left(-\frac{1}{3}\right)^2$ f. $\left(\frac{1}{4}\right)^4 : -\left(\frac{1}{3}\right)^2$	<i>Knowing</i>	<i>Recall</i>	Mengingat kembali sifat bilangan berpangkat
			<i>Compute</i>	Melakukan prosedur algoritmik untuk menyelesaikan masalah
8	Temukan nilai x pada persamaan matematika di bawah ini. a. $7^x = 343$ b. $2^x = 64$ c. $10^x = 10.000$ d. $5^x = 625$	<i>Applying</i>	<i>Determine</i>	Memilih strategi dan metode yang tepat terkait bilangan berpangkat untuk menyelesaikan masalah
9	Tim peneliti dari Dinas Kesehatan suatu daerah di Indonesia Timur meneliti suatu wabah yang sedang berkembang di Desa X. Tim peneliti tersebut menemukan fakta bahwa wabah yang berkembang disebabkan oleh virus yang tengah berkembang di Afrika. Dari hasil penelitian didapatkan bahwa virus tersebut dapat berkembang dengan cara membelah diri menjadi 3 virus setiap setengah jam dan menyerang sistem kekebalan tubuh. Berapa jumlah virus dalam tubuh manusia setelah 6 jam?	<i>Knowing</i>	<i>Retrieve</i>	Memperoleh data yang diperlukan dari teks soal
			<i>Applying</i>	<i>Implement</i>
10	Tantangan. Dalam sebuah penelitian, diketahui seekor amoeba S berkembang biak dengan	<i>Knowing</i>	<i>Retrieve</i>	Mengambil data dari teks

No.	Soal	Domain Kognitif	Aspek Kognitif	Alasan
	membelah diri sebanyak 2 kali tiap 15 menit. a. Berapa jumlah amoeba S selama satu hari jika dalam suatu pengamatan terdapat 4 ekor amoeba S?	<i>Applying</i>	<i>Implement</i>	Menerapkan operasi untuk memecahkan masalah terkait bilangan berpangkat
	b. Berapa jumlah amoeba S mula-mula sehingga dalam 1 jam terdapat minimal 1.000 Amoeba S?	<i>Reasoning</i>	<i>Integrate</i>	Menghubungkan berbagai elemen pengetahuan dan prosedur untuk menyelesaikan masalah

Subbab 1.2: Perkalian pada Perpangkatan

Jumlah soal: 13 butir

No	Soal	Domain Kognitif	Aspek Kognitif	Alasan
1	Sederhanakan perpangkatan berikut ini. a. $4^6 \times 4^3$ b. $(-7)^3 \times (-7)^2$ c. $4(-2,5)^4 \times (-2,5)^3$ d. $(5^2)^3$ e. $5^2 \times \left(\frac{2}{5}\right)^3 \times \left(\frac{2}{5}\right)^5$	<i>Knowing</i>	<i>Recall</i>	Mengingat kembali sifat perkalian bilangan berpangkat
2	Tuliskan bentuk $w^3 \times w^4$ ke dalam bentuk perpangkatan paling sederhana. Berapakah hasilnya? Apakah kamu juga dapat menyederhanakan bentuk $w^3 \times n^4$? Jelaskan jawabanmu.	<i>Knowing</i>	<i>Recall</i>	Mengingat kembali sifat perkalian bilangan berpangkat
		<i>Reasoning</i>	<i>Justify</i>	Memberikan argument matematis untuk mendukung solusi yang diperoleh
3	Sederhanakan operasi aljabar berikut ini. a. $y^3 \times 2y^7 \times (3y)^2$ b. $b \times 2y^7 \times b^3 \times y^2$ c. $3m^3 \times (mn)^4$ d. $(tn^3)^4 \times 4t^3$ e. $(2x^3) \times 3(x^2y^2)^3 \times 5y^4$	<i>Knowing</i>	<i>Recall</i>	Mengingat kembali sifat perkalian bilangan berpangkat
4	Tentukan nilai dari perpangkatan berikut ini. a. $3^3 \times 2 \times 3^7$	<i>Knowing</i>	<i>Recall</i>	Mengingat kembali materi perkalian pada perpangkatan

No	Soal	Domain Kognitif	Aspek Kognitif	Alasan
	b. $(2^2 \times 1^6) + 50$ c. $\frac{1^3}{2} \times \left(\left(-\frac{1}{2}\right)^3\right)^4$ d. $2^4 \times 4 \times 2^3$		<i>Compute</i>	Menggunakan operasi perkalian untuk menyelesaikan masalah
5	Nyatakan perpangkatan berikut dalam bentuk paling sederhana. a. $4^3 \times 2^6$ b. $(3^2)^5 \times 3^5$ c. $4 \times 3^4 + 5 \times 3^4$ d. $(-125) \times (-5)^6$	<i>Knowing</i>	<i>Recall</i>	Mengingat kembali sifat perkalian bilangan berpangkat
			<i>Compute</i>	Menggunakan operasi perkalian untuk menyelesaikan masalah
6	Nyatakan bilangan di bawah ini dalam bentuk yang memuat perpangkatan dengan basis 2. a. 64 b. 20 c. 100 d. $\frac{128}{3}$	<i>Knowing</i>	<i>Compute</i>	Menggunakan operasi perkalian untuk menyelesaikan masalah
			<i>Applying</i>	<i>Determine</i>
7	Tentukan nilai x yang memenuhi persamaan berikut ini. a. $(3^x)^x = 81$ b. $\frac{1}{64} \times 4^x \times 2^x = 64$	<i>Applying</i>	<i>Determine</i>	Memilih operasi/metode yang tepat dalam menyelesaikan masalah
8	Berpikir Kritis. Nyatakan hasil kali perpangkatan berikut dalam bentuk pangkat yang lebih sederhana. Jelaskan. Gunakan cara yang lebih mudah. $4^3 \times 5^6$	<i>Knowing</i>	<i>Compute</i>	Menggunakan operasi perkalian untuk menyelesaikan masalah
			<i>Reasoning</i>	<i>Integrate</i>
9	Ketinggian suatu benda dapat ditentukan dengan menggunakan rumus gerak jatuh bebas, yaitu $h = \frac{1}{2}gt^2$ di mana h adalah ketinggian benda (dalam satuan meter), g adalah percepatan gravitasi bumi (m/s^2), dan	<i>Knowing</i>	<i>Retrieve</i>	Mengambil data dari teks soal
			<i>Reasoning</i>	<i>Integrate</i>

No	Soal	Domain Kognitif	Aspek Kognitif	Alasan
	t adalah waktu yang diperlukan benda sampai jatuh ke tanah “(s)”. Sebuah benda jatuh dari puncak sebuah gedung dengan percepatan $9,8 \text{ m/s}^2$ dan waktu yang diperlukan untuk sampai di tanah adalah 10 detik, berapa tinggi gedung tersebut?			menyelesaikan masalah
		<i>Applying</i>	<i>Implement</i>	Menerapkan strategi dan operasi untuk memecahkan masalah terkait perkalian bilangan berpangkat
10	Diketahui: $3^{1500} + 9^{750} + 27^{500} = 3^b$, berapakah nilai b?	<i>Reasoning</i>	<i>Analyze</i>	Menggunakan hubungan antarbilangan untuk menyelesaikan masalah
11	Analisis Kesalahan. Jelaskan dan perbaiki kesalahan dalam menyederhanakan hasil perkalian bentuk pangkat berikut ini. a. $3^6 \times 3^4 = (3 \times 3)^{6+4} = 9^{10}$ b. $(t^{-3})^6 = t^{-3+6} = t^3$	<i>Reasoning</i>	<i>Evaluate</i>	Mengevaluasi alternatif solusi/strategi penyelesaian masalah terkait perkalian bilangan berpangkat
12	Tantangan. Pada sebuah pasar tradisional perputaran uang yang terjadi setiap menitnya diperkirakan kurang lebih Rp81.000.000,00. Pada hari Senin–Jumat proses perdagangan terjadi rata-rata 12 jam tiap hari. Sedangkan untuk Sabtu–Minggu proses jual-beli terjadi rata-rata 18 jam tiap hari. Berapa jumlah perputaran uang di pasar tradisional tersebut selama 1 minggu? (nyatakan jawabanmu dalam bentuk perpangkatan).	<i>Knowing</i>	<i>Retrieve</i>	Mengambil data dari teks soal
		<i>Applying</i>	<i>Implement</i>	Menerapkan strategi dan operasi terkait perkalian bilangan berpangkat untuk menyelesaikan masalah
13	Tantangan. Sebuah bola karet dengan diameter 7 cm direndam dalam sebuah bejana berisi minyak tanah selama 3 jam. Jika pertambahan diameter bola karet tersebut 0,002 mm/detik, berapakah volume bola karet setelah proses perendaman? Keterangan: gunakan rumus volume bola: $V = \frac{4}{3}\pi r^3$, dengan $\pi = 3,14$ dan r adalah jari-jari bola.	<i>Knowing</i>	<i>Retrieve</i>	Mengambil data dari teks soal
		<i>Applying</i>	<i>Implement</i>	Menerapkan strategi dan operasi terkait perkalian bilangan berpangkat untuk menyelesaikan masalah

Subbab 1.3: Pembagian pada Perpangkatan

Jumlah soal: 10 butir

No	Soal	Domain Kognitif	Aspek Kognitif	Alasan
1	Sederhanakan perpangkatan berikut ini. a. $\frac{(-4)^5}{(-4)^2}$ f. $\frac{5^5}{5^2 \times 5^3}$ b. $\frac{(-4)^6}{(-4)^2}$ g. $\frac{2^7 \times 6^7}{4^7}$ c. $\frac{0,3^7}{0,3^3}$ h. $\frac{6^7 \times 3^3}{2^7}$ d. $\frac{\left(\frac{2}{5}\right)^9}{\left(\frac{2}{5}\right)^5}$ i. $\frac{10^6 \times 4^2}{25^3 \times 8^3}$ e. $\frac{3^7 \times 3^2}{3^3}$ j. $\frac{21^5}{9^2} : \left(\frac{7}{2}\right)^2$	Knowing	Recall	Mengingat kembali sifat operasi bilangan berpangkat
			Compute	Menggunakan operasi aritmatika untuk menyelesaikan masalah
2	Sederhanakan bentuk aljabar berikut ini. a. $\frac{(-y)^5}{(-y)^2}$ d. $\frac{42y^8}{12y^5}$ b. $\frac{\left(\frac{1}{t}\right)^7}{\left(\frac{1}{t}\right)^3}$ e. $\frac{\left(\frac{1}{t}\right)^7}{\left(\frac{1}{t}\right)^3} \times \frac{\left(\frac{1}{t}\right)^3}{\left(\frac{1}{t}\right)^2}$ c. $\frac{3m^7}{m^3}$ f. $\frac{3w^4}{w^2} \times 5w^3$	Knowing	Recall	Mengingat kembali sifat operasi bilangan berpangkat
			Compute	Menggunakan operasi aritmatika untuk menyelesaikan masalah
3	Sederhanakan. a. $\frac{0,2^4 \times 0,2^2}{0,2^5}$ d. $\frac{3 \times 5^4}{5^3} - 15$ b. $\frac{-5^5}{(-5)^2 \times (-5)^2}$ e. $\frac{4^5}{4^4} - \frac{2^4}{2^3} \times 6$ c. $12 + \frac{4^7}{4^6}$	Knowing	Recall	Mengingat kembali sifat operasi bilangan berpangkat
			Compute	Menggunakan operasi aritmatika untuk menyelesaikan masalah

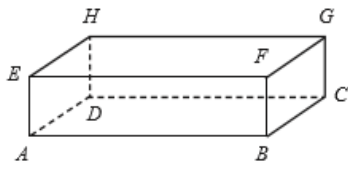
No	Soal	Domain Kognitif	Aspek Kognitif	Alasan
4	Tuliskan kembali perpangkatan berikut dalam tiga bentuk pembagian perpangkatan yang berbeda. a. 2^5 b. p^3	<i>Applying</i>	<i>Determine</i>	Memilih operasi/strategi yang tepat terkait pembagian bilangan berpangkat
5	Dapatkan nilai n dari pembagian pada perpangkatan di bawah ini. a. $\frac{5^2}{5^4} \times \frac{5^9}{5^3} = 5^n$ b. $\frac{3^6}{3^2} = n \times 9$	<i>Applying</i>	<i>Determine</i>	Memilih operasi/strategi yang tepat terkait operasi bilangan berpangkat
6	Berpikir Kritis. Diberikan persamaan $\frac{5^m}{5^n} = 5^4$ a. Tentukan dua bilangan m dan n yang bernilai dari 1 sampai dengan 9 sehingga dapat memenuhi persamaan di atas. b. Tentukan banyak penyelesaian dari persamaan tersebut. Jelaskan jawabanmu.	<i>Applying</i>	<i>Determine</i>	Memilih strategi/operasi yang tepat terkait operasi bilangan berpangkat untuk menyelesaikan masalah
		<i>Reasoning</i>	<i>Analyze</i>	Menggunakan hubungan antarbilangan dan ekspresi aljabar
7	Bilangan $\frac{2^{2.015} + 2^{2.014} + 2^{2.013}}{14}$ setara dengan 2^y , untuk y suatu bilangan bulat positif. Tentukan nilai y.	<i>Applying</i>	<i>Determine</i>	Memilih strategi dan operasi yang tepat terkait bilangan berpangkat untuk menyelesaikan masalah
8	Populasi bakteri yang tersebar dalam suatu wadah berbentuk persegi panjang yaitu sebanyak $4,2 \times 10^7$. Jika panjang dan lebar wadah tersebut masing-masing 10 cm dan 7 cm, berapa kepadatan bakteri pada wadah tersebut?	<i>Knowing</i>	<i>Retrieve</i>	Mengambil informasi dari teks soal
		<i>Applying</i>	<i>Implement</i>	Menerapkan strategi/operasi terkait bilangan berpangkat untuk menyelesaikan masalah
9	Analisis Kesalahan. Jelaskan dan perbaiki kesalahan dalam menyederhanakan bentuk di bawah ini. $\frac{7^{13}}{7^5} = 7^{\frac{13}{5}} = 7^8$	<i>Reasoning</i>	<i>Evaluate</i>	Mengevaluasi alternatif solusi/strategi penyelesaian masalah yang diberikan
10	Tantangan. Intensitas bunyi percakapan manusia 10^6 kali	<i>Applying</i>	<i>Implement</i>	Menerapkan strategi dan operasi untuk

No	Soal	Domain Kognitif	Aspek Kognitif	Alasan
	intensitas suara manusia berbisik. Sedangkan intensitas bunyi pesawat lepas landas 10^{14} kali intensitas suara bisikan manusia. Berapa kali intensitas bunyi pesawat lepas landas dibandingkan dengan bunyi percakapan manusia?			menyelesaikan masalah

Subbab 1.4: Pangkat Nol, Pangkat Negatif, dan Bentuk Akar

Jumlah soal: 15 butir

No	Soal	Domain Kognitif	Aspek Kognitif	Alasan
1	Berpikir Kritis. Bagaimana kamu dapat menuliskan angka 1 sebagai bentuk perpangkatan dengan basis 5 dan perpangkatan dengan basis 7?	<i>Knowing</i>	<i>Recall</i>	Mengingat kembali definisi pangkat nol
2	Tentukan hasil operasi bilangan berpangkat berikut ini. a. $3^1 + 3^0$ b. $(-2)^6$ c. $(-3^3) \times (-3^0)$ d. $\left(\frac{1}{6}\right)^{-3}$ e. $\left(-\frac{2}{3}\right)^{-2}$	<i>Knowing</i>	<i>Recall</i> <i>Compute</i>	Mengingat kembali definisi pangkat nol dan pangkat negatif Menggunakan operasi aritmatika untuk menyelesaikan masalah
3	Tentukan hasil operasi bilangan berpangkat berikut ini. a. $\frac{2^3 \times 2^4}{2^6}$ b. $\left(-\frac{1}{4}\right)^4 \times \left(-\frac{1}{4}\right)^0 \times \left(-\frac{1}{4}\right)^4$ c. $\frac{1}{3^5} \times \frac{1}{3^{-7}}$ d. $(-7)^4 \times 7^3$	<i>Knowing</i>	<i>Recall</i> <i>Compute</i>	Mengingat kembali definisi pangkat nol dan pangkat negatif Menggunakan operasi aritmatika untuk menyelesaikan masalah
4	Sederhanakan dalam bentuk pangkat negatif. a. $\frac{abc}{a^3bc^4}$ b. $\frac{5^5}{5^2}$ c. $\frac{b^5}{b^{-3}}$ d. $r^6 \times r^{-6}$	<i>Applying</i>	<i>Determine</i>	Memilih strategi/ operasi yang tepat terkait perpangkatan untuk menyelesaikan masalah

No	Soal	Domain Kognitif	Aspek Kognitif	Alasan
5	Sederhanakan dalam bentuk pangkat positif. a. $2m^{-4} \times m^{-3}$ b. $\frac{6^7}{6^3}$ c. $\frac{b^{-6}}{b^{-3}}$ d. $\frac{1}{a^3bc^{-4}}$	<i>Applying</i>	<i>Determine</i>	Memilih strategi/ operasi yang tepat terkait perpangkatan untuk menyelesaikan masalah
6	Sederhanakan bentuk operasi perpangkatan berikut ini. a. $18t^3 \times 2t^3$ b. $\frac{2y^0t^3}{y^6t^{-2}}$ c. $2m^0 \times m^{-7}$ d. $m^3 + \frac{4}{m^{-3}}$	<i>Applying</i>	<i>Determine</i>	Memilih strategi/ operasi yang tepat terkait perpangkatan untuk menyelesaikan masalah
7	Analisis Kesalahan. Jelaskan dan perbaiki kesalahan dalam penyederhanaan berikut ini. $d^5 = (-d) \times (-d) \times (-d) \times (-d) \times (-d)$ $= (-d)^5$	<i>Reasoning</i>	<i>Evaluate</i>	Mengevaluasi alternatif strategi/ solusi penyelesaian masalah terkait perpangkatan
8	Tentukan panjang diagonal ruang balok di bawah ini dengan panjang rusuk AB = 12 cm, BC = 5 cm, dan CG = 4 cm. 	<i>Knowing</i>	<i>Retrieve</i>	Mengambil informasi dari gambar
		<i>Applying</i>	<i>Implement</i>	Menerapkan strategi/ operasi terkait perpangkatan untuk menyelesaikan masalah
9	Tantangan. Pada sebuah pabrik kertas HVS dilakukan pengemasan kertas per rim (1 rim = 500 lembar). Jumlah pesanan yang harus dipenuhi pabrik tersebut tiap harinya adalah 30	<i>Knowing</i>	<i>Retrieve</i>	Mengambil informasi dari teks soal

No	Soal	Domain Kognitif	Aspek Kognitif	Alasan
	karton box dengan masing-masing karton box berisi 30 rim kertas. Berapakah rim kertas HVS yang harus diproduksi dalam 1 bulan? (1 bulan adalah 30 hari)	<i>Applying</i>	<i>Implement</i>	Menerapkan strategi/ operasi terkait perpangkatan untuk menyelesaikan masalah
10	Tantangan. Setiap tanggal 10 Budi melakukan aktivasi paket internet murah dengan kapasitas 1 Gigabyte (GB) untuk telepon selularnya dan masa aktif berlaku sampai tanggal 10 pada bulan berikutnya. Jika Budi melakukan aktivasi pada tanggal 10 Agustus 2016, berapakah kapasitas rata-rata tiap hari yang digunakan Budi agar tetap dapat menggunakan paket internet hingga 9 September 2016? (Tuliskan jawaban kamu dalam satuan Megabyte)	<i>Knowing</i>	<i>Retrieve</i>	Mengambil informasi dari teks soal
		<i>Applying</i>	<i>Implement</i>	Menerapkan strategi/ operasi terkait perpangkatan untuk menyelesaikan masalah
		<i>Reasoning</i>	<i>Integrate</i>	Membuat hubungan berbagai elemen pengetahuan dan prosedur untuk menyelesaikan masalah
11	Tantangan. Pada soal nomor 10 ^[sic] , andaikan paket internet Budi habis pada tanggal 30 Agustus 2016, berapa rata-rata kapasitas yang digunakan Budi tiap harinya? (Tuliskan jawaban kamu dalam satuan Byte)	<i>Knowing</i>	<i>Retrieve</i>	Mengambil informasi dari teks soal
		<i>Applying</i>	<i>Implement</i>	Menerapkan strategi/ operasi terkait perpangkatan untuk menyelesaikan masalah
*Catatan peneliti: Teks soal yang asli mereferensikan nomor soal yang salah (nomor 9).				
12	Setiap kantung darah yang didonasikan oleh para pendonor kepada Palang Merah Indonesia (PMI) berisi 0,5 L darah. ($1 \text{ mm}^3 = 10^{-3} \text{ mL}$) a. Jika dalam setiap 1 mm^3 darah mengandung 3×10^4 sel darah putih, berapa jumlah sel darah putih dalam satu kantung darah	<i>Knowing</i>	<i>Retrieve</i>	Mengambil informasi dari teks soal

No	Soal	Domain Kognitif	Aspek Kognitif	Alasan
	<p>tersebut? Tuliskan jawabanmu dalam bentuk perpangkatan paling sederhana.</p> <p>b. Jika dalam setiap 1 mm^3 darah mengandung 7×10^6 sel darah merah, berapa jumlah sel darah merah dalam satu kantung darah tersebut? Tuliskan jawabanmu dalam bentuk perpangkatan paling sederhana.</p>	<i>Applying</i>	<i>Implement</i>	Menerapkan strategi/ operasi terkait perpangkatan untuk menyelesaikan masalah
13	<p>Sederhanakan bentuk akar berikut.</p> <p>a. $\sqrt{112}$</p> <p>b. $\sqrt{216}$</p> <p>c. $\sqrt{605}$</p> <p>d. $\sqrt{800}$</p> <p>e. $\sqrt{5.000}$</p> <p>f. $\sqrt{0,000121}$</p> <p>g. $\sqrt{0,0000324}$</p> <p>h. $9\sqrt{2} + \sqrt{72} - \sqrt{578}$</p> <p>i. $7\sqrt{3} + \sqrt{48} - \sqrt{768}$</p> <p>j. $9\sqrt{5} - \sqrt{125} + \sqrt{720}$</p>	<i>Knowing</i>	<i>Recall</i>	Mengingat kembali definisi/sifat dari akar bilangan
		<i>Applying</i>	<i>Determine</i>	Memilih strategi/ operasi yang tepat terkait akar bilangan untuk menyelesaikan masalah
14	<p>Pak Asep memiliki sebuah kolam renang berbentuk silinder di belakang rumahnya. Diameter kolam tersebut adalah $14\sqrt{3}$ meter dengan kedalaman $150\sqrt{2}$ cm. Apabila Pak Asep ingin mengisi kolam tersebut sampai penuh, berapa liter air yang dibutuhkan oleh Pak Asep? Tuliskan jawabanmu dalam bentuk perpangkatan paling sederhana.</p>	<i>Knowing</i>	<i>Retrieve</i>	Mengambil data dari teks soal
		<i>Applying</i>	<i>Implement</i>	Menerapkan strategi/ operasi terkait perpangkatan untuk menyelesaikan masalah
15	<p>Sebuah kapal tenaga angin seperti gambar di bawah. Perkirakan panjang tali layar agar menarik kapal pada sudut 45° dan ketinggian layar 150 m.</p>	<i>Knowing</i>	<i>Retrieve</i>	Mengambil data dari gambar

No	Soal	Domain Kognitif	Aspek Kognitif	Alasan
		<i>Applying</i>	<i>Implement</i>	Menerapkan strategi/ operasi terkait perpangkatan untuk menyelesaikan masalah

Subbab 1.5: Notasi Ilmiah (Bentuk Baku)

Jumlah soal: 10 butir

No	Soal	Domain Kognitif	Aspek Kognitif	Alasan
1	Tantangan. Hikmah membeli flashdisk berkapasitas 16 GB dengan kapasitas yang dapat digunakan 95%. Berapa byte kapasitas flashdisk yang bisa digunakan?	<i>Knowing</i>	<i>Recall</i>	Mengingat kembali definisi notasi ilmiah
		<i>Applying</i>	<i>Implement</i>	Menerapkan strategi/ operasi terkait notasi ilmiah untuk menyelesaikan soal
2	Tentukan jawaban kamu dalam bentuk baku. Beri penjelasan singkat bagaimana kamu mendapatkan jawaban tersebut. <ol style="list-style-type: none"> $10,5 \times 10^3$ $1,5 \times 10^{-5}$ 7.125×10^{-16} $0,455 \times 10^{-6}$ 5×10^{12} 	<i>Catatan peneliti: Soal tidak valid (soal sudah dalam bentuk baku/notasi ilmiah)</i>		
3	Tuliskan bilangan berikut dalam bentuk biasa. <ol style="list-style-type: none"> 7×10^3 $2,7 \times 10^{-12}$ $3,25 \times 10^5$ $9,95 \times 10^{15}$ $3,1 \times 10^3$ 	<i>Knowing</i>	<i>Recall</i>	Mengingat kembali definisi notasi ilmiah
4	Tuliskan bilangan berikut dalam bentuk baku. <ol style="list-style-type: none"> 0,00000056 120.000.000.000 1.000.000.000.000.000 880 0,000123 	<i>Knowing</i>	<i>Recall</i>	Mengingat kembali definisi notasi ilmiah

No	Soal	Domain Kognitif	Aspek Kognitif	Alasan
5	Sederhanakan bilangan berikut dan tuliskan jawabanmu dalam bentuk baku. a. $(5 \times 10^2) \times (3 \times 10^2)$ b. $(7,2 \times 10^{-3}) \times (4 \times 10^5)$ c. $(5,25 \times 10^6) \times (10^{-12})$ d. $\frac{(1,25 \times 10^{16})}{5 \times 10^6}$ e. $\frac{1,6 \times 10^{-3}}{2 \times 10^4}$	<i>Knowing</i>	<i>Compute</i>	Menggunakan operasi aritmatika untuk menyelesaikan masalah
			<i>Recall</i>	Mengingat kembali definisi notasi ilmiah
6	Analisis Kesalahan. Jelaskan dan perbaiki kesalahan dalam penulisan bilangan bentuk baku berikut. a. $125.000.000 = 12,5 \times 10^7$ b. $0,0000055 = 5,5 \times 10^6$ c. $1,3 \times 10^{-4} = 13.000$	<i>Reasoning</i>	<i>Evaluate</i>	Memberikan evaluasi alternatif dari solusi/strategi penyelesaian masalah yang diberikan
7	Massa planet Jupiter adalah $1,9 \times 10^{22}$ kg, sedangkan massa planet Bumi adalah 30% dari Jupiter. Berapakah massa planet Bumi? Tuliskan jawabanmu dalam bentuk baku atau notasi ilmiah.	<i>Applying</i>	<i>Implement</i>	Menerapkan strategi dan operasi terkait notasi ilmiah untuk menyelesaikan masalah
8	Massa Bumi adalah 5.972.190.000.000.000.000 kg. Tuliskan dalam bentuk baku.	<i>Knowing</i>	<i>Recall</i>	Mengingat kembali definisi notasi ilmiah
9	Tantangan. Lihatlah soal nomor 1. Berapakah kisaran harga memori yang dapat digunakan tiap byte? Tuliskan jawabanmu dalam bentuk baku.	<i>Catatan peneliti:</i> Soal tidak valid (tidak ada harga yang dispesifikasikan pada soal nomor 1)		
10	Budi sedang melakukan percobaan di laboratorium dengan menggunakan mikroskop. Mikroskop yang digunakan dapat mengamati suatu organisme menjadi 1.000 kali lebih besar dari ukuran sebenarnya. Bakteri yang diamati oleh Budi memiliki diameter dengan ukuran 5×10^{-5} milimeter. Berapa diameter bakteri yang terlihat pada mikroskop (dalam cm)? Tuliskan jawabanmu dalam bentuk notasi ilmiah.	<i>Knowing</i>	<i>Retrieve</i>	Mengambil data dari teks soal
		<i>Applying</i>	<i>Implement</i>	Menerapkan strategi dan operasi terkait notasi ilmiah untuk menyelesaikan masalah

Uji Kompetensi Bab I

Jumlah soal: 25 butir

No	Soal	Domain Kognitif	Aspek Kognitif	Alasan
1	Dapatkan hasil dari operasi perpangkatan berikut ini. $\frac{64^2 + 16^3}{4^5}$	<i>Knowing</i>	<i>Recall</i>	Mengingat kembali sifat perpangkatan
			<i>Compute</i>	Menggunakan operasi aritmatika sederhana
2	Dapatkan bentuk perpangkatan yang ekuivalen dengan bilangan di bawah ini (Jawaban dapat lebih dari satu bentuk perpangkatan). a. $\sqrt[2]{8}$ b. $\sqrt[3]{27}$	<i>Knowing</i>	<i>Recall</i>	Mengingat kembali sifat perpangkatan
		<i>Applying</i>	<i>Determine</i>	Memilih strategi dan operasi yang tepat terkait perpangkatan untuk menyelesaikan masalah
3	Diketahui $\frac{(x^{n-1}y^n)^3}{x^{2n}y^{6+n}}$ senilai dengan $x^a y^b$. Tentukan nilai $\frac{b}{a}$.	<i>Applying</i>	<i>Determine</i>	Memilih strategi dan operasi yang tepat terkait perpangkatan untuk menyelesaikan masalah
4	Sederhanakan operasi perpangkatan berikut ini. a. $y^3 \times (3y)^2$ b. $\sqrt{b}2y^5 \times b^36y^2$ c. $(tn^3)^4 \times 4t^3$ d. $(2x^3) \times 3(x^2y^2)^3 \times 5y^4$	<i>Applying</i>	<i>Determine</i>	Memilih strategi dan operasi yang tepat terkait perpangkatan dan akar bilangan untuk menyelesaikan masalah
5	Tuliskan bilangan di bawah ini dalam notasi ilmiah. a. 0,00000056 b. 2.500.000 c. 0,98 d. 10.000.000.000.000	<i>Knowing</i>	<i>Recall</i>	Mengingat kembali definisi/sifat notasi ilmiah
6	Hitung hasil perpangkatan berikut ini. Tuliskan jawabanmu dalam notasi ilmiah. a. 12×2^3 b. $7,27 \times 10^2 - 0,5 \times 10^3$ c. $(8,32 \times 10^4) : (4 \times 10^{-6})$ d. $3,7 \times 10^3 \times 5,2 \times 10^{-3}$	<i>Knowing</i>	<i>Compute</i>	Menggunakan operasi aritmatika untuk menyelesaikan soal
		<i>Applying</i>	<i>Determine</i>	Memilih strategi dan operasi yang tepat terkait notasi ilmiah untuk menyelesaikan masalah
7	Diberikan $x = 24$ dan $y = 54$. Tentukan hasil operasi di bawah ini.	<i>Knowing</i>	<i>Compute</i>	Menggunakan operasi aritmatika untuk menyelesaikan soal

No	Soal	Domain Kognitif	Aspek Kognitif	Alasan
	Tuliskan jawabanmu dalam bentuk perpangkatan yang paling sederhana. a. $x \times y$ b. $\frac{x}{y}$		<i>Recall</i>	Mengingat kembali materi perpangkatan
8	Berapakah hasil operasi perpangkatan $492^5 - 246^5$?	<i>Applying</i>	<i>Implement</i>	Menerapkan strategi dan operasi terkait perpangkatan untuk menyelesaikan soal
9	Berapa banyak detik dalam kurun waktu 60.000 tahun? Tuliskan hasilnya dalam notasi ilmiah.	<i>Knowing</i>	<i>Recall</i>	Mengingat kembali definisi/sifat notasi ilmiah
		<i>Reasoning</i>	<i>Integrate</i>	Membuat hubungan dengan berbagai elemen pengetahuan untuk menyelesaikan masalah
10	Tuliskan hasil operasi perpangkatan berikut ini. a. -8×2^6 b. $5^4 \times 50$ c. $\frac{16}{2^4}$ d. $\frac{98}{7^3}$	<i>Knowing</i>	<i>Compute</i>	Menggunakan operasi aritmatika untuk menyelesaikan soal
			<i>Recall</i>	Mengingat kembali materi perpangkatan
11	Tantangan. Pada acara lomba 17 Agustusan di SMPN 1 Taman, diadakan lomba mengisi air dalam wadah berbentuk kerucut dengan melewati perjalanan sejauh 5 m. Pada pengambilan awal, tiap peserta mengisi setiap wadah secara penuh. Setiap meter yang ditempuh maka air akan berkurang sebanyak $\frac{1}{10}$ bagian. Berapakah air yang terkumpul dalam satu kali perjalanan? (ukuran wadah: diameter = 10 cm dengan tinggi 12 cm. $V_{kerucut} = \frac{1}{3}\pi r^2 t$).	<i>Knowing</i>	<i>Retrieve</i>	Mengambil informasi dari teks soal
		<i>Applying</i>	<i>Implement</i>	Menerapkan operasi, metode, atau strategi terkait materi perpangkatan untuk menyelesaikan masalah
12	Urutkan bilangan berikut ini, dari yang terbesar ke terkecil. a. 7 b. 0,89	<i>Knowing</i>	<i>Recall</i>	Mengingat kembali materi perpangkatan

No	Soal	Domain Kognitif	Aspek Kognitif	Alasan
	c. $5,2 \times 10^3$ d. $0,98 \times 10^4$ e. 0,0045 f. 1.000		<i>Order</i>	Mengurutkan berbagai bilangan yang ada
13	Cahaya bergerak dengan kecepatan 3×10^8 m/detik. Berapa jauh cahaya bergerak dalam satu tahun? Tuliskan hasilnya dalam notasi ilmiah.	<i>Knowing</i>	<i>Recall</i>	Mengingat kembali materi notasi ilmiah
		<i>Reasoning</i>	<i>Integrate</i>	Membuat hubungan dengan berbagai elemen pengetahuan untuk menyelesaikan masalah
14	Tuliskan hasil perpangkatan berikut ini. a. $\frac{1}{2}(6^3 - 4^2)$ b. $8 + 3 \times (-3)^4$ c. $(6^4 - 4^4):3$ d. $\left(\frac{1}{4}\right)^4 \times \left(-\frac{1}{16}\right)^2$	<i>Applying</i>	<i>Determine</i>	Memilih strategi dan operasi yang tepat terkait perpangkatan untuk menyelesaikan masalah
15	Dapatkan nilai n dari persamaan berikut ini. a. $3^n = 243$ b. $2^{n+1} = \frac{1}{16}$ c. $4^n = (-2)^0$ d. $48:3 = n^4$	<i>Applying</i>	<i>Determine</i>	Memilih strategi dan operasi yang tepat terkait perpangkatan untuk menyelesaikan masalah
16	Satu karung yang berisi beras memiliki massa 50 kg. Andaikan tiap-tiap butir beras yang terdapat dalam karung tersebut memiliki massa yang sama, yaitu $2,5 \times 10^{-2}$ gram. Berapakah banyak butir beras dalam karung tersebut? Tuliskan jawabanmu dalam bentuk perpangkatan paling sederhana.	<i>Knowing</i>	<i>Retrieve</i>	Mengambil data dari teks soal
		<i>Applying</i>	<i>Implement</i>	Menerapkan strategi dan operasi terkait perpangkatan dan notasi ilmiah untuk menyelesaikan soal
17	Seluruh planet yang ada dalam tata surya melakukan gerakan revolusi mengelilingi matahari. Planet Neptunus memerlukan waktu sekitar $2,5 \times 10^2$ tahun untuk mengelilingi matahari dalam satu putaran penuh. Matahari memerlukan waktu selama	<i>Knowing</i>	<i>Retrieve</i>	Mengambil data dari teks soal

No	Soal	Domain Kognitif	Aspek Kognitif	Alasan
	2,25 × 10 ⁸ tahun untuk mengelilingi pusat Galaksi Bimasakti dalam satu putaran penuh. Berapa banyak revolusi yang dilakukan oleh Planet Neptunus dalam mengelilingi matahari ketika matahari menyelesaikan gerakan mengelilingi pusat Galaksi Bimasakti dalam satu putaran penuh?	<i>Applying</i>	<i>Implement</i>	Memilih strategi dan operasi yang tepat terkait perpangkatan dan notasi ilmiah untuk menyelesaikan masalah
18	Setiap jantung manusia rata-rata memompa sekitar 7 × 10 ⁻² liter darah dalam setiap detak jantung. Dalam tiap menitnya, rata-rata jantung manusia berdetak 70 kali. Berapa liter darah yang dipompa oleh jantung manusia dalam waktu 1 tahun (1 tahun = 365 hari)? Tuliskan jawabanmu dalam notasi ilmiah, bulatkan sampai 2 tempat desimal.	<i>Knowing</i>	<i>Retrieve</i>	Mengambil data dari teks soal
		<i>Applying</i>	<i>Implement</i>	Menerapkan strategi dan operasi terkait perpangkatan dan notasi ilmiah untuk menyelesaikan soal
19	Nyatakan pernyataan matematika berikut sebagai pernyataan Benar (B) atau Salah (S). Berikan alasanmu. a. $\frac{6^3}{6^3} = 0$ b. $(2 \times 6)^5 = 2^5 \times 6^5$ c. $\left(\frac{2}{5}\right)^7 = \frac{2^7}{5^{-7}}$ d. $4^3 \times 4^7 = 2^{20}$	<i>Knowing</i>	<i>Recall</i>	Mengingat kembali materi perpangkatan
		<i>Reasoning</i>	<i>Justify</i>	Memberikan argumen yang mendukung solusi yang diperoleh
20	Sederhanakan bentuk di bawah ini. a. $\left(\frac{a^2 b^3 c^3}{4bc}\right) \times \left(\frac{8ac}{3bc^{-3}}\right)$ b. $2m^0 \times m^{\frac{2}{3}}$ c. $m^3 + \frac{4}{m^{-3}}$	<i>Applying</i>	<i>Determine</i>	Memilih strategi dan operasi yang tepat terkait perpangkatan untuk menyelesaikan masalah
21	Diberikan x = 27 dan y = 63. Tentukan hasil dari operasi di bawah ini. Tuliskan jawabanmu dalam bentuk bilangan berpangkat paling sederhana. a. $x^3 y$ b. $\frac{x}{\sqrt{y}}$	<i>Knowing</i>	<i>Compute</i>	Menggunakan operasi aritmatika untuk menyelesaikan soal
			<i>Recall</i>	Mengingat kembali materi perpangkatan dan akar bilangan

No	Soal	Domain Kognitif	Aspek Kognitif	Alasan																				
22	<p>Tuliskan dalam bentuk pangkat paling sederhana.</p> <p>a. $\frac{243}{20}$</p> <p>b. $\frac{500}{9}$</p> <p>c. $\frac{625}{49}$</p> <p>d. $\frac{686}{49}$</p>	<i>Applying</i>	<i>Determine</i>	Memilih strategi dan operasi yang tepat terkait perpangkatan untuk menyelesaikan masalah																				
23	<p>Perhatikan tabel berikut ini.</p> <table border="1" data-bbox="277 596 753 974"> <thead> <tr> <th>Satuan Panjang</th> <th>Panjang (dalam meter)</th> </tr> </thead> <tbody> <tr> <td>Kilometer</td> <td>10^3</td> </tr> <tr> <td>Hektometer</td> <td>10^2</td> </tr> <tr> <td>Dekameter</td> <td>10^1</td> </tr> <tr> <td>Meter</td> <td>1</td> </tr> <tr> <td>Desimeter</td> <td>10^{-1}</td> </tr> <tr> <td>Sentimeter</td> <td>10^{-2}</td> </tr> <tr> <td>Milimeter</td> <td>10^{-3}</td> </tr> <tr> <td>Mikrometer</td> <td>10^{-6}</td> </tr> <tr> <td>Nanometer</td> <td>10^{-9}</td> </tr> </tbody> </table> <p>Dengan menggunakan tabel di atas, isilah titik-titik di bawah ini (nyatakan dalam bentuk perpangkatan)</p> <p>a. 1 hektometer = millimeter</p> <p>b. 1 kilometer = sentimeter</p> <p>c. 1 dekameter = mikrometer</p> <p>d. 1 desimeter = nanometer</p>	Satuan Panjang	Panjang (dalam meter)	Kilometer	10^3	Hektometer	10^2	Dekameter	10^1	Meter	1	Desimeter	10^{-1}	Sentimeter	10^{-2}	Milimeter	10^{-3}	Mikrometer	10^{-6}	Nanometer	10^{-9}	<i>Knowing</i>	<i>Retrieve</i>	Memperoleh informasi dari tabel
		Satuan Panjang	Panjang (dalam meter)																					
Kilometer	10^3																							
Hektometer	10^2																							
Dekameter	10^1																							
Meter	1																							
Desimeter	10^{-1}																							
Sentimeter	10^{-2}																							
Milimeter	10^{-3}																							
Mikrometer	10^{-6}																							
Nanometer	10^{-9}																							
<i>Applying</i>	<i>Implement</i>	Menerapkan strategi dan operasi terkait perpangkatan untuk menyelesaikan soal																						
24	<p>Perhatikan tabel unsur-unsur kimia beserta jari-jari atomnya berikut ini. Semua pengukuran dituliskan dalam satuan nanometer.</p> <table border="1" data-bbox="277 1419 753 1654"> <thead> <tr> <th>Nama Unsur</th> <th>Jari-jari Atom</th> </tr> </thead> <tbody> <tr> <td>Magnesium</td> <td>$1,44 \times 10^2$</td> </tr> <tr> <td>Oksigen</td> <td>$4,8 \times 10^4$</td> </tr> <tr> <td>Pospor</td> <td>$9,6 \times 10^4$</td> </tr> <tr> <td>Kalsium</td> <td>$1,92 \times 10^2$</td> </tr> <tr> <td>Barium</td> <td>$2,4 \times 10^2$</td> </tr> </tbody> </table>	Nama Unsur	Jari-jari Atom	Magnesium	$1,44 \times 10^2$	Oksigen	$4,8 \times 10^4$	Pospor	$9,6 \times 10^4$	Kalsium	$1,92 \times 10^2$	Barium	$2,4 \times 10^2$	<i>Knowing</i>	<i>Retrieve</i>	Memperoleh informasi dari tabel								
Nama Unsur	Jari-jari Atom																							
Magnesium	$1,44 \times 10^2$																							
Oksigen	$4,8 \times 10^4$																							
Pospor	$9,6 \times 10^4$																							
Kalsium	$1,92 \times 10^2$																							
Barium	$2,4 \times 10^2$																							

No	Soal	Domain Kognitif	Aspek Kognitif	Alasan
	a. Apakah jari-jari atom Pospor lebih panjang daripada jari-jari atom Magnesium? b. Unsur apa yang memiliki jari-jari atom terbesar dan terkecil? c. Berapa kalikah panjang jari-jari atom Barium jika dibandingkan dengan jari-jari atom Oksigen? d. Berapa kalikah panjang jari-jari atom Kalsium jika dibandingkan dengan jari-jari atom Pospor?	<i>Applying</i>	<i>Implement</i>	Menerapkan strategi dan operasi terkait notasi ilmiah untuk menyelesaikan soal
25	Misalkan diperoleh data bahwa rata-rata penduduk Indonesia menghasilkan 2,5 liter sampah per hari. Jika diasumsikan total penduduk Indonesia adalah 250 juta jiwa, berapa meter kubik sampah yang dihasilkan oleh seluruh penduduk Indonesia dalam kurun waktu 1 bulan (30 hari)? (1 liter = 1 dm ³)	<i>Knowing</i>	<i>Retrieve</i>	Mengambil informasi dari teks soal
		<i>Applying</i>	<i>Determine</i>	Memilih strategi atau operasi yang tepat terkait perpangkatan untuk menyelesaikan masalah

Bab II

Persamaan dan Fungsi Kuadrat

Subbab 2.1: Persamaan Kuadrat

Jumlah soal: 10 butir

No	Soal	Domain Kognitif	Aspek Kognitif	Alasan
1	Tentukan akar persamaan berikut. a. $3x^2 - 12 = 0$ b. $x^2 + 7x + 6 = 0$ c. $-3x^2 - 5x + 2 = 0$	<i>Applying</i>	<i>Determine</i>	Memilih operasi dan strategi yang tepat terkait persamaan kuadrat untuk menyelesaikan soal
2	Nyatakan persamaan $3(x^2 + 1) = x(x - 3)$ dalam bentuk umum persamaan kuadrat.	<i>Knowing</i>	<i>Recall</i>	Mengingat kembali materi persamaan kuadrat
		<i>Applying</i>	<i>Determine</i>	Memilih operasi dan strategi yang tepat terkait persamaan kuadrat untuk menyelesaikan soal
3	Akar-akar persamaan $3x^2 - 12x + 2 = 0$ adalah α dan β . Tentukan persamaan kuadrat baru yang akar-akarnya $(\alpha + 2)$ dan $(\beta + 2)$.	<i>Applying</i>	<i>Determine</i>	Memilih operasi dan strategi yang tepat terkait persamaan kuadrat untuk menyelesaikan soal
4	Tentukan akar persamaan kuadrat berikut dengan 3 cara yang telah kalian pelajari. a. $x^2 - 1 = 0$ b. $4x^2 + 4x + 1 = 0$ c. $-3x^2 - 5x + 2 = 0$ d. $2x^2 - x - 3 = 0$ e. $x^2 - x + \frac{1}{4} = 0$	<i>Applying</i>	<i>Determine</i>	Memilih operasi dan strategi yang tepat terkait persamaan kuadrat untuk menyelesaikan soal
5	Tentukan nilai diskriminan persamaan pada soal no. 1.	<i>Applying</i>	<i>Implement</i>	Menerapkan operasi dan strategi terkait persamaan kuadrat untuk menyelesaikan masalah
6	Jika nilai diskriminan persamaan kuadrat $3x^2 - 5x + c = 0$ adalah 49, tentukan nilai c.	<i>Applying</i>	<i>Determine</i>	Memilih operasi dan strategi yang tepat terkait persamaan kuadrat untuk menyelesaikan soal

No	Soal	Domain Kognitif	Aspek Kognitif	Alasan
7	Ubahlah persamaan $3x^2 = 2x - 4$ ke dalam bentuk umum persamaan kuadrat.	<i>Knowing</i>	<i>Recall</i>	Mengingat kembali materi persamaan kuadrat
8	Carilah himpunan penyelesaian dari persamaan kuadrat berikut. a. $x^2 - 5x + 6 = 0$ b. $x^2 + 2x - 15 = 0$ c. $x^2 + 4x - 12 = 0$	<i>Applying</i>	<i>Determine</i>	Memilih operasi dan strategi yang tepat terkait persamaan kuadrat untuk menyelesaikan soal
9	Bagaimana bentuk persamaan kuadrat yang akar-akarnya 2 dan 5?	<i>Applying</i>	<i>Determine</i>	Memilih operasi dan strategi yang tepat terkait persamaan kuadrat untuk menyelesaikan soal
10	Nyatakan persamaan $2(x^2 + 1) = x(x + 3)$ dalam bentuk umum persamaan kuadrat.	<i>Knowing</i>	<i>Recall</i>	Mengingat kembali materi persamaan kuadrat

Subbab 2.2: Grafik Fungsi Kuadrat

Jumlah soal: 10 butir

No	Soal	Domain Kognitif	Aspek Kognitif	Alasan
1	Gambarkan grafik fungsi kuadrat berikut. a. $y = \frac{1}{2}x^2$ b. $y = \frac{1}{4}x^2$ c. $y = -\frac{1}{2}x^2$ d. $y = -\frac{1}{4}x^2$	<i>Applying</i>	<i>Represent</i>	Menyajikan berbagai fungsi kuadrat dalam bentuk grafik
2	Dari Soal 1, apa yang dapat kamu simpulkan mengenai grafik $y = ax^2$ dengan $ a < 1$ dan $a \neq 0$?	<i>Reasoning</i>	<i>Draw Conclusion</i>	Menarik kesimpulan yang valid terkait dengan fungsi kuadrat
3	Gambarkan grafik fungsi kuadrat berikut. a. $y = x^2 + 3x + 2$ b. $y = x^2 - 3x + 2$ c. $y = x^2 + 5x + 6$ d. $y = x^2 - 5x + 6$	<i>Applying</i>	<i>Represent</i>	Menyajikan berbagai fungsi kuadrat dalam bentuk grafik
4	Dari Soal 3, apa yang dapat kamu simpulkan mengenai perbandingan grafik $y = ax^2 + bx + c$ dengan $y = ax^2 - bx + c$?	<i>Reasoning</i>	<i>Draw Conclusion</i>	Menarik kesimpulan yang valid terkait dengan fungsi kuadrat

No	Soal	Domain Kognitif	Aspek Kognitif	Alasan
5	Gambarkan grafik fungsi kuadrat berikut. a. $y = x^2 + 4x + 2$ b. $y = -x^2 + 2x + 3$ c. $y = x^2 - 5x + 5$ d. $y = -2x^2 + 4x + 5$	<i>Applying</i>	<i>Represent</i>	Menyajikan berbagai fungsi kuadrat dalam bentuk grafik
6	Dari soal nomor 5, tentukan titik puncak tiap-tiap grafik. Tentukan pula hubungan titik puncak grafik fungsi $y = ax^2 + bx + c$ dengan nilai $-\frac{b}{2a}$.	<i>Applying</i>	<i>Implement</i>	Menerapkan operasi dan strategi terkait persamaan kuadrat untuk menyelesaikan masalah
		<i>Reasoning</i>	<i>Analyze</i>	Mendeskrripsikan hubungan antara ekspresi aljabar
7	Apakah mungkin grafik fungsi kuadrat tidak memotong sumbu-x? Jelaskan alasanmu.	<i>Reasoning</i>	<i>Justify</i>	Memberikan argumen matematis untuk mendukung solusi
8	Apakah mungkin grafik fungsi kuadrat tidak memotong sumbu-y? Jelaskan alasanmu.	<i>Reasoning</i>	<i>Justify</i>	Memberikan argumen matematis untuk mendukung solusi
9	Apakah mungkin grafik fungsi kuadrat memotong sumbu-x pada tiga titik koordinat berbeda? Jelaskan alasanmu.	<i>Reasoning</i>	<i>Justify</i>	Memberikan argumen matematis untuk mendukung solusi
10	Apakah mungkin grafik fungsi kuadrat memotong sumbu-y pada tiga titik koordinat berbeda? Jelaskan alasanmu.	<i>Reasoning</i>	<i>Justify</i>	Memberikan argumen matematis untuk mendukung solusi

Subbab 2.3: Sumbu Simetri dan Nilai Optimum

Jumlah soal: 10 butir

No	Soal	Domain Kognitif	Aspek Kognitif	Alasan
1	Tentukan sumbu simetri grafik fungsi di bawah ini. a. $y = 2x^2 - 5x$ b. $y = 3x^2 + 12x$ c. $y = -8x^2 - 16x - 1$	<i>Applying</i>	<i>Implement</i>	Menerapkan operasi dan strategi terkait persamaan kuadrat untuk menyelesaikan masalah
2	Tentukan nilai optimum fungsi berikut ini.	<i>Applying</i>	<i>Implement</i>	Menerapkan operasi dan strategi terkait persamaan kuadrat untuk menyelesaikan masalah

No	Soal	Domain Kognitif	Aspek Kognitif	Alasan
	a. $y = -6x^2 + 24x - 19$ b. $y = \frac{2}{5}x^2 - 3x + 15$ c. $y = -\frac{3}{4}x^2 + 7x - 18$			
3	Sketsalah grafik fungsi berikut ini. a. $y = 2x^2 + 9x$ b. $y = 8x^2 - 16x + 6$	<i>Applying</i>	<i>Represent</i>	Membuat sketsa/ grafik dari berbagai fungsi kuadrat
4	Diketahui suatu barisan 1, 7, 16, Suku ke-n dari barisan tersebut dapat dihitung dengan rumus $U_n = an^2 + bn + c$. Tentukan suku ke 100.	<i>Applying</i>	<i>Implement</i>	Menerapkan operasi dan strategi terkait persamaan kuadrat untuk menyelesaikan masalah
5	Diketahui suatu barisan 0, -9, -12, Suku ke-n dari barisan tersebut dapat dihitung dengan rumus $U_n = an^2 + bn + c$. Tentukan nilai minimum dari barisan tersebut.	<i>Applying</i>	<i>Implement</i>	Menerapkan operasi dan strategi terkait persamaan kuadrat untuk menyelesaikan masalah
6	Fungsi kuadrat $y = f(x)$ melalui titik (3, -12) dan (7, 36). Jika sumbu simetrinya $x = 3$, tentukan nilai minimum fungsi $f(x)$.	<i>Applying</i>	<i>Determine</i>	Memilih operasi dan strategi yang tepat terkait persamaan kuadrat untuk menyelesaikan soal
7	Bila fungsi $y = 2x^2 + 6x - m$ mempunyai nilai minimum 3 maka tentukan m.	<i>Applying</i>	<i>Determine</i>	Memilih operasi dan strategi yang tepat terkait persamaan kuadrat untuk menyelesaikan soal
8	Dari tahun 1995 sampai 2002, banyaknya pelanggan telepon genggam N (dalam juta orang) dapat dimodelkan oleh persamaan $N = 17,4x^2 + 36,1x + 83,3$, dengan $x = 0$ merepresentasikan tahun 1995. Pada tahun berapa banyaknya pelanggan mencapai nilai maksimum?	<i>Knowing</i>	<i>Retrieve</i>	Memperoleh data dari teks soal
		<i>Applying</i>	<i>Implement</i>	Menerapkan operasi dan strategi terkait persamaan kuadrat untuk menyelesaikan masalah
9	Jumlah dua bilangan adalah 30. Jika hasil kali kedua bilangan menghasilkan nilai yang maksimum, tentukan kedua bilangan tersebut.	<i>Applying</i>	<i>Determine</i>	Memilih operasi dan strategi yang tepat terkait dengan persamaan kuadrat untuk menyelesaikan masalah
10	Selisih dua bilangan adalah 10. Jika hasil kali kedua bilangan	<i>Applying</i>	<i>Determine</i>	Memilih operasi dan strategi yang tepat

No	Soal	Domain Kognitif	Aspek Kognitif	Alasan
	menghasilkan nilai yang minimum, tentukan kedua bilangan tersebut.			terkait dengan persamaan kuadrat untuk menyelesaikan masalah

Subbab 2.4: Menentukan Fungsi Kuadrat

Jumlah soal: 10 butir

No	Soal	Domain Kognitif	Aspek Kognitif	Alasan
1	Tentukan fungsi kuadrat yang grafiknya melalui titik koordinat $(-1, 1)$, $(0, -4)$, dan $(1, -5)$.	<i>Applying</i>	<i>Implement</i>	Menerapkan operasi dan strategi terkait persamaan kuadrat untuk menyelesaikan masalah
2	Tentukan fungsi kuadrat yang grafiknya memotong sumbu-x pada titik koordinat $(4, 0)$ dan $(-3, 0)$ serta melalui titik koordinat $(2, -10)$.	<i>Applying</i>	<i>Implement</i>	Menerapkan operasi dan strategi terkait persamaan kuadrat untuk menyelesaikan masalah
3	Tentukan fungsi kuadrat yang grafiknya memotong sumbu-x pada koordinat $(-2, 0)$ dan memiliki titik puncak pada koordinat $(2, -16)$.	<i>Applying</i>	<i>Implement</i>	Menerapkan operasi dan strategi terkait persamaan kuadrat untuk menyelesaikan masalah
4	Tentukan fungsi kuadrat yang grafiknya memotong sumbu-y pada koordinat $(0, 4)$, melalui titik koordinat $(-1, -1)$ dan memiliki sumbu simetri $x = 2$.	<i>Applying</i>	<i>Implement</i>	Menerapkan operasi dan strategi terkait persamaan kuadrat untuk menyelesaikan masalah
5	Tantangan. Tentukan fungsi kuadrat yang grafiknya melalui $(12, 0)$, $(0, 3)$, dan $(0, -2)$.	<i>Applying</i>	<i>Implement</i>	Menerapkan operasi dan strategi terkait persamaan kuadrat untuk menyelesaikan masalah
6	Untuk suatu bilangan bulat p , tentukan fungsi kuadrat yang grafiknya melalui titik koordinat $(p, 0)$ dan $(-p, 0)$, dan $(0, p)$.	<i>Applying</i>	<i>Implement</i>	Menerapkan operasi dan strategi terkait persamaan kuadrat untuk menyelesaikan masalah
7	Tentukan semua titik potong grafik fungsi linear $y = x - 1$ dengan fungsi kuadrat $y = x^2 - 5x + 4$.	<i>Applying</i>	<i>Implement</i>	Menerapkan operasi dan strategi terkait persamaan kuadrat

No	Soal	Domain Kognitif	Aspek Kognitif	Alasan
				untuk menyelesaikan masalah
8	Tentukan semua titik potong grafik fungsi kuadrat $y = x^2 - 6x + 4$ dengan fungsi kuadrat $y = x^2 - 8x$.	<i>Applying</i>	<i>Implement</i>	Menerapkan operasi dan strategi terkait persamaan kuadrat untuk menyelesaikan masalah
9	Tantangan. Tentukan nilai a dan b agar grafik fungsi linear $y = ax + b$ memotong grafik fungsi kuadrat $y = x^2 - 4x + 2$ tepat pada satu titik koordinat yakni (3, -1). (Kalau diperlukan dapat menggunakan grafik).	<i>Applying</i>	<i>Determine</i>	Memilih operasi dan strategi yang tepat terkait dengan persamaan kuadrat untuk menyelesaikan masalah
			<i>Represent</i>	Membuat grafik dari fungsi linear dan kuadrat
10	Dari fungsi kuadrat $y = 2x^2 - 12x + 16$ akan dibuat suatu segitiga. Titik-titik sudut segitiga tersebut merupakan titik potong sumbu-x dan titik puncak. Tentukan luas segitiga tersebut.	<i>Knowing</i>	<i>Recall</i>	Mengingat kembali materi segitiga
		<i>Applying</i>	<i>Determine</i>	Memilih operasi dan strategi yang tepat terkait dengan fungsi kuadrat dan segitiga untuk menyelesaikan masalah

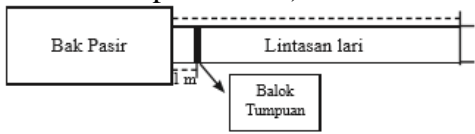
Subbab 2.5: Aplikasi Fungsi Kuadrat

Jumlah soal: 9 butir

No	Soal	Domain Kognitif	Aspek Kognitif	Alasan
1	Suatu persegi panjang kelilingnya 60 cm. Tentukan ukuran persegi panjang agar mempunyai luas maksimum.	<i>Knowing</i>	<i>Recall</i>	Mengingat kembali materi persegi panjang
		<i>Applying</i>	<i>Implement</i>	Menerapkan operasi dan strategi terkait dengan fungsi kuadrat untuk menyelesaikan masalah
2	Sebuah segitiga siku-siku jumlah kedua sisi siku-sikunya adalah 50 cm. Tentukan ukuran segitiga siku-siku agar mempunyai luas maksimum.	<i>Knowing</i>	<i>Recall</i>	Mengingat kembali materi segitiga
		<i>Applying</i>	<i>Implement</i>	Menerapkan operasi dan strategi terkait dengan fungsi kuadrat untuk menyelesaikan masalah

No	Soal	Domain Kognitif	Aspek Kognitif	Alasan
3	Seorang siswa memotong selembar kain. Kain hasil potongannya berbentuk persegi panjang dengan keliling 80 cm. Apabila siswa tersebut berharap mendapatkan kain hasil potongan mempunyai luas maksimum, tentukan panjang dan lebar kain.	<i>Knowing</i>	<i>Recall</i>	Mengingat kembali materi persegi panjang
		<i>Applying</i>	<i>Implement</i>	Menerapkan operasi dan strategi terkait dengan fungsi kuadrat untuk menyelesaikan masalah
4	Sebuah peluru ditembakkan vertikal ke atas. Tinggi peluru h (dalam meter) sebagai fungsi waktu t (dalam detik) dirumuskan dengan $h(t) = -4t^2 + 40t$. Tentukan tinggi maksimum yang dapat dicapai peluru dan waktu yang diperlukan.	<i>Applying</i>	<i>Implement</i>	Menggunakan operasi dan strategi terkait dengan fungsi kuadrat untuk menyelesaikan masalah
5	Diketahui bahwa tinggi Jam Gadang yang ada di Sumatera adalah 26 meter. Tentukan pemecahan masalah berikut ini: (<i>Petunjuk</i> : Rumus fisika untuk benda yang dijatuhkan pada ketinggian tertentu adalah $s = s_0 - v_0t + 5t^2$ dan untuk benda yang dilempar ke atas adalah $h = h_0 + v_0t - 5t^2$ dengan s adalah jarak benda yang dijatuhkan terhadap posisi awal benda (meter), h adalah jarak benda yang dilempar terhadap posisi awal benda (meter), t adalah waktu (detik), s_0 dan h_0 adalah ketinggian awal, dan v_0 adalah kecepatan awal benda (m/s)) a. Pada suatu hari ada seseorang yang menjatuhkan apel dari atas gedung Jam Gadang. Jika diharapkan apel tiba di tanah pada 0,7 detik setelah pelemparan apel, tentukan kecepatan awal apel. b. Pada suatu hari ada seseorang yang melempar apel ke atas. Jika orang tersebut menginginkan tinggi lemparannya tersebut tepat sama dengan tinggi gedung Jam Gadang. Tentukan kecepatan awal yang	<i>Knowing</i>	<i>Retrieve</i>	Mengambil informasi yang dibutuhkan dari teks soal
		<i>Applying</i>	<i>Implement</i>	Menerapkan operasi dan strategi terkait dengan fungsi kuadrat untuk menyelesaikan masalah

No	Soal	Domain Kognitif	Aspek Kognitif	Alasan
	harus diberikan orang tersebut pada saat melempar apel.			
6	Seorang pemain bola basket mempunyai tinggi 170 cm. Sedangkan tinggi keranjang adalah 3 meter. Pemain basket tersebut melempar bola basket sejauh 4 meter dari posisi tiang keranjang dan posisi awal bola berada tepat di atas kepala pemain. Ternyata lemparannya mempunyai tinggi maksimum 4,5 meter dan secara horisontal berjarak 2,5 meter dari pemain. Jika lemparannya membentuk parabola tentukan apakah bola tersebut masuk kedalam keranjang?	<i>Knowing</i>	<i>Retrieve</i>	Mengambil informasi yang diperlukan dari teks soal
		<i>Applying</i>	<i>Implement</i>	Menerapkan operasi dan strategi terkait dengan fungsi kuadrat untuk menyelesaikan masalah
7	Seorang tukang bangunan mendapat pesanan membuat air mancur yang diletakkan di pusat kolam kecil yang berbentuk lingkaran. Pemesan menginginkan luas kolamnya adalah 10 m^2 . Jika tinggi maksimum dari air mancur adalah 2 meter dan air mancurnya harus jatuh tepat ditepian kolam maka tentukan persamaan kuadrat dari air mancur.	<i>Knowing</i>	<i>Retrieve</i>	Mengambil informasi yang diperlukan dari teks soal
		<i>Applying</i>	<i>Represent</i>	Membuat persamaan kuadrat dari sebuah masalah
8	Seorang atlet lompat jauh sedang mengadakan latihan. Pada saat latihan dia mengambil awalan lari dengan kecepatan tertentu dan pada saat di balok tumpuan kecepatannya kira-kira 2.5 m/s kemudian pada saat itu juga dia melompat dengan sudut 30° . Tentukan jarak atlet tersebut dengan balok tumpuan ketika dia sampai ditanah? (Petunjuk: Rumus fisika untuk jarak vertikal (tinggi) yang bergantung terhadap waktu dengan sudut awal 30° adalah $h = \frac{1}{2}v_0t - 5t^2$ dan jarak horisontal yang bergantung pada waktu adalah $s = \frac{1}{2}\sqrt{3}v_0t$ dengan t adalah waktu (detik), h adalah tinggi lompatan	<i>Knowing</i>	<i>Retrieve</i>	Mengambil informasi yang dibutuhkan dari teks soal dan gambar
		<i>Applying</i>	<i>Implement</i>	Menerapkan operasi dan strategi terkait dengan fungsi kuadrat untuk menyelesaikan masalah

No	Soal	Domain Kognitif	Aspek Kognitif	Alasan
	<p>pada saat t (m), s adalah jarak horisontal pada saat t (m) dan v_0 adalah kecepatan awal)</p> 			
9	<p>Seorang atlet lompat tinggi sedang mengadakan latihan. Pada saat latihan dia mengambil awalan lari dengan kecepatan tertentu dan dia melompat dengan sudut mendekati 90° pada saat jaraknya sangat dekat sekali dengan tiang lompat. Satu detik setelah dia melompat, tubuhnya mencapai tanah. Tentukan kecepatan lari sesaat sebelum dia melompat supaya lompatannya bisa melewati tinggi mistar lompat yaitu 2 meter! (Petunjuk: Rumus fisika untuk tinggi yang bergantung terhadap waktu dengan sudut awal lompatan mendekati 90° adalah $h = \frac{1}{2}v_0t - 5t^2$ dengan t adalah waktu (detik), h adalah tinggi lompatan pada saat t (m) dan v_0 adalah kecepatan awal)</p>	Knowing	Retrieve	Mengambil informasi yang dibutuhkan dari teks soal dan gambar
		Applying	Implement	Menerapkan operasi dan strategi terkait dengan fungsi kuadrat untuk menyelesaikan masalah

Uji Kompetensi Bab II

Jumlah soal: 30 butir

No	Soal	Domain Kognitif	Aspek Kognitif	Alasan
1	Jika p dan q adalah akar-akar persamaan $x^2 - 5x - 1 = 0$, tentukan persamaan kuadrat baru yang akar-akarnya $2p + 1$ dan $2q + 1$.	Applying	Implement	Menerapkan operasi dan strategi terkait dengan fungsi kuadrat untuk menyelesaikan masalah
2	Diketahui akar-akar persamaan kuadrat $2x^2 - 4x + 1 = 0$ adalah m dan n . Tentukan persamaan kuadrat baru yang akar-akarnya $m + n$ dan $m \cdot n$.	Applying	Implement	Menerapkan operasi dan strategi terkait dengan fungsi kuadrat untuk menyelesaikan masalah

No	Soal	Domain Kognitif	Aspek Kognitif	Alasan
3	Persamaan $2x^2 + qx + (q - 1) = 0$ mempunyai akar-akar x_1 dan x_2 . Jika $x_1^2 + x_2^2 = 4$, tentukan nilai q !	<i>Applying</i>	<i>Determine</i>	Memilih operasi dan strategi yang tepat terkait fungsi kuadrat untuk menyelesaikan masalah
4	Persamaan $(1 - m)x^2 + (8 - 2m)x + 12 = 0$ mempunyai akar kembar. Berapa m ?	<i>Applying</i>	<i>Determine</i>	Memilih operasi dan strategi yang tepat terkait fungsi kuadrat untuk menyelesaikan masalah
5	Jika nilai diskriminan persamaan kuadrat $2x^2 - 9x + c = 0$ adalah 121, tentukan nilai c .	<i>Applying</i>	<i>Determine</i>	Memilih operasi dan strategi yang tepat terkait fungsi kuadrat untuk menyelesaikan masalah
6	Jumlah dua bilangan cacah adalah 12. Jika hasil kali dua bilangan itu 35, tentukan kedua bilangan cacah yang dimaksud.	<i>Applying</i>	<i>Determine</i>	Memilih operasi dan strategi yang tepat untuk menyelesaikan masalah
7	Persamaan kuadrat $x^2 - 2x + 7 = 0$ mempunyai akar-akar x_1 dan x_2 . Persamaan kuadrat yang akar-akarnya $x_1 - 2$ dan $x_2 - 2$ adalah	<i>Applying</i>	<i>Implement</i>	Menerapkan operasi dan strategi terkait dengan fungsi kuadrat untuk menyelesaikan masalah
8	Akar-akar persamaan $2x^2 - 6x + 2m - 1 = 0$ adalah α dan β . Jika $\alpha = 2\beta$, maka nilai m adalah	<i>Applying</i>	<i>Determine</i>	Memilih operasi dan strategi yang tepat terkait fungsi kuadrat untuk menyelesaikan masalah
9	Jika p dan q adalah akar-akar persamaan $x^2 - 5x - 1 = 0$, maka persamaan kuadrat baru yang akar-akarnya $2p + 1$ dan $2q + 1$ adalah	<i>Applying</i>	<i>Implement</i>	Menerapkan operasi dan strategi terkait dengan fungsi kuadrat untuk menyelesaikan masalah
10	Akar-akar persamaan kuadrat $x^2 + (a - 1)x + 2 = 0$ adalah α dan β . Jika $\alpha = 2\beta$ dan $a > 0$, tentukan nilai a .	<i>Applying</i>	<i>Determine</i>	Memilih operasi dan strategi yang tepat terkait fungsi kuadrat untuk menyelesaikan masalah
11	Gambarkan grafik fungsi kuadrat berikut. a. $f(x) = x^2 + x + 3$ b. $f(x) = x^2 - 6x + 8$ c. $f(x) = 2x^2 + 3x + 2$	<i>Applying</i>	<i>Represent</i>	Menyajikan berbagai fungsi kuadrat dalam bentuk grafik

No	Soal	Domain Kognitif	Aspek Kognitif	Alasan
12	Tentukan fungsi kuadrat yang grafiknya memotong sumbu-x pada titik koordinat $(-2, 0)$ dan $(5, 0)$ serta memotong sumbu-y pada titik koordinat $(0, -20)$.	<i>Applying</i>	<i>Implement</i>	Menerapkan operasi dan strategi terkait dengan fungsi kuadrat untuk menyelesaikan masalah
13	Tentukan fungsi kuadrat yang grafiknya memiliki titik puncak pada titik koordinat $(1, 5)$ serta melalui titik koordinat $(0, 7)$.	<i>Applying</i>	<i>Implement</i>	Menerapkan operasi dan strategi terkait dengan fungsi kuadrat untuk menyelesaikan masalah
14	Tentukan fungsi kuadrat yang grafiknya melalui titik koordinat $(0, 5)$, $(1, 6)$ dan $(-1, 12)$.	<i>Applying</i>	<i>Implement</i>	Menerapkan operasi dan strategi terkait dengan fungsi kuadrat untuk menyelesaikan masalah
15	Tentukan fungsi kuadrat yang grafiknya melalui titik koordinat $(0, -2)$ serta memiliki sumbu simetri $x = -\frac{1}{2}$.	<i>Applying</i>	<i>Implement</i>	Menerapkan operasi dan strategi terkait dengan fungsi kuadrat untuk menyelesaikan masalah
16	Analisis kesalahan. Lily menentukan fungsi kuadrat yang memiliki akar $x = 3$ dan $x = -2$ serta grafiknya melalui titik koordinat $(0, 12)$. Fungsi kuadrat yang diperoleh adalah $y = -2x^2 - 2x + 12$. Tentukan kesalahan yang dilakukan oleh Lily.	<i>Reasoning</i>	<i>Evaluate</i>	Mengevaluasi alternatif strategi pemecahan masalah fungsi kuadrat dan solusinya.
17	Tantangan. Tentukan banyaknya fungsi kuadrat $y = ax^2 + bx + c$ yang memiliki dua akar berbeda dengan $1 \leq a, b, c \leq 6$.	<i>Applying</i>	<i>Determine</i>	Memilih operasi dan strategi yang tepat terkait dengan fungsi kuadrat untuk menyelesaikan masalah
18	Tentukan titik potong grafik fungsi linear $y = 2x + 5$ dengan grafik fungsi kuadrat $y = 2x^2 - 4x + 9$.	<i>Applying</i>	<i>Implement</i>	Menerapkan operasi dan strategi terkait dengan fungsi kuadrat untuk menyelesaikan masalah
19	Tentukan titik potong grafik fungsi kuadrat $y = 2x^2 + 4x + 1$ dengan grafik fungsi kuadrat $y = x^2 + 9x + 7$.	<i>Applying</i>	<i>Implement</i>	Menerapkan operasi dan strategi terkait dengan fungsi kuadrat untuk menyelesaikan masalah

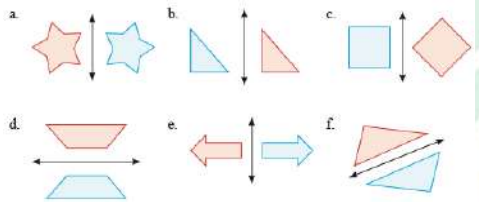

No	Soal	Domain Kognitif	Aspek Kognitif	Alasan
20	Tantangan. Apakah mungkin garis horisontal memotong grafik fungsi kuadrat $y = ax^2 + bx + c$ tepat pada satu titik koordinat?	<i>Applying</i>	<i>Determine</i>	Memilih strategi yang tepat terkait dengan fungsi kuadrat
21	Tentukan sumbu simetri dan nilai optimum dari grafik fungsi di bawah ini. a. $y = 3x^2 - 7x$ b. $y = 8x^2 - 16x + 2$ c. $y = 6x^2 + 20x + 18$	<i>Applying</i>	<i>Implement</i>	Menerapkan operasi dan strategi terkait dengan fungsi kuadrat untuk menyelesaikan masalah
22	Sketsalah grafik fungsi berikut ini. a. $y = 6x^2 + 5x + 7$ b. $y = 7x^2 - 3x + 2$	<i>Applying</i>	<i>Represent</i>	Menyajikan fungsi kuadrat dalam bentuk grafik
23	Diketahui suatu barisan 3, 11, 26,.... Suku ke-n dari barisan tersebut dapat dihitung dengan rumus $U_n = an^2 + bn + c$. Tentukan barisan ke-100.	<i>Applying</i>	<i>Implement</i>	Menerapkan operasi dan strategi terkait fungsi kuadrat untuk menyelesaikan soal
24	Diketahui suatu barisan barisan 5, 19, 29,.... Suku ke-n dari barisan tersebut dapat dihitung dengan rumus $U_n = an^2 + bn + c$. Tentukan nilai maksimum dari barisan tersebut.	<i>Applying</i>	<i>Implement</i>	Menerapkan operasi dan strategi terkait fungsi kuadrat untuk menyelesaikan soal
25	Jika fungsi $y = ax^2 + 3x + 5a$ mempunyai nilai maksimum 0, maka tentukan a.	<i>Applying</i>	<i>Determine</i>	Memilih strategi yang tepat terkait dengan fungsi kuadrat untuk menyelesaikan soal
26	Seorang sopir mengemudikan mobilnya dengan kecepatan konstan 20 m/s. Tiba-tiba dia melihat orang yang sedang berdiri di tengah jalan yang berjarak 15 m di depan mobilnya. Sopir tersebut mengerem mobilnya dengan perlambatan 5 m/s^2 . Apakah mobil tersebut menabrak orang di depannya itu? (<i>Petunjuk:</i> rumus fisika untuk kasus ini adalah $s = v_0t - \frac{1}{2}at^2$ dengan t menyatakan waktu (detik) mulai dari pengereman, s jarak tempuh pada saat t, v_0 menyatakan kecepatan mobil dan a menyatakan perlambatan mobil)	<i>Knowing</i>	<i>Retrieve</i>	Mengambil data yang diperlukan dari teks
		<i>Applying</i>	<i>Implement</i>	Menerapkan operasi dan strategi terkait dengan fungsi kuadrat untuk menyelesaikan masalah
27	Air Terjun Madakaripura terletak di Kecamatan Lumbang, Probolinggo	<i>Knowing</i>	<i>Retrieve</i>	Mengambil data yang diperlukan dari teks

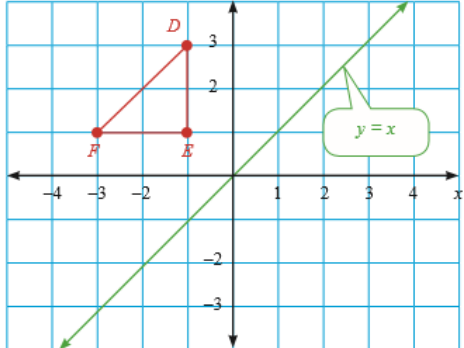

No	Soal	Domain Kognitif	Aspek Kognitif	Alasan
	merupakan salah satu air terjun di kawasan Taman Nasional Bromo Tengger Semeru. Tinggi dari air terjun ini adalah 200 m. Pada suatu hari ada seseorang yang melepas ikan tepat dari atas air terjun. Tentukan berapa waktu yang diperlukan ikan tersebut untuk mencapai dasar air terjun? Jika persamaan jarak tempuh dari ikan tersebut adalah $y = y_0 - 24t^2$ dengan y jarak tempuh, y_0 adalah tinggi air terjun dan t waktu tempuh.	<i>Applying</i>	<i>Implement</i>	Menerapkan operasi dan strategi terkait dengan fungsi kuadrat untuk menyelesaikan masalah
28	Sebuah roket mempunyai dua bahan bakar yaitu salah satunya berada pada bagian ekor. Pada ketinggian tertentu bahan bakar ini akan dibuang untuk mengurangi bobot. Roket mempunyai rumusan suatu persamaan $y = 300t - 5t^2$ dengan t adalah waktu (detik) dan y menyatakan tinggi roket. Jika ekor roket dibuang pada saat mencapai tinggi maksimum, berapa tinggi roket pada saat membuang bahan bakarnya?	<i>Knowing</i>	<i>Retrieve</i>	Mengambil data yang diperlukan dari teks
		<i>Applying</i>	<i>Implement</i>	Menerapkan operasi dan strategi terkait dengan fungsi kuadrat untuk menyelesaikan masalah
29	Seorang atlet tolak peluru mempunyai tinggi 160 cm. Atlet ini melempar peluru tepat di atas kepalanya. Ternyata lemparannya mempunyai tinggi maksimum 4,5 meter dan secara horisontal berjarak 2,5 meter dari pemain. Jika lemparannya membentuk parabola tentukan jarak yang dicapai peluru tersebut!	<i>Knowing</i>	<i>Retrieve</i>	Mengambil data yang diperlukan dari teks
		<i>Applying</i>	<i>Implement</i>	Menerapkan operasi dan strategi terkait dengan fungsi kuadrat untuk menyelesaikan masalah
30	Balon udara jatuh dari ketinggian 32 kaki. Diberikan fungsi $h = -32t^2 + 32$ dengan h adalah tinggi balon setelah t detik. Kapan balon ini mencapai tanah?	<i>Knowing</i>	<i>Retrieve</i>	Mengambil data yang diperlukan dari teks
		<i>Applying</i>	<i>Implement</i>	Menerapkan operasi dan strategi terkait dengan fungsi kuadrat untuk menyelesaikan masalah

Bab III Transformasi

Subbab 3.1: Pencerminan (Refleksi)

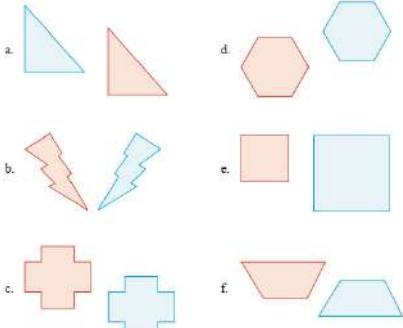
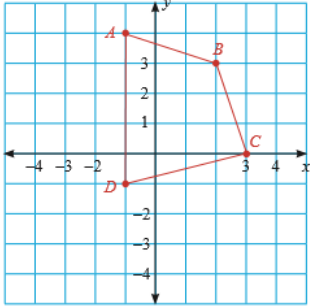
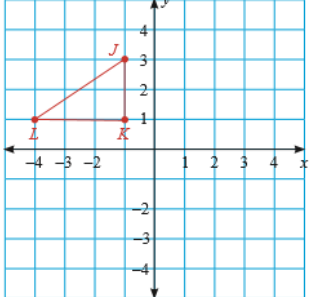
Jumlah soal: 7 butir

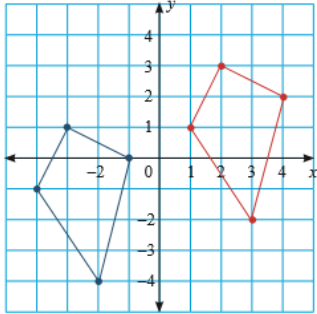
No	Soal	Domain Kognitif	Aspek Kognitif	Alasan
1	<p>Tunjukkan apakah gambar yang berwarna biru merupakan hasil pencerminan dari gambar yang berwarna merah. Berikan penjelasanmu.</p> 	<i>Knowing</i>	<i>Recall</i>	Mengingat kembali sifat pencerminan pada bangun datar
2	<p>Tentukan berapa banyak simetri lipat yang dimiliki gambar berikut.</p> 	<i>Applying</i>	<i>Implement</i>	Menerapkan metode dan strategi terkait simetri lipat untuk memecahkan masalah
3	<p>Gambar masing-masing bangun berikut dan bayangannya terhadap refleksi yang diberikan.</p> <p>a. Segi empat JKLM dengan titik sudutnya di J (2, 2), K (7, 4), L (9, -2), dan M (3, -1) terhadap sumbu-y.</p> <p>b. Trapesium dengan titik sudutnya di D (4, 0), E (-2, 4), F (-2, -1), dan G (4, -3) terhadap titik asal.</p> <p>c. $\triangle ABC$ dengan titik sudutnya di A (4, -2), B (4, 2), dan C (6, -2) terhadap garis $y = x$.</p>	<i>Applying</i>	<i>Represent</i>	Membuat gambar bangun datar yang diminta dan bayangannya
		<i>Determine</i>	Memilih metode dan strategi yang tepat terkait pencerminan untuk memecahkan masalah	

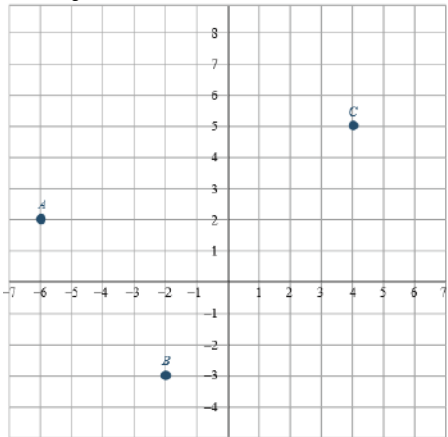
No	Soal	Domain Kognitif	Aspek Kognitif	Alasan
	d. ΔOPQ dengan titik sudutnya di $O(-2, 1)$, $P(0, 3)$, dan $Q(2, 2)$ terhadap garis $y = -x$. e. Segi empat $WXYZ$ dengan titik sudutnya di $W(2, -1)$, $X(5, -2)$, $Y(5, -5)$, dan $Z(2, -4)$ terhadap garis $y = 2$.			
4	Cerminkan segitiga DEF terhadap garis $y = x$. Gambar segitiga $D'E'F'$ dan tuliskan koordinatnya yang merupakan hasil pencerminan DEF terhadap garis $y = x$.	<i>Knowing</i>	<i>Retrieve</i>	Mengambil data dari gambar
	<i>Applying</i>	<i>Represent</i>	Menyajikan bangun segitiga $D'E'F'$ dalam bentuk gambar	
	<i>Implement</i>	<i>Implement</i>	Menerapkan metode dan strategi terkait pencerminan untuk memecahkan masalah	
5	Huruf mana yang akan tetap sama jika dicerminkan terhadap suatu garis? A B C D E F G H I J K L M N O P Q R S T U V W X Y Z 	<i>Applying</i>	<i>Implement</i>	Menerapkan metode dan strategi terkait pencerminan untuk memecahkan masalah
6	Segi empat $KLMN$ dengan titik sudut di $K(-2, 4)$, $L(3, 7)$, $M(4, -8)$, dan $N(-3, -5)$ direfleksikan terhadap sumbu-x kemudian direfleksikan terhadap garis $y = x$. Tentukan koordinat $K''L''M''N''$.	<i>Applying</i>	<i>Determine</i>	Memilih metode dan strategi yang tepat terkait pencerminan untuk memecahkan masalah
7	Segitiga HIJ direfleksikan terhadap sumbu-x, kemudian sumbu-y, kemudian titik asal. Hasilnya refleksinya berkoordinat di $H'''(2, 3)$, $I'''(8, -4)$, dan $J'''(-6, -7)$. Tentukan koordinat H , I , dan J .	<i>Applying</i>	<i>Determine</i>	Memilih operasi dan strategi yang tepat terkait pencerminan untuk memecahkan masalah

Subbab 3.2: Pergeseran (Translasi)

Jumlah soal: 7 butir

No	Soal	Domain Kognitif	Aspek Kognitif	Alasan
1	<p>Tentukan apakah gambar yang berwarna biru merupakan hasil pencerminan dari gambar yang berwarna merah. Berikan penjelasanmu.</p> 	Knowing	Recall	Mengingat kembali sifat pergeseran pada bangun datar
2	<p>Gambar dan tentukan koordinat hasil translasi dari bangun datar di bawah ini.</p> <p>a. Translasikan segi empat merah sejauh 2 satuan ke kiri dan 5 satuan ke bawah</p>	Knowing	Retrieve	Mengambil informasi dari gambar
	 <p>b. Translasikan segitiga merah sejauh 3 satuan ke kanan dan 4 satuan ke bawah.</p> 	Applying	Represent	Menyajikan obyek yang diminta dalam bentuk gambar
		Implement		Menerapkan metode dan strategi terkait pergeseran untuk menyelesaikan soal

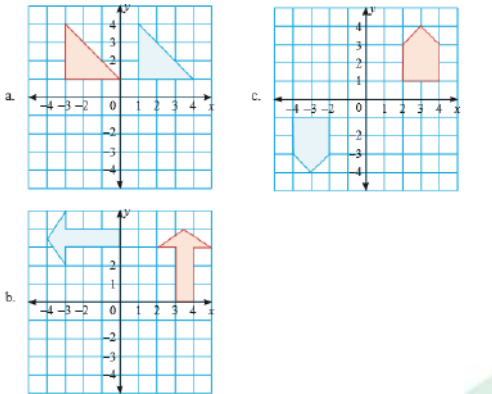
No	Soal	Domain Kognitif	Aspek Kognitif	Alasan
3	Segitiga FGH ditranslasi sehingga menghasilkan bayangan ΔPQR . Diketahui koordinat F (3, 9), G (-1, 4), P (4, 2), dan R (6, -3), tentukan koordinat H dan Q. Tentukan pula translasinya.	<i>Applying</i>	<i>Determine</i>	Memilih operasi dan strategi yang sesuai terkait pergeseran untuk menyelesaikan masalah
4	Segitiga WAN berkoordinat di W (0, 1), A (1, -2) dan N (-2, 1). Gambarlah segitiga tersebut beserta bayangannya setelah translasi: a. 1 satuan ke kiri dan 5 satuan ke atas b. $(x + 2, y + 4)$ c. 3 satuan ke kanan dan 3 satuan ke bawah d. $\begin{pmatrix} 0 \\ -2 \end{pmatrix}$ kemudian dicerminkan terhadap sumbu-y.	<i>Applying</i>	<i>Represent</i>	Menyajikan obyek yang diminta dalam bentuk gambar
			<i>Implement</i>	Menerapkan metode dan strategi terkait pergeseran untuk menyelesaikan soal
5	Jelaskan translasi yang menggerakkan bangun datar yang berwarna biru menjadi bangun datar yang berwarna merah. 	<i>Knowing</i>	<i>Recall</i>	Mengingat kembali sifat pergeseran pada bangun datar
6	Diketahui Segitiga OPQ berkoordinat di O (2, 5), P (-3, 4), dan Q (4, -2) ditranslasikan sehingga didapatkan koordinat bayangannya adalah O' di (3, 1). Tentukan pasangan bilangan translasinya dan koordinat titik P' dan Q'.	<i>Applying</i>	<i>Determine</i>	Memilih operasi dan strategi yang sesuai terkait pergeseran untuk menyelesaikan masalah
7	Seekor harimau sedang berburu rusa di dalam hutan. Berdasarkan hasil pemantauan diketahui bahwa koordinat rusa berada di titik A dan koordinat harimau berada pada titik	<i>Knowing</i>	<i>Retrieve</i>	Mengambil data yang diperlukan dari teks dan gambar

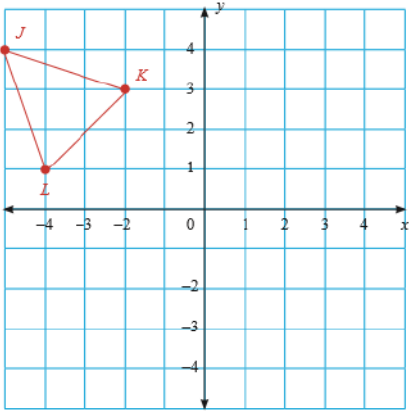
No	Soal	Domain Kognitif	Aspek Kognitif	Alasan
	<p>B. Rusa tersebut kemudian bergerak menuju titik C.</p>  <p>a. Tentukan pasangan bilangan translasi yang menggerakkan rusa dari titik A menuju titik C.</p> <p>b. Jika harimau menggunakan translasi yang sama dengan yang dilakukan oleh rusa, apakah harimau dapat menangkap rusa tersebut?</p> <p>c. Tentukan pasangan bilangan translasi yang harus dilakukan oleh harimau agar ia mendapatkan rusa.</p>	<i>Applying</i>	<i>Determine</i>	Memilih metode dan strategi yang tepat terkait pergeseran untuk menyelesaikan masalah

Subbab 3.3: Perputaran (Rotasi)

Jumlah soal: 7 butir

No	Soal	Domain Kognitif	Aspek Kognitif	Alasan
1	Jelaskan apakah gambar yang berwarna biru merupakan hasil rotasi dari gambar yang berwarna merah. Jika ya, dapatkan berapa besar sudut rotasi dan bagaimana arah dari rotasi tersebut.	<i>Knowing</i>	<i>Recall</i>	Mengingat kembali materi sifat perputaran pada bangun datar

No	Soal	Domain Kognitif	Aspek Kognitif	Alasan
		<i>Applying</i>	<i>Determine</i>	Memilih metode dan strategi yang tepat terkait perputaran untuk menyelesaikan soal
2	Segi empat PQRS berkoordinat di P (2, -2), Q (4, -1), R (4, -3) dan S (2, -4). Gambarlah bayangan PQRS pada rotasi 90° berlawanan arah jarum jam yang berpusat di titik asal.	<i>Applying</i>	<i>Implement</i>	Menerapkan metode dan strategi terkait perputaran untuk menyelesaikan soal
			<i>Represent</i>	Menyajikan hasil perputaran bangun yang diminta dalam bentuk gambar
3	Salinlah $\triangle WAN$ berikut. Kemudian rotasikan segitiga tersebut sebesar 90° searah jarum jam yang berpusat di titik H.	<i>Applying</i>	<i>Represent</i>	Menyajikan hasil perputaran bangun yang diminta dalam bentuk gambar
			<i>Implement</i>	Menerapkan metode dan strategi terkait perputaran untuk menyelesaikan soal
4	Gambar bayangan rotasi setiap bangun berikut dengan sudut 90° jika diketahui arah dan pusat rotasi. Tentukan koordinat titik-titik bayangannya. $\triangle WAN$ dengan W (-4, 1), A (-2, 1), dan N (-4, -3) berlawanan arah jarum jam dengan pusat rotasi di titik N.	<i>Applying</i>	<i>Represent</i>	Menyajikan hasil perputaran bangun yang diminta dalam bentuk gambar
			<i>Implement</i>	Menerapkan metode dan strategi terkait perputaran untuk menyelesaikan soal
5	Gambar bayangan transformasi untuk setiap segitiga berikut dengan mencerminkan segitiga pada garis yang diketahui. Bayangan akhir dari setiap bangun juga merupakan hasil	<i>Knowing</i>	<i>Recall</i>	Mengingat kembali materi pencerminan dan perputaran

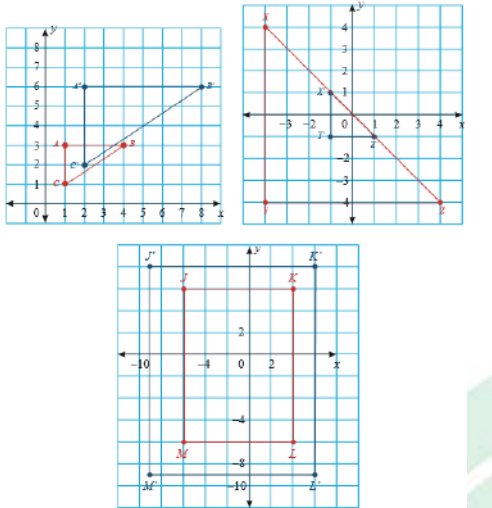
No	Soal	Domain Kognitif	Aspek Kognitif	Alasan
	rotasi. Tentukan koordinat bayangan dan sudut rotasi. a. ΔTUV dengan $T(4, 0)$, $U(2, 3)$, dan $V(1, 2)$ direfleksikan pada sumbu-y dilanjutkan sumbu-x. b. ΔKLM dengan $K(5, 0)$, $L(2, 4)$, dan $M(-2, 4)$ direfleksikan pada garis $y = x$ dilanjutkan sumbu-x. c. ΔXYZ dengan $X(5, 0)$, $Y(3, 4)$, dan $Z(-3, 4)$ direfleksikan pada garis $y = -x$ dilanjutkan garis $y = x$.	<i>Applying</i>	<i>Represent</i>	Menyajikan bangun yang diminta dalam bentuk gambar
			<i>Determine</i>	Memilih metode dan strategi yang tepat terkait pencerminan dan perputaran untuk menyelesaikan soal
6	Diketahui segitiga JKL seperti pada gambar di bawah ini.  a. Rotasikan segitiga JKL dengan sudut rotasi 90° searah jarum jam dengan pusat rotasi titik asal $(0, 0)$. Berapakah koordinat titik sudut dari segitiga $J'K'L'$ yang merupakan bayangan dari segitiga JKL? b. Rotasikan segitiga JKL dengan sudut rotasi 180° searah jarum jam dengan pusat rotasi titik asal $(0, 0)$. Berapakah koordinat titik sudut dari segitiga $J'K'L'$ yang merupakan bayangan dari segitiga JKL?	<i>Knowing</i>	<i>Retrieve</i>	Mengambil data yang diperlukan dari teks dan gambar
		<i>Applying</i>	<i>Implement</i>	Menerapkan metode dan strategi terkait perputaran untuk menyelesaikan soal
7	Diketahui segitiga RST dengan koordinat titik sudut di $R(3, 6)$, $S(-5, 2)$ dan $T(3, -3)$. Gambar bayangan hasil transformasinya jika diketahui segitiga tersebut:	<i>Knowing</i>	<i>Recall</i>	Mengingat kembali materi pencerminan, pergeseran, dan perputaran


No	Soal	Domain Kognitif	Aspek Kognitif	Alasan
	a. Dirotasi 90° searah jarum jam yang berpusat di titik asal kemudian dicerminkan terhadap sumbu-y. b. Dirotasi 90° berlawanan arah jarum jam yang berpusat di titik asal kemudian dilatasi dengan faktor skala 2 berpusat di titik asal. c. Dirotasi 180° berlawanan arah jarum jam yang berpusat di titik asal kemudian ditranslasi $\begin{pmatrix} 4 \\ 5 \end{pmatrix}$ setelah itu dicerminkan terhadap sumbu-x.	<i>Applying</i>	<i>Represent</i>	Menyajikan hasil transformasi bangun yang diminta dalam bentuk gambar
			<i>Implement</i>	Menerapkan metode dan strategi terkait pencerminan, pergeseran, perputaran, dan dilatasi untuk menyelesaikan soal
<i>Catatan peneliti:</i> Materi dilatasi adalah materi pada subbab berikutnya.				

Subbab 3.4: Dilatasi

Jumlah soal: 8 butir

No	Soal	Domain Kognitif	Aspek Kognitif	Alasan
1	Tunjukkan apakah gambar yang berwarna biru merupakan hasil dilatasi dari gambar yang berwarna merah. Berikan penjelasanmu. 	<i>Knowing</i>	<i>Recall</i>	Mengingat kembali materi tentang dilatasi
2	Gambar yang berwarna biru merupakan hasil dilatasi dari gambar berwarna merah. Tentukan faktor skala dan jenis dilatasinya.	<i>Applying</i>	<i>Determine</i>	Memilih metode dan strategi yang tepat terkait dilatasi untuk menyelesaikan soal

No	Soal	Domain Kognitif	Aspek Kognitif	Alasan
				
3	<p>Titik sudut dari masing-masing bidang datar diberikan sebagai berikut. Gambar bidang datar yang dimaksud dan bayangannya setelah dilatasi dengan faktor skala yang diberikan masing-masing. Sebutkan jenis dilatasinya.</p> <ol style="list-style-type: none"> A (1, 1), B (1, 4), dan C (3, 1) dengan faktor skala 4 G (-2, -2), H (-2, 6), dan J (2, 6) dengan faktor skala 0,25 Q (-3, 0), R (-3, 6), S (4, 6), dan T (4, 0) dengan faktor skala $\frac{1}{3}$ 	<i>Applying</i>	<i>Represent</i>	Menyajikan hasil dilatasi bangun yang diminta dalam bentuk gambar
4	<p>Garis TU berkoordinat di T (4, 2) dan U (0, 5). Setelah didilatasi, bayangan yang terbentuk memiliki koordinat di T' (6, 3) dan U' (12, 11). Tentukan faktor skala yang digunakan.</p>	<i>Applying</i>	<i>Determine</i>	Memilih metode dan strategi yang tepat terkait dilatasi untuk menyelesaikan soal
5	<p>Segitiga KLM berkoordinat di K (12, 4), L (4, 8), dan M (8, -8). Setelah dua kali dilatasi berturut-turut yang berpusat di titik pusat dengan faktor skala yang sama, bayangan akhirnya memiliki koordinat K'' (3, 1), L'' (1, 2), dan M'' (2, -2). Tentukan faktor skala k yang digunakan untuk dilatasi ΔKLM menjadi $\Delta K''L''M''$.</p>	<i>Applying</i>	<i>Determine</i>	Memilih metode dan strategi yang tepat terkait dilatasi untuk menyelesaikan soal

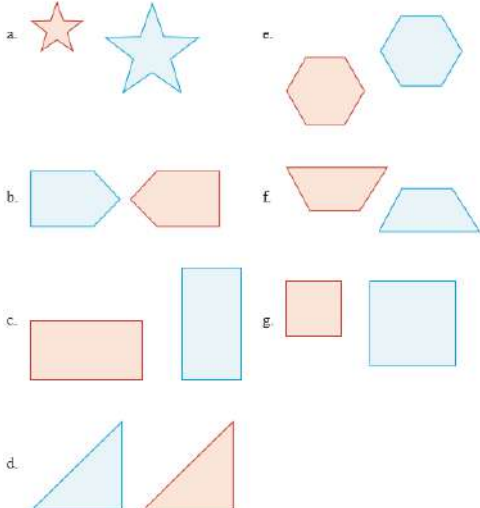
No	Soal	Domain Kognitif	Aspek Kognitif	Alasan
6	<p>Gambar sebarang persegi pada bidang koordinat (kamu bebas menentukan panjang sisi dari persegi tersebut). Pilih faktor skala 2, 3, 4, dan 5 kemudian dilatasikan persegi yang telah gambar dengan masing-masing faktor skala tersebut. Gambar bayangan hasil dilatasi dengan masing-masing faktor skala. Hitung luas tiap-tiap persegi, baik persegi awal, maupun persegi hasil dilatasi dengan masing-masing faktor skala.</p> <p>a. Berapa kali lebih besar luas persegi hasil dilatasi dengan menggunakan masing-masing faktor skala jika dibandingkan dengan luas persegi awal?</p> <p>b. Bagaimana rumus untuk menentukan luas persegi hasil dilatasi jika diketahui panjang sisi dari persegi awal adalah r dan faktor skala k? (Dapatkan rumus tersebut tanpa harus menggambar bayangan hasil dilatasi, gunakan perbandingan pada jawaban a)</p> <p>c. Jika diberikan panjang sisi persegi awal 4 satuan, dan faktor skala 7. Berapa kali lebih besar luas persegi hasil dilatasi jika dibandingkan dengan luas persegi awal?</p>	<i>Knowing</i>	<i>Compute</i>	Menghitung perbandingan luas persegi dengan menggunakan aljabar sederhana
		<i>Applying</i>	<i>Represent/ Model</i>	Menyajikan bangun persegi dalam bentuk gambar, membuat rumus matematika berdasarkan perbandingan
			<i>Implement</i>	Menerapkan metode dan strategi terkait dilatasi untuk menyelesaikan soal
7	<p>Gunakan lampu senter dan tanganmu untuk membuat bayangan kelinci pada dinding.</p>  <p>a. Menurutmu mana yang lebih besar, apakah tanganmu yang asli atau bayangan tanganmu yang membentuk gambar kelinci?</p>	<i>Reasoning</i>	<i>Analyze</i>	Mendeskripsikan atau menggunakan hubungan antara bentuk (senter, tangan, bayangan) dan ekspresi aljabar untuk menyelesaikan masalah terkait dilatasi

No	Soal	Domain Kognitif	Aspek Kognitif	Alasan
	<p>b. Jika dihubungkan dengan dilatasi, merepresentasikan apakah lampu senter yang digunakan pada percobaan tersebut?</p> <p>c. Berdasarkan hasil perhitungan diketahui bahwa panjang hari tangan 7 cm, sedangkan panjang bayangannya di dinding 14 cm. Berapakah faktor skalanya?</p> <p>d. Jika tanganmu digerakkan mendekati lampu senter, menurutmu apa yang akan terjadi pada bayangannya di dinding? Apa hubungannya dengan faktor skala?</p>	<i>Applying</i>	<i>Implement</i>	Menerapkan metode dan strategi terkait dilatasi untuk menyelesaikan masalah
8	<p>Diketahui segitiga ABC dengan koordinat titik sudut di A (6, 12), B (-9, 3) dan C (6, -6). Gambar bayangan hasil transformasinya jika diketahui segitiga tersebut:</p> <p>a. Didilatasi dengan menggunakan faktor skala $\frac{1}{3}$ dengan pusat titik asal kemudian dirotasi 90° searah jarum jam yang berpusat di titik asal.</p> <p>b. Didilatasi dengan menggunakan faktor skala 2 dengan pusat titik asal kemudian di translasi $\begin{pmatrix} 2 \\ -1 \end{pmatrix}$ setelah itu dicerminkan terhadap sumbu-y.</p>	<i>Applying</i>	<i>Represent</i>	Menyajikan hasil transformasi bangun yang diminta dalam bentuk gambar
			<i>Implement</i>	Menerapkan metode dan strategi terkait transformasi untuk menyelesaikan soal





Uji Kompetensi Bab II

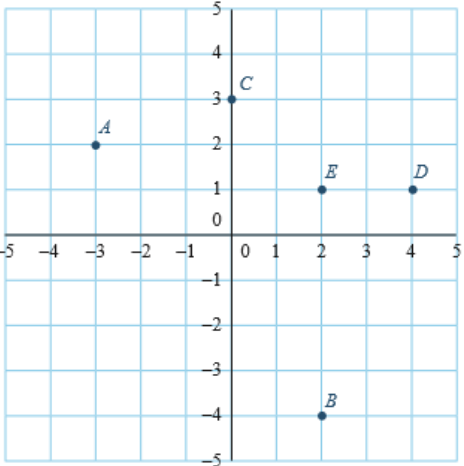
Jumlah soal: 15 butir

No	Soal	Domain Kognitif	Aspek Kognitif	Alasan
1	Diketahui gambar berwarna biru merupakan bayangan hasil transformasi dari gambar berwarna merah. Tentukan jenis transformasinya.	<i>Knowing</i>	<i>Recall</i>	Mengingat kembali materi transformasi (pencerminan, pergeseran, perputaran, dilatasi)

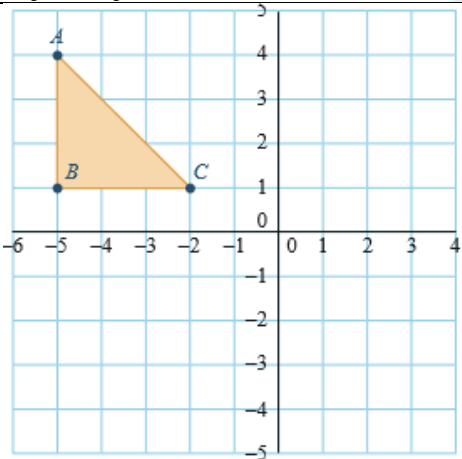
No	Soal	Domain Kognitif	Aspek Kognitif	Alasan
				
2	<p>Gambar setiap bangun berikut beserta bayangan hasil refleksi yang diberikan.</p> <ol style="list-style-type: none"> Garis MN dengan M (3, 5) dan N (-2, -4) direfleksikan terhadap sumbu-x. ΔRST yang berkoordinat di R (2, -3), S (4, 5), dan T (-4, 6) direfleksikan terhadap sumbu-y. ΔKLM yang berkoordinat di K (2, 5), L (3, -4), dan M (-4, -7) direfleksikan terhadap titik asal. Segi empat ABCD dengan A (-1, -2), B (2, -3), C (6, 3), dan D (-4, 2) direfleksikan terhadap garis $y = x$. Garis FG dengan F (-4, 6) dan G (7, -9) direfleksikan terhadap garis $y = -x$. 	<i>Applying</i>	<i>Represent</i>	Menyajikan hasil refleksi bangun yang diminta dalam bentuk gambar
			<i>Implement</i>	Menerapkan metode dan strategi terkait refleksi untuk menyelesaikan soal
3	<p>Diketahui titik C (u, v) dicerminkan terhadap garis $x = 2$ menghasilkan bayangan di titik C' (5, 7). Maka nilai $u + v$ adalah</p>	<i>Knowing</i>	<i>Compute</i>	Menggunakan operasi penjumlahan untuk menyelesaikan soal
		<i>Applying</i>	<i>Determine</i>	Memilih metode dan strategi yang tepat terkait refleksi untuk menyelesaikan soal

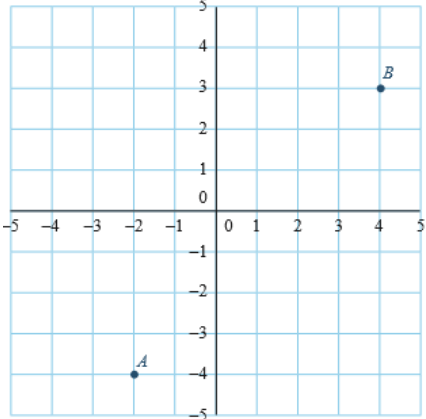
No	Soal	Domain Kognitif	Aspek Kognitif	Alasan
4	Diketahui segi empat TUVW berkoordinat T (3, 2), U (1, -4), V (-2, -3) dan W (-2, 4). Gambar bayangan segi empat TUVW setelah ditranslasi oleh $\begin{pmatrix} -2 \\ 3 \end{pmatrix}$ dan dicerminkan terhadap garis $y = x$.	<i>Applying</i>	<i>Represent</i>	Menyajikan hasil transformasi bangun yang diminta dalam bentuk gambar
			<i>Implement</i>	Menerapkan metode dan strategi terkait translasi dan refleksi untuk menyelesaikan masalah
5	Diketahui titik sudut sebuah segitiga yaitu I (-2, -1), J (-1, -4), dan K (-4, -1). Gambar bangun tersebut dan bayangannya dengan menggunakan translasi berikut ini. a. 3 satuan ke kanan dan 4 satuan ke atas b. $(x - 2, y + 5)$ c. 5 satuan ke kiri dan 7 satuan ke bawah d. $\begin{pmatrix} 7 \\ -10 \end{pmatrix}$	<i>Applying</i>	<i>Represent</i>	Menyajikan hasil transformasi bangun yang diminta dalam bentuk gambar
			<i>Implement</i>	Menerapkan metode dan strategi terkait transformasi untuk menyelesaikan soal
6	Diketahui segi empat ABCD dengan koordinat titik sudut di A (2, 5), B (-3, 4), C (4, 3) dan D (4, -2). Gambar bayangan hasil transformasinya jika diketahui segi empat tersebut: a. Ditranslasi 3 satuan ke kanan dan 5 satuan ke bawah kemudian dicerminkan terhadap sumbu-x. b. Dirotasi 90° berlawanan arah jarum jam yang berpusat di titik asal kemudian ditranslasi $(x - 3, y + 2)$. c. Ditranslasi $\begin{pmatrix} 3 \\ 6 \end{pmatrix}$ kemudian dilatasi dengan faktor skala 2 dan berpusat di titik asal.	<i>Applying</i>	<i>Represent</i>	Menyajikan hasil transformasi bangun yang diminta dalam bentuk gambar
			<i>Implement</i>	Menerapkan metode dan strategi terkait transformasi untuk menyelesaikan soal

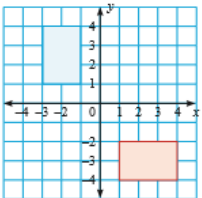
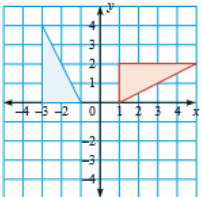
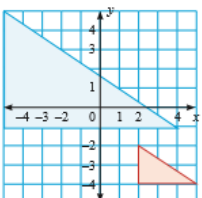
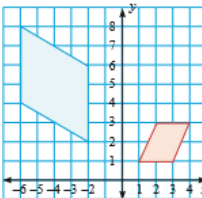
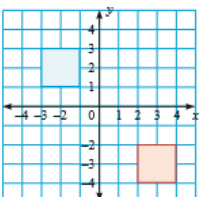
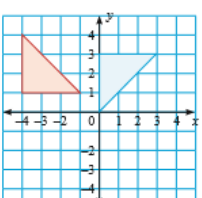
No	Soal	Domain Kognitif	Aspek Kognitif	Alasan																															
7	<p style="text-align: center;">PAPAN TULIS</p> <table border="1" style="margin-left: auto; margin-right: auto;"> <tr> <td>Andre</td> <td>Joko</td> <td>Vivi</td> <td>Devi</td> <td>Alex</td> <td>Dian</td> <td rowspan="5" style="text-align: center; vertical-align: middle;"> DEPAN  BELAKANG </td> </tr> <tr> <td>Dani</td> <td>Supri</td> <td>Dimas</td> <td>Sarti</td> <td>Suni</td> <td>Steven</td> </tr> <tr> <td>Paul</td> <td>Panca</td> <td>Wawan</td> <td>Winda</td> <td>Nita</td> <td>Budi</td> </tr> <tr> <td>Wirwin</td> <td>Andy</td> <td>Bernard</td> <td>Ivanka</td> <td>Hafid</td> <td>Putri</td> </tr> <tr> <td>Boy</td> <td>Fahim</td> <td>Subchan</td> <td>Surya</td> <td>Endah</td> <td>Udin</td> </tr> </table> <p style="text-align: center;">KIRI  KANAN</p> <p>Perhatikan denah susunan tempat duduk kelas 9A SMP Ceria di atas pada minggu lalu. Pada minggu lalu Wawan duduk pada posisi nomor 3 dari depan dan lajur ke-3 dari kiri. Pada minggu ini Wawan berpindah pada bangku yang ditempati oleh Putri. Sedangkan Putri berpindah pada bangku yang ditempati oleh Winda, kemudian Winda berpindah pada bangku paling kiri belakang dan Boy menempati bangku yang diisi oleh Wawan pada minggu lalu.</p> <p>a. Jika pergeseran (translasi) posisi tempat duduk bernilai positif jika bergeser ke depan dan ke kanan serta bernilai negatif jika bergeser ke belakang dan ke kiri, maka tentukan pasangan bilangan translasi yang menunjukkan perpindahan posisi tempat duduk dari Wawan, Putri, Winda, dan Boy.</p> <p>b. Jika Andre melakukan translasi $\begin{pmatrix} 3 \\ -4 \end{pmatrix}$, bangku milik siapa yang ditempati oleh Andre pada minggu ini?</p> <p>c. Jika Ivanka, Dani, dan Alex masing-masing ingin bertukar posisi tempat duduk dengan syarat masing-masing siswa tidak diperbolehkan menempati posisi miliknya pada minggu lalu, tentukan 2 kemungkinan translasi</p>	Andre	Joko	Vivi	Devi	Alex	Dian	DEPAN  BELAKANG	Dani	Supri	Dimas	Sarti	Suni	Steven	Paul	Panca	Wawan	Winda	Nita	Budi	Wirwin	Andy	Bernard	Ivanka	Hafid	Putri	Boy	Fahim	Subchan	Surya	Endah	Udin	<i>Knowing</i>	<i>Retrieve</i>	Memperoleh informasi yang dibutuhkan dari gambar dan teks
Andre	Joko	Vivi	Devi	Alex	Dian	DEPAN  BELAKANG																													
Dani	Supri	Dimas	Sarti	Suni	Steven																														
Paul	Panca	Wawan	Winda	Nita	Budi																														
Wirwin	Andy	Bernard	Ivanka	Hafid	Putri																														
Boy	Fahim	Subchan	Surya	Endah	Udin																														
		<i>Applying</i>	<i>Determine</i>	Memilih metode dan strategi yang tepat terkait transformasi untuk menyelesaikan soal																															
			<i>Implement</i>	Menerapkan metode dan strategi terkait transformasi untuk menyelesaikan soal																															

No	Soal	Domain Kognitif	Aspek Kognitif	Alasan
	<p>yang dilakukan oleh masing-masing siswa tersebut.</p> <p>d. Jika Paul dan Fahim ingin bertukar bangku, tuliskan translasi yang dilakukan oleh masing-masing siswa tersebut.</p>			
8	<p>Pada bulan Desember 2015 terjadi kecelakaan kapal yang menyebabkan kapal tersebut hampir tenggelam. Berdasarkan hasil pemantauan di sekitar lokasi, diperkirakan ada 3 koordinat lokasi kemungkinan terjadinya kecelakaan tersebut yaitu di titik B, C, dan D. Titik A menunjukkan koordinat kapal tim SAR.</p>  <p>a. Tentukan translasi yang harus dilakukan oleh kapal tim SAR jika ingin menuju titik B, C, dan D.</p> <p>b. Berdasarkan perhitungan oleh tim ahli, kemungkinan terbesar lokasi kecelakaan kapal berada pada radius 4 satuan dari posisi kapal tim SAR saat ini. Menurutmu pada titik mana kemungkinan terbesar terjadinya lokasi kecelakaan?</p> <p>c. Selain menggunakan kapal tim SAR, diketahui ada kapal lain, yaitu kapal Marina Emas, yang dapat membantu para korban di lokasi kecelakaan kapal (lokasi</p>	<i>Knowing</i>	<i>Retrieve</i>	Mengambil informasi yang diperlukan dari teks dan gambar
		<i>Applying</i>	<i>Implement</i>	Menerapkan metode dan strategi terkait transformasi untuk menyelesaikan masalah
		<i>Reasoning</i>	<i>Analyze</i>	Menggunakan hubungan antara titik koordinat dan ekspresi aljabar untuk menyelesaikan masalah terkait transformasi

No	Soal	Domain Kognitif	Aspek Kognitif	Alasan
	kecelakaan kapal berdasarkan jawabanmu pada poin b) dengan posisi koordinat di titik E. Menurutmu, kapal mana yang akan terlebih dahulu sampai ke lokasi terjadinya kecelakaan? Jelaskan.			
9	Diketahui garis RD berkoordinat di R (2, 5) dan D (-3, -1). a. Gambar bayangan garis RD setelah dilakukan rotasi 90° searah jarum jam dan berpusat di titik asal. b. Gambar bayangan garis RD setelah rotasi 180° berlawanan arah jarum jam dan berpusat di titik asal.	<i>Applying</i>	<i>Represent</i>	Menyajikan hasil transformasi bangun yang diminta dalam bentuk gambar
			<i>Implement</i>	Menerapkan metode dan strategi terkait transformasi untuk menyelesaikan soal
10	Perhatikan gambar di bawah ini. Gambar bayangan hasil rotasi bangun datar tersebut terhadap titik P dengan sudut rotasi yang ditentukan a. Rotasi 90° searah jarum jam b. Rotasi 180° searah jarum jam c. Rotasi 90° berlawanan arah jarum jam d. Rotasi 270° searah jarum jam e. Rotasi 450° searah jarum jam	<i>Knowing</i>	<i>Retrieve</i>	Mengambil informasi dari gambar
		<i>Applying</i>	<i>Represent</i>	Menyajikan hasil rotasi bangun yang diminta dalam bentuk gambar
			<i>Implement</i>	Menerapkan metode dan strategi terkait rotasi untuk menyelesaikan soal
11	Diketahui titik sudut dari tiap-tiap bangun datar sebagai berikut. Rotasikan bangun datar berikut dan gambar bayangannya (pusat rotasi di titik asal).	<i>Applying</i>	<i>Represent</i>	Menyajikan hasil rotasi bangun yang diminta dalam bentuk gambar

No	Soal	Domain Kognitif	Aspek Kognitif	Alasan
	a. A (3, -2), B (-4, -5), C (-4, 3) dan D (3, 4) dirotasikan 90° searah jarum jam b. I (3, 5), J (-3, 4) dan K (5, -3) dirotasikan 180° searah jarum jam c. P (3, 4), Q (-3, 2), R (-4, -6) dan S (5, -3) dirotasikan 90° berlawanan arah jarum jam d. K (4, 7), L (-3, 5), M (-5, -7) dan N (4, -2) dirotasikan 270° searah jarum jam		<i>Implement</i>	Menerapkan metode dan strategi terkait rotasi untuk menyelesaikan soal
12	 <p>Perhatikan $\triangle ABC$ pada gambar di atas. Gambarlah bayangan hasil transformasinya jika diketahui $\triangle ABC$ tersebut</p> <ol style="list-style-type: none"> Dicerminkan terhadap garis $y = 1$ kemudian ditranslasi $\begin{pmatrix} -4 \\ 8 \end{pmatrix}$ Dicerminkan terhadap garis $x = 1$ kemudian dirotasi 90° searah jarum jam yang berpusat di titik asal Dicerminkan terhadap sumbu y kemudian dirotasi 180° searah jarum jam yang berpusat di titik asal dan ditranslasi $(x - 2, y + 4)$ 	<i>Knowing</i>	<i>Retrieve</i>	Mengambil informasi dari gambar
		<i>Applying</i>	<i>Represent</i>	Menyajikan hasil transformasi bangun yang diminta dalam bentuk gambar
			<i>Implement</i>	Menerapkan metode dan strategi terkait transformasi untuk menyelesaikan soal
13	Diketahui titik sudut dari tiap-tiap bangun datar seperti berikut. Gambar bangun datar berikut beserta bayangan hasil dilatasi dengan faktor	<i>Applying</i>	<i>Represent</i>	Menyajikan hasil dilatasi bangun yang diminta dalam bentuk gambar

No	Soal	Domain Kognitif	Aspek Kognitif	Alasan
	skala yang diberikan (pusat dilatasi titik asal). Sebutkan jenis dilatasi pada masing-masing bangun datar a. A (2, -2), B (-2, 5), C (4, 2), k = 3 b. I (4, 8), J (-8, 12) dan K (16, -8), k = $\begin{pmatrix} 1 \\ 4 \end{pmatrix}$ c. P (1, 1), Q (-2, 3), R (-1, -3) dan S (3, -3), k = 4 d. K (2, 4), L (-4, 4), M (-8, -6) dan N (4, -6), k = $\begin{pmatrix} 1 \\ 2 \end{pmatrix}$		<i>Implement</i>	Menerapkan metode dan strategi terkait dilatasi untuk menyelesaikan soal
14	Seorang bajak laut sedang berburu harta karun. Sang asisten ingin membantu bajak laut untuk mendapatkan harta karun tersebut. Berdasarkan peta yang mereka dapatkan, diketahui bahwa lokasi harta karun berada pada titik B, sedangkan posisi bajak laut dan asistennya saat ini di titik A. Dengan menggunakan transformasi berikut ini maka bajak laut akan menemukan harta karun yang dicarinya. Akan tetapi tidak semua transformasi di bawah ini dapat digunakan dengan tepat untuk membantu sang bajak laut. Jika kamu menjadi asisten langkah-langkah transformasi apa saja yang akan kamu lakukan? Gunakan masing-masing transformasi berikut ini tepat satu kali. 	<i>Knowing</i>	<i>Retrieve</i>	Mengambil informasi dari teks dan gambar
		<i>Applying</i>	<i>Determine</i>	Memilih metode dan strategi yang tepat terkait transformasi untuk menyelesaikan soal




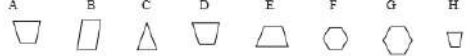
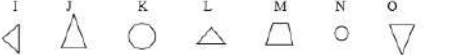
No	Soal	Domain Kognitif	Aspek Kognitif	Alasan
	a. Rotasi 180° searah jarum jam yang berpusat di titik asal b. Pencerminan terhadap sumbu-y c. Pencerminan terhadap sumbu-x d. Rotasi 90° berlawanan arah jarum jam yang berpusat di titik asal e. Translasi 1 langkah ke atas f. Translasi 2 langkah ke kanan dan 2 langkah ke bawah			
15	Bangun berwarna biru merupakan bayangan hasil transformasi dari bangun berwarna merah. Sebutkan langkah-langkah tranformasi yang dilakukan terhadap bangun berwarna merah sehingga diperoleh bayangan berupa bangun berwarna biru.	<i>Knowing</i>	<i>Retrieve</i>	Mengambil informasi dari gambar
	a.  b.  c.  d.  e.  f. 	<i>Applying</i>	<i>Determine</i>	Memilih metode dan strategi yang tepat terkait transformasi untuk menyelesaikan soal

Bab IV

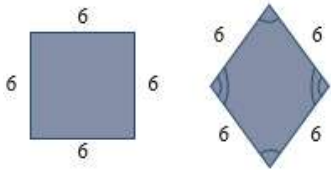
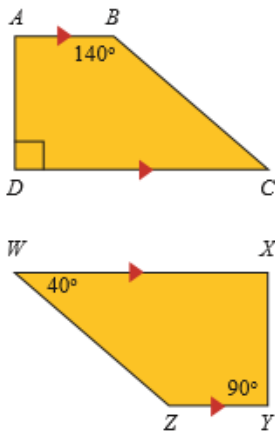
Kekongruenan dan Kesebangunan

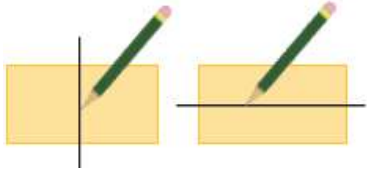
Subbab 4.1: Kekongruenan Bangun Datar

Jumlah soal: 14 butir

No	Soal	Domain Kognitif	Aspek Kognitif	Alasan
1	<p>Manakah di antara gambar di bawah ini yang kongruen?</p> 	<i>Knowing</i>	<i>Recall</i>	Mengingat kembali materi kekongruenan
2	<p>Manakah di antara gambar di bawah ini yang kongruen?</p> 	<i>Knowing</i>	<i>Recall</i>	Mengingat kembali materi kekongruenan
3	<p>Apakah menurutmu pensil warna pada gambar di samping ini kongruen? Jelaskan.</p> 	<i>Knowing</i>	<i>Recall</i>	Mengingat kembali materi kekongruenan
4	<p>Tuliskan pasangan bangun yang kongruen.</p> <p>A B C D E F G H</p>  <p>I J K L M N O</p>  <p>Tuliskan langkahmu menentukan bangun tersebut, digeser (translasi), diputar (rotasi), atau gabungannya?</p>	<i>Knowing</i>	<i>Recall</i>	Mengingat kembali materi kekongruenan, translasi, dan rotasi
			<i>Classify</i>	Mengklasifikasikan berbagai pasangan bangun yang kongruen
5	<p>Berikut ini adalah pasangan bangun yang kongruen. Tuliskan sisi-sisi dan sudut-sudut yang bersesuaian.</p>	<i>Applying</i>	<i>Implement</i>	Menerapkan metode dan strategi terkait kekongruenan untuk menyelesaikan soal

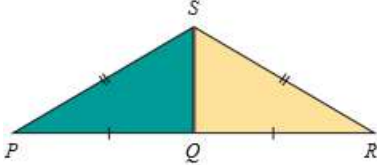
No	Soal	Domain Kognitif	Aspek Kognitif	Alasan
6	<p>Manakah belah ketupat di bawah ini yang kongruen? Jelaskan.</p>	<i>Knowing</i>	<i>Retrieve</i>	Mengambil informasi dari gambar
		<i>Applying</i>	<i>Determine</i>	Memilih metode dan strategi yang tepat terkait kekongruenan untuk menyelesaikan soal
7	<p>Diketahui trapesium ABCD dan trapesium FEHG adalah kongruen.</p> <p>Jika panjang sisi $AD = 12$ cm, $DC = 13$ cm dan $EF = 22$ cm maka tentukan panjang EH.</p>	<i>Knowing</i>	<i>Retrieve</i>	Mengambil informasi dari gambar
		<i>Applying</i>	<i>Determine</i>	Memilih metode dan strategi yang tepat terkait kekongruenan untuk menyelesaikan soal
8	<p>Perhatikan gambar berikut ini.</p> <p>Jika dua gambar di samping kongruen, tentukan nilai u dan v pada gambar tersebut.</p>	<i>Knowing</i>	<i>Retrieve</i>	Mengambil informasi dari gambar
		<i>Applying</i>	<i>Determine</i>	Memilih metode dan strategi yang tepat terkait kekongruenan untuk menyelesaikan soal
9	<p>Perhatikan dua gambar rumah tampak dari depan yang kongruen berikut ini.</p>	<i>Knowing</i>	<i>Retrieve</i>	Mengambil informasi dari gambar
		<i>Applying</i>	<i>Implement</i>	Menerapkan metode dan strategi terkait kekongruenan untuk menyelesaikan soal

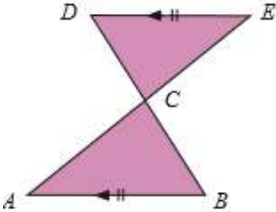
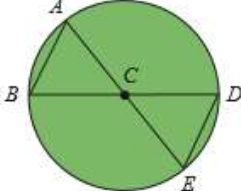
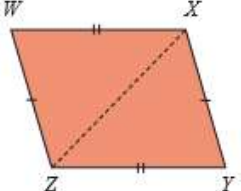
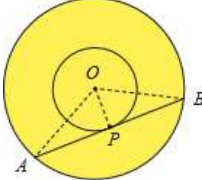
No	Soal	Domain Kognitif	Aspek Kognitif	Alasan
	a. Tentukan sisi-sisi yang bersesuaian. b. Tentukan sudut-sudut yang bersesuaian. c. Berapa panjang KJ, KL, dan LM? d. Berapa keliling dan luas JKLMN jika jarak J ke LM adalah 7 m?			
10	Analisis Kesalahan. Jelaskan dan perbaikilah pernyataan yang salah berikut.  “Kedua bangun di samping mempunyai empat sisi dan sisi-sisi yang bersesuaian sama panjang, jadi kedua bangun tersebut kongruen”	Knowing	Recall	Mengingat kembali materi kekongruenan
		Reasoning	Evaluate	Mengevaluasi alternatif solusi dari permasalahan terkait kekongruenan
11	Benar atau Salah. Trapesium pada gambar di samping ini kongruen. Tentukan pernyataan berikut ini benar atau salah. Jelaskan.  a. Besar $\angle Z = 140^\circ$ b. Besar $\angle C = 40^\circ$ c. Sisi WZ bersesuaian dengan sisi CB d. Keliling bangun ABCD sama dengan keliling bangun WXYZ. e. Luas bangun ABCD tidak sama dengan luas WXYZ.	Knowing	Retrieve	Mengambil informasi dari gambar
		Reasoning	Justify	Membuat argumentasi matematis yang mendukung strategi/ solusi dari sebuah permasalahan

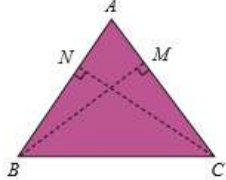
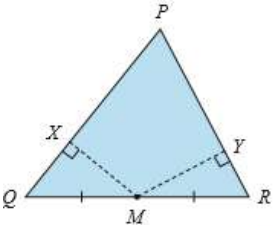
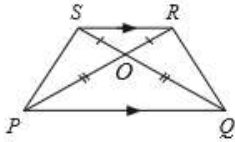
No	Soal	Domain Kognitif	Aspek Kognitif	Alasan
12	Bernalar.  Gambar di samping menunjukkan dua cara menggambar satu garis untuk membagi persegi panjang menjadi dua bangun yang kongruen. Gambarkan tiga cara lainnya.	<i>Knowing</i>	<i>Recall</i>	Mengingat kembali materi simetri lipat
		<i>Applying</i>	<i>Represent</i>	Menyajikan garis yang dapat membagi persegi panjang menjadi dua bangun kongruen dalam bentuk gambar
13	Berpikir Kritis. Apakah luas dua bangun yang kongruen pasti sama? Apakah dua bangun dengan luas yang sama pasti kongruen? Jelaskan dengan gambar atau diagram untuk mendukung jawabanmu.	<i>Knowing</i>	<i>Recall</i>	Mengingat kembali materi kekongruenan
		<i>Applying</i>	<i>Represent</i>	Menyajikan gambar/diagram pendukung solusi masalah
14	Berpikir Kritis. Berapa banyak segitiga sama sisi kongruen paling sedikit yang diperlukan untuk membentuk segitiga samasisi yang ukurannya lebih besar dari segitiga sama sisi semula? Demikian juga, berapa persegi kongruen paling sedikit yang diperlukan untuk menghasilkan persegi yang ukurannya lebih besar dari persegi semula? Dapatkah hasil ini diperluas untuk segi-n beraturan yang lain? Jelaskan alasanmu. Harus ditambah berapa banyak segi-n beraturan lagi supaya tetap jadi segi-n?	<i>Reasoning</i>	<i>Analyze</i>	Mendeskripsikan dan menggunakan hubungan antarbentuk atau obyek
			<i>Integrate</i>	Membuat hubungan dari berbagai elemen pengetahuan dan prosedur untuk menyelesaikan masalah

Subbab 4.2: Kekongruenan Dua Segitiga

Jumlah soal: 12 butir

No	Soal	Domain Kognitif	Aspek Kognitif	Alasan
1	Perhatikan gambar di bawah ini. 	<i>Knowing</i>	<i>Retrieve</i>	Mengambil informasi dari gambar
		<i>Applying</i>	<i>Implement</i>	Menerapkan metode/strategi tentang kekongruenan dua

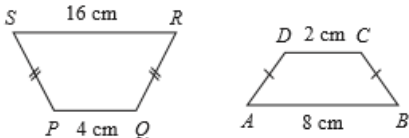
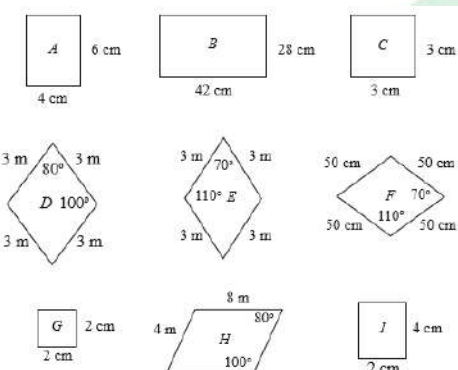
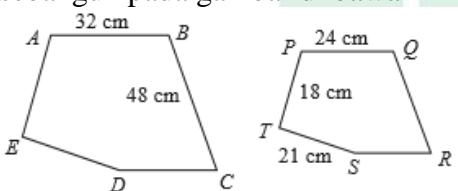
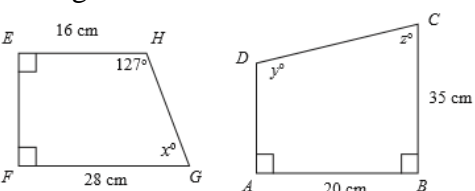
No	Soal	Domain Kognitif	Aspek Kognitif	Alasan
	Tunjukkan bahwa ΔPQS dan ΔRQS kongruen.			segitiga untuk menyelesaikan soal
2	Perhatikan gambar di bawah ini.  Panjang $AB = DE$ dan $AB \parallel DE$. Tunjukkan bahwa ΔABC dan ΔEDC kongruen.	<i>Knowing</i>	<i>Retrieve</i>	Mengambil informasi dari gambar
		<i>Applying</i>	<i>Implement</i>	Menerapkan metode/strategi tentang kekongruenan dua segitiga untuk menyelesaikan soal
3	 Titik C adalah titik pusat lingkaran. Tunjukkan bahwa dua segitiga pada gambar di samping adalah kongruen.	<i>Applying</i>	<i>Determine</i>	Memilih metode dan strategi yang tepat terkait materi kekongruenan dua segitiga untuk menyelesaikan soal
4	Bangun WXYZ adalah segi empat dengan sisi-sisi yang berhadapan panjangnya sama. XZ adalah salah satu diagonalnya.  a. Tunjukkan bahwa $\Delta WXZ \cong \Delta ZYX$. b. Tunjukkan bahwa WXYZ adalah jajargenjang.	<i>Applying</i>	<i>Determine</i>	Memilih metode dan strategi yang tepat terkait materi kekongruenan dua segitiga untuk menyelesaikan soal
		<i>Knowing</i>	<i>Recall</i>	Mengingat kembali materi bangun datar jajargenjang.
5	Perhatikan gambar di bawah ini. 	<i>Knowing</i>	<i>Retrieve</i>	Mengambil informasi dari gambar

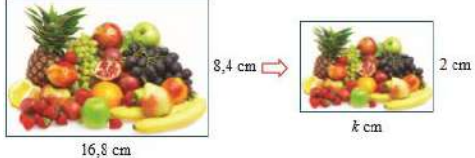
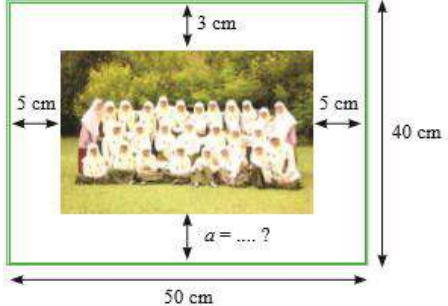
No	Soal	Domain Kognitif	Aspek Kognitif	Alasan
	Titik O adalah pusat lingkaran dalam dan lingkaran luar. AB adalah garis singgung dan titik P adalah titik singgung pada lingkaran kecil. Dengan menggunakan kekongruenan segitiga, tunjukkan bahwa titik P adalah titik tengah AB.	<i>Applying</i>	<i>Determine</i>	Memilih metode dan strategi yang tepat terkait materi kekongruenan dua segitiga untuk menyelesaikan soal
6	Perhatikan gambar di bawah ini.  <p>Pada segitiga ABC, BM tegak lurus dengan AC, CN tegak lurus dengan AB. Panjang BM = CN. Tunjukkan bahwa $\triangle BCM \cong \triangle CBN$.</p>	<i>Applying</i>	<i>Determine</i>	Memilih metode dan strategi yang tepat terkait materi kekongruenan dua segitiga untuk menyelesaikan soal
7	Perhatikan gambar di bawah ini.  <p>Titik M adalah titik tengah QR. Garis XM dan YM masing-masing tegak lurus pada PQ dan PR. Panjang XM = YM. Buktikan bahwa $\triangle QMX \cong \triangle RMY$.</p>	<i>Applying</i>	<i>Determine</i>	Memilih metode dan strategi yang tepat terkait materi kekongruenan dua segitiga untuk menyelesaikan soal
8	Menalar.  <p>Diketahui $SR \parallel PQ$, $OP = OQ$, $OS = OR$. Ada berapa pasang segitiga yang kongruen? Sebutkan dan buktikan.</p>	<i>Knowing</i>	<i>Recall</i>	Mengingat kembali materi kekongruenan dua segitiga
		<i>Applying</i>	<i>Determine</i>	Memilih metode dan strategi yang tepat terkait materi kekongruenan dua segitiga untuk menyelesaikan soal
9	Berpikir Kritis. Apakah dua segitiga yang mempunyai tiga pasang sudut-sudut yang bersesuaian sama besar pasti kongruen? Jelaskan dengan alasan yang mendukung jawabanmu.	<i>Knowing</i>	<i>Recall</i>	Mengingat kembali materi kekongruenan dua segitiga
		<i>Reasoning</i>	<i>Justify</i>	Memberikan argumen matematis untuk mendukung solusi


No	Soal	Domain Kognitif	Aspek Kognitif	Alasan
10	Berpikir Kritis. Apakah dua segitiga yang mempunyai dua pasang sisi yang bersesuaian sama panjang dan sepasang sudut yang bersesuaian sama besar pasti kongruen? Jelaskan dengan alasan yang mendukung jawabanmu.	<i>Knowing</i>	<i>Recall</i>	Mengingat kembali materi kekongruenan dua segitiga
		<i>Reasoning</i>	<i>Justify</i>	Memberikan argumen matematis untuk mendukung solusi
11	Membagi Sudut. Gambarlah sebuah sudut dan beri nama $\angle ABC$, kemudian lakukan langkah berikut. a. Dengan menggunakan jangka, bagilah $\angle ABC$ tersebut menjadi dua sama besar. b. Gambarlah lagi $\angle ABC$ yang sama, kemudian tanpa menggunakan jangka maupun busur derajat, bagilah $\angle ABC$ tersebut menjadi dua sama besar. (petunjuk: gunakan konsep segitiga kongruen)	<i>Applying</i>	<i>Represent</i>	Menyajikan $\angle ABC$ dalam bentuk gambar
			<i>Determine</i>	Memilih metode dan strategi yang tepat terkait materi kekongruenan dua segitiga untuk menyelesaikan soal
12	<p>Mengukur Panjang Danau. Chan ingin mengukur panjang sebuah danau tetapi tidak memungkinkan mengukurnya secara langsung. Dia merencanakan suatu cara yaitu ia memilih titik P, Q, R dan mengukur jarak QP dan RP (lihat ilustrasi gambar). Kemudian memperpanjang QP menuju ke Q' dan RP menuju ke R' sehingga panjang QP = PQ' dan RP = PR'.</p> <p>Chan menyimpulkan bahwa dengan mengukur panjang Q'R' dia mendapatkan panjang danau tersebut. Apakah menurutmu strategi Chan benar? Jelaskan.</p>	<i>Knowing</i>	<i>Retrieve</i>	Mengambil informasi dari gambar
		<i>Applying</i>	<i>Implement</i>	Menerapkan metode dan strategi terkait materi kekongruenan dua segitiga untuk menyelesaikan masalah

Subbab 4.3: Kesebangunan Bangun Datar

Jumlah soal: 12 butir

No	Soal	Domain Kognitif	Aspek Kognitif	Alasan
1	<p>Selidikilah apakah dua trapesium di bawah ini sebangun? Jelaskan.</p> 	<i>Applying</i>	<i>Implement</i>	Menerapkan metode dan strategi terkait materi kesebangunan bangun datar untuk menyelesaikan masalah
2	<p>Carilah pasangan bangun yang sebangun di antara gambar di bawah ini.</p> 	<i>Applying</i>	<i>Implement</i>	Menerapkan metode dan strategi terkait materi kesebangunan bangun datar untuk menyelesaikan masalah
		<i>Knowing</i>	<i>Classify</i>	Mengklasifikasi bangun-bangun datar yang sebangun
3	<p>Perhatikan dua bangun yang sebangun pada gambar di bawah ini.</p>  <p>Hitunglah panjang sisi AE, ED, dan QR.</p>	<i>Applying</i>	<i>Implement</i>	Menerapkan metode dan strategi terkait materi kesebangunan bangun datar untuk menyelesaikan masalah
4	<p>Dua buah bangun di bawah ini sebangun.</p>  <p>Hitunglah:</p> <ol style="list-style-type: none"> Panjang EF, HG, AD, dan DC. Nilai x, y dan z. 	<i>Applying</i>	<i>Determine</i>	Memilih metode dan strategi yang tepat terkait materi kesebangunan bangun datar untuk menyelesaikan masalah
5	<p>Sebuah gambar berbentuk persegi panjang berukuran $16,8 \text{ cm} \times 8,4 \text{ cm}$.</p>	<i>Applying</i>	<i>Implement</i>	Menerapkan metode dan strategi terkait

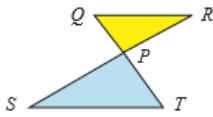
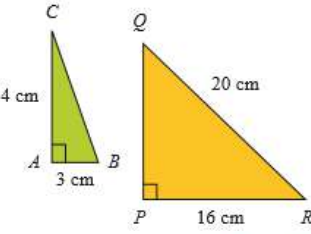
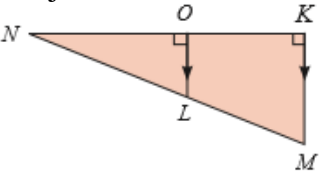
No	Soal	Domain Kognitif	Aspek Kognitif	Alasan
	<p>Gambar tersebut diperkecil sehingga ukurannya menjadi $k \text{ cm} \times 2 \text{ cm}$. Hitunglah panjang k.</p> 			materi kesebangunan bangun datar untuk menyelesaikan masalah
6	<p>Sebuah foto diletakkan pada selembar karton yang berukuran $50 \text{ cm} \times 40 \text{ cm}$, sebelum dipasang di pigura. Di bagian sisi kiri, kanan, atas, dan bawah foto diberi jarak seperti nampak pada gambar. Foto dan karton tersebut sebangun.</p>  <p>a. Berapa lebar karton di bagian bawah yang tidak tertutup oleh foto tersebut? b. Berapa perbandingan luas foto dan luas karton?</p>	<i>Knowing</i>	<i>Retrieve</i>	Mengambil informasi dari teks dan gambar
		<i>Applying</i>	<i>Implement</i>	Menerapkan metode dan strategi terkait materi kesebangunan bangun datar untuk menyelesaikan masalah
7	<p>Sebuah batako berukuran panjang 24 cm, lebar 12 cm, dan tingginya 8 cm dengan berat $1,6 \text{ kg}$. Terdapat miniatur batako yang sebangun dengan batako tersebut dan terbuat dari bahan yang sama dengan batako asli. Ukuran panjang miniatur batako 6 cm. Hitunglah:</p> <p>a. lebar dan tinggi miniatur batako, b. perbandingan volume batako asli dan batako miniatur, c. berat miniatur batako (dalam gram)</p>	<i>Knowing</i>	<i>Retrieve</i>	Mengambil informasi dari teks soal
		<i>Applying</i>	<i>Implement</i>	Menerapkan metode dan strategi terkait kesebangunan bangun datar untuk menyelesaikan soal
8	<p>Panjang sisi terpendek dari dua buah segi enam (<i>hexagon</i>) sebangun adalah 10 cm dan 8 cm. Jika luas segi enam</p>	<i>Applying</i>	<i>Determine</i>	Memilih metode dan strategi yang tepat terkait kesebangunan

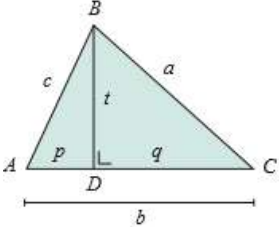
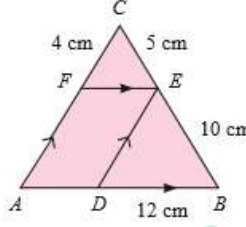
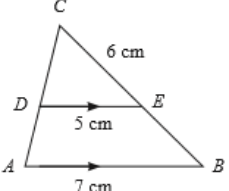
No	Soal	Domain Kognitif	Aspek Kognitif	Alasan
	yang besar adalah 200 cm^2 , berapakah luas segi enam yang kecil?			bangun datar untuk menyelesaikan soal
9	Usaha Konveksi. Wina mempunyai usaha konveksi. Untuk mengetahui bahan kain yang dibutuhkan, sebelum memproduksi dalam jumlah besar ia membuat sampel baju ukuran kecil dengan skala $\frac{1}{4}$ terhadap ukuran sebenarnya. Ternyata satu sampel tersebut membutuhkan kain sekitar $0,25 \text{ m}^2$. Berapa luas kain yang dibutuhkan jika ia mendapat pesanan untuk memproduksi baju tersebut sebanyak 1.000 baju?	<i>Knowing</i>	<i>Retrieve</i>	Mengambil informasi dari teks soal
		<i>Applying</i>	<i>Implement</i>	Menerapkan metode dan strategi terkait materi kesebangunan bangun datar untuk menyelesaikan soal
10	Botol Air Mineral. Ada dua macam kemasan air mineral, yaitu botol ukuran sedang dan besar. Kedua kemasan tersebut sebangun. Botol sedang tingginya 15 cm dan botol besar tingginya 25 cm. Volume botol besar adalah 1.250 ml. Berapa volume botol kecil?	<i>Knowing</i>	<i>Retrieve</i>	Mengambil informasi dari teks soal
		<i>Applying</i>	<i>Implement</i>	Menerapkan metode dan strategi terkait materi kesebangunan bangun datar untuk menyelesaikan soal
11	Denah Rumah. Perhatikan gambar denah rumah di bawah ini. 	<i>Knowing</i>	<i>Retrieve</i>	Mengambil informasi dari gambar
		<i>Applying</i>	<i>Implement</i>	Menerapkan metode dan strategi terkait materi kesebangunan bangun datar untuk menyelesaikan masalah
12	Miniatur Kereta Api. Sebuah miniatur salah satu gerbong kereta api	<i>Knowing</i>	<i>Retrieve</i>	Mengambil informasi dari teks

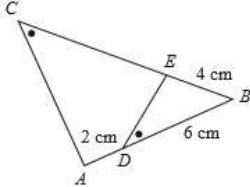
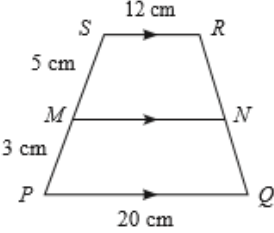
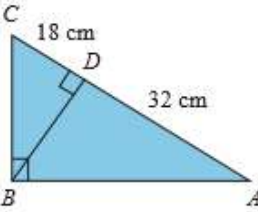
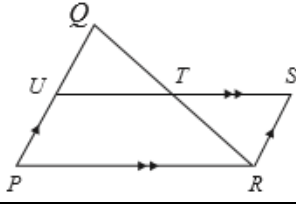
No	Soal	Domain Kognitif	Aspek Kognitif	Alasan
	dibuat dengan material yang sama dengan kereta api sebenarnya. Panjang miniatur kereta api tersebut adalah 40 cm, panjang sebenarnya adalah 10 m, dan berat miniatur adalah 4 kg. Berapakah berat kereta api sebenarnya?	<i>Applying</i>	<i>Implement</i>	Menerapkan metode dan strategi terkait materi kesebangunan bangun datar untuk menyelesaikan masalah

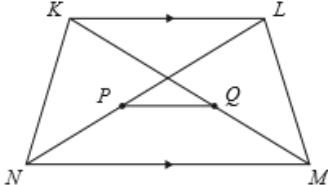
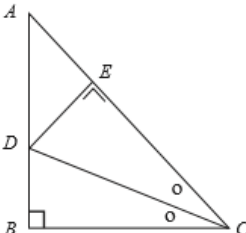
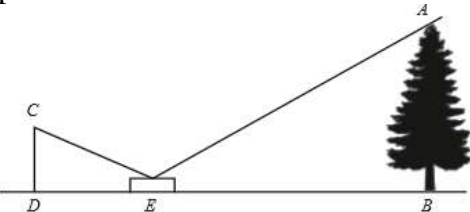
Subbab 4.4: Kesebangunan Dua Segitiga

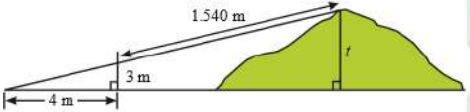
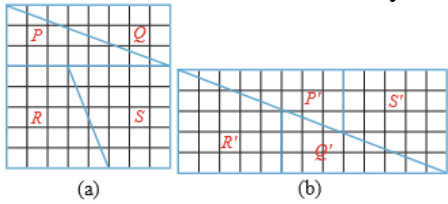
Jumlah soal: 17 butir

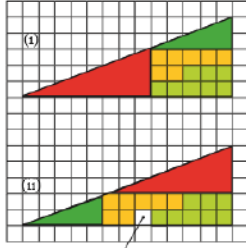
No	Soal	Domain Kognitif	Aspek Kognitif	Alasan
1	Pada gambar di samping, QR//ST.  a. Buktikan bahwa ΔQRP dan ΔTSP sebangun. b. Tuliskan perbandingan sisi-sisi yang bersesuaian.	<i>Knowing</i>	<i>Retrieve</i>	Mengambil informasi dari gambar
		<i>Applying</i>	<i>Determine</i>	Memilih metode dan strategi yang tepat terkait kesebangunan dua segitiga untuk menyelesaikan masalah
2	Perhatikan gambar berikut.  a. Buktikan bahwa ΔABC dan ΔPQR sebangun. b. Tuliskan perbandingan sisi-sisi yang bersesuaian.	<i>Knowing</i>	<i>Retrieve</i>	Mengambil informasi dari gambar
		<i>Applying</i>	<i>Determine</i>	Memilih metode dan strategi yang tepat terkait kesebangunan dua segitiga untuk menyelesaikan masalah
3	Perhatikan gambar berikut. Apakah ΔKMN sebangun dengan ΔOLN ? Tunjukkan. 	<i>Knowing</i>	<i>Retrieve</i>	Mengambil informasi dari gambar
		<i>Applying</i>	<i>Implement</i>	Menerapkan metode dan strategi terkait materi kesebangunan dua segitiga untuk menyelesaikan masalah

No	Soal	Domain Kognitif	Aspek Kognitif	Alasan
4	<p>Pada $\triangle ABC$ dan $\triangle PQR$ diketahui $m\angle A = 105^\circ$, $m\angle B = 45^\circ$, $m\angle P = 45^\circ$, dan $m\angle Q = 105^\circ$.</p> <p>a. Apakah kedua segitiga tersebut sebangun? Jelaskan.</p> <p>b. Tulislah pasangan sisi yang mempunyai perbandingan yang sama.</p>	<i>Applying</i>	<i>Implement</i>	Menerapkan metode dan strategi terkait materi kesebangunan dua segitiga untuk menyelesaikan masalah
5	<p>Perhatikan gambar.</p>  <p>Diketahui $m\angle ABC = 90^\circ$, siku-siku di B.</p> <p>a. Tunjukkan bahwa $\triangle ADB$ dan $\triangle ABC$ sebangun.</p> <p>b. Tunjukkan bahwa $\triangle BDC$ dan $\triangle ABC$ sebangun.</p>	<i>Knowing</i>	<i>Retrieve</i>	Mengambil informasi dari gambar
	<i>Applying</i>	<i>Determine</i>	Memilih metode dan strategi yang tepat terkait materi kesebangunan dua segitiga untuk menyelesaikan masalah	
6	<p>Perhatikan gambar.</p>  <p>a. Tunjukkan bahwa $\triangle FCE \sim \triangle ACB$.</p> <p>b. Tunjukkan bahwa $\triangle FCE \sim \triangle DEB$.</p> <p>c. Tunjukkan bahwa $\triangle ACB \sim \triangle DEB$.</p> <p>d. Tentukan panjang FE dan AF.</p>	<i>Knowing</i>	<i>Retrieve</i>	Mengambil informasi dari gambar
	<i>Applying</i>	<i>Determine</i>	Memilih metode dan strategi yang tepat terkait materi kesebangunan dua segitiga untuk menyelesaikan masalah	
7	<p>Perhatikan gambar.</p> <p>a. Hitunglah panjang EB</p> 	<i>Knowing</i>	<i>Retrieve</i>	Mengambil informasi dari gambar

No	Soal	Domain Kognitif	Aspek Kognitif	Alasan
	b. Hitunglah panjang CE 	<i>Applying</i>	<i>Determine</i>	Memilih metode dan strategi yang tepat terkait kesebangunan untuk menyelesaikan masalah
8	Perhatikan gambar. Hitunglah panjang MN pada gambar di bawah ini. 	<i>Knowing</i>	<i>Retrieve</i>	Mengambil informasi dari gambar
	<i>Applying</i>	<i>Determine</i>	Memilih metode dan strategi yang tepat terkait kesebangunan untuk menyelesaikan masalah	
9	Perhatikan gambar. Tentukan:  <ol style="list-style-type: none"> Pasangan segitiga yang sebangun. Pasangan sudut yang sama besar dari masing-masing pasangan segitiga yang sebangun tersebut. Pasangan sisi bersesuaian dari masing-masing pasangan segitiga yang sebangun tersebut. Panjang sisi BA, BC, dan BD. 	<i>Knowing</i>	<i>Retrieve</i>	Mengambil informasi dari gambar
	<i>Applying</i>	<i>Implement</i>	Menerapkan metode dan strategi terkait materi kesebangunan dua segitiga untuk menyelesaikan masalah	
10	Perhatikan gambar. Diketahui PR = 15 cm dan $QU = \frac{2}{3} UP$. Tentukan panjang TS. 	<i>Knowing</i>	<i>Retrieve</i>	Mengambil informasi dari gambar
	<i>Applying</i>	<i>Determine</i>	Memilih metode dan strategi yang tepat terkait materi kesebangunan dua segitiga untuk menyelesaikan masalah	
11	Perhatikan gambar. Diketahui KL = 10 cm dan MN = 14 cm. P dan Q	<i>Knowing</i>	<i>Retrieve</i>	Mengambil informasi dari gambar

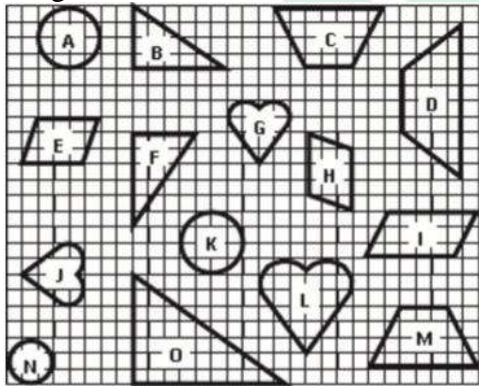
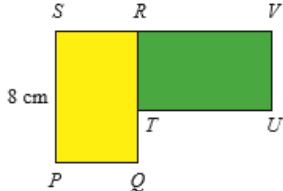
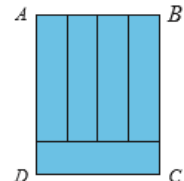
No	Soal	Domain Kognitif	Aspek Kognitif	Alasan
	<p>berturut-turut adalah titik tengah LN dan KM. Tentukan panjang PQ.</p> 	<i>Applying</i>	<i>Determine</i>	Memilih metode dan strategi yang tepat terkait materi kesebangunan dua segitiga untuk menyelesaikan masalah
12	<p>Perhatikan gambar. Segitiga ABC adalah segitiga siku-siku sama kaki. Jika $AB = 10$ cm dan CD garis bagi sudut C, Tentukan panjang BD.</p> 	<i>Knowing</i>	<i>Retrieve</i>	Mengambil informasi dari gambar
		<i>Applying</i>	<i>Determine</i>	Memilih metode dan strategi yang tepat terkait materi kesebangunan dua segitiga untuk menyelesaikan masalah
13	<p>Memperkirakan Tinggi Rumah. Pada suatu sore, sebuah rumah dan pohon yang bersebelahan memiliki bayangan berturut-turut 10 m dan 4 m. Jika ternyata tinggi pohon sebenarnya adalah 10 m, tentukan tinggi rumah tersebut sebenarnya.</p>	<i>Knowing</i>	<i>Retrieve</i>	Mengambil informasi dari teks
		<i>Applying</i>	<i>Implement</i>	Menerapkan metode dan strategi terkait kesebangunan dua segitiga untuk menyelesaikan soal
14	<p>Memperkirakan Tinggi Pohon. Untuk menentukan tinggi sebuah pohon, Ahmad menempatkan cermin di atas tanah (di titik E) seperti gambar di bawah ini. Dari titik E Ahmad berjalan mundur (ke titik D), sedemikian hingga dia dapat melihat ujung pohon pada cermin. Teman Ahmad mengukur panjang $BE = 18$ m, $ED = 2,1$ m dan ketika berdiri jarak mata Ahmad ke tanah (CD) adalah 1,4 m. Perkirakan tinggi pohon tersebut.</p> 	<i>Knowing</i>	<i>Retrieve</i>	Mengambil informasi dari teks dan gambar
		<i>Applying</i>	<i>Implement</i>	Menerapkan metode dan strategi terkait materi kesebangunan dua segitiga untuk menyelesaikan masalah

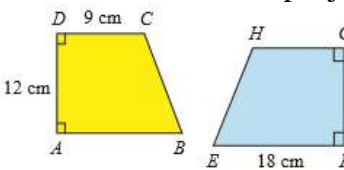
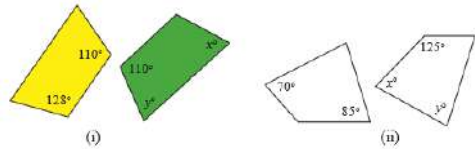
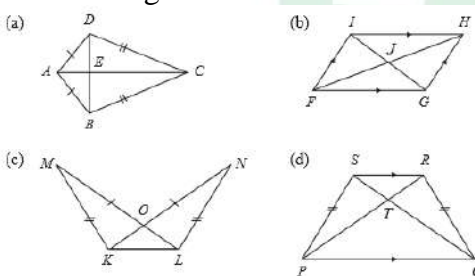
No	Soal	Domain Kognitif	Aspek Kognitif	Alasan
15	<p>Memperkirakan Tinggi Bukit. Dua mahasiswa Teknik Sipil Agung dan Ali ingin memperkirakan tinggi suatu bukit terhadap posisinya berdiri yang tidak jauh dari bukit itu. Mereka menggunakan bantuan peralatan laser yang dipasang pada sebuah tongkat penyangga setinggi 3 m dari permukaan tanah. Agung mengamati puncak bukit melalui alat tersebut dan diperoleh garis pandang ke puncak bukit adalah 1.540 m. Ali berbaring di tanah memandangi ke arah ujung peralatan tersebut dan puncak bukit sehingga tampak sebagai garis lurus. Posisi mata Ali berjarak 4 m dari tongkat penyangga. Perkirakan tinggi bukit tersebut. (perhatikan gambar)</p> 	Knowing	Retrieve	Mengambil informasi dari teks dan gambar
		Applying	Implement	Menerapkan metode dan strategi terkait materi kesebangunan dua segitiga untuk menyelesaikan masalah
16	<p>Analisis Kesalahan. Gambar (a) menunjukkan persegi dengan panjang sisi 8 satuan. Persegi itu dibagi menjadi 4 bagian yaitu dua segitiga (P dan Q), serta dua trapesium (R dan S). Gambar (b) menunjukkan persegi panjang berukuran 5 satuan \times 13 satuan. Persegi itu dibagi menjadi 4 bagian yaitu dua segitiga (P' dan Q'), serta dua trapesium (R' dan S'). Apakah $8 \times 8 = 5 \times 13$? Jika tidak, bagaimana kamu menjelaskan hal ini? Di mana letak kesalahannya?</p> 	Knowing	Retrieve	Mengambil informasi dari teks dan gambar
		Reasoning	Justify	Memberikan argumentasi matematis terkait solusi/strategi yang diberikan
17	<p>Analisis Kesalahan. Perhatikan gambar di bawah ini!Jelaskan di manakah letak kesalahannya?</p>	Knowing	Retrieve	Mengambil informasi dari gambar

No	Soal	Domain Kognitif	Aspek Kognitif	Alasan
	 <p>Jelaskan dari manakah lubang satu kotak ini berasal?</p>	<i>Reasoning</i>	<i>Analyze</i>	Mendesripsikan dan menggunakan hubungan antara bentuk obyek bangun datar pada gambar

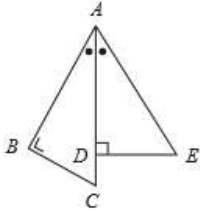
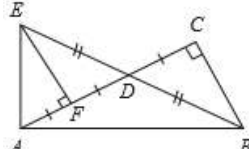
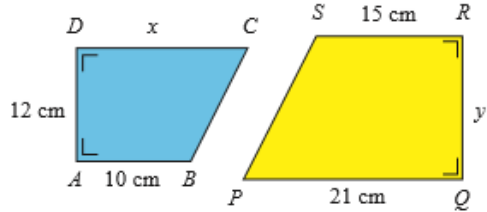
Uji Kompetensi Bab IV

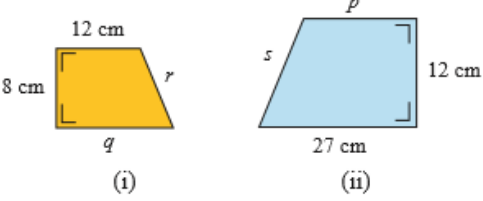
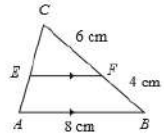
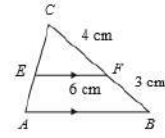
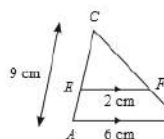
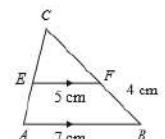
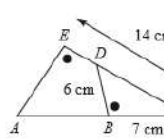
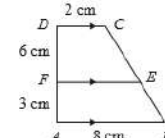
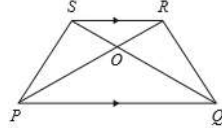
Jumlah soal: 25 butir

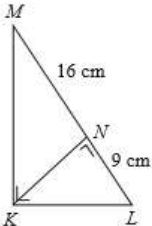
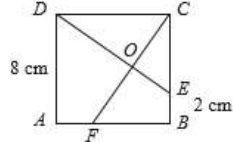
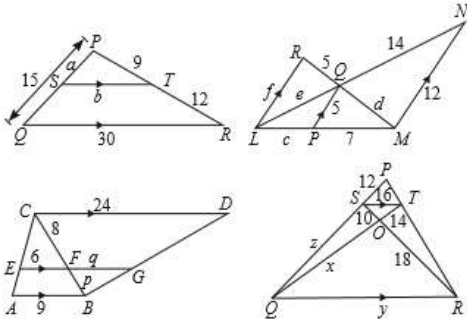

No	Soal	Domain Kognitif	Aspek Kognitif	Alasan
1	Perhatikan gambar di bawah ini. Tulislah pasangan bangun yang kongruen. 	<i>Knowing</i>	<i>Recall</i>	Mengingat kembali materi kekongruenan
			<i>Classify</i>	Mengklasifikasi pasangan bangun yang kongruen
2	Perhatikan gambar di bawah.  <p>Jika PQRS kongruen dengan UVRT dan $RT = \frac{3}{5} RQ$, tentukan panjang PQ.</p>	<i>Knowing</i>	<i>Retrieve</i>	Mengambil informasi dari gambar
		<i>Applying</i>	<i>Determine</i>	Memilih metode dan strategi yang tepat terkait materi kekongruenan untuk menyelesaikan masalah
3	Perhatikan gambar. 	<i>Applying</i>	<i>Determine</i>	Memilih metode dan strategi yang tepat terkait materi kekongruenan untuk menyelesaikan masalah

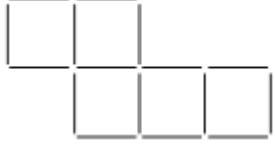

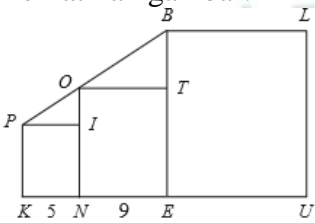
No	Soal	Domain Kognitif	Aspek Kognitif	Alasan
	Persegi panjang ABCD dibentuk dari 5 persegi panjang yang kongruen. Jika keliling setiap persegi panjang kecil adalah 20 cm, maka tentukan keliling dan luas ABCD.			
4	<p>Diketahui trapesium ABCD dan trapesium FEHG pada gambar di bawah ini adalah kongruen. Jika panjang AD = 12 cm, DC = 9 cm, dan EF = 18 cm, tentukan panjang CB.</p> 	<i>Applying</i>	<i>Determine</i>	Memilih metode dan strategi yang tepat terkait materi kekongruenan untuk menyelesaikan masalah
5	<p>Pasangan bangun di bawah ini kongruen, tentukan nilai x dan y pada gambar.</p> 	<i>Knowing</i>	<i>Retrieve</i>	Mengambil informasi dari gambar
		<i>Applying</i>	<i>Determine</i>	Memilih metode dan strategi yang tepat terkait kekongruenan untuk menyelesaikan masalah
6	<p>Perhatikan gambar di bawah ini.</p>  <p>Berapa banyak pasangan segitiga kongruen pada setiap bangun di atas? Tuliskan semua pasangan segitiga kongruen tersebut.</p>	<i>Knowing</i>	<i>Recall</i>	Mengingat kembali materi kekongruenan
			<i>Classify</i>	Mengklasifikasi berbagai pasangan bangun segitiga yang kongruen
7	Apakah pasangan segitiga berikut ini pasti kongruen? Jika ya, kriteria apakah yang menjamin pasangan segitiga berikut ini kongruen?	<i>Knowing</i>	<i>Retrieve</i>	Mengambil informasi dari gambar

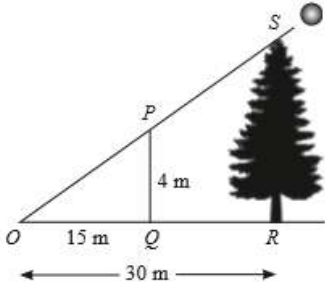
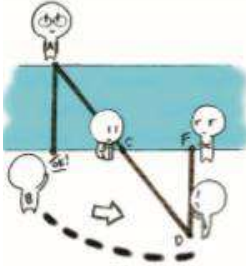
No	Soal	Domain Kognitif	Aspek Kognitif	Alasan
		<i>Applying</i>	<i>Determine</i>	Memilih metode dan strategi yang tepat terkait kekongruenan untuk menyelesaikan masalah
8	<p>Tuliskan satu pasangan segitiga kongruen pada setiap bangun berikut dan tunjukkan.</p> <p>$PM = PN$ dan $PQ = PR$ $PX = SY$ dan $\triangle PQR$ segitiga sama sisi</p>	<i>Knowing</i>	<i>Retrieve</i>	Mengambil informasi dari gambar
		<i>Applying</i>	<i>Implement</i>	Menerapkan metode dan strategi terkait kekongruenan untuk menyelesaikan soal
9	<p>Perhatikan gambar.</p> <p>Diketahui $\triangle PQR \cong \triangle LKM$ dan $m\angle PQR = 60^\circ$. Tentukanlah:</p> <ol style="list-style-type: none"> besar $m\angle PRQ$ besar $m\angle LKM$ besar $m\angle KML$ panjang KL panjang KM 	<i>Knowing</i>	<i>Retrieve</i>	Mengambil informasi dari gambar
		<i>Applying</i>	<i>Implement</i>	Menerapkan metode dan strategi terkait kekongruenan untuk menyelesaikan soal
10	Perhatikan gambar di samping.	<i>Knowing</i>	<i>Retrieve</i>	Mengambil informasi dari gambar

No	Soal	Domain Kognitif	Aspek Kognitif	Alasan
	 <p>Diketahui $AC = AE$ dan $m\angle BAC = m\angle DAE$</p> <p>a. Tunjukkan bahwa $\triangle ABC \cong \triangle ADE$.</p> <p>b. Jika $CD = 2$ cm dan $AE = 10$ cm, tentukanlah panjang BC dan AB</p>	<i>Applying</i>	<i>Determine</i>	Memilih metode dan strategi yang tepat terkait kekongruenan untuk menyelesaikan masalah
11	<p>Perhatikan gambar di samping.</p>  <p>Diketahui panjang $AB = 13$ cm dan $EF = 5$ cm.</p> <p>a. Buktikan bahwa $\triangle AFE \cong \triangle DFE$</p> <p>b. Buktikan bahwa $\triangle DCB \cong \triangle DFE$</p> <p>c. Hitunglah panjang AC</p> <p>d. Hitunglah panjang AE</p>	<i>Knowing</i>	<i>Retrieve</i>	Mengambil informasi dari gambar
		<i>Applying</i>	<i>Determine</i>	Memilih metode dan strategi yang tepat terkait kekongruenan untuk menyelesaikan masalah
12	<p>Apakah bangun di bawah ini pasti sebangun? Jelaskan.</p> <p>a. dua persegi</p> <p>b. dua lingkaran</p> <p>c. dua segitiga</p> <p>d. dua belah ketupat</p>	<i>Applying</i>	<i>Implement</i>	Menerapkan metode dan strategi terkait kekongruenan untuk menyelesaikan soal
		<i>Reasoning</i>	<i>Integrate</i>	Membuat hubungan dari berbagai elemen pengetahuan tentang bangun datar
13	<p>Trapezium ABCD sebangun dengan trapezium RSPQ, tentukan nilai x dan y pada gambar di bawah.</p> 	<i>Knowing</i>	<i>Retrieve</i>	Mengambil informasi dari gambar
		<i>Applying</i>	<i>Determine</i>	Memilih metode dan strategi yang tepat terkait kekongruenan untuk menyelesaikan masalah
14	Perhatikan gambar berikut ini.	<i>Knowing</i>	<i>Retrieve</i>	Mengambil informasi dari gambar

No	Soal	Domain Kognitif	Aspek Kognitif	Alasan
	 <p>(i) (ii)</p> <p>a. Jika trapesium (i) dan (ii) sebangun, tentukan nilai p, q, r dan s. b. Tentukan perbandingan keliling trapesium (i) dan (ii). c. Tentukan perbandingan luas trapesium (i) dan (ii).</p>	Applying	Determine	Memilih metode dan strategi yang tepat terkait kekongruenan untuk menyelesaikan masalah
15	<p>Hitunglah panjang sisi yang ditanyakan pada gambar berikut ini.</p> <p>a.  $EF = \dots \text{ cm}$</p> <p>b.  $AB = \dots \text{ cm}$</p> <p>c.  $AE = \dots \text{ cm}$</p> <p>d.  $CF = \dots \text{ cm}$</p> <p>e.  $AE = \dots \text{ cm}$</p> <p>f.  $EF = \dots \text{ cm}$</p>	Knowing	Retrieve	Mengambil informasi dari gambar
		Applying	Determine	Memilih metode dan strategi yang tepat terkait kekongruenan untuk menyelesaikan masalah
16	<p>Diketahui trapesium sama kaki PQRS pada gambar di bawah ini, dengan panjang $SR = 4 \text{ cm}$, $PQ = 12 \text{ cm}$, dan $QS = 20 \text{ cm}$. Tentukan panjang SO.</p> 	Knowing	Retrieve	Mengambil informasi dari gambar
		Applying	Determine	Memilih metode dan strategi yang tepat terkait kekongruenan untuk menyelesaikan masalah
17	Perhatikan gambar.	Knowing	Retrieve	Mengambil informasi dari gambar

No	Soal	Domain Kognitif	Aspek Kognitif	Alasan
	 <p>a. Tuliskan pasangan segitiga sebangun pada gambar tersebut.</p> <p>b. Dari tiap-tiap pasangan segitiga sebangun tersebut, tentukan pasangan sisi yang bersesuaian dan buat perbandingannya.</p> <p>c. Tentukan panjang NK, KL, dan MK</p>	<i>Applying</i>	<i>Determine</i>	Memilih metode dan strategi yang tepat terkait kekongruenan untuk menyelesaikan masalah
18	<p>ABCD adalah persegi.</p>  <p>Jika $DE = CF$, maka tentukanlah panjang:</p> <ol style="list-style-type: none"> DE OE OD OC OF 	<i>Knowing</i>	<i>Retrieve</i>	Mengambil informasi dari gambar
		<i>Applying</i>	<i>Determine</i>	Memilih metode dan strategi yang tepat terkait kekongruenan untuk menyelesaikan masalah
19	<p>Hitunglah panjang sisi yang diberi label pada gambar di bawah ini. (semua dalam satuan sentimeter)</p> 	<i>Knowing</i>	<i>Retrieve</i>	Mengambil informasi dari gambar
		<i>Applying</i>	<i>Determine</i>	Memilih metode dan strategi yang tepat terkait kekongruenan untuk menyelesaikan masalah
20	<p>Dua belas tusuk gigi disusun seperti pada gambar di samping.</p> 	<i>Reasoning</i>	<i>Integrate</i>	Membuat hubungan dari elemen pengetahuan tentang persegi dan kesebangunan untuk menyelesaikan soal

No	Soal	Domain Kognitif	Aspek Kognitif	Alasan
	Dengan memindahkan hanya dua tusuk gigi bagaimana kamu membentuk enam persegi atau tujuh persegi?	<i>Knowing</i>	<i>Retrieve</i>	Mengambil informasi dari gambar dan teks
21	Enam belas tusuk gigi disusun seperti gambar di samping. 	<i>Reasoning</i>	<i>Integrate</i>	Membuat hubungan dari elemen pengetahuan tentang persegi dan kesebangunan untuk menyelesaikan soal
	Dengan memindahkan hanya dua tusuk gigi bagaimana kamu membentuk empat persegi?	<i>Knowing</i>	<i>Retrieve</i>	Mengambil informasi dari gambar dan teks
22	Pada gambar di samping ini menunjukkan persegi yang dibentuk dengan 20 tusuk gigi. Di tengahnya terdapat lubang kotak dengan luas $\frac{1}{25}$ luas seluruhnya. Dengan menggunakan 18 tusuk gigi, bagilah luasan di antara persegi luar dan persegi di tengah menjadi 6 daerah yang sebangun.	<i>Knowing</i>	<i>Retrieve</i>	Mengambil informasi dari gambar dan teks
		<i>Reasoning</i>	<i>Integrate</i>	Membuat hubungan dari elemen pengetahuan tentang persegi dan kesebangunan untuk menyelesaikan soal
23	Perhatikan gambar. 	<i>Applying</i>	<i>Determine</i>	Memilih metode dan strategi yang tepat terkait materi kesebangunan untuk menyelesaikan masalah
	Bangun PINK, NOTE, dan BLUE adalah persegi. Panjang KN = 5 cm dan NE = 9 cm, Titik P – O – B terletak dalam satu garis lurus. Tentukan panjang sisi dan luas bangun BLUE.	<i>Knowing</i>	<i>Retrieve</i>	Mengambil informasi dari gambar dan teks
24	Pada gambar di bawah ini, tinggi tongkat PQ sesungguhnya adalah 4 m dan panjang bayangannya 15 m. Jika	<i>Knowing</i>	<i>Retrieve</i>	Mengambil informasi dari gambar dan teks

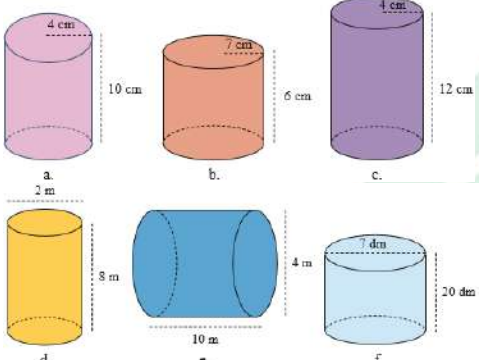
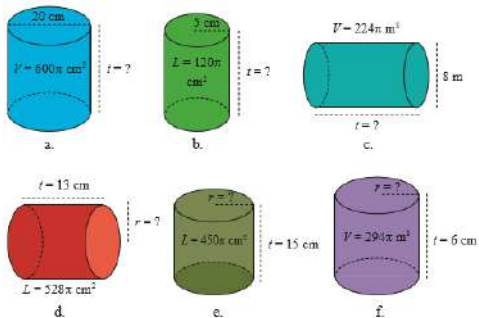
No	Soal	Domain Kognitif	Aspek Kognitif	Alasan
	<p>panjang bayangan pohon adalah 30 m, tentukan tinggi pohon.</p> 	<i>Applying</i>	<i>Determine</i>	Memilih metode dan strategi yang tepat terkait materi kesebangunan untuk menyelesaikan masalah
25	<p>Sekelompok peserta jelajah alam mendapat tugas untuk menaksir lebar suatu sungai tanpa mengukurnya secara langsung. Mereka menentukan titik acuan di seberang sungai yaitu titik A. Satu peserta lain berdiri di titik C. Peserta yang lain berdiri di titik B tepat di depan A. Kemudian berjalan menuju ke titik F dengan jarak B ke F adalah dua kali jarak B ke C. Dari titik F ia berjalan menuju titik D, di mana dengan pandangnya objek di titik A-C-D terletak pada satu garis lurus. Sehingga lebar sungai dapat diketahui dengan mengukur jarak F ke D. Apakah cara tersebut tepat untuk menaksir lebar sungai? Jelaskan.</p> 	<i>Knowing</i>	<i>Retrieve</i>	Mengambil informasi dari teks dan gambar
		<i>Reasoning</i>	<i>Evaluate</i>	Mengevaluasi alternatif dari strategi pemecahan masalah yang disajikan

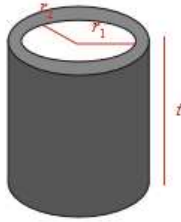
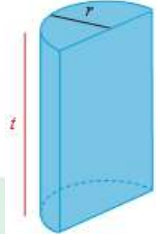
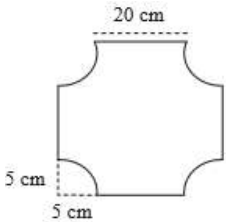
Bab V

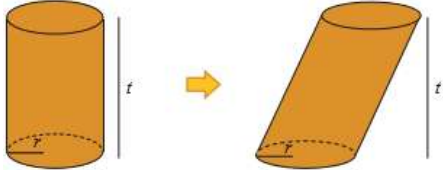
Bangun Ruang Sisi Lengkung

Subbab 5.1: Tabung

Jumlah soal: 10 butir

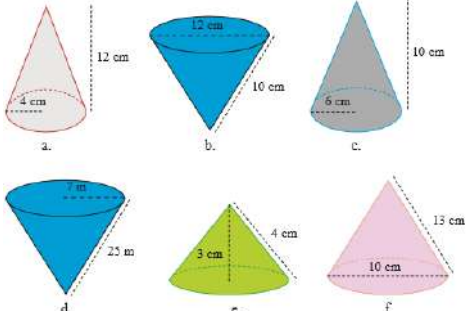
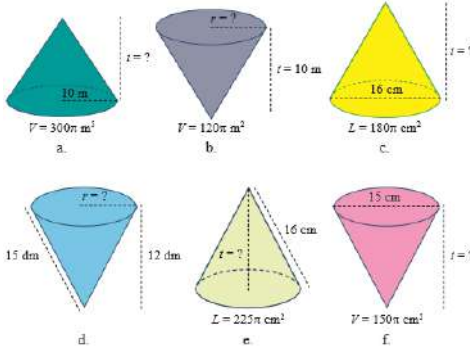
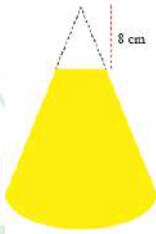
No	Soal	Domain Kognitif	Aspek Kognitif	Alasan
1	<p>Hitung luas permukaan dan volume dari bangun tabung berikut ini:</p> 	<i>Knowing</i>	<i>Retrieve</i>	Mengambil informasi dari gambar
		<i>Applying</i>	<i>Implement</i>	Menerapkan metode dan strategi terkait materi tabung untuk menyelesaikan masalah
2	<p>Tentukan panjang dari unsur tabung yang ditanyakan.</p>  <p>Ket: V = volume tabung, L = luas permukaan tabung, r = jari-jari tabung, t = tinggi tabung.</p>	<i>Knowing</i>	<i>Retrieve</i>	Mengambil informasi dari gambar
		<i>Applying</i>	<i>Implement</i>	Menerapkan metode dan strategi terkait materi tabung untuk menyelesaikan masalah
3	<p>Berpikir Kritis. Terdapat suatu tabung dengan jari-jari r cm dan tinggi tabung t cm, dimana $r < t$. Misalkan tabung tersebut memiliki volume V cm³ dan luas permukaan L cm². Apakah mungkin $V = L$? Jika ya, tentukan nilai $\frac{1}{r} + \frac{1}{t}$.</p>	<i>Applying</i>	<i>Determine</i>	Memilih metode dan strategi yang tepat terkait materi tabung untuk menyelesaikan masalah
4	<p>Tantangan. Gambar di samping merupakan suatu magnet silinder. Alas dari magnet tersebut dibentuk</p>	<i>Applying</i>	<i>Implement</i>	Menerapkan metode dan strategi terkait materi tabung untuk menyelesaikan masalah

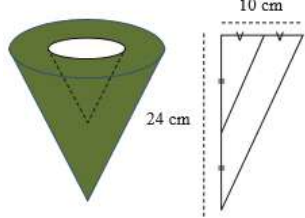
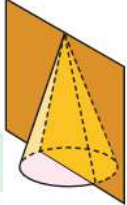
No	Soal	Domain Kognitif	Aspek Kognitif	Alasan
	<p>dari dua lingkaran yang sepusat. Lingkaran yang lebih kecil memiliki jari-jari $r_1 = 4$ cm, sedangkan lingkaran yang lebih besar memiliki jari-jari $r_2 = 6$ cm. Tinggi dari magnet adalah $t = 10$ cm. Tentukan:</p> <p>a. Luas permukaan magnet. b. Volume magnet.</p> 			
5	<p>Irisan Tabung. Misalkan terdapat suatu tabung dengan jari-jari r cm dan panjang t cm. Kemudian tabung tersebut dijadikan irisan tabung dengan memotong tabung tersebut menjadi dua bagian yang sama persis dari atas ke bawah. Tentukan rumus untuk menghitung luas irisan tabung tersebut.</p> 	<i>Applying</i>	<i>Determine</i>	Memilih metode dan strategi yang tepat terkait materi tabung untuk menyelesaikan masalah
		<i>Reasoning</i>	<i>Integrate</i>	Membuat hubungan antara elemen-elemen pengetahuan/prosedur
6	<p>Tandon Bocor. Terdapat suatu tandon yang berbentuk tabung dengan jari-jari 50 cm tinggi 2 m. Tandon tersebut berisi air sebanyak $\frac{3}{4}$ dari volume total. Terdapat lubang kecil di dasar tandon tersebut yang menyebabkan air mengalir keluar dengan kecepatan $50 \text{ cm}^3/\text{detik}$. Air pada tandon tersebut akan habis setelah ... detik? (anggap $\pi = 3,14$).</p>	<i>Applying</i>	<i>Implement</i>	Menerapkan metode dan strategi terkait materi tabung untuk menyelesaikan masalah
7	<p>Pondasi rumah. Alas dari pondasi rumah pak Ahmad berbentuk seperti gambar di samping. Jika tinggi pondasi adalah 2 m maka tentukan:</p> 	<i>Applying</i>	<i>Determine</i>	Memilih metode dan strategi yang tepat terkait materi tabung untuk menyelesaikan masalah
		<i>Reasoning</i>	<i>Integrate</i>	Membuat hubungan antara elemen-elemen pengetahuan/prosedur

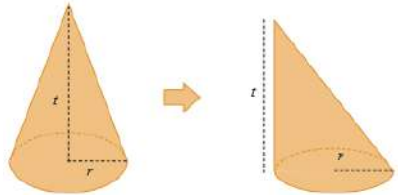
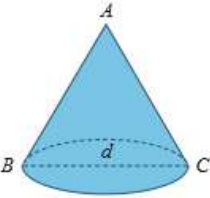
No	Soal	Domain Kognitif	Aspek Kognitif	Alasan
	a. luas permukaan pondasi, b. volume pondasi.			
8	Analisis Kesalahan. Rudi menghitung volume tabung dengan diameter 5 cm dan tinggi 12 cm. Rudi menghitung $V = (12)^2(5) = 720$ Sehingga diperoleh volume tabung adalah 720 cm^3 . Tentukan kesalahan yang dilakukan Budi.	<i>Reasoning</i>	<i>Evaluate</i>	Mengevaluasi alternatif pemecahan masalah yang disajikan terkait materi tabung
9	Tabung miring. Pada gambar di bawah terdapat dua buah bangun sisi lengkung. Sebelah kiri merupakan tabung dengan jari-jari r dan tinggi t . Sebelah kanan merupakan bangun ruang sisi lengkung yang diperoleh dari tabung sebelah kiri dengan menggeser tutup ke sebelah kanan, selanjutnya disebut dengan tabung miring. Tabung miring tersebut memiliki jari-jari r dan tinggi t . 	<i>Applying</i>	<i>Implement</i>	Menerapkan metode dan strategi terkait materi tabung untuk menyelesaikan masalah
		<i>Reasoning</i>	<i>Analyze</i>	Mendeskripsikan atau menggunakan hubungan antara bentuk bangun datar/ruang dan ekspresi aljabar untuk menyelesaikan masalah terkait tabung
			<i>Draw Conclusion</i>	Menarik sebuah kesimpulan yang valid terkait volume tabung
10	Kaleng susu. Suatu perusahaan susu memiliki kotak susu ukuran $40 \text{ cm} \times 60 \text{ cm} \times 20 \text{ cm}$. Kapasitas maksimal kotak tersebut adalah 48 kaleng susu. Jari-jari kaleng susu adalah $r \text{ cm}$ dan tingginya $t \text{ cm}$. Perusahaan tersebut membuat peraturan: i. Nilai r dan t harus bilangan bulat. ii. Luas permukaan kaleng tersebut harus seminimal mungkin. Tentukan nilai r dan t .	<i>Knowing</i>	<i>Retrieve</i>	Mengambil informasi dari teks
		<i>Applying</i>	<i>Implement</i>	Menerapkan metode dan strategi terkait materi tabung untuk menyelesaikan masalah

Subbab 5.2: Kerucut

Jumlah soal: 10 butir

No	Soal	Domain Kognitif	Aspek Kognitif	Alasan
1	Tentukan luas permukaan dan volume dari bangun kerucut berikut. 	<i>Knowing</i>	<i>Retrieve</i>	Mengambil informasi dari gambar
		<i>Applying</i>	<i>Implement</i>	Menerapkan metode dan strategi terkait materi kerucut untuk menyelesaikan masalah
2	Tentukan panjang dari unsur kerucut yang ditanyakan. 	<i>Knowing</i>	<i>Retrieve</i>	Mengambil informasi dari gambar
		<i>Applying</i>	<i>Implement</i>	Menerapkan metode dan strategi terkait materi kerucut untuk menyelesaikan masalah
3	Tumpeng. Pada suatu hari Pak Budi melakukan syukuran rumah baru. Pak Budi memesan suatu tumpeng. Tumpeng tersebut memiliki diameter 36 cm dan tinggi 24 cm. Namun, diawal acara Pak Budi memotong bagian atas tumpeng tersebut secara mendatar setinggi 8 cm. Berapakah luas permukaan dan volume dari tumpeng yang tersisa? 	<i>Knowing</i>	<i>Retrieve</i>	Mengambil informasi dari gambar
		<i>Applying</i>	<i>Implement</i>	Menerapkan metode dan strategi terkait materi kerucut untuk menyelesaikan masalah
4	Suatu kerucut memiliki jari-jari 6 cm dan tinggi t cm. Jika luas permukaan kerucut adalah A cm ² dan volume kerucut adalah A cm ³ maka tentukan: a. Nilai dari t . b. Nilai dari A .	<i>Applying</i>	<i>Determine</i>	Memilih metode dan strategi yang tepat terkait materi kerucut untuk menyelesaikan masalah

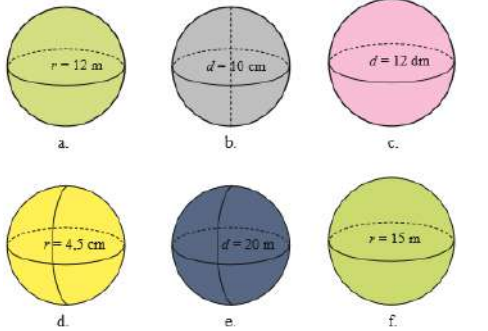
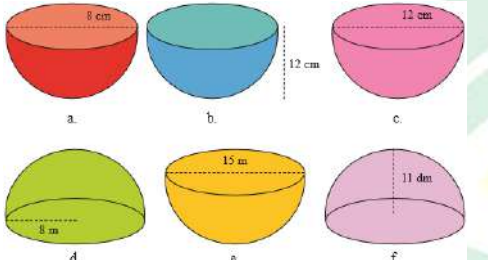
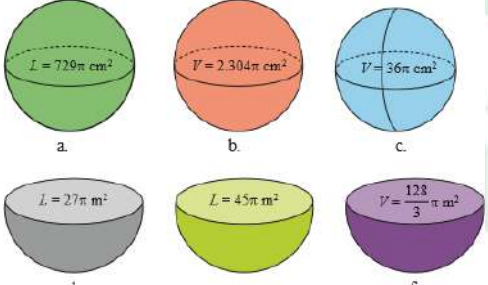
No	Soal	Domain Kognitif	Aspek Kognitif	Alasan
5	<p>Terdapat suatu bangun ruang yang diperoleh dari dua kerucut yang sepusat. Kerucut yang lebih besar memiliki jari-jari 10 cm dan tinggi 24 cm. Jari-jari kerucut kecil adalah $\frac{1}{2}$ jari-jari kerucut besar. Tinggi kerucut kecil adalah $\frac{1}{2}$ tinggi kerucut besar (lihat gambar di bawah). Tentukan:</p>  <p>a. luas permukaan, b. volume.</p>	<i>Knowing</i>	<i>Retrieve</i>	Mengambil informasi dari gambar
	<i>Applying</i>	<i>Implement</i>	Menerapkan metode dan strategi terkait materi kerucut untuk menyelesaikan masalah	
6	<p>Irisan Kerucut. Misalkan terdapat suatu kerucut dengan dengan jari-jari r cm dan panjang t cm. Kemudian kerucut tersebut dijadikan irisan kerucut dengan memotong kerucut tersebut menjadi dua bagian dari atas ke bawah (lihat gambar di samping). Tentukan rumus untuk menghitung luas irisan kerucut tersebut.</p> 	<i>Applying</i>	<i>Determine</i>	Memilih metode dan strategi yang tepat terkait materi kerucut untuk menyelesaikan masalah
	<i>Reasoning</i>	<i>Integrate</i>	Membuat hubungan antara elemen-elemen pengetahuan/prosedur	
7	<p>Analisis Kesalahan. Budi menghitung volume kerucut dengan diameter 10 cm dan tinggi 12 cm. Budi menghitung</p> $V = \frac{1}{3} (12)^2 (10) = 480$ <p>Sehingga diperoleh volume kerucut adalah 480 cm^3. Tentukan kesalahan yang dilakukan Budi.</p>	<i>R</i>	<i>Evaluate</i>	Mengevaluasi alternatif pemecahan masalah yang disajikan terkait materi kerucut
8	<p>Dari kertas karton ukuran $1 \text{ m} \times 1 \text{ m}$ Lisa akan membuat jaring-jaring kerucut dengan jari-jari r cm dan tinggi t cm.</p> <p>a. Apakah Lisa bisa membuat jaring-jaring tersebut jika $r = 40 \text{ cm}$ dan $t = 30 \text{ cm}$? Kemukakan alasanmu.</p>	<i>Applying</i>	<i>Implement</i>	Menerapkan metode dan strategi terkait materi kerucut untuk menyelesaikan masalah

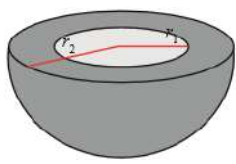
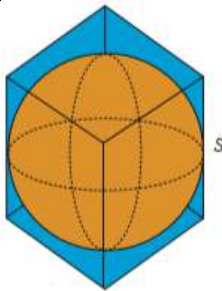
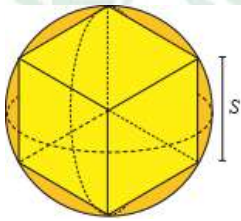
No	Soal	Domain Kognitif	Aspek Kognitif	Alasan
	b. Apakah Lisa bisa membuat jaring-jaring tersebut jika $r = 30$ cm dan $t = 40$ cm? Kemukakan alasanmu.			
9	<p>Kerucut miring. Pada gambar di bawah terdapat dua buah bangun sisi lengkung. Gambar sebelah kiri merupakan kerucut dengan jari-jari r dan tinggi t. Gambar sebelah kanan merupakan bangun ruang sisi lengkung yang diperoleh dari kerucut sebelah kiri dengan menggeser alasnya ke sebelah kanan, selanjutnya disebut dengan kerucut miring. Kerucut miring tersebut memiliki jari-jari r dan tinggi t.</p>  <p>a. Tentukan suatu metode untuk mendapatkan rumus dari volume kerucut miring tersebut. b. Apakah volume rumus kerucut miring sama dengan volume kerucut? Jelaskan analisismu.</p>	<i>Applying</i>	<i>Implement</i>	Menerapkan metode dan strategi terkait materi kerucut untuk menyelesaikan masalah
		<i>Reasoning</i>	<i>Analyze</i>	Mendesripsikan atau menggunakan hubungan antara bentuk bangun datar/ruang dan ekspresi aljabar untuk menyelesaikan masalah terkait kerucut
			<i>Draw Conclusion</i>	Menarik sebuah kesimpulan yang valid terkait volume kerucut
10	<p>Perhatikan kerucut di samping. Jika segitiga ABC merupakan segitiga sama sisi dengan panjang sisi d cm, tentukan luas permukaan dan volume kerucut.</p> 	<i>Knowing</i>	<i>Recall</i>	Mengingat kembali materi segitiga sama sisi
		<i>Applying</i>	<i>Implement</i>	Menerapkan metode dan strategi terkait materi kerucut untuk menyelesaikan masalah

Subbab 5.3: Bola

Jumlah soal: 10 butir

No	Soal	Domain Kognitif	Aspek Kognitif	Alasan
1	Tentukan luas permukaan dan volume dari bangun bola berikut.	<i>Knowing</i>	<i>Retrieve</i>	Mengambil informasi dari gambar

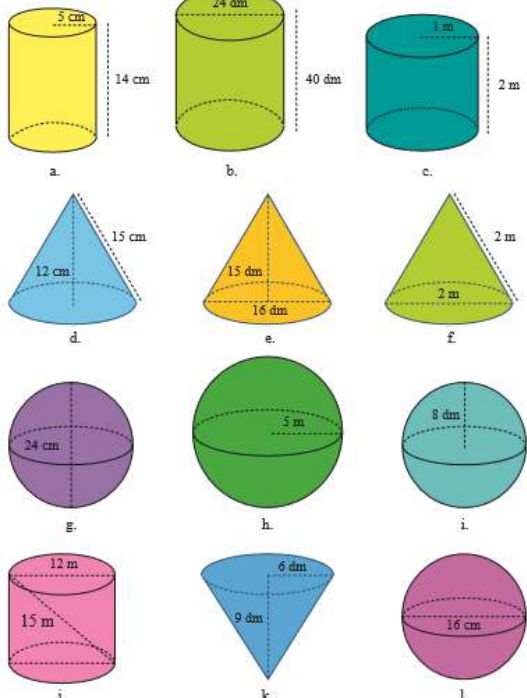
No	Soal	Domain Kognitif	Aspek Kognitif	Alasan
		<i>Applying</i>	<i>Implement</i>	Menerapkan metode dan strategi terkait materi bola untuk menyelesaikan masalah
2	<p>Berapakah luas permukaan bangun setengah bola tertutup berikut.</p> 	<i>Knowing</i>	<i>Retrieve</i>	Mengambil informasi dari gambar
		<i>Applying</i>	<i>Implement</i>	Menerapkan metode dan strategi terkait materi bola untuk menyelesaikan masalah
3	<p>Dari soal-soal nomor 2 tentukan rumus untuk menghitung luas permukaan setengah bola tertutup.</p>	<i>Reasoning</i>	<i>Integrate</i>	Membuat hubungan dari berbagai obyek bola setengah tertutup untuk menyelesaikan masalah
4	<p>Tentukan jari-jari dari bola dan setengah bola tertutup berikut.</p> 	<i>Knowing</i>	<i>Retrieve</i>	Mengambil informasi dari gambar
		<i>Applying</i>	<i>Implement</i>	Menerapkan metode dan strategi terkait materi bola untuk menyelesaikan masalah
5	<p>Berpikir kritis. Terdapat suatu bola dengan jari-jari r cm. Jika luas permukaan bola tersebut adalah A cm^2 dan volume bola tersebut adalah A cm^3, tentukan:</p> <p>a. nilai r b. nilai A</p>	<i>Applying</i>	<i>Determine</i>	Memilih metode dan strategi yang tepat terkait materi bola untuk menyelesaikan masalah

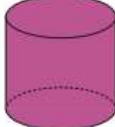

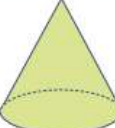
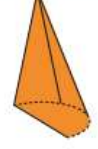
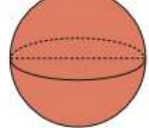
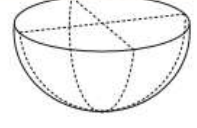












No	Soal	Domain Kognitif	Aspek Kognitif	Alasan
6	<p>Bangun di samping dibentuk dari dua setengah bola yang sepusat. Setengah bola yang lebih kecil memiliki jari-jari $r_1 = 4$ cm sedangkan yang lebih besar memiliki jari-jari $r_2 = 8$ cm. Tentukan:</p> <p>a. luas permukaan bangun tersebut, b. volume bangun tersebut.</p> 	<i>Applying</i>	<i>Implement</i>	Menerapkan metode dan strategi terkait materi bola untuk menyelesaikan masalah
7	<p>Analisis kesalahan. Lia menghitung luas permukaan bola dengan cara membagi volume bola dengan jari-jari bola tersebut ($L = \frac{V}{r}$). Tentukan kesalahan yang dilakukan oleh Lia.</p>	<i>Reasoning</i>	<i>Evaluate</i>	Mengevaluasi alternatif pemecahan masalah yang disajikan terkait materi bola
8	<p>Bola di dalam kubus. Terdapat suatu kubus dengan panjang sisi s cm. Dalam kubus tersebut terdapat bola dengan kondisi semua sisi kubus menyentuh bola (lihat gambar di samping).</p> <p>a. Tentukan luas permukaan bola tersebut. b. Tentukan volume bola tersebut. <i>Petunjuk:</i> tentukan jari-jari bola terlebih dahulu.</p> 	<i>Knowing</i>	<i>Recall</i>	Mengingat kembali materi kubus
			<i>Retrieve</i>	Mengambil informasi dari gambar
		<i>Applying</i>	<i>Determine</i>	Memilih metode dan strategi yang tepat terkait materi bola dan kubus untuk menyelesaikan masalah
9	<p>Kubus di dalam bola. Terdapat suatu kubus dengan panjang sisi s cm. Kubus tersebut berada di dalam bola dengan kondisi semua titik sudut kubus menyentuh bola.</p> <p>a. Tentukan luas permukaan bola tersebut b. Tentukan volume bola tersebut <i>Petunjuk:</i> tentukan jari-jari bola terlebih dahulu.</p> 	<i>Knowing</i>	<i>Recall</i>	Mengingat kembali materi kubus
			<i>Retrieve</i>	Mengambil informasi dari gambar
		<i>Applying</i>	<i>Determine</i>	Memilih metode dan strategi yang tepat terkait materi bola dan kubus untuk menyelesaikan masalah

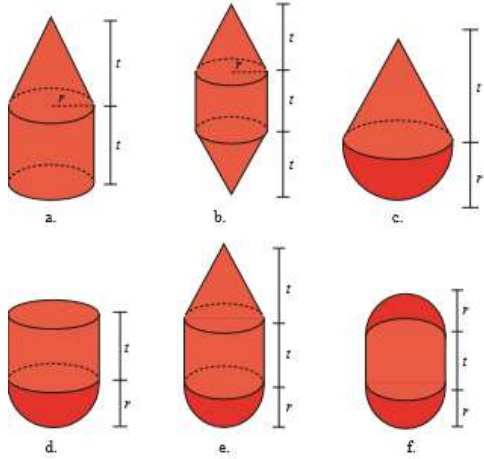
No	Soal	Domain Kognitif	Aspek Kognitif	Alasan
10	Timbangan dan kelereng. Andi punya dua macam kelereng. Kelereng tipe I berjari-jari 2 cm sedangkan tipe II berjari-jari 4 cm. Andi melakukan eksperimen dengan menggunakan timbangan. Timbangan sisi kiri diisi dengan kelereng tipe I sedangkan sisi kanan diisi dengan kelereng tipe II. Tentukan perbandingan banyaknya kelereng pada sisi kiri dengan banyaknya kelereng pada sisi kanan agar timbangan tersebut seimbang.	<i>Applying</i>	<i>Implement</i>	Menerapkan metode dan strategi terkait materi bola untuk menyelesaikan masalah

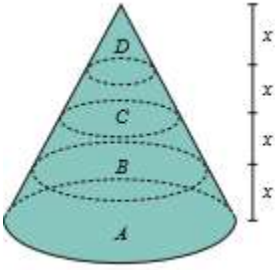
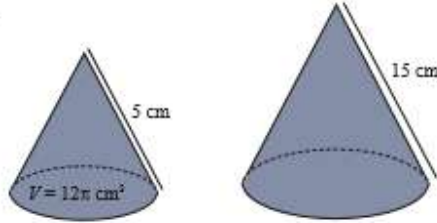
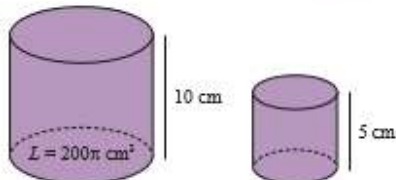
Uji Kompetensi Bab V

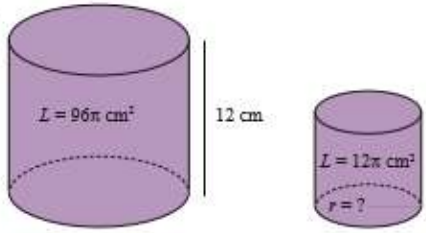
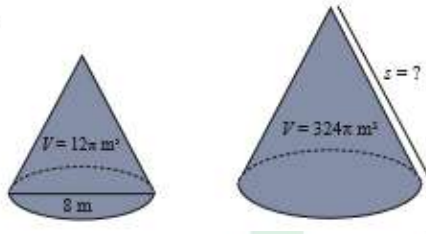
Jumlah soal: 20 butir

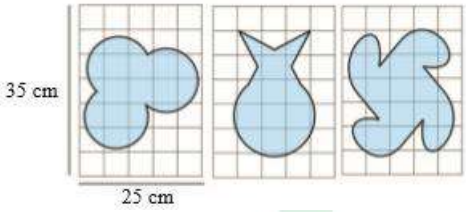
No	Soal	Domain Kognitif	Aspek Kognitif	Alasan
Untuk soal 1 - 2 perhatikan gambar-gambar di bawah ini.		<i>Untuk soal nomor 1-2:</i>		
		<i>Knowing</i>	<i>Retrieve</i>	Mengambil informasi dari gambar
		<i>Applying</i>	<i>Determine</i>	Memilih metode dan strategi yang tepat terkait materi bangun ruang sisi lengkung untuk menyelesaikan masalah
1	Tentukan luas permukaan tiap-tiap bangun.			
2	Tentukan volume tiap-tiap bangun.			

No	Soal	Domain Kognitif	Aspek Kognitif	Alasan												
	<p>Untuk soal 3 - 6 perhatikan tabel di bawah ini.</p> <table border="1" style="width: 100%; border-collapse: collapse;"> <thead> <tr> <th style="background-color: #003366; color: white;">Tabung</th> <th style="background-color: #003366; color: white;">Setengah Tabung</th> </tr> </thead> <tbody> <tr> <td style="text-align: center;">  Luas Permukaan = $2\pi r(r + t)$ Volume = $\pi r^2 t$ </td> <td style="text-align: center;">  Luas Permukaan = ...? Volume = ...? </td> </tr> <tr> <th style="background-color: #003366; color: white;">Kerucut</th> <th style="background-color: #003366; color: white;">Setengah Kerucut</th> </tr> <tr> <td style="text-align: center;">  Luas Permukaan = $\pi r(r + s)$ Volume = $\frac{1}{3}\pi r^2 t$ </td> <td style="text-align: center;">  Luas Permukaan = ...? Volume = ...? </td> </tr> <tr> <th style="background-color: #003366; color: white;">Bola</th> <th style="background-color: #003366; color: white;">Setengah Bola</th> </tr> <tr> <td style="text-align: center;">  Luas Permukaan = $4\pi r^2$ Volume = $\frac{4}{3}\pi r^3$ </td> <td style="text-align: center;">  Luas Permukaan = ...? Volume = ...? </td> </tr> </tbody> </table>	Tabung	Setengah Tabung	 Luas Permukaan = $2\pi r(r + t)$ Volume = $\pi r^2 t$	 Luas Permukaan = ...? Volume = ...?	Kerucut	Setengah Kerucut	 Luas Permukaan = $\pi r(r + s)$ Volume = $\frac{1}{3}\pi r^2 t$	 Luas Permukaan = ...? Volume = ...?	Bola	Setengah Bola	 Luas Permukaan = $4\pi r^2$ Volume = $\frac{4}{3}\pi r^3$	 Luas Permukaan = ...? Volume = ...?	<i>Untuk soal nomor 3:</i>		
Tabung	Setengah Tabung															
 Luas Permukaan = $2\pi r(r + t)$ Volume = $\pi r^2 t$	 Luas Permukaan = ...? Volume = ...?															
Kerucut	Setengah Kerucut															
 Luas Permukaan = $\pi r(r + s)$ Volume = $\frac{1}{3}\pi r^2 t$	 Luas Permukaan = ...? Volume = ...?															
Bola	Setengah Bola															
 Luas Permukaan = $4\pi r^2$ Volume = $\frac{4}{3}\pi r^3$	 Luas Permukaan = ...? Volume = ...?															
		<i>Knowing</i>	<i>Retrieve</i>	Mengambil informasi dari gambar												
		<i>Applying</i>	<i>Implement</i>	Menerapkan metode dan strategi terkait materi bangun ruang sisi lengkung untuk menyelesaikan masalah												
3	Tentukan rumus luas permukaan bangun-bangun pada tabel di atas.															
4	<p>Dari jawaban soal nomor 3 bandingkan dengan rumus bangun-bangun pada sebelah kiri.</p> <p>a. Apakah luas permukaan bangun sebelah kanan <i>selalu sama dengan setengah kali</i> luas permukaan bangun sebelah kiri?</p> <p>b. Kesimpulan apa yang dapat kamu peroleh dari jawaban 4a?</p>	<i>Reasoning</i>	<i>Draw Conclusion</i>	Menarik kesimpulan yang valid berdasarkan solusi yang telah diperoleh terkait bangun ruang sisi lengkung												
5	Tentukan rumus volume bangun-bangun pada tabel di atas.	<i>Applying</i>	<i>Implement</i>	Menerapkan metode dan strategi terkait materi bangun ruang sisi lengkung untuk menyelesaikan masalah												
6	<p>Kemudian bandingkan jawabanmu dengan rumus bangun-bangun pada sebelah kiri.</p> <p>a. Apakah volume bangun sebelah kanan <i>selalu sama dengan</i></p>	<i>Reasoning</i>	<i>Draw Conclusion</i>	Menarik kesimpulan yang valid berdasarkan solusi yang telah diperoleh												

No	Soal	Domain Kognitif	Aspek Kognitif	Alasan
	<p>setengah kali volume bangun sebelah kiri?</p> <p>b. Kesimpulan apa yang dapat kamu peroleh dari jawaban 6a?</p>			terkait bangun ruang sisi lengkung
7	 <p>Tentukan luas permukaan dan volume tiap-tiap bangun.</p>	Knowing	Retrieve	Mengambil informasi dari gambar
		Applying	Implement	Menerapkan metode dan strategi terkait materi bangun ruang sisi lengkung untuk menyelesaikan masalah
<p>Untuk Soal nomor 8-11 perhatikan kalimat di bawah ini.</p> <p>Bernalar. Suatu perusahaan coklat memproduksi tiga macam coklat yang berbentuk tabung, kerucut dan bola. Misalkan jari-jarinya adalah r dan tinggi t. Perusahaan tersebut menginginkan kertas pembungkus coklat tersebut memiliki luas yang sama satu dengan yang lainnya. Misalkan T = Luas kertas pembungkus coklat bentuk tabung, K = Luas kertas pembungkus coklat bentuk kerucut, B = Luas kertas pembungkus coklat bentuk bola.</p>		Untuk soal nomor 8-11:		
		Knowing	Retrieve	Mengambil informasi dari gambar
		Reasoning	Integrate	Membuat hubungan dari elemen-elemen bangun ruang sisi lengkung untuk memecahkan masalah
8	Apakah mungkin $T = K$? Jika ya, tentukan perbandingan $r : t$.			
9	Apakah mungkin $T = B$? Jika ya, tentukan perbandingan $r : t$.			
10	Apakah mungkin $K = B$? Jika ya, tentukan perbandingan $r : t$.			
11	Apakah mungkin $T = K = B$? Kemukakan alasanmu.			
12	Gambar di samping merupakan coklat berbentuk kerucut yang dibagi menjadi empat bagian, A, B, C	Knowing	Recall	Mengingat kembali materi kesebangunan

No	Soal	Domain Kognitif	Aspek Kognitif	Alasan
	<p>dan D. Tinggi tiap-tiap bagian adalah x.</p>  <p>a. Tentukan perbandingan luas permukaan A dengan luas permukaan B. b. Tentukan perbandingan luas permukaan B dengan luas permukaan C. c. Tentukan perbandingan luas permukaan C dengan luas permukaan D. (Catatan: Gunakan prinsip kesebangunan.)</p>	<i>Applying</i>	<i>Implement</i>	Menerapkan metode dan strategi terkait materi bangun ruang sisi lengkung untuk menyelesaikan masalah
13	<p>Perhatikan kembali gambar pada Soal nomor 12.</p> <p>a. Tentukan perbandingan volume A dengan volume B. b. Tentukan perbandingan volume B dengan volume C. c. Tentukan perbandingan volume C dengan volume D.</p>	<i>Applying</i>	<i>Implement</i>	Menerapkan metode dan strategi terkait materi bangun ruang sisi lengkung untuk menyelesaikan masalah
14	<p>Untuk tiap pasangan bangun ruang yang sebangun, hitung volume yang belum diketahui.</p> <p>a.</p>  <p>b.</p> 	<i>Knowing</i>	<i>Recall</i>	Mengingat kembali materi kesebangunan
		<i>Applying</i>	<i>Implement</i>	Menerapkan metode dan strategi terkait materi bangun ruang sisi lengkung untuk menyelesaikan masalah

No	Soal	Domain Kognitif	Aspek Kognitif	Alasan
	c. Dari jawaban 14a dan 14b, kesimpulan apa yang dapat diperoleh?	<i>Reasoning</i>	<i>Draw Conclusion</i>	Menarik kesimpulan berdasarkan solusi yang telah diperoleh
15	Untuk tiap pasangan bangun ruang yang sebangun, hitung panjang yang ditanyakan	<i>Knowing</i>	<i>Recall</i>	Mengingat kembali materi kesebangunan
	a. 	<i>Applying</i>	<i>Implement</i>	Menerapkan metode dan strategi terkait materi bangun ruang sisi lengkung untuk menyelesaikan masalah
	b. 	<i>Reasoning</i>	<i>Draw Conclusion</i>	Menarik kesimpulan berdasarkan solusi yang telah diperoleh
16	Bola di dalam kerucut. Gambar di samping merupakan suatu kerucut dengan $AB = AC = BC = d$. Dalam kerucut tersebut terdapat suatu bola yang menyinggung selimut dan alas kerucut. Tentukan volume bola tersebut. <i>Petunjuk:</i> tentukan jari-jari bola terlebih dahulu.	<i>Knowing</i>	<i>Retrieve</i>	Mengambil informasi dari gambar
17	Kerucut di dalam bola. Gambar di samping merupakan suatu kerucut dengan $AB = AC = BC = d$. Kerucut tersebut di dalam bola. Titik puncak dan alas kerucut tersebut menyentuh bola. Tentukan volume bola tersebut.	<i>Knowing</i>	<i>Retrieve</i>	Mengambil informasi dari gambar
		<i>Applying</i>	<i>Determine</i>	Memilih metode dan strategi yang tepat terkait materi bola dan kerucut untuk menyelesaikan masalah

No	Soal	Domain Kognitif	Aspek Kognitif	Alasan
	<i>Petunjuk:</i> tentukan jari-jari bola terlebih dahulu.			
18	Budi mengecat tong sebanyak 14 buah. Tong tersebut berbentuk tabung terbuka dengan jari-jari 50 cm dan tinggi 1 m. Satu kaleng cat yang digunakan hanya cukup mengecat seluas 1 m ² . Tentukan berapa banyak kaleng cat yang dibutuhkan untuk mengecat semua tong. Gunakan $\pi = \frac{22}{7}$.	<i>Knowing</i>	<i>Retrieve</i>	Mengambil informasi dari teks
		<i>Applying</i>	<i>Implement</i>	Menerapkan metode dan strategi terkait materi bangun ruang sisi lengkung untuk menyelesaikan masalah
19	<p>Gambar di bawah ini merupakan 3 macam desain kolam renang. Skala yang digunakan adalah 1 : 200.</p>  <p>a. Perkirakan/taksir luas bangun pada tiap-tiap desain. Nyatakan jawabanmu dalam satuan cm².</p> <p>b. Jika ketinggian kolam renang adalah 2 m, maka tentukan volume tiap-tiap desain kolam renang. Nyatakan jawabanmu dalam satuan m³.</p>	<i>Knowing</i>	<i>Retrieve</i>	Mengambil informasi dari teks dan gambar
		<i>Applying</i>	<i>Implement</i>	Menerapkan metode dan strategi terkait materi bangun ruang sisi lengkung untuk menyelesaikan masalah
20	Globe merupakan tiruan bumi yang berbentuk bola. Terdapat suatu globe dengan diameter 30 cm. Jika skala pada globe tersebut adalah 1 : 20.000.000, tentukan luas permukaan bumi. Gunakan $\pi = 3,14$ dan nyatakan jawabanmu dalam satuan km ² .	<i>Applying</i>	<i>Implement</i>	Menerapkan metode dan strategi terkait materi bangun ruang sisi lengkung untuk menyelesaikan masalah